





# おうちで、やろう。

Study at home. 小学校受験の家庭学習教材

①ひな祭りはいつの季節の行事ですか。その季節の花に○をつけます。



②ひな祭りに関係のあるものに○をつけます。



※1. このプリントは、しながわ・目黒こどもスクールのウェブサイトからダウンロードできます。無断複写・引用はご遠慮ください。

※2. このプリントを活用したオンライン授業のスケジュールは、しながわ・目黒こどもスクールのウェブサイトでご確認ください。




# おうちで、やろう。


Study at home. 小学校受験の家庭学習教材

常識：行事 5

①お正月はどの季節の行事ですか。その季節の野菜に○をつけます。



②お正月に関するものに○をつけます。



※1. このプリントは、しながわ・目黒こどもスクールのウェブサイトでダウンロードができます。無断複写・引用はご遠慮ください。  
 ※2. このプリントを活用したオンライン授業のスケジュールは、しながわ・目黒こどもスクールのウェブサイトでご確認ください。




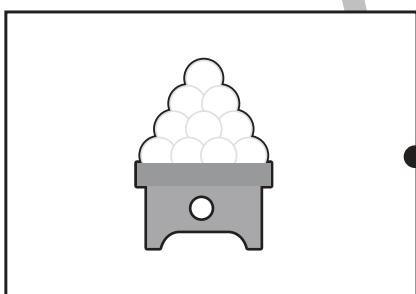
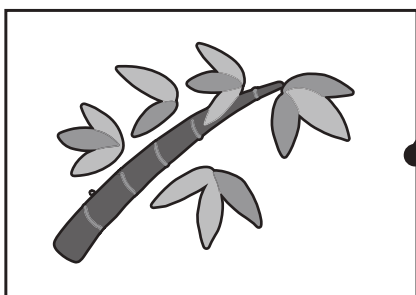

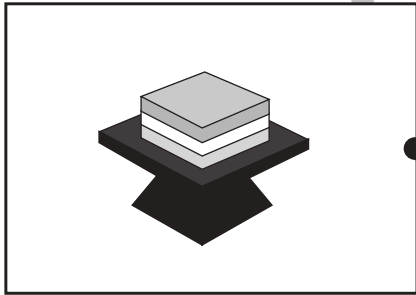



# おうちで、やろう。

Study at home. 小学校受験の家庭学習教材

## 常識：行事 6

左の絵と仲良しな絵を右から選び、線で結びましょう。



※1. このプリントは、しながわ・目黒こどもスクールのウェブサイトからダウンロードできます。無断複写・引用はご遠慮ください。  
※2. このプリントを活用したオンライン授業のスケジュールは、しながわ・目黒こどもスクールのウェブサイトでご確認ください。





# おうちで、やろう。

Study at home. 小学校受験の家庭学習教材

図形：回転鏡 10

左の四角のマスに矢印の方向へ 1 回倒した時の見え方を矢印の右のマスにかきます。その後、その四角を鏡で映したときの見え方を考えて一番右のマスにかきます。

--	--	--	--

--	--	--	--

--	--	--	--

--	--	--	--

--	--	--	--

※1. このプリントは、しながわ・目黒こどもスクールのウェブサイトダウンロードができます。無断複写・引用はご遠慮ください。

※2. このプリントを活用したオンライン授業のスケジュールは、しながわ・目黒こどもスクールのウェブサイトでご確認ください。



# おうちで、やろう。

Study at home. 小学校受験の家庭学習教材

## 図形：回転鏡 11

左の四角のマスで矢印の方向へ 1 回倒した時の見え方を矢印の右のマスにかきます。その後、その四角を鏡で映したときの見え方を考えて一番右のマスにかきます。

--	--	--	--

--	--	--	--

--	--	--	--

--	--	--	--

--	--	--	--

※1. このプリントは、しながわ・目黒こどもスクールのウェブサイトからダウンロードできます。無断複写・引用はご遠慮ください。  
 ※2. このプリントを活用したオンライン授業のスケジュールは、しながわ・目黒こどもスクールのウェブサイトでご確認ください。

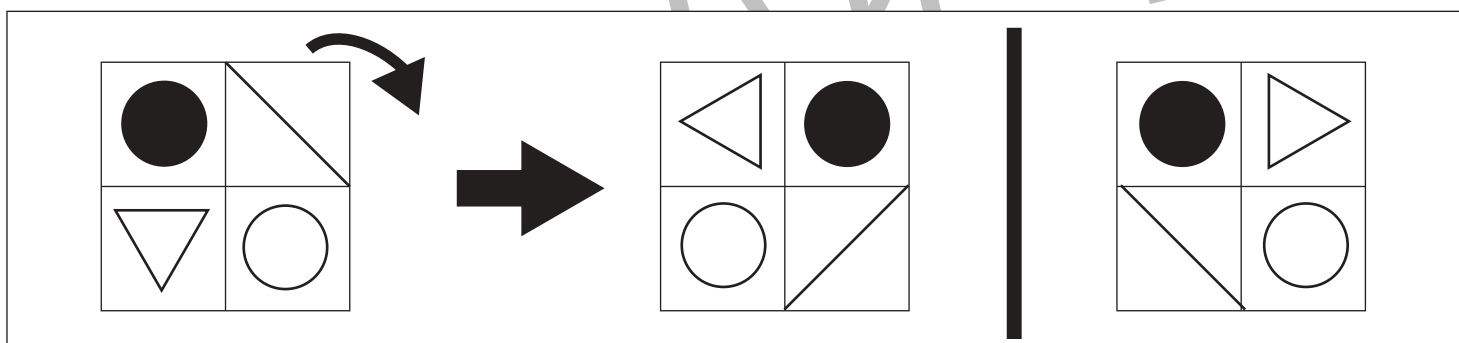

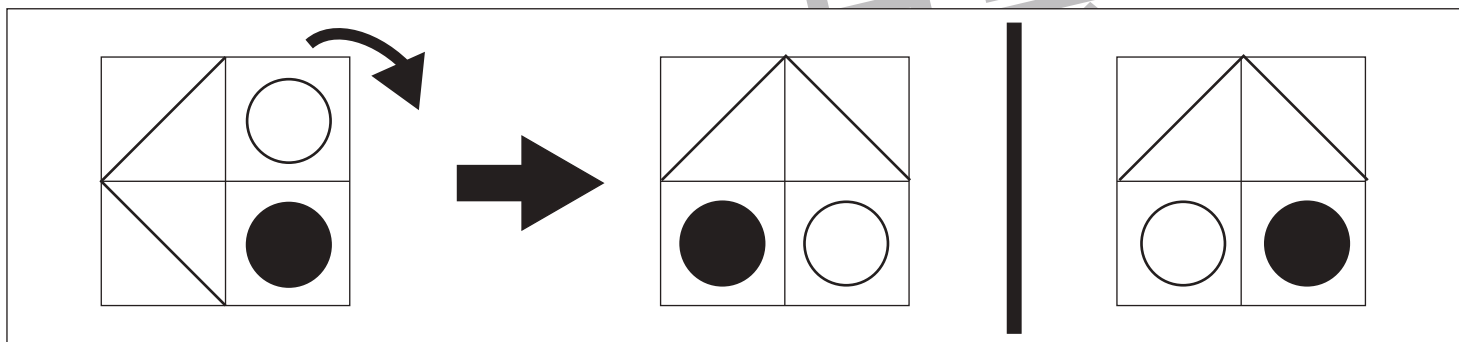
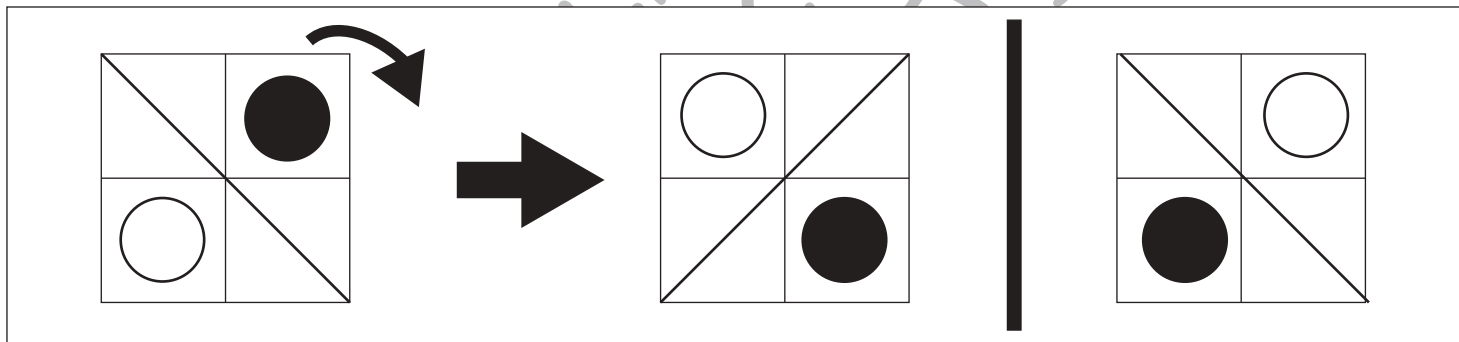
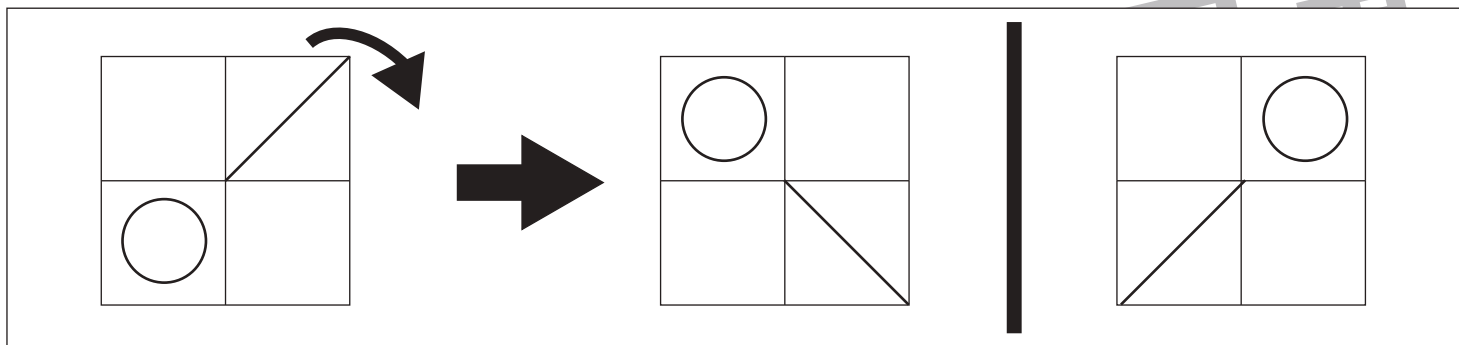


# おうちで、やろう。

Study at home. 小学校受験の家庭学習教材

## 図形：回転鏡 12

左の四角のマスで矢印の方向へ 1 回倒した時の見え方を矢印の右のマスにかきます。その後、その四角を鏡で映したときの見え方を考えて一番右のマスにかきます。



※1. このプリントは、しながわ・目黒こどもスクールのウェブサイトからダウンロードできます。無断複写・引用はご遠慮ください。

※2. このプリントを活用したオンライン授業のスケジュールは、しながわ・目黒こどもスクールのウェブサイトでご確認ください。

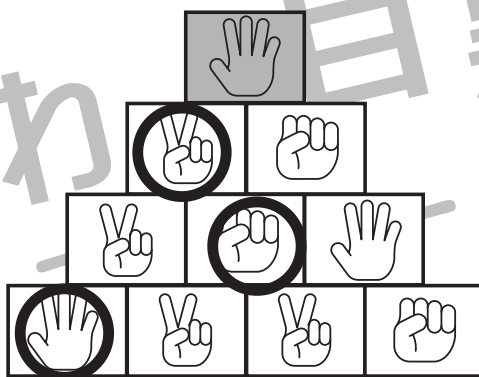
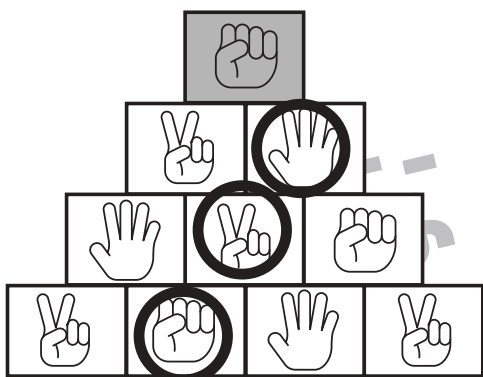
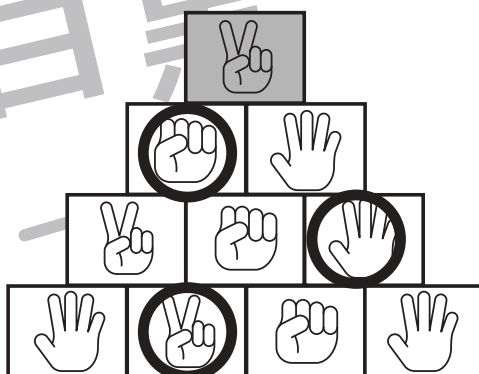
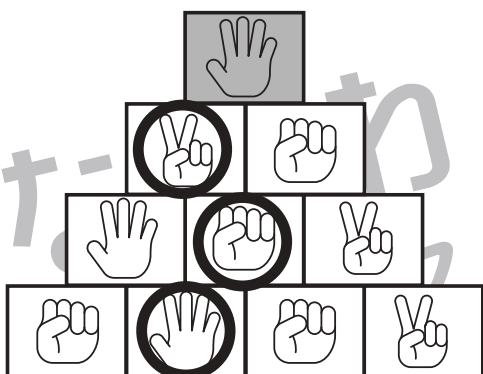

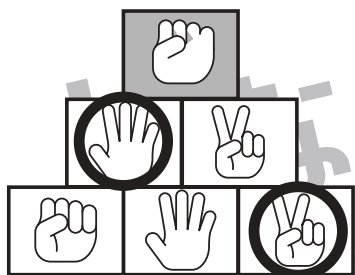


# おうちで、やろう。

Study at home. 小学校受験の家庭学習教材

## 推理：じゃんけん 25

じゃんけんで勝つ手を探して進みます。上の灰色の四角から四角の中の手に勝つものを下の段から選んで○をつけます。上から順番に進み一番下の段までそれぞれ○をつけます。



※1. このプリントは、しながわ・目黒こどもスクールのウェブサイトでダウンロードができます。無断複写・引用はご遠慮ください。  
※2. このプリントを活用したオンライン授業のスケジュールは、しながわ・目黒こどもスクールのウェブサイトでご確認ください。

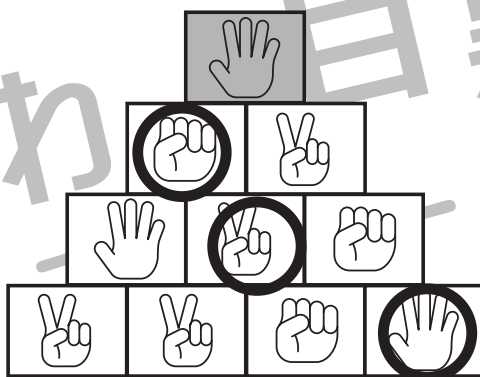
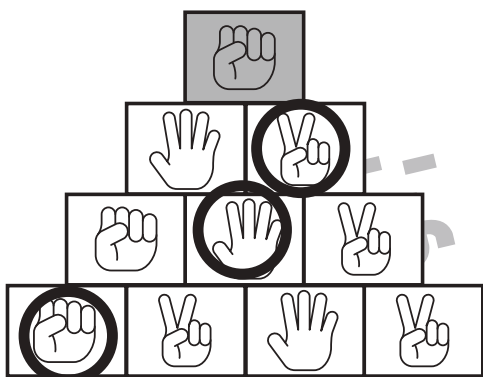
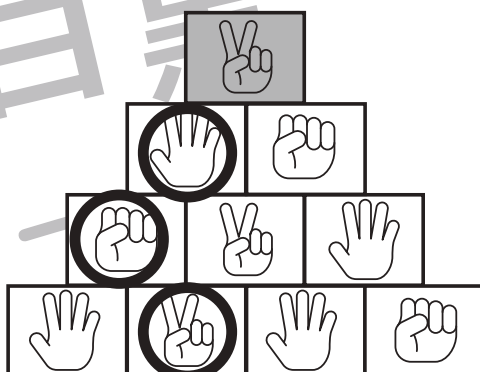
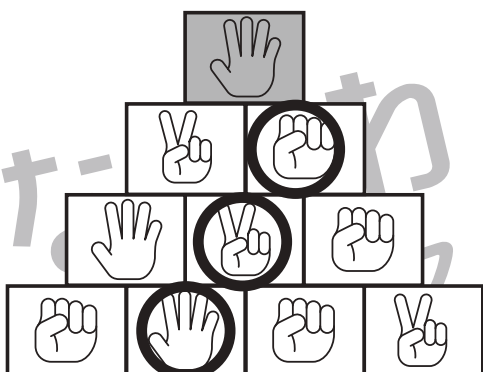
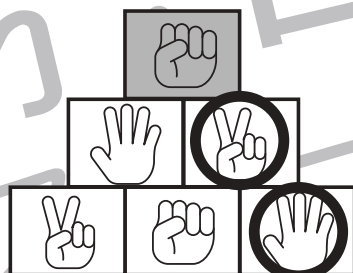
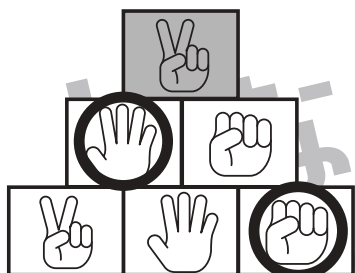


# おうちで、やろう。

Study at home. 小学校受験の家庭学習教材

推理：じゃんけん 26

じゃんけんで負ける手を探して進みます。上の灰色の四角から四角の中の手に負けるものを下の段から選んで○をつけます。上から順番に進み一番下の段までそれぞれ○をつけます。



※1. このプリントは、しながわ・目黒こどもスクールのウェブサイトでダウンロードができます。無断複写・引用はご遠慮ください。  
※2. このプリントを活用したオンライン授業のスケジュールは、しながわ・目黒こどもスクールのウェブサイトでご確認ください。



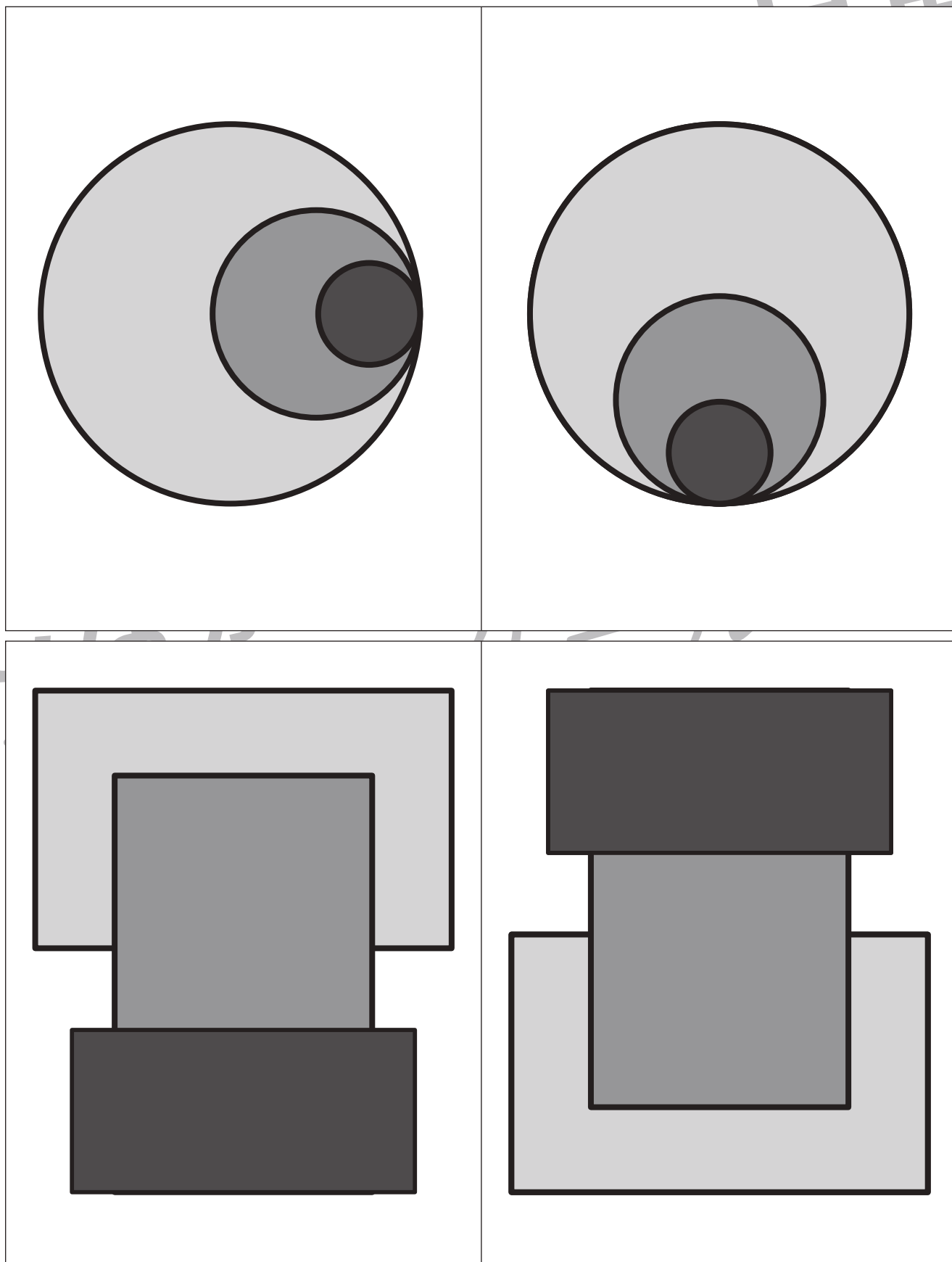


# おうちで、やろう。

Study at home. 小学校受験の家庭学習教材

運筆：濃淡 12

左のお手本を右のように向きを変えたときの見え方を考えて同じ濃さになるように鉛筆で塗ります。



※1. このプリントは、しながわ・目黒こどもスクールのウェブサイトからダウンロードできます。無断複写・引用はご遠慮ください。

※2. このプリントを活用したオンライン授業のスケジュールは、しながわ・目黒こどもスクールのウェブサイトでご確認ください。