

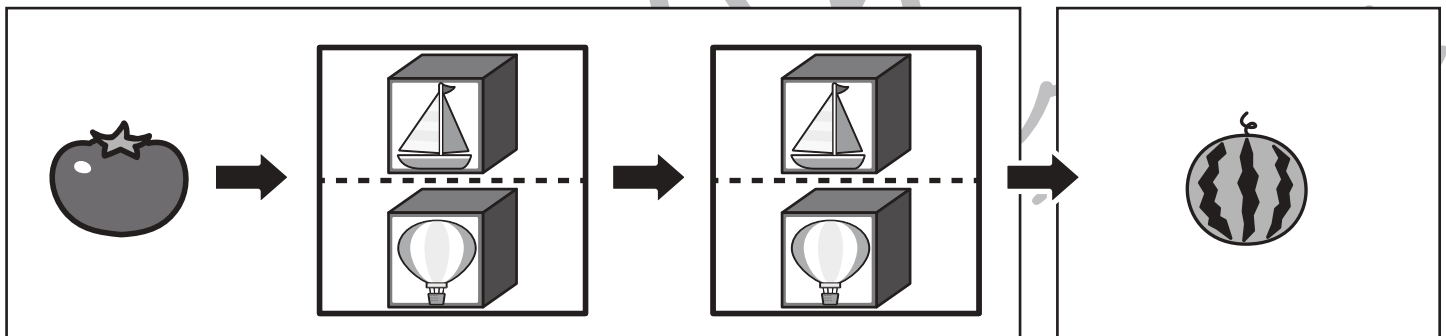
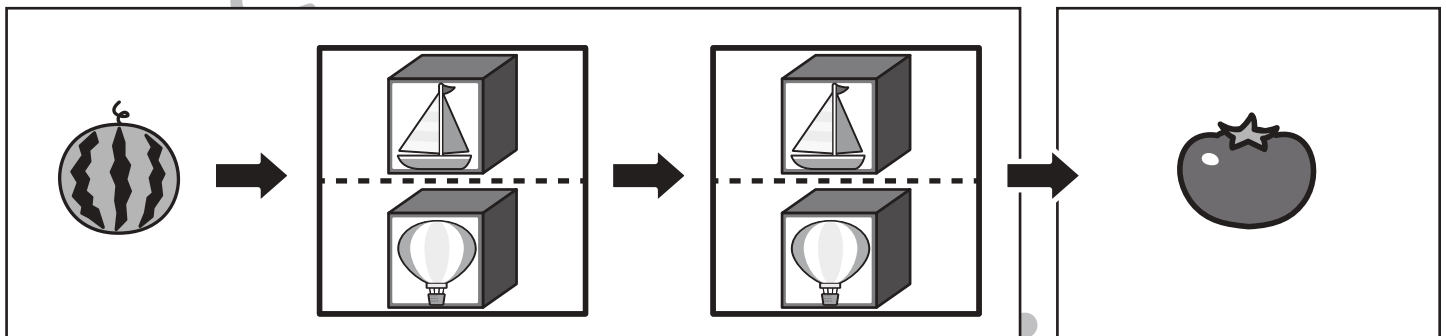
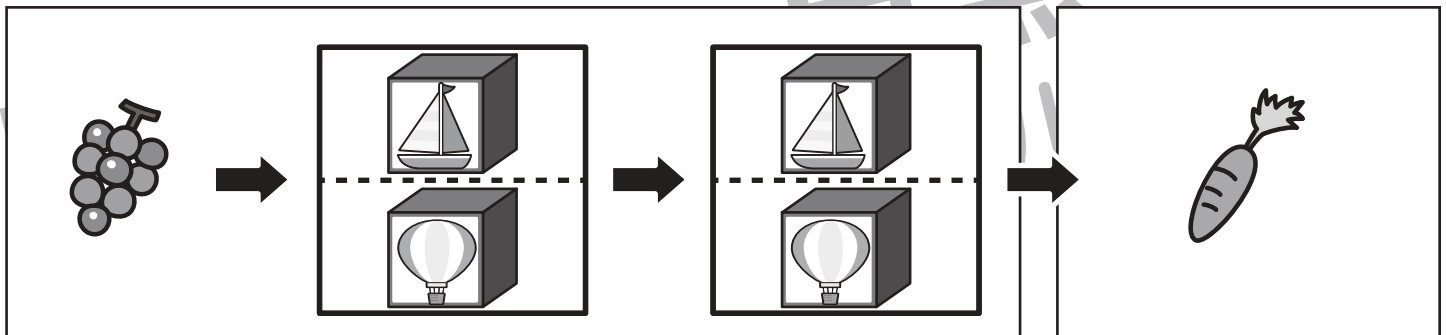
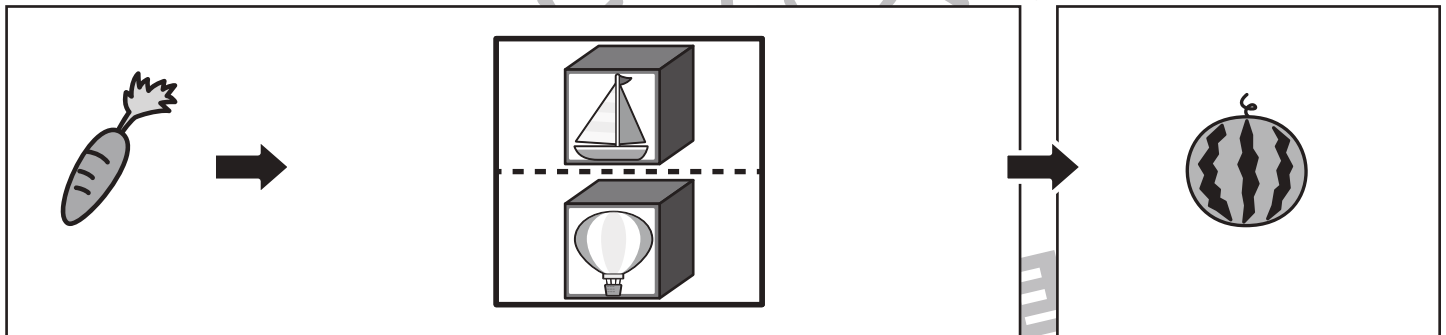



# おうちで、やろう。

Study at home. 小学校受験の家庭学習教材

## 推理：ブラックボックス 24

上の太い四角が約束です。左の形が箱の中を通ると約束にしがたって出てきます。左の果物が最後の矢印の後に出てくるものが右の四角の中にあります。このとき、どの箱を通ってきたのかを考えて、通った箱に○をつけます。



※1. このプリントは、しながわ・目黒こどもスクールのウェブサイトでダウンロードができます。無断複写・引用はご遠慮ください。

※2. このプリントを活用したオンライン授業のスケジュールは、しながわ・目黒こどもスクールのウェブサイトでご確認ください。


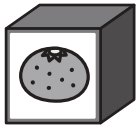

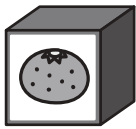



# おうちで、やろう。



Study at home. 小学校受験の家庭学習教材



## 推理：ブラックボックス 25



上の太い四角が約束です。左の形が箱の中を通ると約束にしがたって出てきます。左の形が最後の矢印の後に出てくるものが右の四角の中にあります。このとき、どの箱を通ってきたのかを考えて、通った箱に○をつけます。

× →  → ○	△ →  → ×
□ →  → △	○ →  → □

△ →		→	×
-----	--	---	---

□ →		→		→	×
-----	---	---	--	---	---

× →		→		→	□
-----	---	---	--	---	---

○ →		→		→	△
-----	---	---	--	---	---

※1. このプリントは、しながわ・目黒こどもスクールのウェブサイトでダウンロードができます。無断複写・引用はご遠慮ください。  
 ※2. このプリントを活用したオンライン授業のスケジュールは、しながわ・目黒こどもスクールのウェブサイトでご確認ください。



# おうちで、やろう。

Study at home. 小学校受験の家庭学習教材

## 推理：ブラックボックス 26

上の太い四角が約束です。左の形が箱の中を通ると約束にしがたって出てきます。左の形が最後の矢印の後に出てくるものが右の四角の中にあります。このとき、どの箱を通ってきたのかを考えて、通った箱に○をつけます。

×	→		→	○	△	→		→	×
□	→		→	△	○	→		→	□

□ → → → → ○

×
 → |  | → |  | → |  | → | △ |

○ → → → → ×

△ → → → → □

※1. このプリントは、しながわ・目黒こどもスクールのウェブサイトからダウンロードできます。無断複写・引用はご遠慮ください。

※2. このプリントを活用したオンライン授業のスケジュールは、しながわ・目黒こどもスクールのウェブサイトでご確認ください。

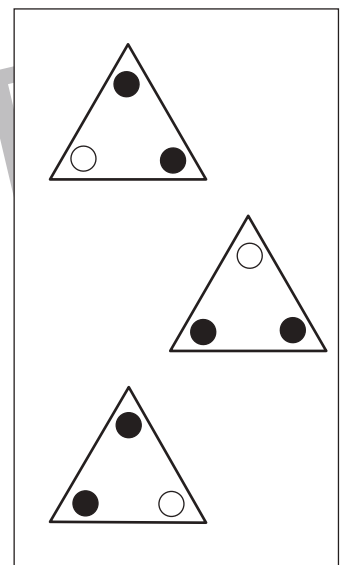
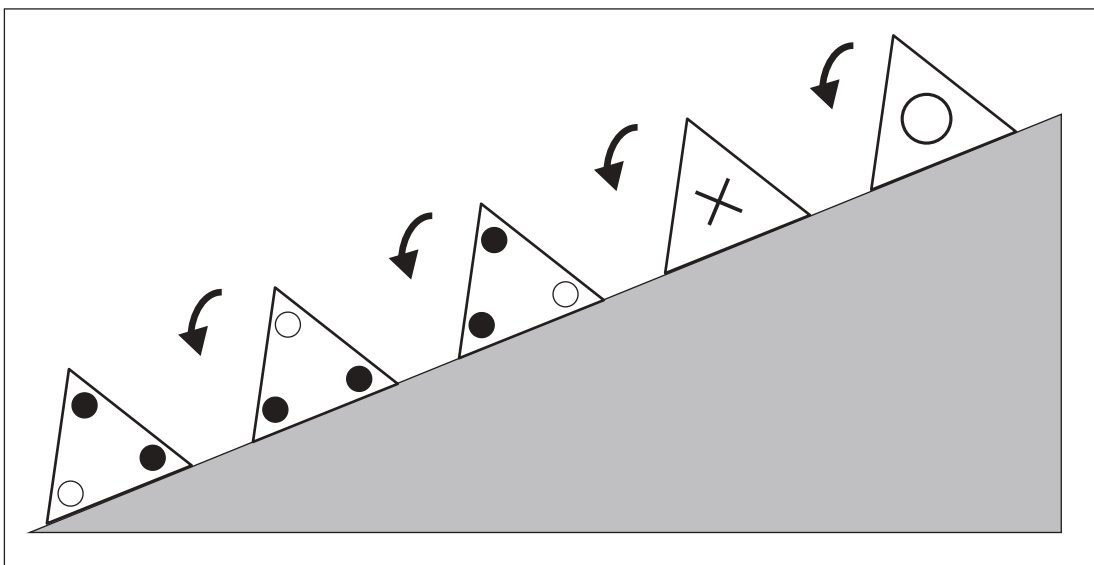
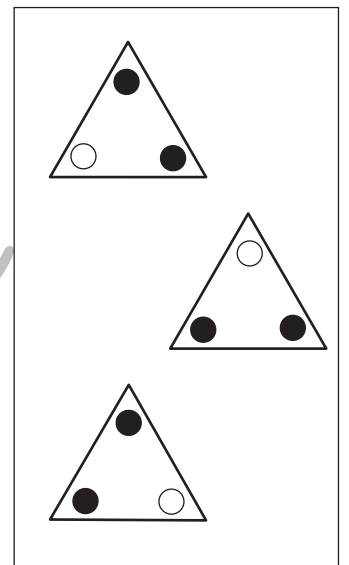
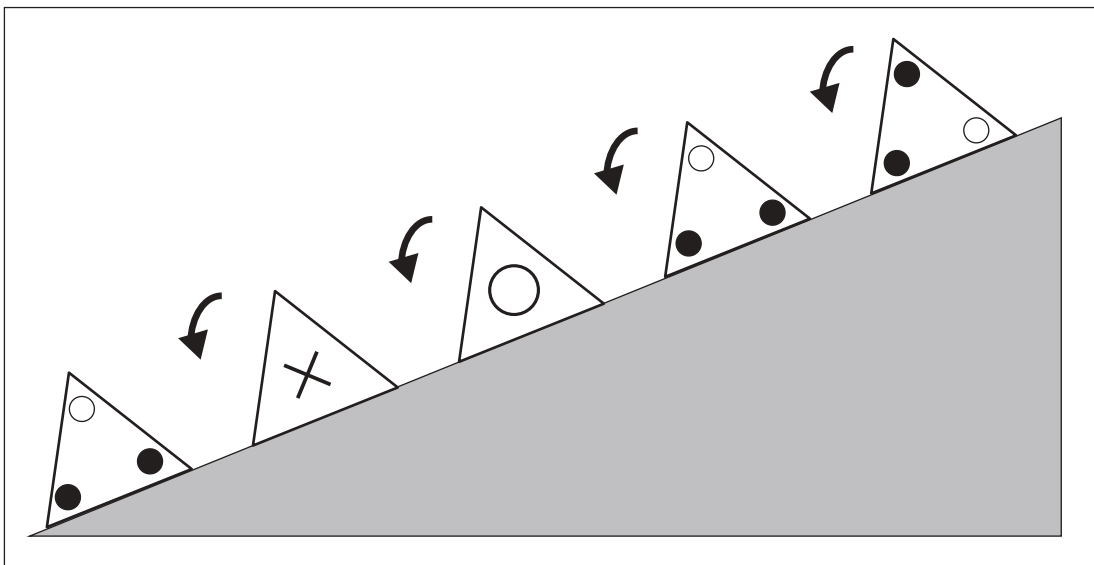
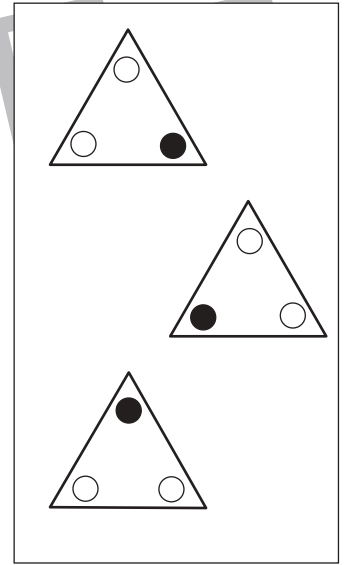
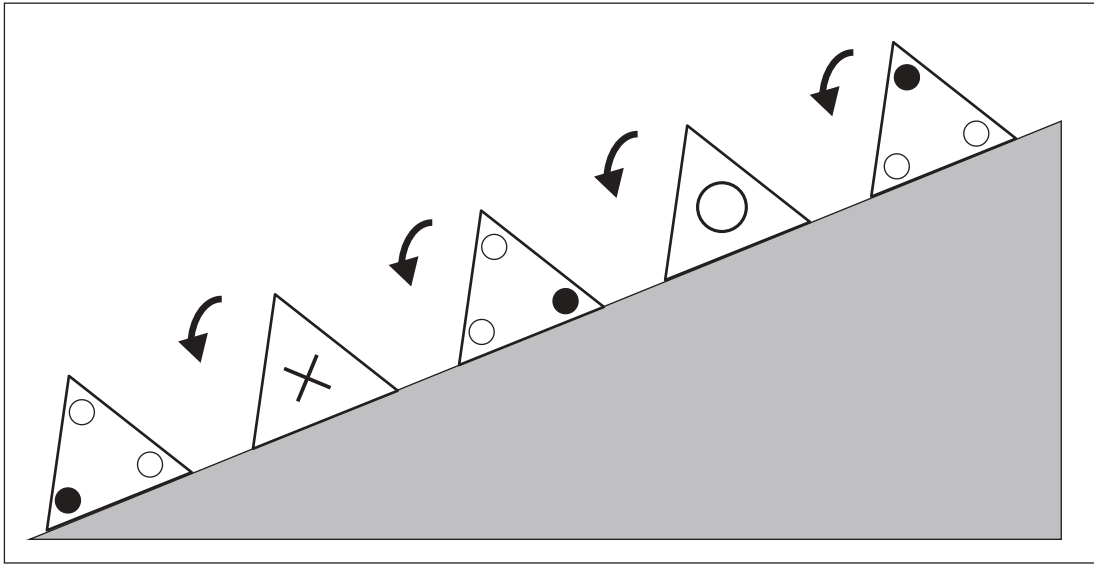


# おうちで、やろう。

Study at home. 小学校受験の家庭学習教材

推理：回転 12

坂道を三角の箱が転がっていきます。それぞれの記号に入る箱の見え方を右の中から選んでそれぞれの記号をつけます。



※1. このプリントは、しながわ・目黒こどもスクールのウェブサイトでダウンロードができます。無断複写・引用はご遠慮ください。  
※2. このプリントを活用したオンライン授業のスケジュールは、しながわ・目黒こどもスクールのウェブサイトでご確認ください。

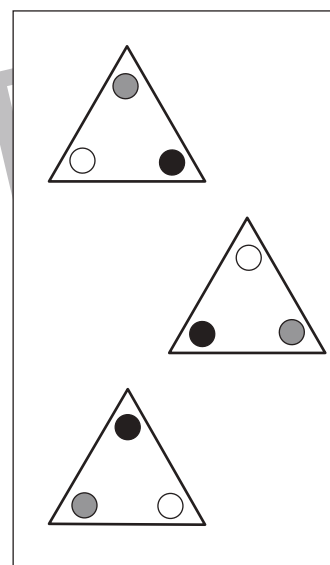
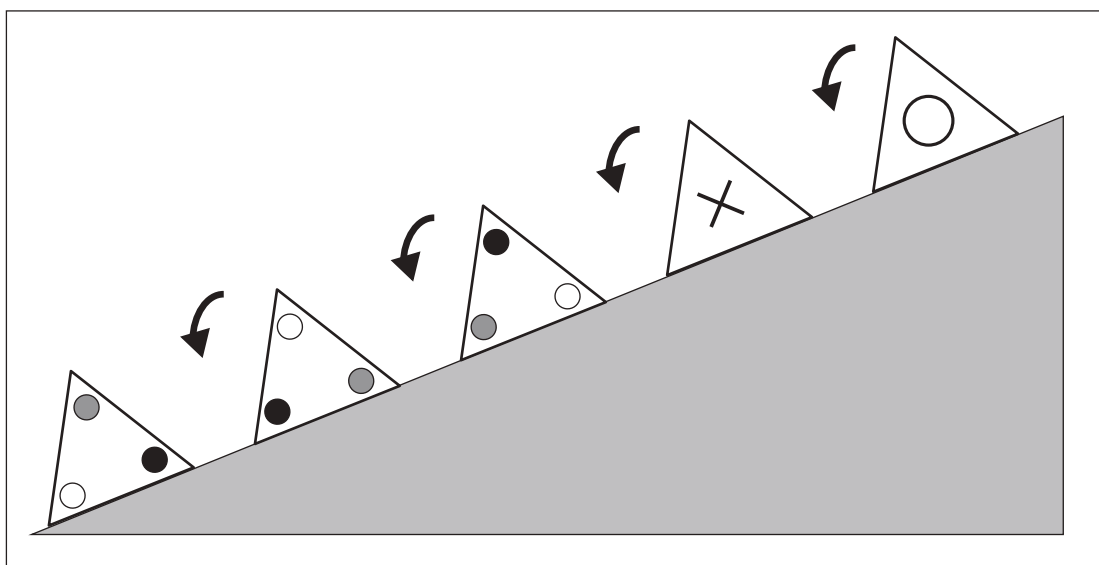
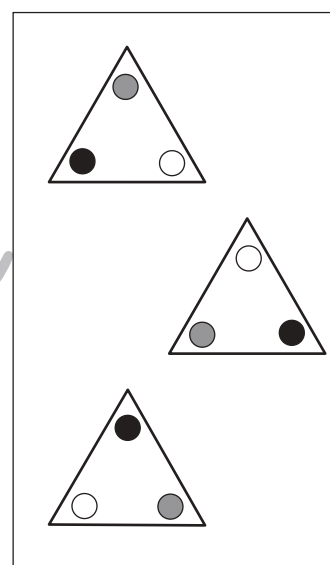
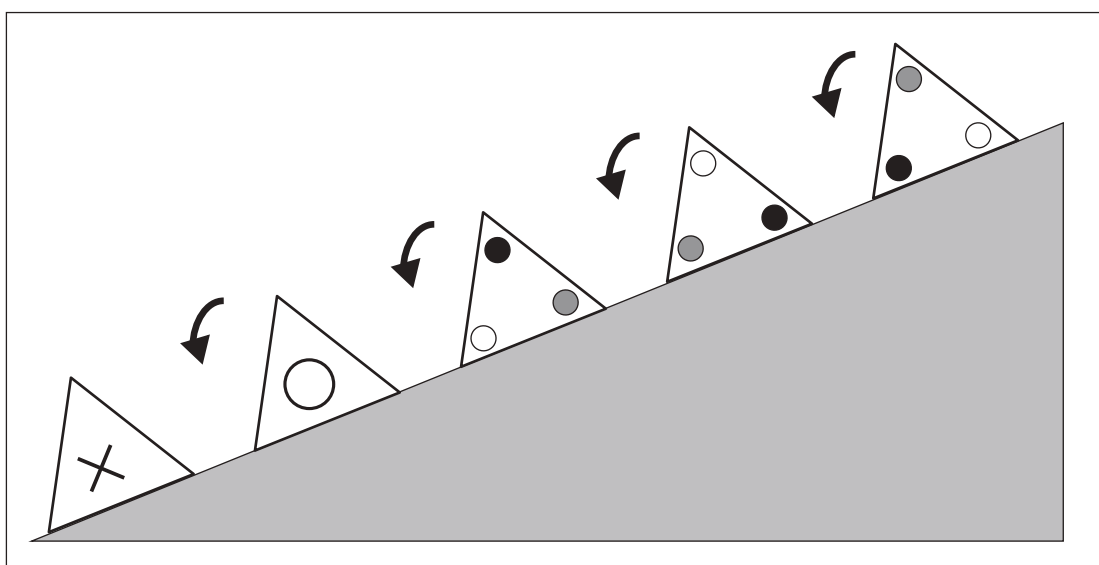
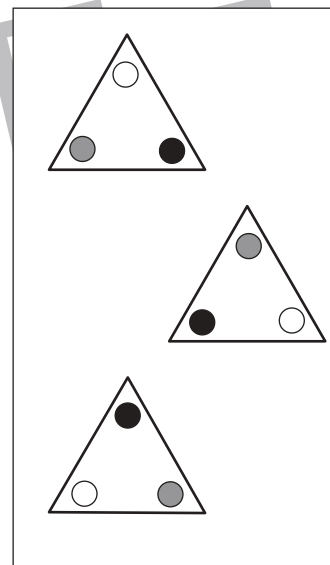
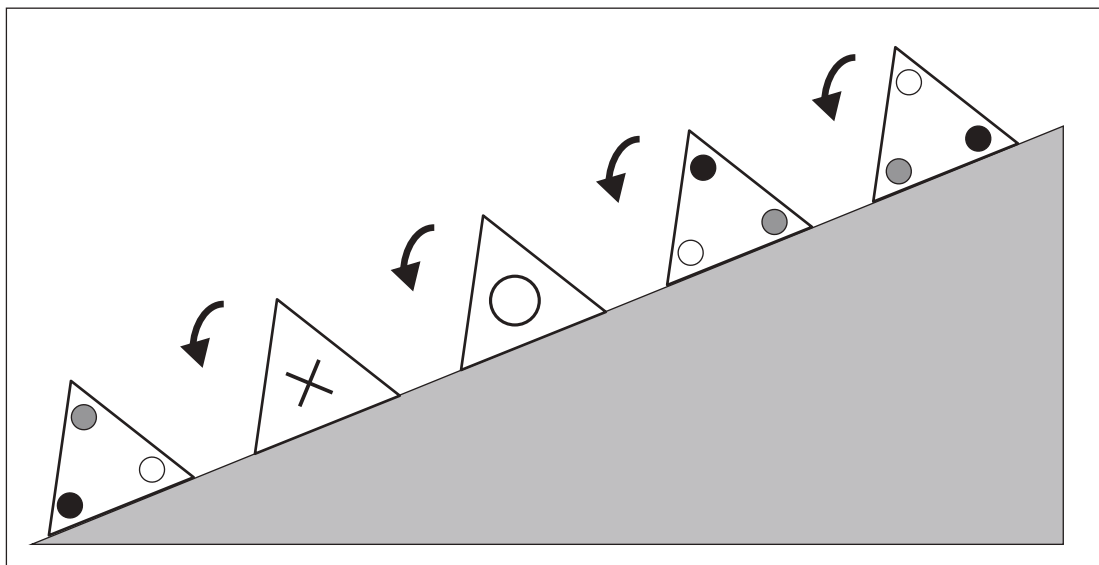


# おうちで、やろう。

Study at home. 小学校受験の家庭学習教材

## 推理：回転 13

坂道を三角の箱が転がっていきます。それぞれの記号に入る箱の見え方を右の中から選んでそれぞれの記号をつけます。



※1. このプリントは、しながわ・目黒こどもスクールのウェブサイトからダウンロードできます。無断複写・引用はご遠慮ください。  
※2. このプリントを活用したオンライン授業のスケジュールは、しながわ・目黒こどもスクールのウェブサイトでご確認ください。



# おうちで、やろう。

Study at home. 小学校受験の家庭学習教材

推理：条件推理 32

サルとウサギがじゃんけんをして勝った方が上の太い四角の中の約束通りに階段を上ることができます。じゃんけんでは勝ったときは、上の約束の手の右にある○の数だけ階段を上ります。2匹がじゃんけんをした様子は階段の上の四角の中にあります。左から順番に見ていったとき、高いところにいる動物に○をつけます。印はじゃんけんの手の場所の太い四角の中の動物につけます。

	○	○		○		○	○	○
--	---	---	--	---	--	---	---	---





※1. このプリントは、しながわ・目黒こどもスクールのウェブサイトでダウンロードができます。無断複写・引用はご遠慮ください。  
※2. このプリントを活用したオンライン授業のスケジュールは、しながわ・目黒こどもスクールのウェブサイトでご確認ください。



# おうちで、やろう。

Study at home. 小学校受験の家庭学習教材

## 推理：条件推理 33

サルとウサギがじゃんけんをして勝った方が上の太い四角の中の約束通りに階段を上ることができます。じゃんけんでは勝ったときは、上の約束の手の右にある○の数だけ階段を上ります。2匹がじゃんけんをした様子は階段の上の四角の中にあります。左から順番に見ていったとき、高いところにいる動物に○をつけます。印はじゃんけんの手の場所の太い四角の中の動物につけます。

○ ○ ○ ○	○ ○	○
---------	-----	---





※1. このプリントは、しながわ・目黒こどもスクールのウェブサイトでダウンロードができます。無断複写・引用はご遠慮ください。

※2. このプリントを活用したオンライン授業のスケジュールは、しながわ・目黒こどもスクールのウェブサイトでご確認ください。



# おうちで、やろう。

Study at home. 小学校受験の家庭学習教材

数量：複合5

横に並んだ4つの四角の中の果物のうち、数が一番多いものと一番少ないものの数の違いはいくつですか。  
違う数だけ右の四角の中に○をかきます。

--	--	--	--	--

--	--	--	--	--

--	--	--	--	--

--	--	--	--	--

※1. このプリントは、しながわ・目黒こどもスクールのウェブサイトでダウンロードができます。無断複写・引用はご遠慮ください。  
 ※2. このプリントを活用したオンライン授業のスケジュールは、しながわ・目黒こどもスクールのウェブサイトでご確認ください。




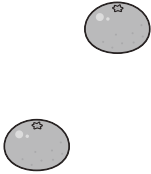




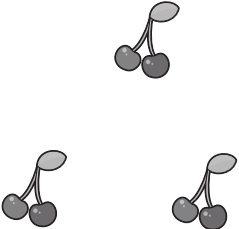
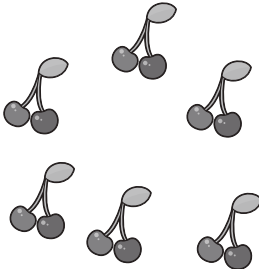
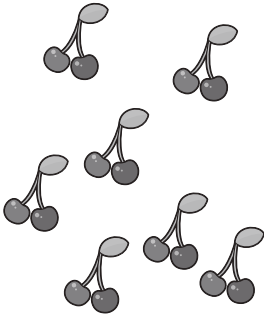
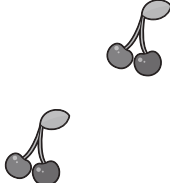
# おうちで、やろう。

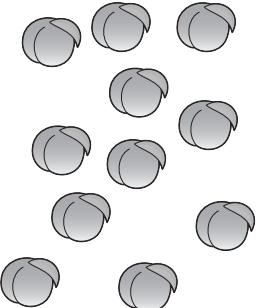
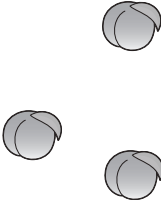
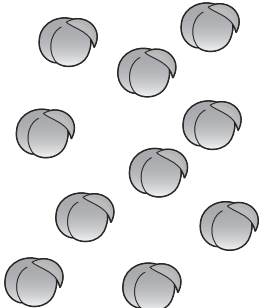
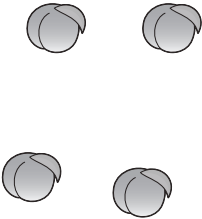
Study at home. 小学校受験の家庭学習教材





数量：複合6

横に並んだ4つの四角の中の果物のうち、数が2番目に多いものと2番目に少ないものの数の違いはいくつですか。  
違う数だけ右の四角の中に○をかきます。

				
---	---	---	--	--

				
--	--	--	--	--

				
---	---	---	---	--

				
---	---	---	--	--

※1. このプリントは、しながわ・目黒こどもスクールのウェブサイトでダウンロードができます。無断複写・引用はご遠慮ください。  
 ※2. このプリントを活用したオンライン授業のスケジュールは、しながわ・目黒こどもスクールのウェブサイトでご確認ください。

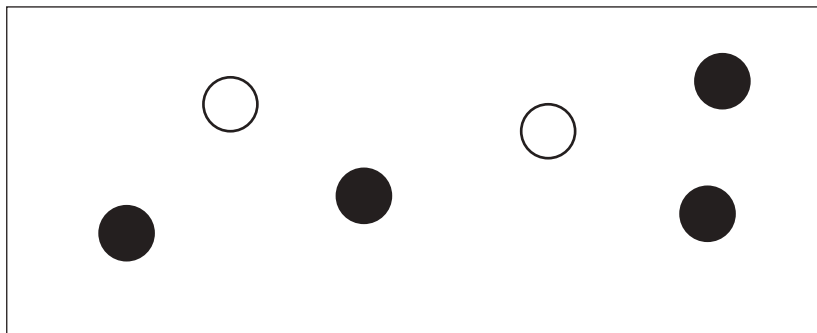


# おうちで、やろう。

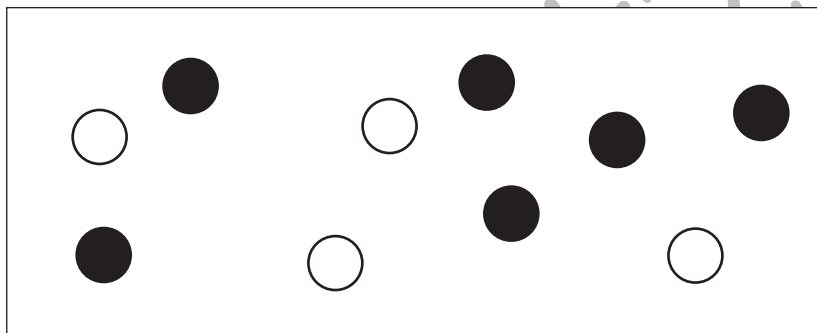
Study at home. 小学校受験の家庭学習教材

処理：加減4


左の中の形を、白いものは二つ増やし、黒いものは一つ減らします。いくつになるか考えて、その数だけ右の四角に○をかきます。  
この問題はスピードを意識して取り組む練習をしてみましょう。(1分~1分30秒)



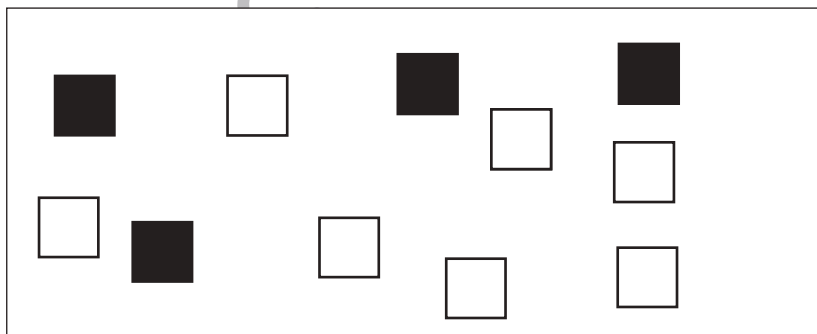
○
●



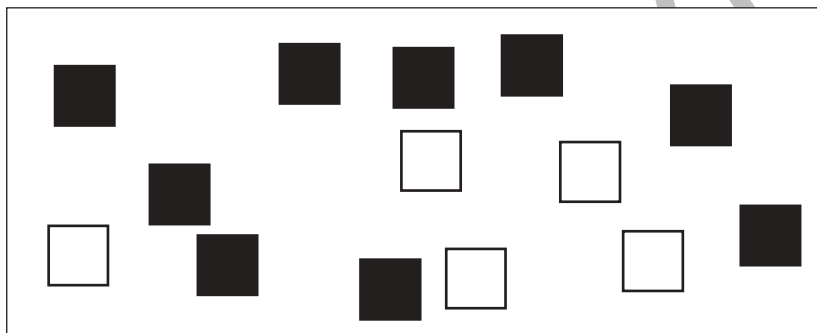
○
●



☆
★



□
■



□
■

※1. このプリントは、しながわ・目黒こどもスクールのウェブサイトからダウンロードできます。無断複写・引用はご遠慮ください。  
※2. このプリントを活用したオンライン授業のスケジュールは、しながわ・目黒こどもスクールのウェブサイトでご確認ください。

