







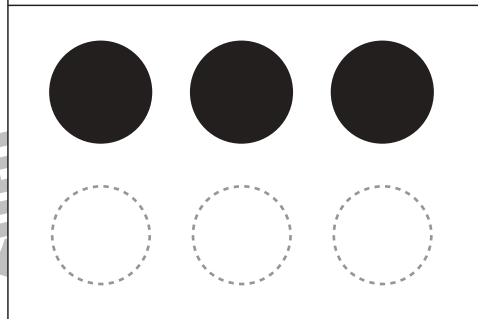
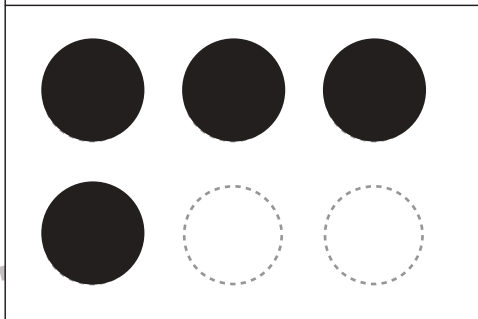

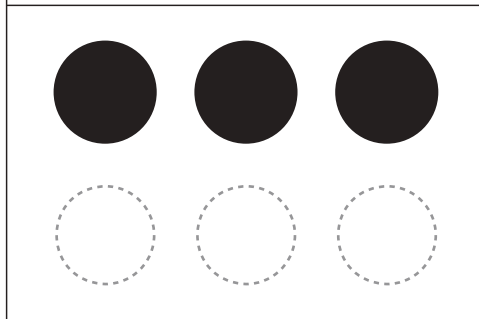
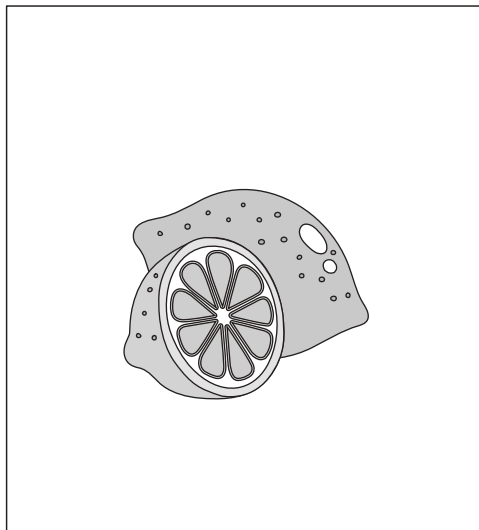


おうちで、やろう。 年中児版

Study at home. 小学校受験の家庭学習教材

言語：音の数6

四角の中にある絵の音の数を数えて、その数だけ○を塗ります。



※1. このプリントは、しながわ・目黒こどもスクールのウェブサイトからダウンロードできます。無断複写・引用はご遠慮ください。
※2. このプリントを活用したオンライン授業のスケジュールは、しながわ・目黒こどもスクールのウェブサイトでご確認ください。









おうちで、やろう。 年中児版

Study at home. 小学校受験の家庭学習教材

処理能力：置き換え6

上の太い四角の中がお約束です。下の四角にそれぞれの記号をかきます。問題は左上から矢印の方向へ進み、右端まできたら次の段の左から右へと順番に進みます。



※1. このプリントは、しながわ・目黒こどもスクールのウェブサイトからダウンロードできます。無断複写・引用はご遠慮ください。
 ※2. このプリントを活用したオンライン授業のスケジュールは、しながわ・目黒こどもスクールのウェブサイトでご確認ください。





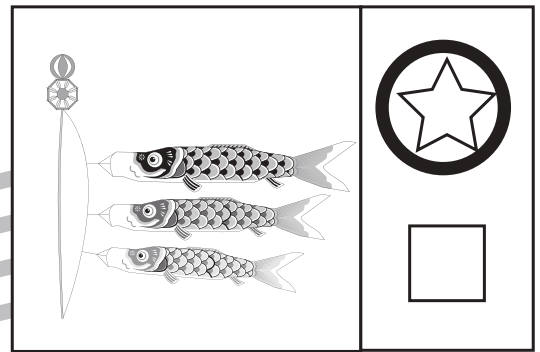
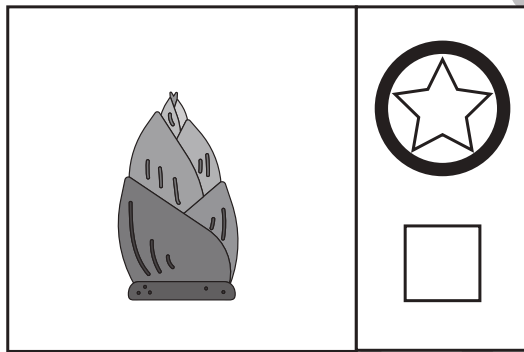




おうちで、やろう。年中児版

Study at home. 小学校受験の家庭学習教材

常識：仲間分け4

四角の中の絵が春のものには☆を、冬のものには□を○で囲みます。



※1. このプリントは、しながわ・目黒こどもスクールのウェブサイトでダウンロードができます。無断複写・引用はご遠慮ください。
 ※2. このプリントを活用したオンライン授業のスケジュールは、しながわ・目黒こどもスクールのウェブサイトでご確認ください。

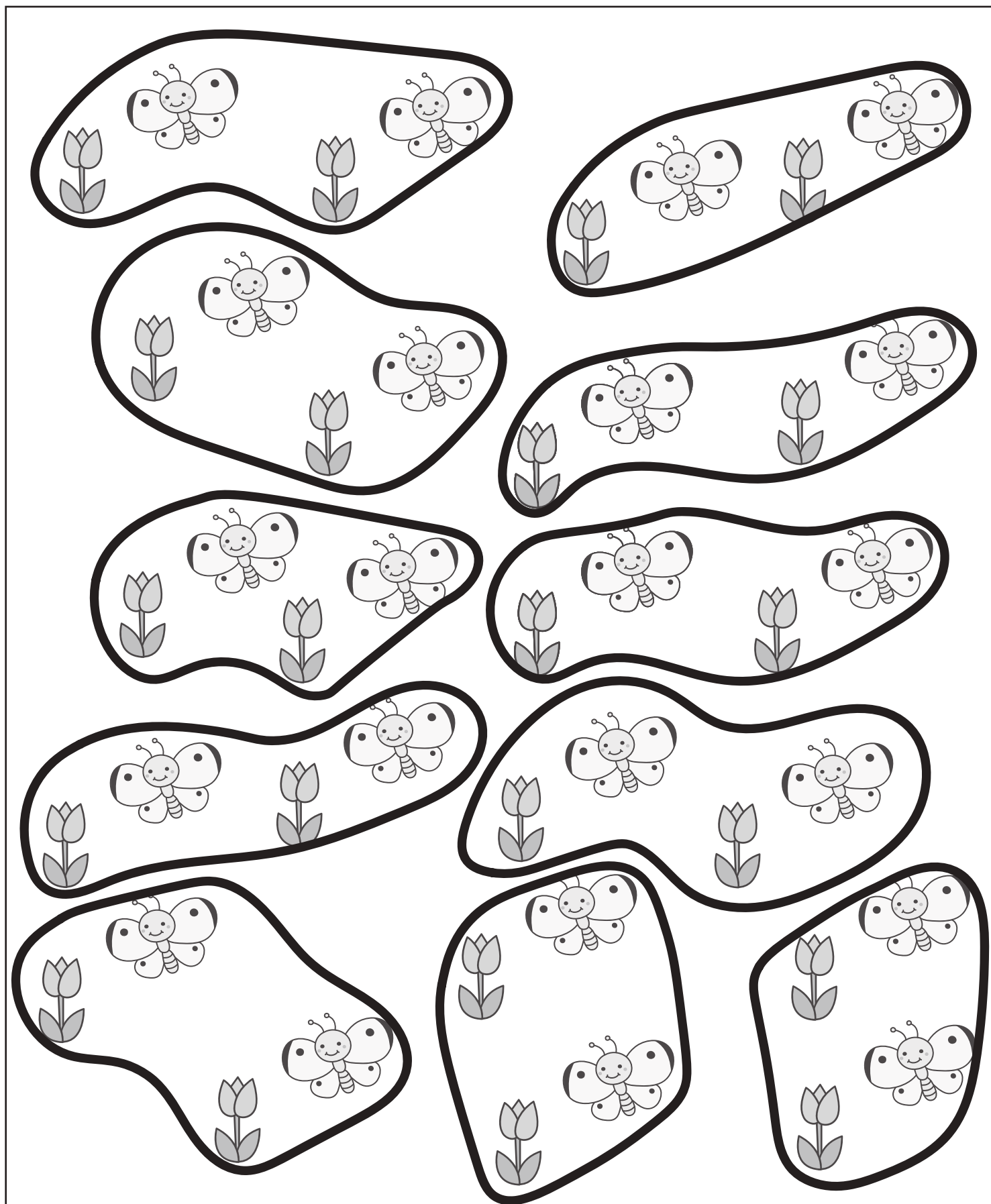


おうちで、やろう。 年中児版

Study at home. 小学校受験の家庭学習教材

数量：計数 17

お花とちょうちょで1セットです。2セットずつ囲みましょう。



※1. このプリントは、しながわ・目黒こどもスクールのウェブサイトからダウンロードできます。無断複写・引用はご遠慮ください。

※2. このプリントを活用したオンライン授業のスケジュールは、しながわ・目黒こどもスクールのウェブサイトでご確認ください。



おうちで、やろう。

Study at home. 小学校受験の家庭学習教材

数量：合わせた数6

左の太い四角の中のおかしを10個にします。右の4つの四角のうち左の四角の中のおかしと合わせて10個になるものを1つ選んで○をつけます。

--	--	--	--	--

--	--	--	--	--

--	--	--	--	--

--	--	--	--	--

※1. このプリントは、しながわ・目黒こどもスクールのウェブサイトでダウンロードができます。無断複写・引用はご遠慮ください。

※2. このプリントを活用したオンライン授業のスケジュールは、しながわ・目黒こどもスクールのウェブサイトでご確認ください。



おうちで、やろう。 年中児版

Study at home. 小学校受験の家庭学習教材

数量：同数 10

左の四角の中の動物たちがお菓子を仲良く同じ数に分けられるものはどれですか。正しい四角を選んで○をかきます。

--	--	--	--	--

--	--	--	--	--

--	--	--	--	--

--	--	--	--	--

※1. このプリントは、しながわ・目黒こどもスクールのウェブサイトからダウンロードできます。無断複写・引用はご遠慮ください。

※2. このプリントを活用したオンライン授業のスケジュールは、しながわ・目黒こどもスクールのウェブサイトでご確認ください。


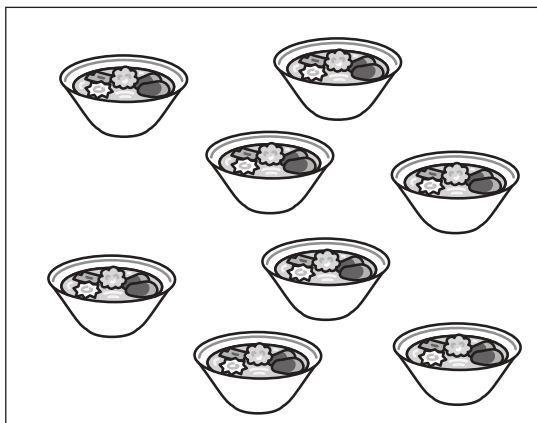


おうちで、やろう。 年中児版

Study at home. 小学校受験の家庭学習教材

数量：分割 11



左の四角の中の食べ物を同じ数になるように二人で分けたら、それぞれいくつずつになりますか。その数だけお友だちの横に○をかきます。



$$\bigcirc \times 4$$




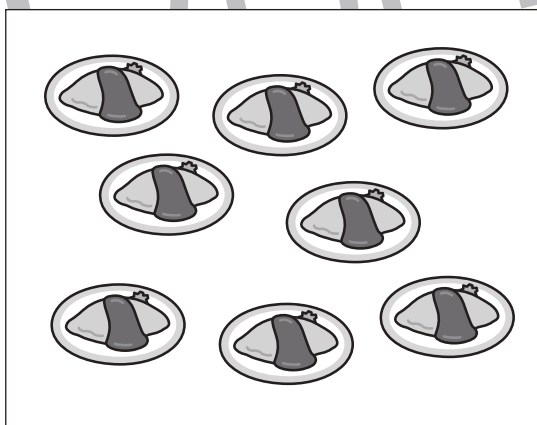
$$\bigcirc \times 4$$



$$\bigcirc \times 2$$




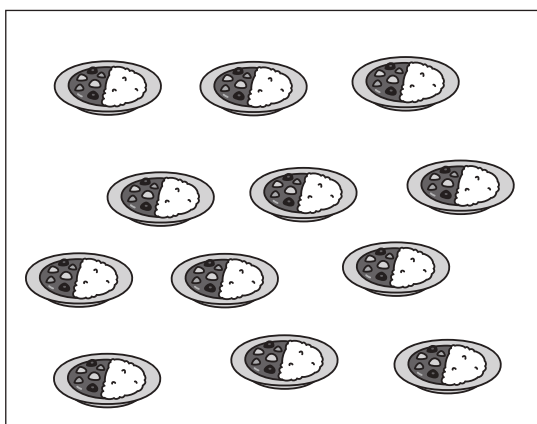
$$\bigcirc \times 2$$



$$\bigcirc \times 4$$



$$\bigcirc \times 4$$



$$\bigcirc \times 6$$



$$\bigcirc \times 6$$

※1. このプリントは、しながわ・目黒こどもスクールのウェブサイトからダウンロードできます。無断複写・引用はご遠慮ください。

※2. このプリントを活用したオンライン授業のスケジュールは、しながわ・目黒こどもスクールのウェブサイトでご確認ください。





おうちで、やろう。年中児版 推理：まちがいさがし4

Study at home. 小学校受験の家庭学習教材

上下の絵を見比べて、変わっているところを5つ探します。見つけたら、下の絵の変わっている部分に丸をつけます。



※1. このプリントは、しながわ・目黒こどもスクールのウェブサイトでダウンロードができます。無断複写・引用はご遠慮ください。

※2. このプリントを活用したオンライン授業のスケジュールは、しながわ・目黒こどもスクールのウェブサイトでご確認ください。

