

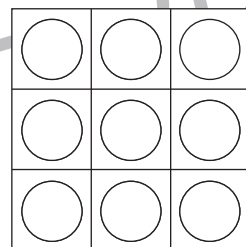



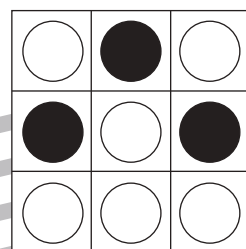



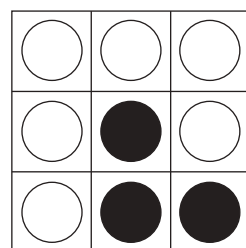



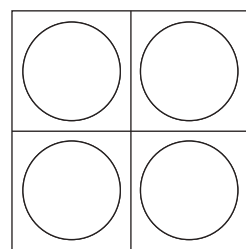
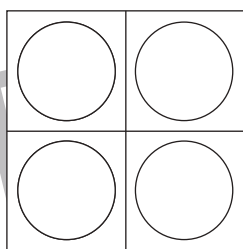
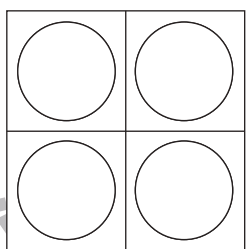
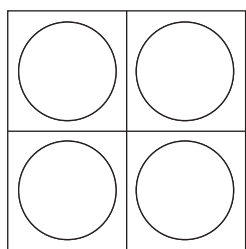
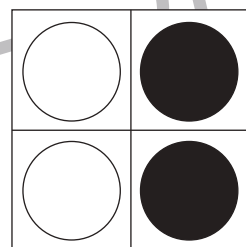
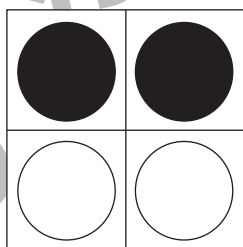

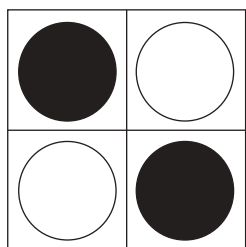
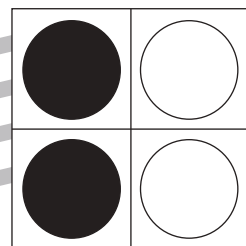
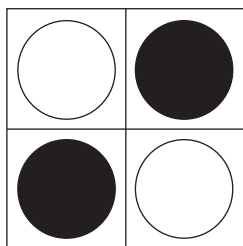
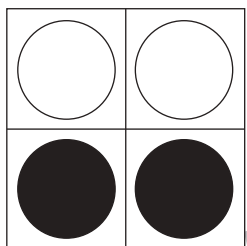
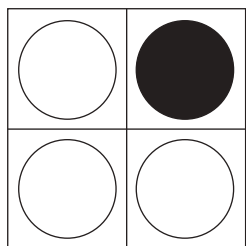


# おうちで、よろう。 年中児版

Study at home. 小学校受験の家庭学習教材

図形：重ね5

透明な板に、マスや丸がかいてあります。上と真ん中の二枚を重ねた時の見え方を考えて、下の四角の中の○を塗ります。



※1. このプリントは、しながわ・目黒こどもスクールのウェブサイトからダウンロードできます。無断複写・引用はご遠慮ください。  
※2. このプリントを活用したオンライン授業のスケジュールは、しながわ・目黒こどもスクールのウェブサイトでご確認ください。













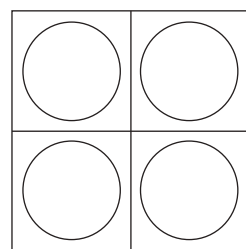
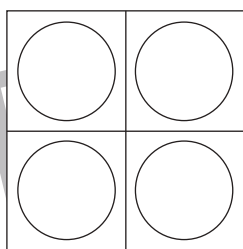
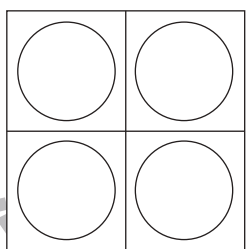
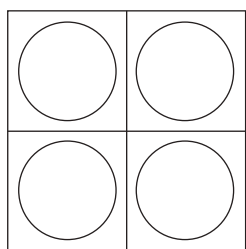




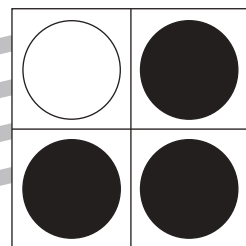

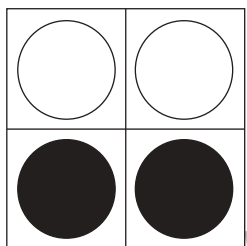



# おうちで、やろう。 年中児版

Study at home. 小学校受験の家庭学習教材

図形：重ね 6

透明な板に、マスや丸がかいてあります。上と真ん中の二枚を重ねた時の見え方を考えて、下の四角の中の○を塗ります。



※1. このプリントは、しながわ・目黒こどもスクールのウェブサイトでダウンロードができます。無断複写・引用はご遠慮ください。  
※2. このプリントを活用したオンライン授業のスケジュールは、しながわ・目黒こどもスクールのウェブサイトでご確認ください。

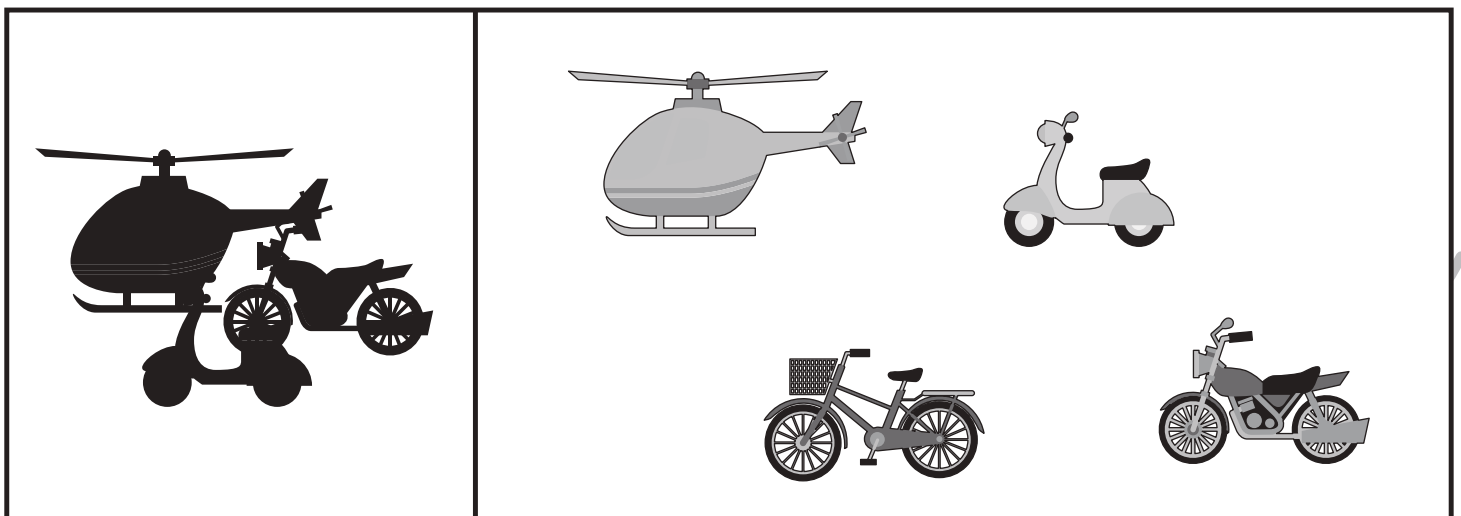

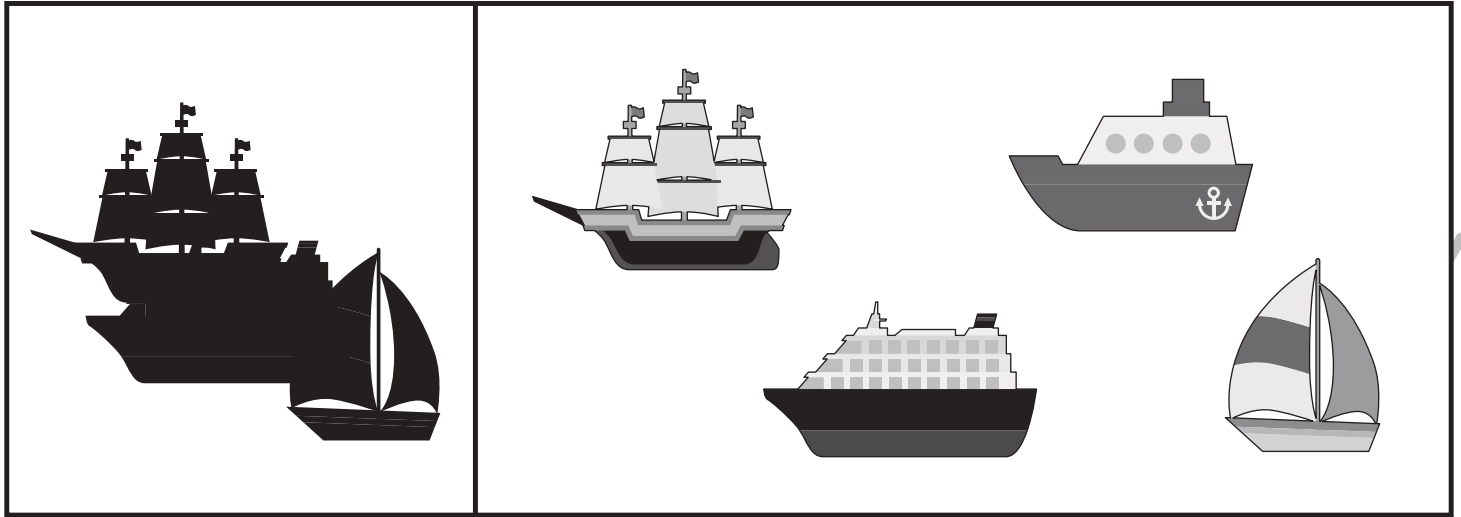


# おうちで、よろう。年中児版

Study at home. 小学校受験の家庭学習教材

推理：影 6

左の四角の中はいろいろなものが影になって重なっています。影になっていないものを右の四角の中から見つけて△をつけます。



※1. このプリントは、しながわ・目黒こどもスクールのウェブサイトでダウンロードができます。無断複写・引用はご遠慮ください。

※2. このプリントを活用したオンライン授業のスケジュールは、しながわ・目黒こどもスクールのウェブサイトでご確認ください。






# おうちで、やろう。年中児版

Study at home. 小学校受験の家庭学習教材

推理：影 7

左の四角の中は何人かのお友だちが影になっています。影になっていない人を右の四角の中から見つけて△をつけます。



※1. このプリントは、しながわ・目黒こどもスクールのウェブサイトでダウンロードができます。無断複写・引用はご遠慮ください。

※2. このプリントを活用したオンライン授業のスケジュールは、しながわ・目黒こどもスクールのウェブサイトでご確認ください。



# おうちで、やろう。 年中児版

Study at home. 小学校受験の家庭学習教材

数量：計数 23

下の四角の中には、○が描いてあります。この中で、一番目に多いものには○、一番少ないものには×、同じ数のものには△をつけます。


※1. このプリントは、しながわ・目黒こどもスクールのウェブサイトでダウンロードができます。無断複写・引用はご遠慮ください。

※2. このプリントを活用したオンライン授業のスケジュールは、しながわ・目黒こどもスクールのウェブサイトでご確認ください。



# おうちで、やろう。 年中児版

Study at home. 小学校受験の家庭学習教材

数量：計数 24

下の四角の中には、○が描いてあります。この中で、一番目に多いものには○、一番少ないものには×、同じ数のものには△をつけます。


※1. このプリントは、しながわ・目黒こどもスクールのウェブサイトでダウンロードができます。無断複写・引用はご遠慮ください。

※2. このプリントを活用したオンライン授業のスケジュールは、しながわ・目黒こどもスクールのウェブサイトでご確認ください。

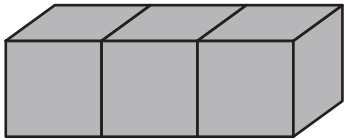
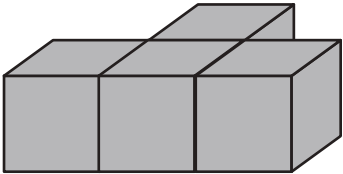
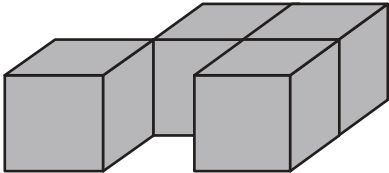
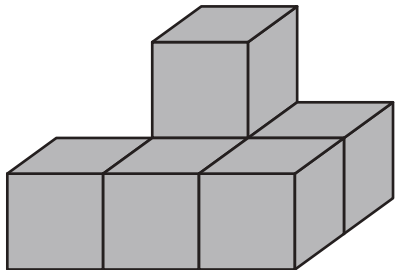
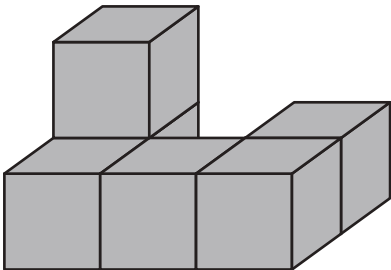
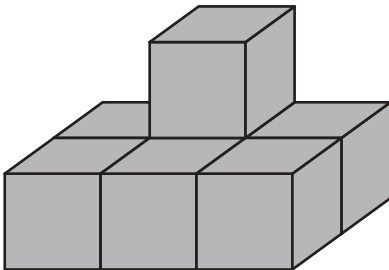


# おうちで、やろう。 年中児版

Study at home. 小学校受験の家庭学習教材

数量：積み木 7

積み木の数だけ、すぐ下の四角に○をかきます。

※1. このプリントは、しながわ・目黒こどもスクールのウェブサイトでダウンロードができます。無断複写・引用はご遠慮ください。  
※2. このプリントを活用したオンライン授業のスケジュールは、しながわ・目黒こどもスクールのウェブサイトでご確認ください。



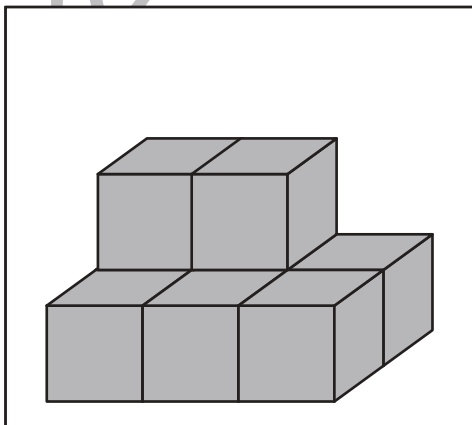
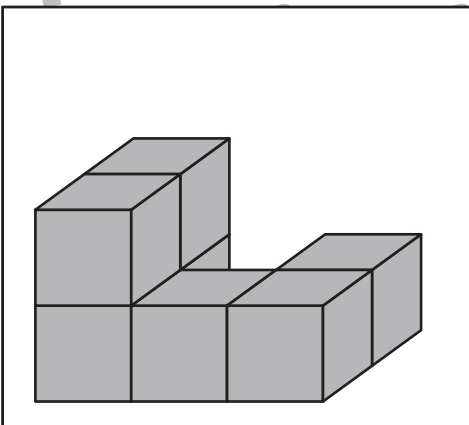
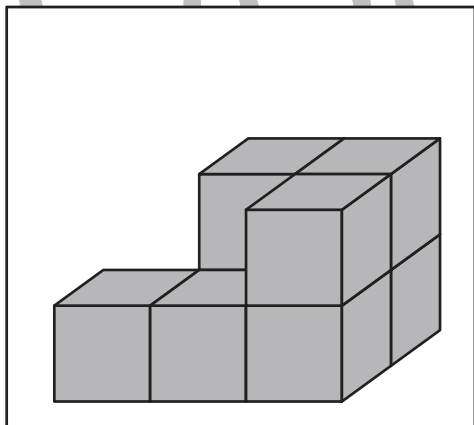


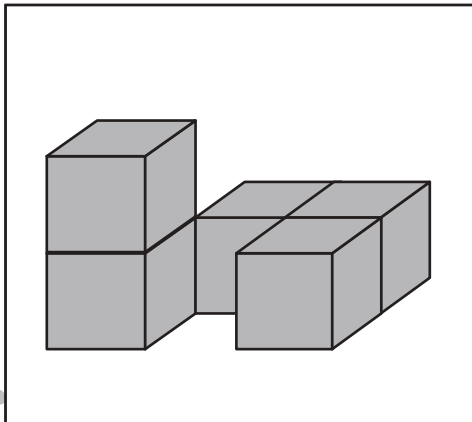
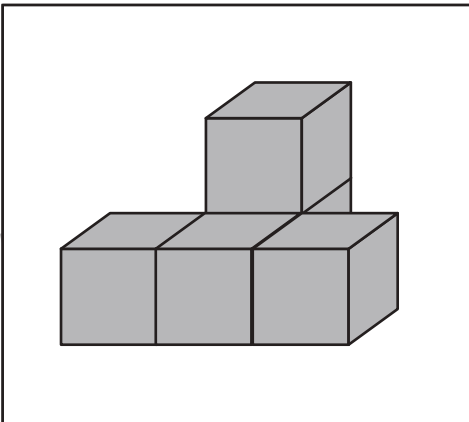
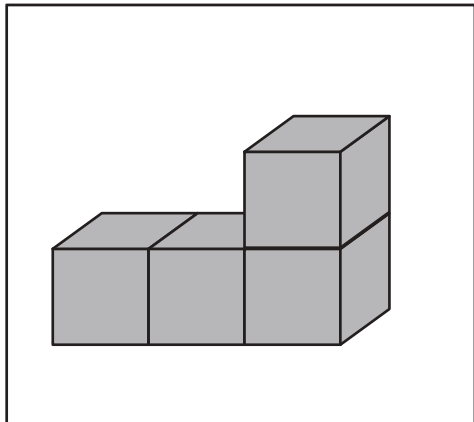


# おうちで、やろう。 年中児版

Study at home. 小学校受験の家庭学習教材

数量：積み木 8

積み木の数だけ、すぐ下の四角に○をかきます。



※1. このプリントは、しながわ・目黒こどもスクールのウェブサイトでダウンロードができます。無断複写・引用はご遠慮ください。  
※2. このプリントを活用したオンライン授業のスケジュールは、しながわ・目黒こどもスクールのウェブサイトでご確認ください。

