





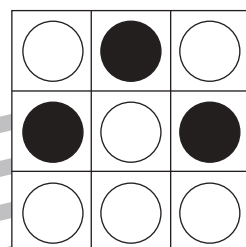



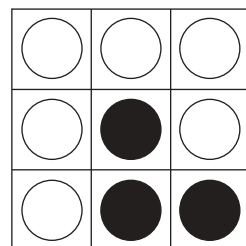




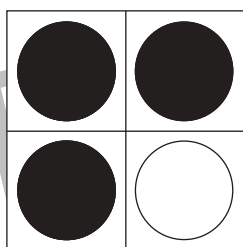


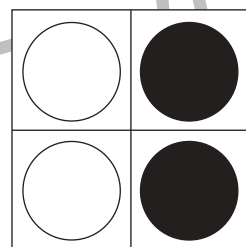
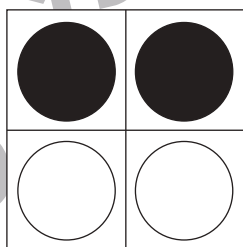

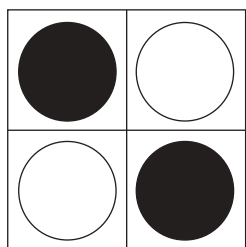
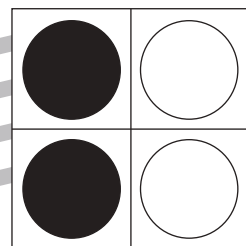
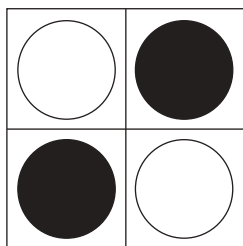
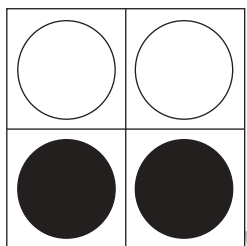
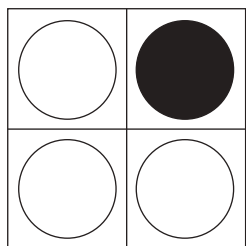


おうちで、やろう。 年中児版

Study at home. 小学校受験の家庭学習教材

図形：重ね5

透明な板に、マスや丸がかいてあります。上と真ん中の二枚を重ねた時の見え方を考えて、下の四角の中の○を塗ります。



※1. このプリントは、しながわ・目黒こどもスクールのウェブサイトからダウンロードできます。無断複写・引用はご遠慮ください。
※2. このプリントを活用したオンライン授業のスケジュールは、しながわ・目黒こどもスクールのウェブサイトでご確認ください。





















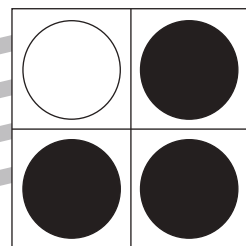

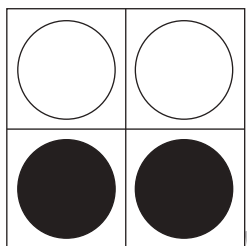



おうちで、やろう。 年中児版

Study at home. 小学校受験の家庭学習教材

図形：重ね 6

透明な板に、マスや丸がかいてあります。上と真ん中の二枚を重ねた時の見え方を考えて、下の四角の中の○を塗ります。



※1. このプリントは、しながわ・目黒こどもスクールのウェブサイトでダウンロードができます。無断複写・引用はご遠慮ください。
※2. このプリントを活用したオンライン授業のスケジュールは、しながわ・目黒こどもスクールのウェブサイトでご確認ください。



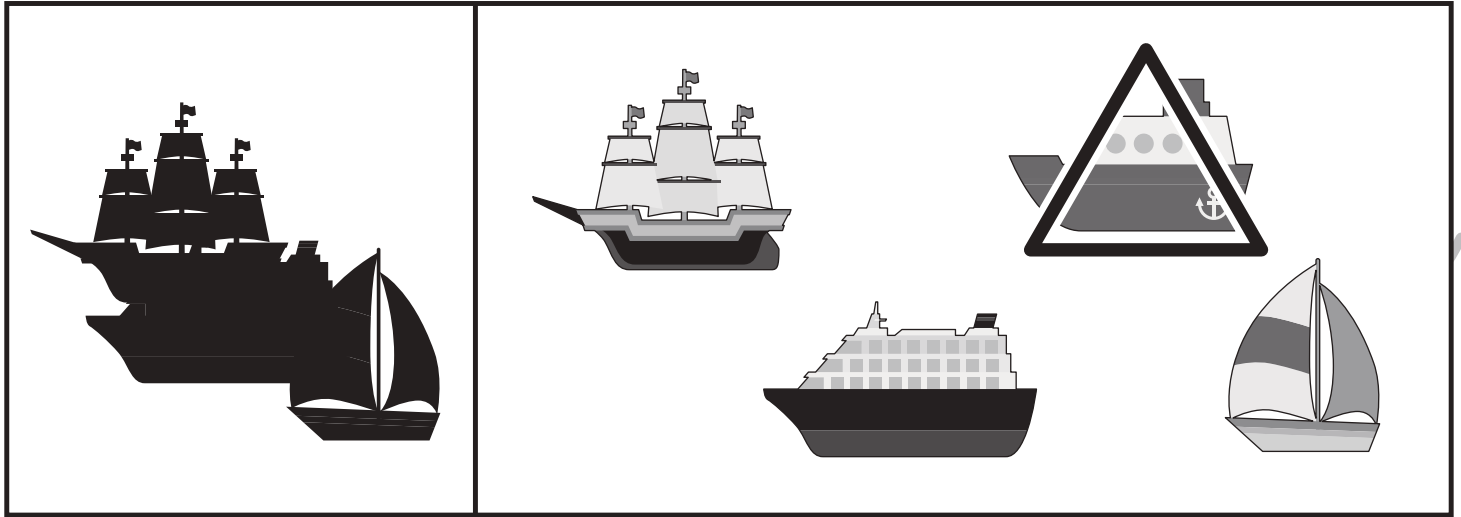


おうちで、よろう。年中児版

Study at home. 小学校受験の家庭学習教材

推理：影 6

左の四角の中はいろいろなものが影になって重なっています。影になっていないものを右の四角の中から見つけて△をつけます。



※1. このプリントは、しながわ・目黒こどもスクールのウェブサイトでダウンロードができます。無断複写・引用はご遠慮ください。
※2. このプリントを活用したオンライン授業のスケジュールは、しながわ・目黒こどもスクールのウェブサイトでご確認ください。






おうちで、やろう。 年中児版

Study at home. 小学校受験の家庭学習教材

推理：影 7

左の四角の中は何人かのお友だちが影になっています。影になっていない人を右の四角の中から見つけて△をつけます。



※1. このプリントは、しながわ・目黒こどもスクールのウェブサイトでダウンロードができます。無断複写・引用はご遠慮ください。
 ※2. このプリントを活用したオンライン授業のスケジュールは、しながわ・目黒こどもスクールのウェブサイトでご確認ください。

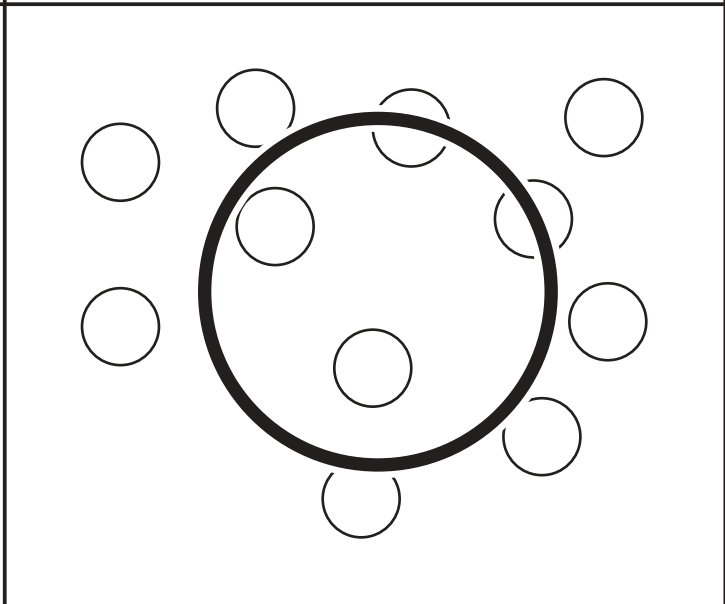
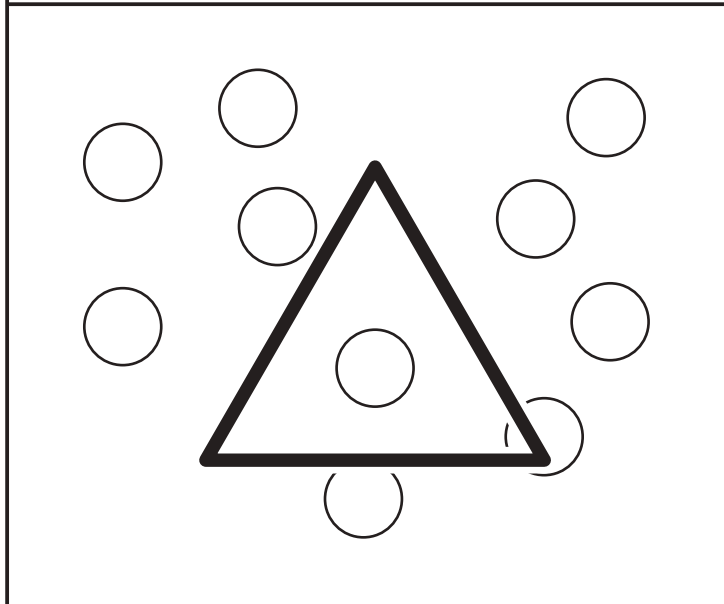
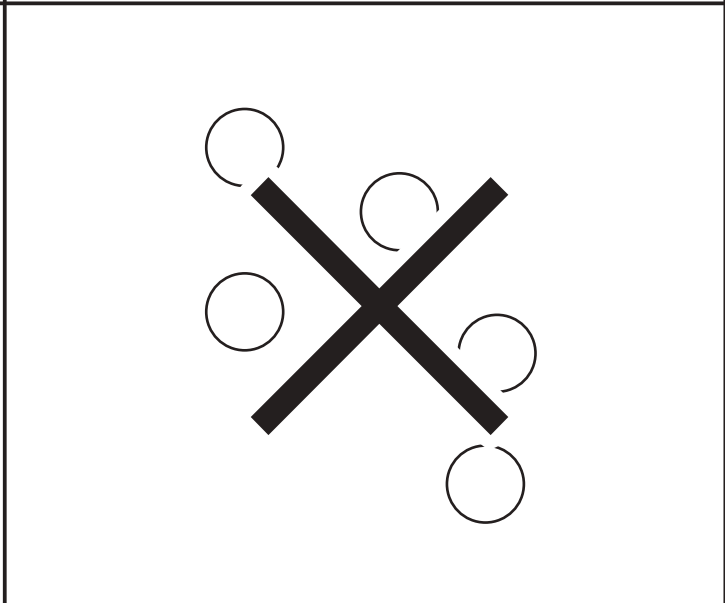
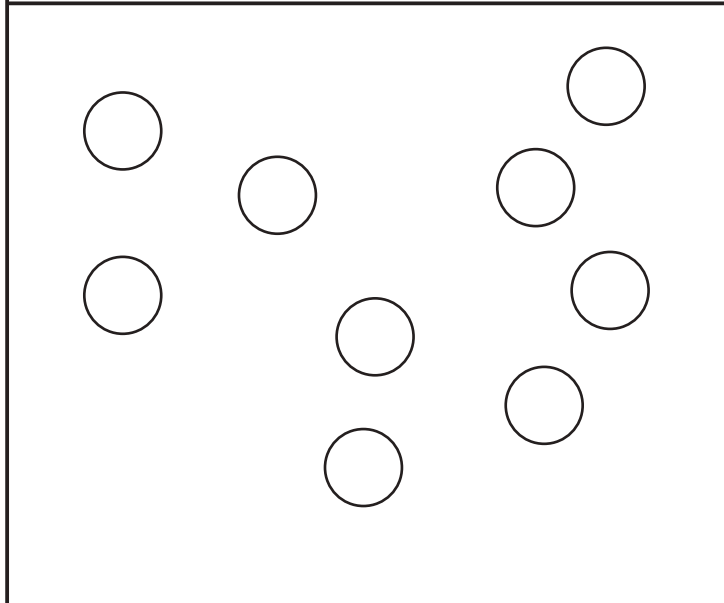
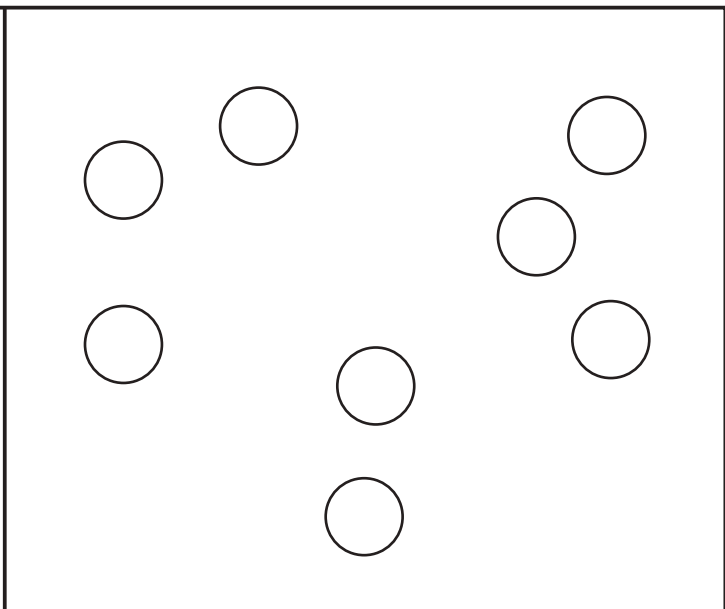
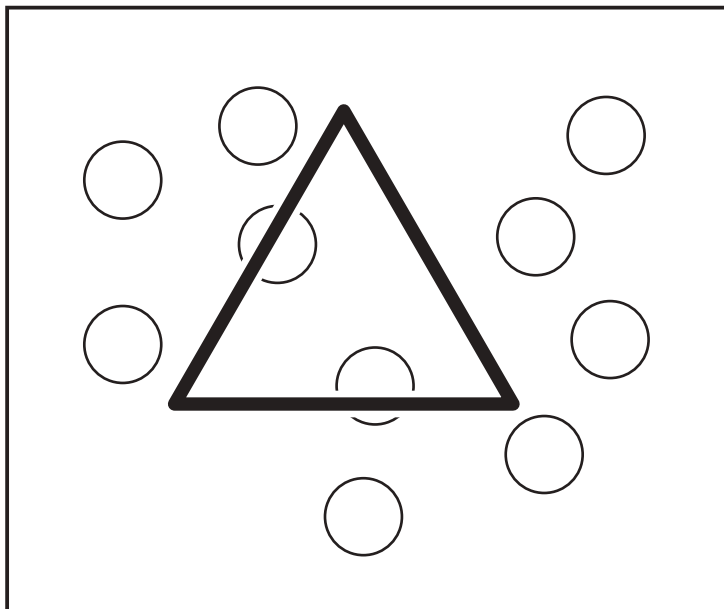


おうちで、やろう。 年中児版

Study at home. 小学校受験の家庭学習教材

数量：計数 23

下の四角の中には、○が描いてあります。この中で、一番目に多いものには○、一番少ないものには×、同じ数のものには△をつけます。



※1. このプリントは、しながわ・目黒こどもスクールのウェブサイトでダウンロードができます。無断複写・引用はご遠慮ください。
※2. このプリントを活用したオンライン授業のスケジュールは、しながわ・目黒こどもスクールのウェブサイトでご確認ください。



おうちで、やろう。 年中児版

Study at home. 小学校受験の家庭学習教材

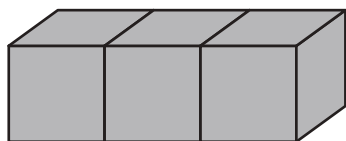
数量：計数 24

下の四角の中には、○が描いてあります。この中で、一番目に多いものには○、一番少ないものには×、同じ数のものには△をつけます。

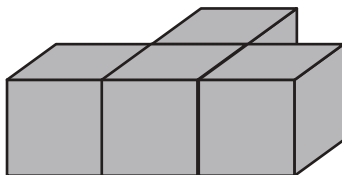
※1. このプリントは、しながわ・目黒こどもスクールのウェブサイトからダウンロードできます。無断複写・引用はご遠慮ください。
 ※2. このプリントを活用したオンライン授業のスケジュールは、しながわ・目黒こどもスクールのウェブサイトでご確認ください。



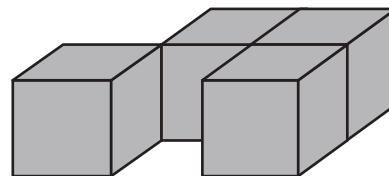
積み木の数だけ、すぐ下の四角に○をかきます。



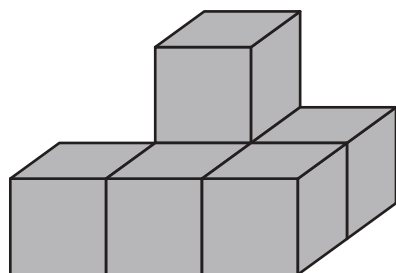
$$\bigcirc \times 3$$



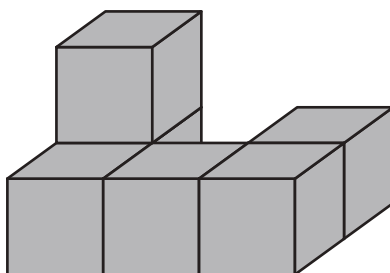
$$\bigcirc \times 4$$



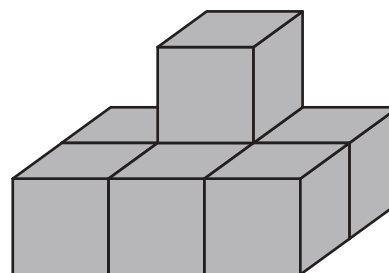
$$\bigcirc \times 4$$



$$\bigcirc \times 6$$



$$\bigcirc \times 6$$



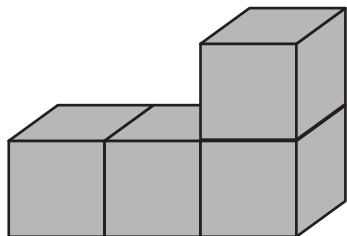
$$\bigcirc \times 7$$

※1. このプリントは、しながわ・目黒こどもスクールのウェブサイトでダウンロードができます。無断複写・引用はご遠慮ください。
※2. このプリントを活用したオンライン授業のスケジュールは、しながわ・目黒こどもスクールのウェブサイトでご確認ください。

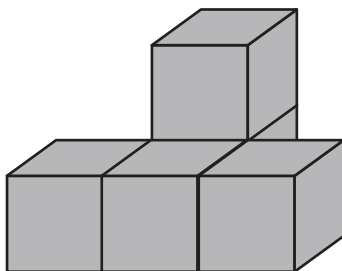




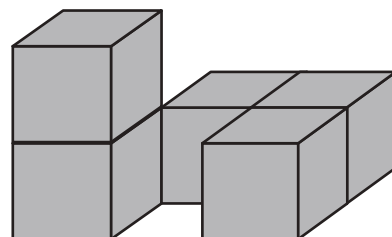
積み木の数だけ、すぐ下の四角に○をかきます。



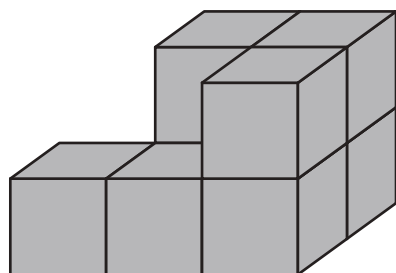
$$\bigcirc \times 4$$



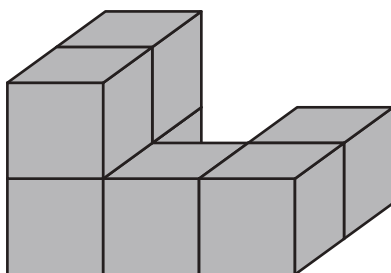
$$\bigcirc \times 5$$



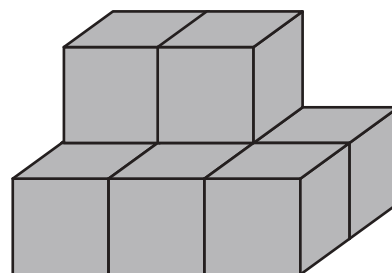
$$\bigcirc \times 5$$



$$\bigcirc \times 8$$



$$\bigcirc \times 7$$



$$\bigcirc \times 8$$