



# おうちで、やろう。 年中児版

Study at home. 小学校受験の家庭学習教材

言語：しりとり 8

左から順にしりとりをします。四角にどの絵を入れるとしりとりがつながりますか。下の四角の中から選んで○をかきます

Activity 1:

Activity 2:

Option boxes for Activity 1:

Option boxes for Activity 2:

※1. このプリントは、しながわ・目黒こどもスクールのウェブサイトからダウンロードできます。無断複写・引用はご遠慮ください。

※2. このプリントを活用したオンライン授業のスケジュールは、しながわ・目黒こどもスクールのウェブサイトでご確認ください。



# おうちで、やろう。 年中児版

Study at home. 小学校受験の家庭学習教材

## 言語：音の理解 19

左の四角の絵とおわりの音が同じものを、右の四角から探して○をつけます。


※1. このプリントは、しながわ・目黒こどもスクールのウェブサイトでダウンロードができます。無断複写・引用はご遠慮ください。

※2. このプリントを活用したオンライン授業のスケジュールは、しながわ・目黒こどもスクールのウェブサイトでご確認ください。




# おうちで、やろう。 年中児版



Study at home. 小学校受験の家庭学習教材

## 常識：季節 9



上と下の絵の季節が同じ時は○を、違う時は×を真ん中の太い四角の中につけます。



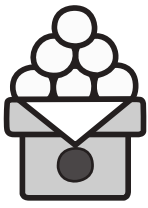

×


○

×

○



※1. このプリントは、しながわ・目黒こどもスクールのウェブサイトでダウンロードができます。無断複写・引用はご遠慮ください。  
 ※2. このプリントを活用したオンライン授業のスケジュールは、しながわ・目黒こどもスクールのウェブサイトでご確認ください。



左側の形を右に1回倒しているものを右側から探して、点と点を線で結びます。

The diagram shows two vertical columns of four boxes each. Each box contains a cross-shaped figure (a central square with four arms). Some squares in the figure are shaded gray. Lines connect the top-left box of the left column to the top-right box of the right column, the second box from the top to the second from the bottom, the third from the top to the third from the bottom, and the bottom box to the bottom box.

※1. このプリントは、しながわ・目黒こどもスクールのウェブサイトでダウンロードができます。無断複写・引用はご遠慮ください。  
 ※2. このプリントを活用したオンライン授業のスケジュールは、しながわ・目黒こどもスクールのウェブサイトでご確認ください。

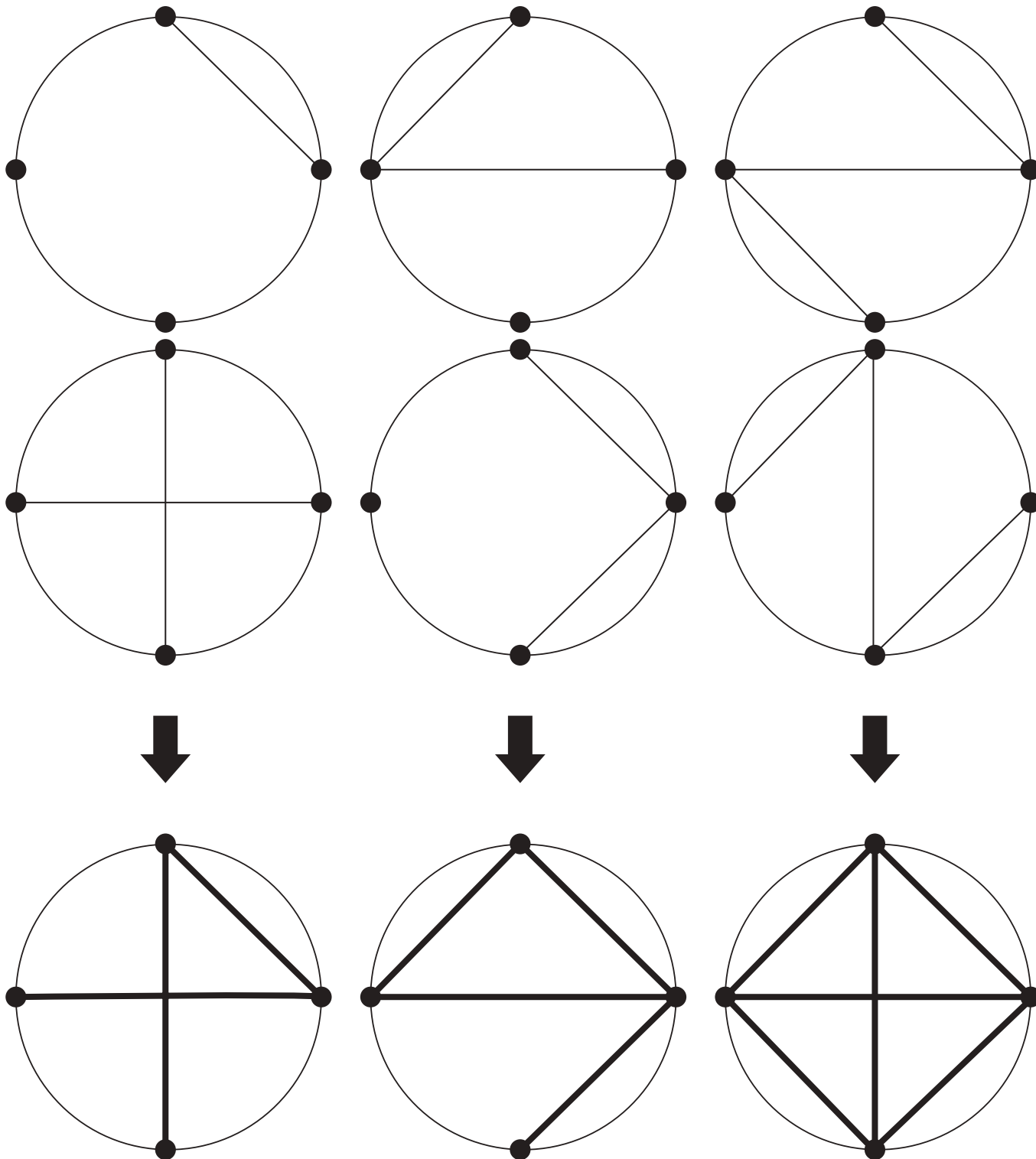


# おうちで、やろう。 年中児版

Study at home. 小学校受験の家庭学習教材

図形：重ね5

上の2枚の透明な円の板が重なった時の見え方を考えて、矢印の下の円に線を描きます。



※1. このプリントは、しながわ・目黒こどもスクールのウェブサイトからダウンロードできます。無断複写・引用はご遠慮ください。  
 ※2. このプリントを活用したオンライン授業のスケジュールは、しながわ・目黒こどもスクールのウェブサイトでご確認ください。

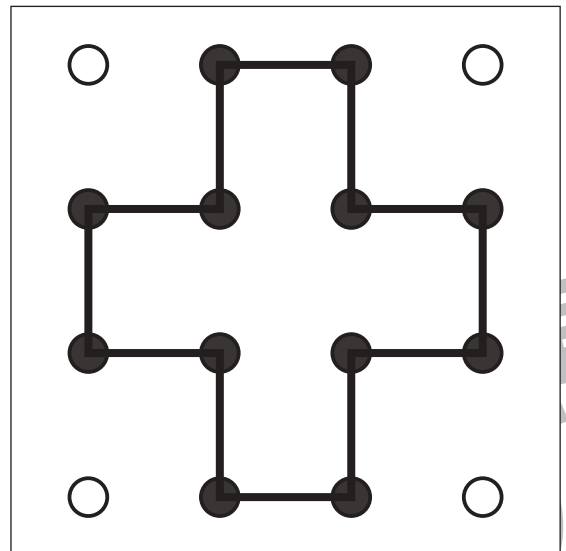
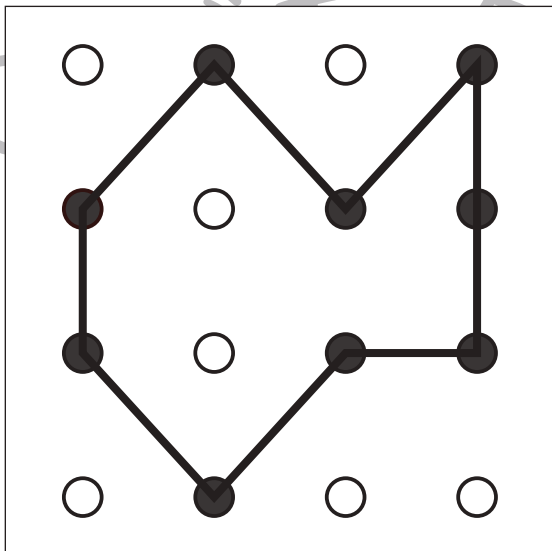
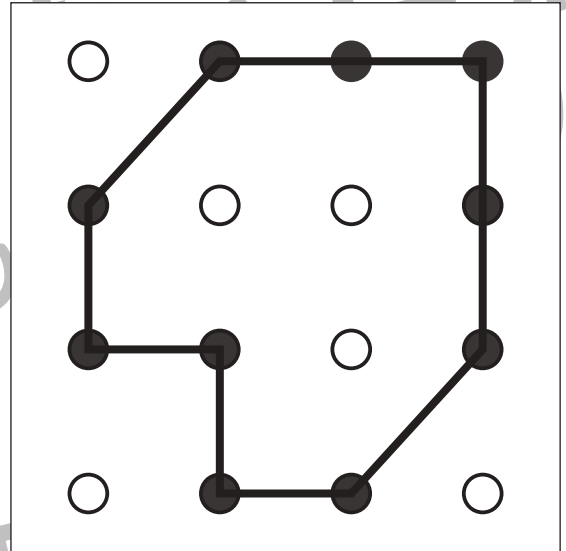
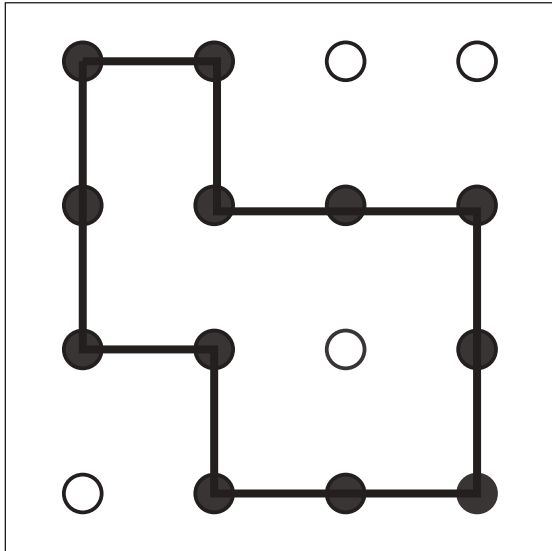


# おうちで、やろう。 年中児版

Study at home. 小学校受験の家庭学習教材

## 図形：島づくり 3


黒い丸を全て通って1本の線をつなぎ、島をつくります。縦と横、斜めに進むことができます。こたえは1つではありません。ルールを守って線をつなげていたら正解になります。







※1. このプリントは、しながわ・目黒こどもスクールのウェブサイトでダウンロードができます。無断複写・引用はご遠慮ください。  
※2. このプリントを活用したオンライン授業のスケジュールは、しながわ・目黒こどもスクールのウェブサイトでご確認ください。



四角の中にある色々な形の数それぞれ数えて、下の四角の形と色も形も同じものの数だけ○をかきましょう。



			
○×7	○×5	○×6	○×6

※1. このプリントは、しながわ・目黒こどもスクールのウェブサイトでダウンロードができます。無断複写・引用はご遠慮ください。  
 ※2. このプリントを活用したオンライン授業のスケジュールは、しながわ・目黒こどもスクールのウェブサイトでご確認ください。