

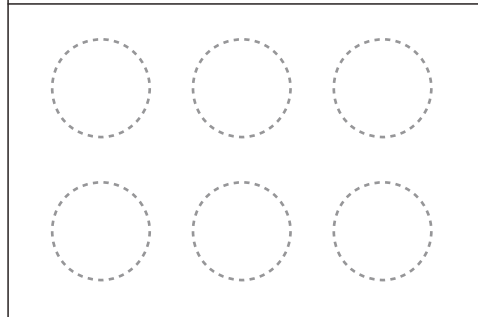
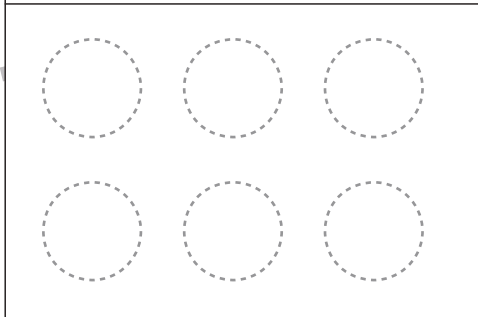
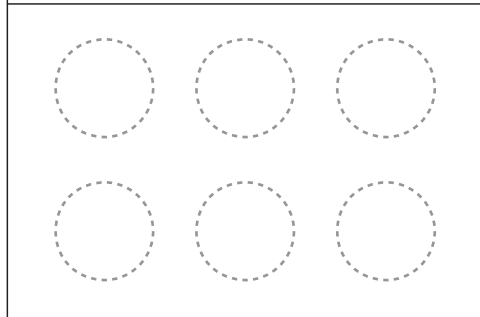

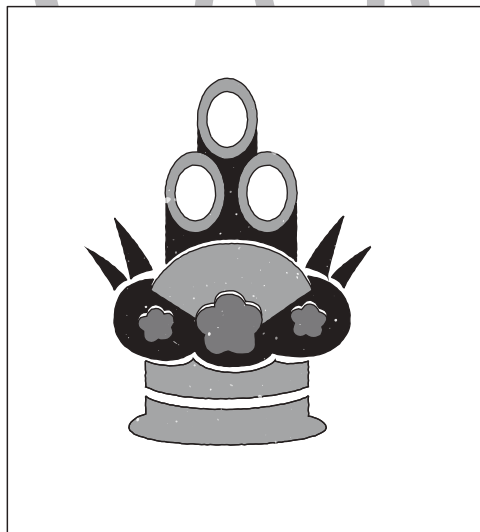
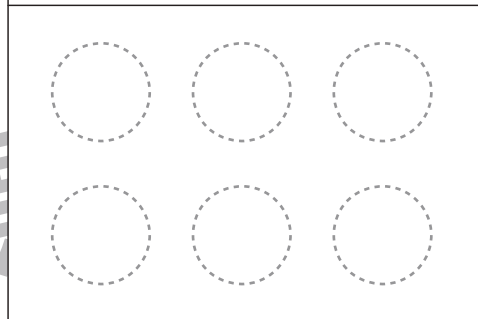
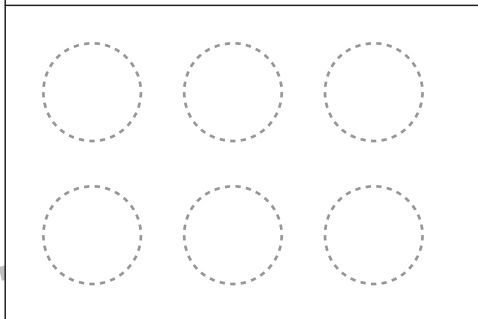
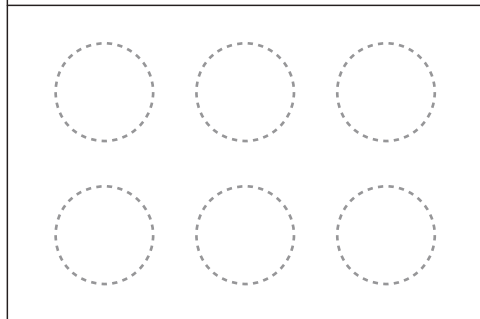




# おうちで、やろう。 年中児版

Study at home. 小学校受験の家庭学習教材

## 言語 - 音の数6

四角の中にある絵の音の数を数えて、その数だけ〇を塗ります。



※1. このプリントは、しながわ・目黒こどもスクールのウェブサイトからダウンロードできます。無断複写・引用はご遠慮ください。  
※2. このプリントを活用したオンライン授業のスケジュールは、しながわ・目黒こどもスクールのウェブサイトでご確認ください。









# おうちで、やろう。 年中児版







Study at home. 小学校受験の家庭学習教材







## 処理能力：置き換え5







上の太い四角の中がお約束です。下の四角にそれぞれの記号をかきます。問題は左上から矢印の方向へ進み、右端まできたら次の段の左から右へと順番に進みます。

 → 	 → 	 → 	 → 
---	---	---	---



※1. このプリントは、しながわ・目黒こどもスクールのウェブサイトでダウンロードができます。無断複写・引用はご遠慮ください。

※2. このプリントを活用したオンライン授業のスケジュールは、しながわ・目黒こどもスクールのウェブサイトでご確認ください。




# おうちで、やろう。 年中児版

Study at home. 小学校受験の家庭学習教材

常識：季節8

冬の絵に○、秋の絵に□をつけます。



※1. このプリントは、しながわ・目黒こどもスクールのウェブサイトからダウンロードできます。無断複写・引用はご遠慮ください。

※2. このプリントを活用したオンライン授業のスケジュールは、しながわ・目黒こどもスクールのウェブサイトでご確認ください。





# おうちで、やろう。 年中児版

Study at home. 小学校受験の家庭学習教材

## 図形：移動 9

○で囲んである点からはじめて、上の四角の中に並んだ矢印の方向へ点をひとつずつ移動していきます。最後に着く点を考えて、その点を○で囲みます。通る点は線ですらないでも構いません。矢印は左から順番に見ていきます。

↓ → ↑ → → ↑ ←

↑ ↑ ↑ → ↑ ← ←


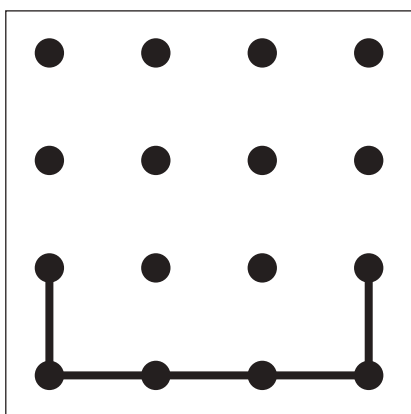
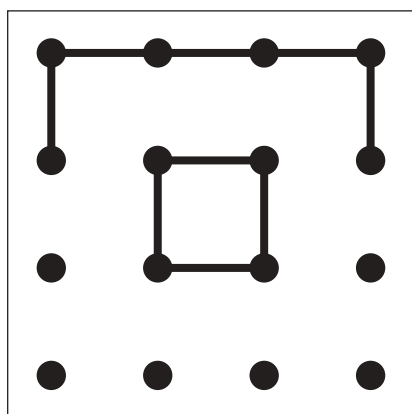

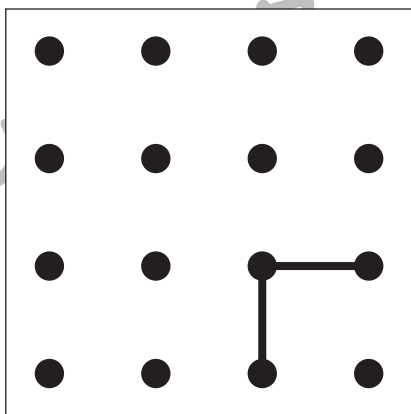
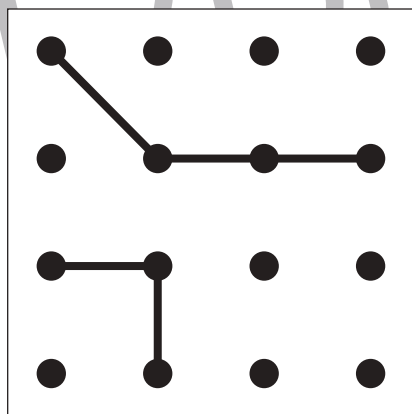

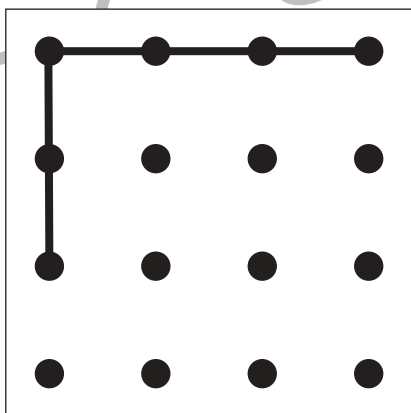
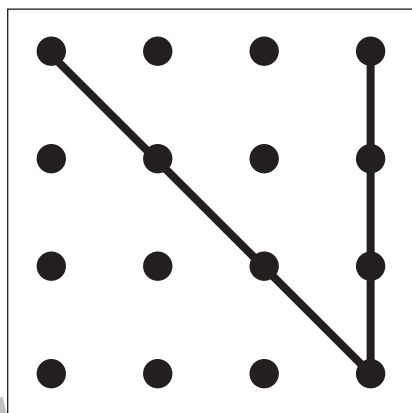

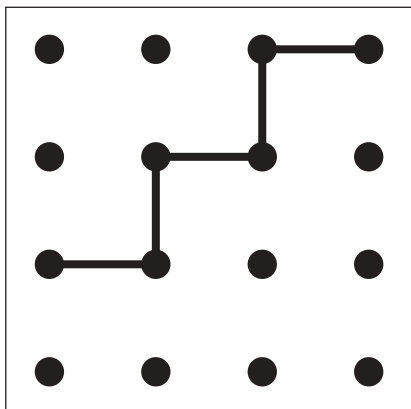
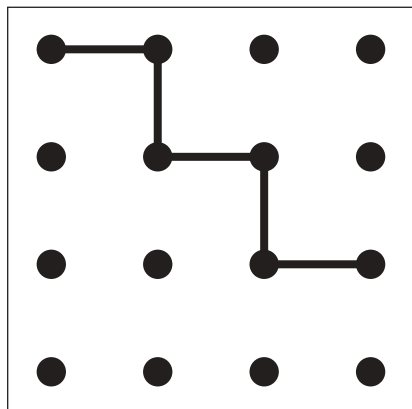
↓ → ↑ → ↑ ← ↑

↘ → ↘ ↑ ↖ ← ↑

※1. このプリントは、しながわ・目黒こどもスクールのウェブサイトでダウンロードができます。無断複写・引用はご遠慮ください。  
※2. このプリントを活用したオンライン授業のスケジュールは、しながわ・目黒こどもスクールのウェブサイトでご確認ください。



左の2枚の点図形を重ねた形を考えて、矢印の右の四角にかきます。



※1. このプリントは、しながわ・目黒こどもスクールのウェブサイトでダウンロードができます。無断複写・引用はご遠慮ください。

※2. このプリントを活用したオンライン授業のスケジュールは、しながわ・目黒こどもスクールのウェブサイトでご確認ください。

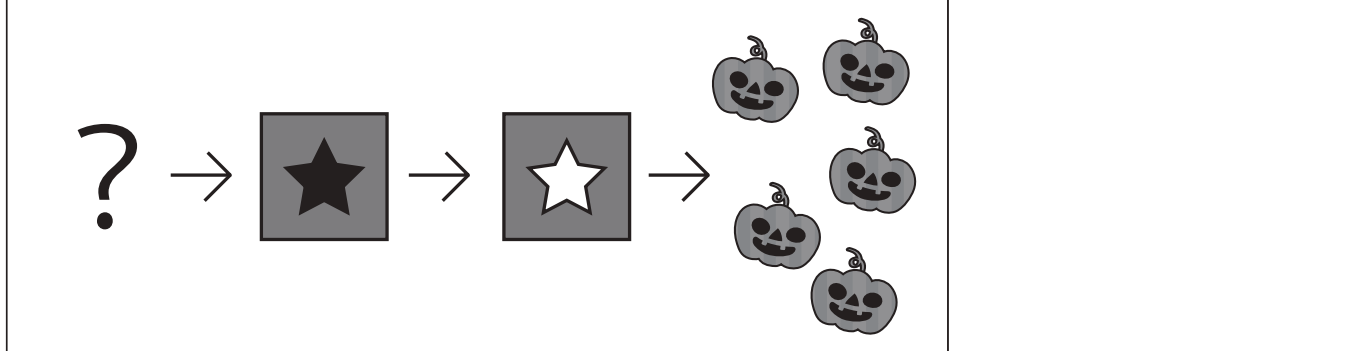



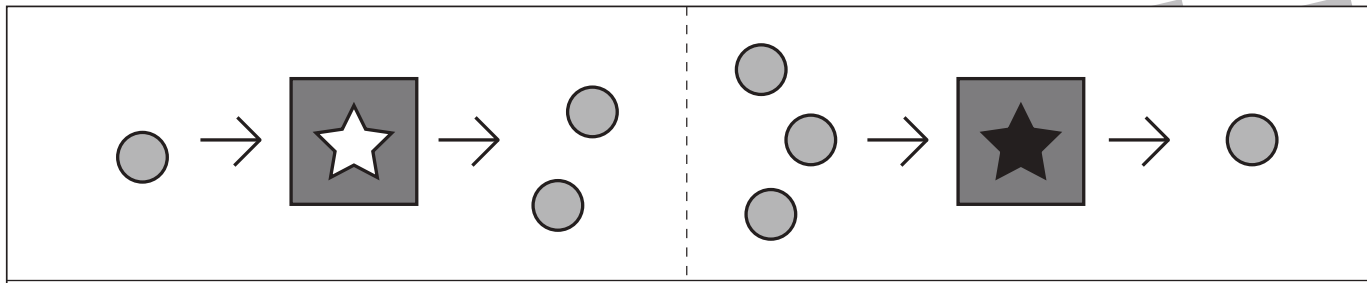




# おうちで、やろう。 年中児版 推理：ブラックボックス8

Study at home. 小学校受験の家庭学習教材

一番上の四角の中が約束です。☆の箱に入ると1つ増え、★の箱に入ると2つ減ります。この約束で下の問題を考えます。ハロウィンのおばけたちが矢印の順番に箱の中を通ったとき、?の場所のおばけはいくつになりますか。その数だけ右の四角の中に○をかきます。



※1. このプリントは、しながわ・目黒こどもスクールのウェブサイトでダウンロードができます。無断複写・引用はご遠慮ください。  
 ※2. このプリントを活用したオンライン授業のスケジュールは、しながわ・目黒こどもスクールのウェブサイトでご確認ください。

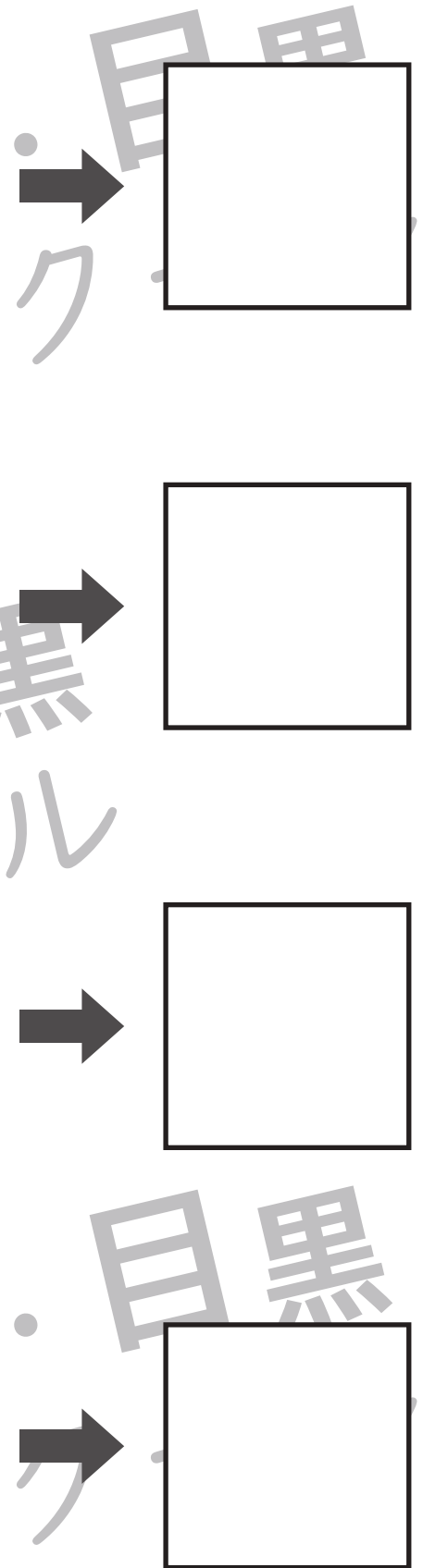






# おうちで、やろう。 年中児版

Study at home. 小学校受験の家庭学習教材

数量：同数 11

左と真ん中の四角の中の絵が同じ数のときは○を、違う数のときは×を、一番右の四角にかきます。



※1. このプリントは、しながわ・目黒こどもスクールのウェブサイトでダウンロードができます。無断複写・引用はご遠慮ください。  
 ※2. このプリントを活用したオンライン授業のスケジュールは、しながわ・目黒こどもスクールのウェブサイトでご確認ください。




# おうちで、やろう。 年中児版

Study at home. 小学校受験の家庭学習教材

推理：まちがいさがし24

上下の絵を見比べて変わっているところを5つ探します。  
見つけたら下の絵の変わっている部分に、丸をつけます。



※1. このプリントは、しながわ・目黒こどもスクールのウェブサイトでダウンロードができます。無断複写・引用はご遠慮ください。  
※2. このプリントを活用したオンライン授業のスケジュールは、しながわ・目黒こどもスクールのウェブサイトでご確認ください。