







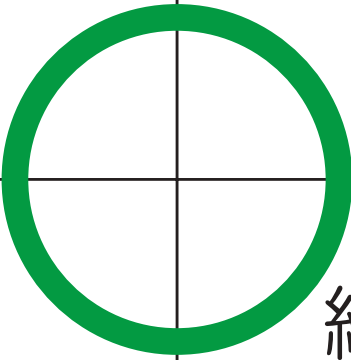

① 1. 一番上の段の右から二番目のマスに桃色の○をかきます。○の中は薄く塗りましょう。 2. 桃色の○の左斜め下のマスに緑色の○をかきます。○の中は濃く塗りましょう。 3. 桃色の○の右隣の列の一番下のマスに青色の△をかきます。△の中は薄く塗りましょう。

② 1. 一番上の段の左から一つ目のマスに水色の□をかきます。□の中は薄く塗りましょう。 2. 水色の□の二つ下のマスにオレンジ色の△をかきます。△の中は薄く塗りましょう。また、上から二段目の一番右のマスに紫色の△をかきます。△の中は濃く塗りましょう。 3. 上から二段目の真ん中の二マスと、下から二段目の真ん中の二マスをあわせた四マスの中の大きな四角の中に緑色で大きな○をかきます。○の中は塗りません。

①

		桃色 薄く		
	緑色 濃く			
			青色 薄く	

②

	水色 薄く			
				紫色 濃く
				
				緑色
	オレンジ色 薄く			

※1. このプリントは、しながわ・目黒こどもスクールのウェブサイトでダウンロードができます。無断複写・引用はご遠慮ください。

※2. このプリントを活用したオンライン授業のスケジュールは、しながわ・目黒こどもスクールのウェブサイトでご確認ください。



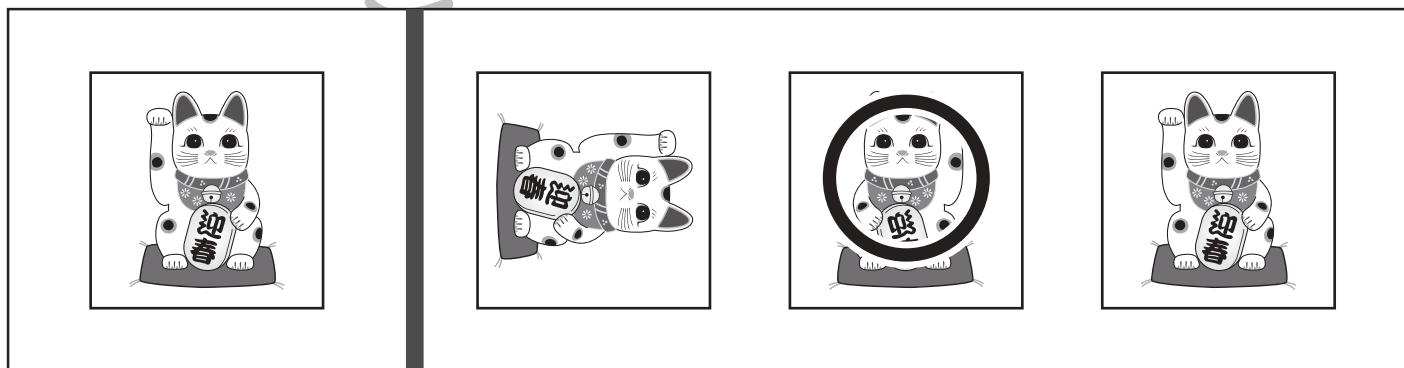



おうちで、よろう。年中児版

Study at home. 小学校受験の家庭学習教材

図形：鏡 1

左の四角の中の絵を鏡に映したときの見え方を考えて、右の四角の中から選び、○をつけます。



※1. このプリントは、しながわ・目黒こどもスクールのウェブサイトでダウンロードができます。無断複写・引用はご遠慮ください。
 ※2. このプリントを活用したオンライン授業のスケジュールは、しながわ・目黒こどもスクールのウェブサイトでご確認ください。

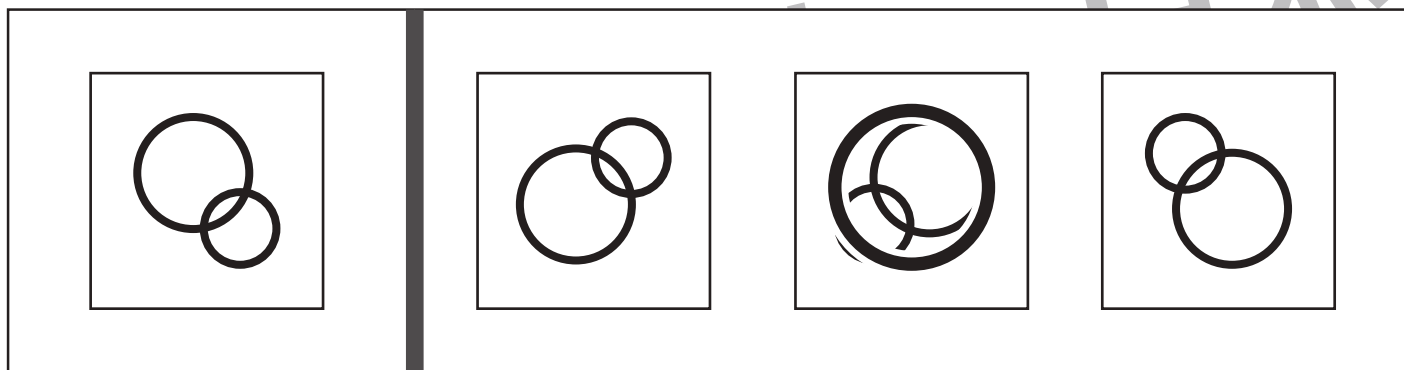

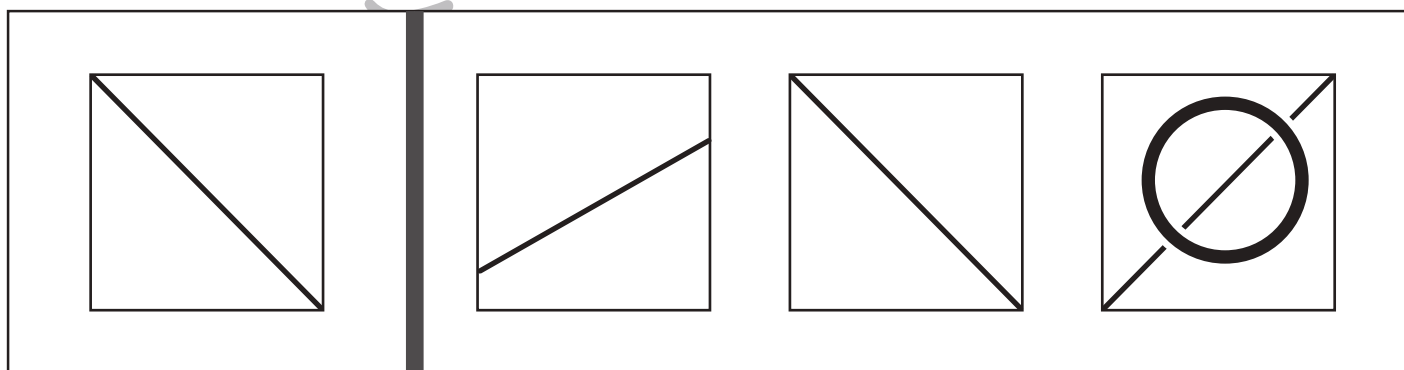
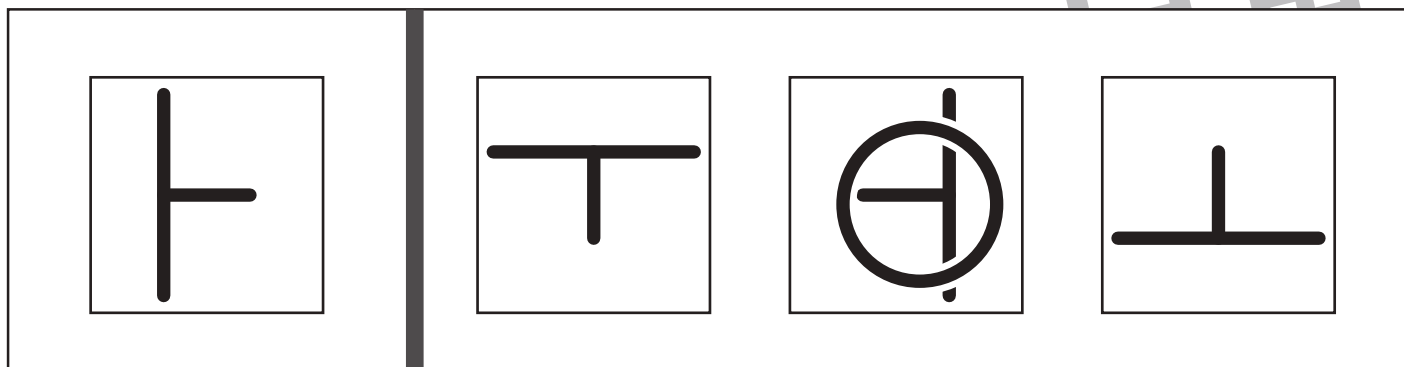


おうちで、やろう。年中児版

Study at home. 小学校受験の家庭学習教材

図形：鏡 2

左の四角の中の絵を鏡に映したときの見え方を考えて、右の四角の中から選び、○をつけます。



※1. このプリントは、しながわ・目黒こどもスクールのウェブサイトでダウンロードができます。無断複写・引用はご遠慮ください。
 ※2. このプリントを活用したオンライン授業のスケジュールは、しながわ・目黒こどもスクールのウェブサイトでご確認ください。


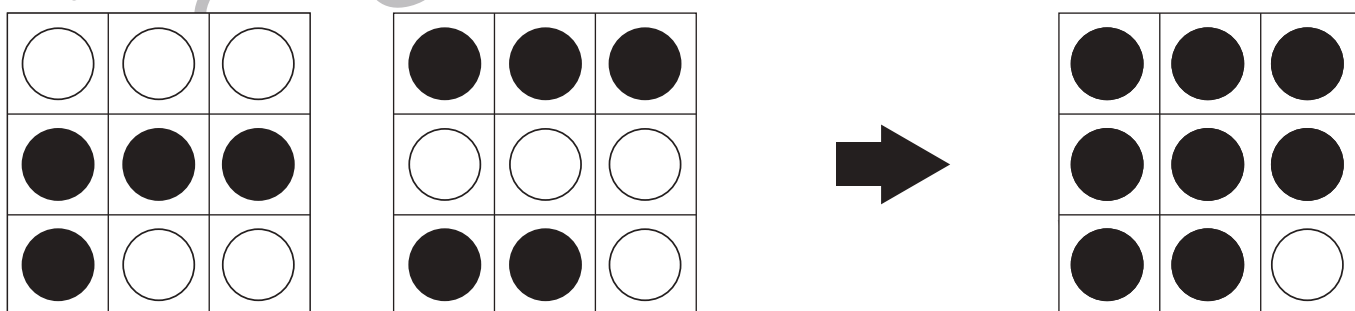


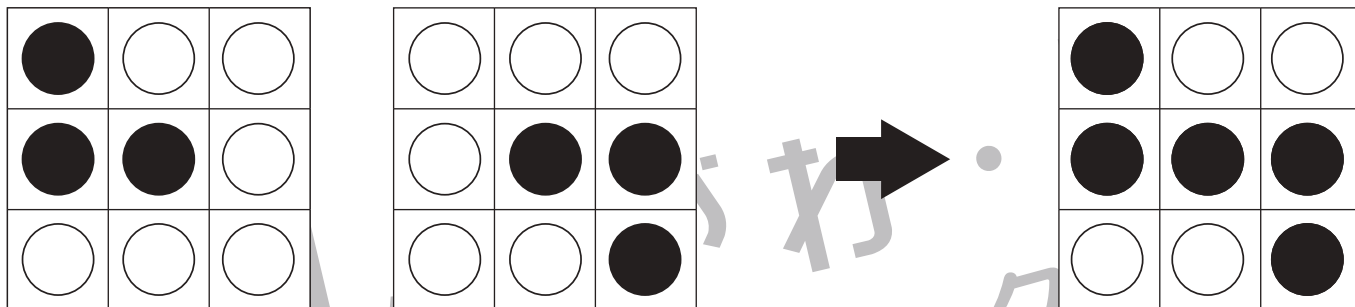


おうちで、よろう。 年中児版

Study at home. 小学校受験の家庭学習教材

図形：重ね5



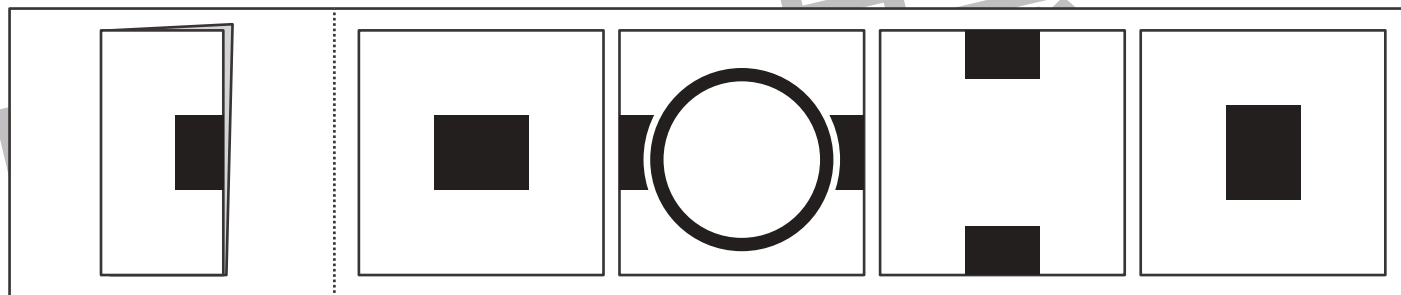
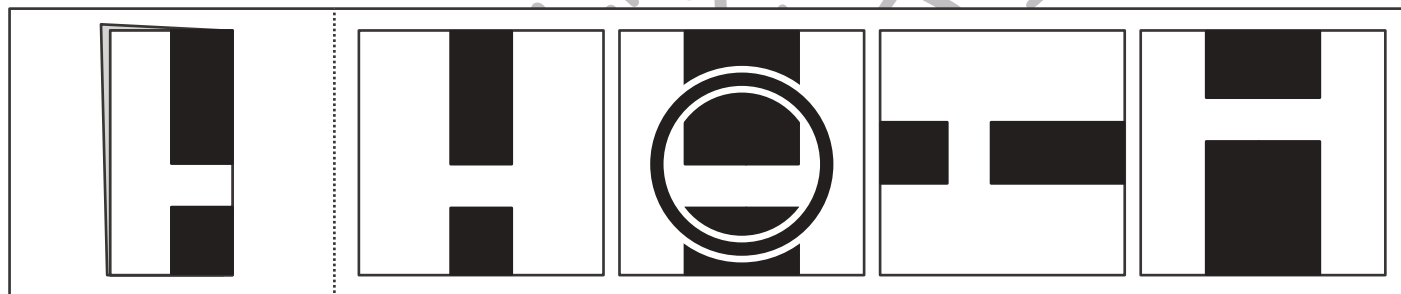
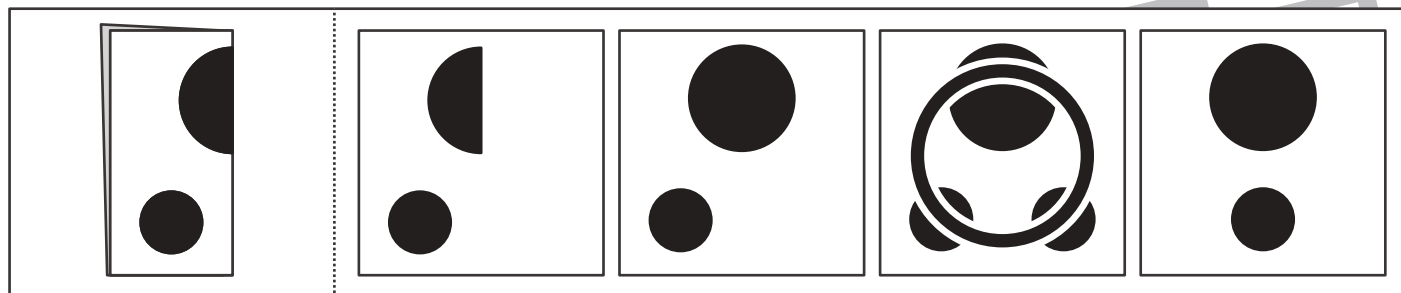
透明な板に、マスや○がかいてあります。左と真ん中の二枚を重ねた時の見え方を考えて、右の四角の中の○を塗ります。



※1. このプリントは、しながわ・目黒こどもスクールのウェブサイトでダウンロードができます。無断複写・引用はご遠慮ください。
 ※2. このプリントを活用したオンライン授業のスケジュールは、しながわ・目黒こどもスクールのウェブサイトでご確認ください。



左の四角のように紙を折り、黒い部分を切り抜いたときの様子を右の四角の中から選び、○をつけます。



※1. このプリントは、しながわ・目黒こどもスクールのウェブサイトからダウンロードできます。無断複写・引用はご遠慮ください。

※2. このプリントを活用したオンライン授業のスケジュールは、しながわ・目黒こどもスクールのウェブサイトでご確認ください。



おうちで、やろう。年中児版

Study at home. 小学校受験の家庭学習教材

推理：なぞなぞ23

①～④のなぞなぞをといて、答えの四角に絵をかきましょう。


①かんばんの なかに かくれている おおきな どうぶつは なんでしょう。

②とびながら ひかる たるは なんでしょう。

③はだけに はえている はっぱを とったら なにになるでしょう。


④はを ちりょうして くれそうな どうぶつは なんでしょう。

①



かば

②



ほたる

③



たけ

④



しか

※1. このプリントは、しながわ・目黒こどもスクールのウェブサイトダウンロードができます。無断複製・引用はご遠慮ください。

※2. このプリントを活用したオンライン授業のスケジュールは、しながわ・目黒こどもスクールのウェブサイトでご確認ください。



上下の絵を見比べて変わっているところを6つ探します。見つけたら下の絵の変わっている部分に、丸をつけます。



※1. このプリントは、しながわ・目黒こどもスクールのウェブサイトでダウンロードができます。無断複写・引用はご遠慮ください。
※2. このプリントを活用したオンライン授業のスケジュールは、しながわ・目黒こどもスクールのウェブサイトでご確認ください。

