





上下の絵を見比べて、変わっているところを6つ探します。見つけたら、下の絵の変わっている部分に丸をつけます。



ICT 教育の小学校受験

※1. このプリントは、しながわ・目黒こどもスクールのウェブサイトでダウンロードができます。無断複写・引用はご遠慮ください。
 ※2. このプリントを活用したオンライン授業のスケジュールは、しながわ・目黒こどもスクールのウェブサイトでご確認ください。








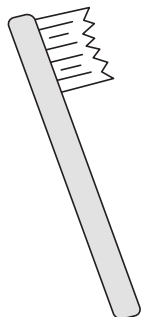


おうちで、やろう。 年中児版

Study at home. 小学校受験の家庭学習教材

言語：しりとり 8

左から順にしりとりをします。太い四角のところに何を入れると正しくしりとりが繋がりますか。
太い四角から記号を選んで、答えにその記号をかきます。



※1. このプリントは、しながわ・目黒こどもスクールのウェブサイトからダウンロードできます。無断複写・引用はご遠慮ください。
※2. このプリントを活用したオンライン授業のスケジュールは、しながわ・目黒こどもスクールのウェブサイトでご確認ください。






おうちで、やろう。 年中児版

Study at home. 小学校受験の家庭学習教材

常識：季節9

四角の中で違う季節の絵を1つつけて○をつけます。



※1. このプリントは、しながわ・目黒こどもスクールのウェブサイトでダウンロードができます。無断複写・引用はご遠慮ください。
 ※2. このプリントを活用したオンライン授業のスケジュールは、しながわ・目黒こどもスクールのウェブサイトでご確認ください。



おうちで、やろう。 年中児版 推理：ブラックボックス3

Study at home. 小学校受験の家庭学習教材

一番上の四角の中が約束です。どうぶつの箱に入ると2つ減ります。この約束で下の問題を考えます。
左にある果物が横にある、どうぶつの箱の中を通るといくつになりますか。その数だけ右の四角の中に○をかきます。

| | |
|--|----------------------|
| | |
| | $\bigcirc \times 2$ |
| | $\bigcirc \times 3$ |
| | $\bigcirc \times 6$ |
| | $\bigcirc \times 10$ |

※1. このプリントは、しながわ・目黒こどもスクールのウェブサイトからダウンロードできます。無断複写・引用はご遠慮ください。
 ※2. このプリントを活用したオンライン授業のスケジュールは、しながわ・目黒こどもスクールのウェブサイトでご確認ください。

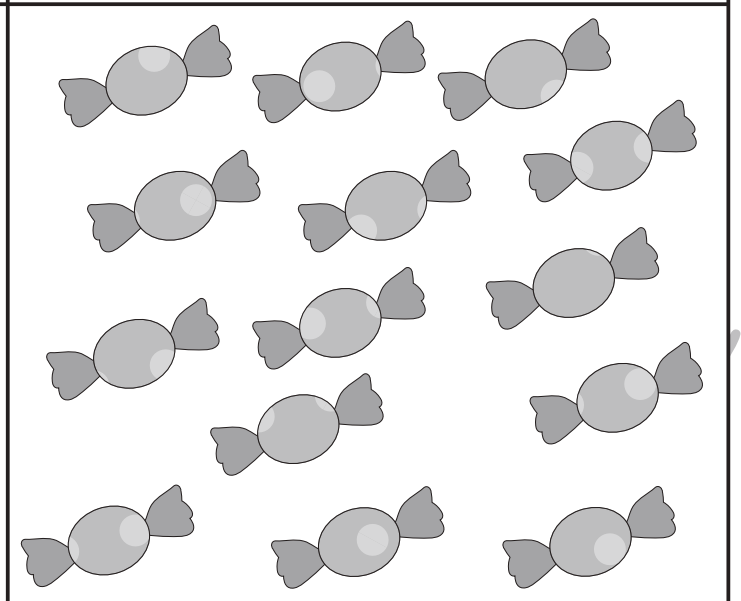


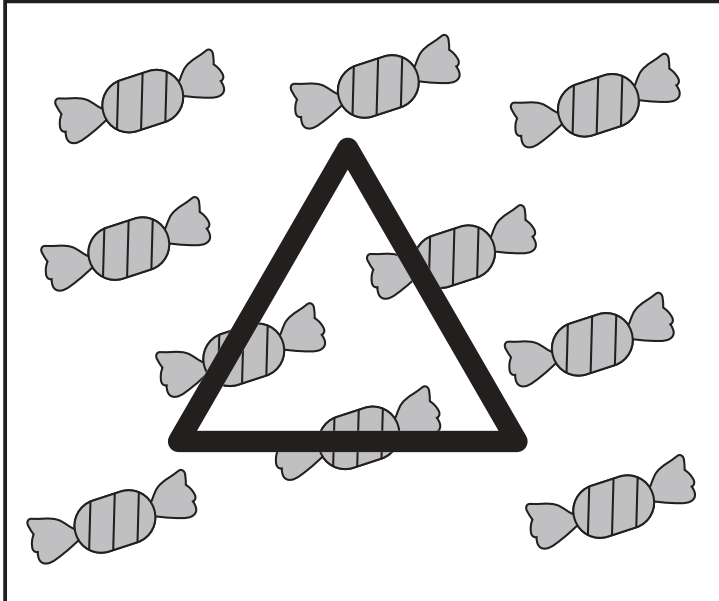

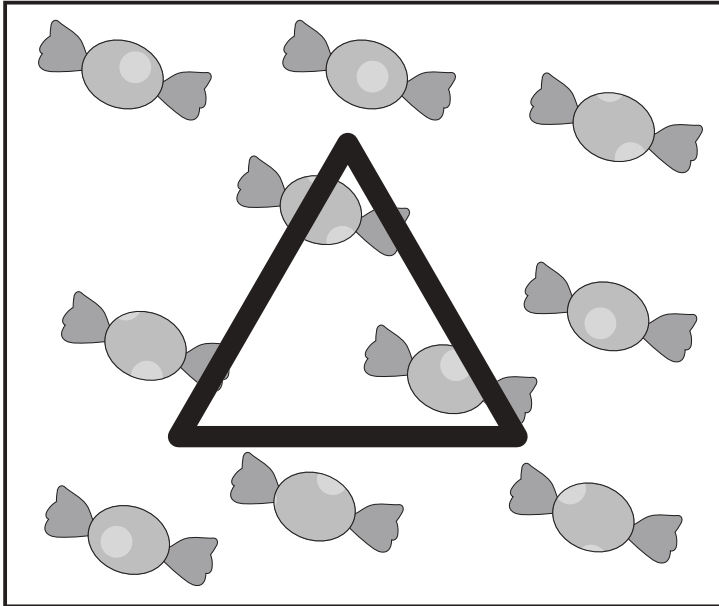


おうちで、やろう。 年中児版

Study at home. 小学校受験の家庭学習教材

数量：計数 23

下の四角の中には、いろいろなお菓子が入っています。この中で、二番目に多いものには○、一番少ないものには×、同じ数のものには△をつけます。



※1. このプリントは、しながわ・目黒こどもスクールのウェブサイトからダウンロードできます。無断複写・引用はご遠慮ください。
※2. このプリントを活用したオンライン授業のスケジュールは、しながわ・目黒こどもスクールのウェブサイトでご確認ください。






おうちで、やろう。年中児版

Study at home. 小学校受験の家庭学習教材

数量：計数 23

四角の中にある絵の中で、下の四角の横に描いてある絵と同じ絵をかぞえてその数だけ四角の中に○をかきます。



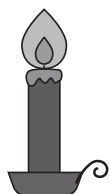
○ × 9



○ × 4



○ × 5



○ × 7

※1. このプリントは、しながわ・目黒こどもスクールのウェブサイトでダウンロードができます。無断複写・引用はご遠慮ください。
※2. このプリントを活用したオンライン授業のスケジュールは、しながわ・目黒こどもスクールのウェブサイトでご確認ください。