


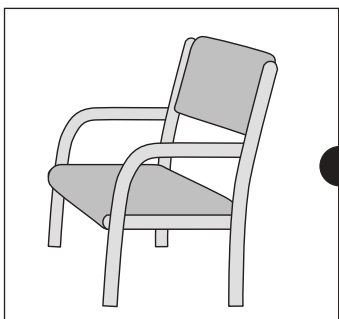


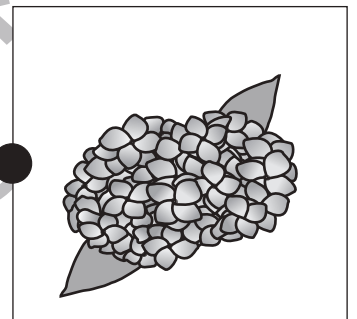
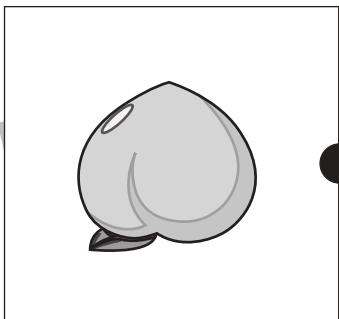

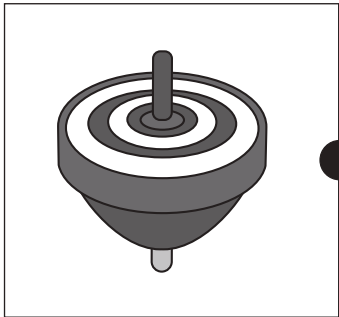




# おうちで、やろう。 年中児版

Study at home. 小学校受験の家庭学習教材

言語：音の理解 20

同じ音で終わるもの同士を線で結びましょう。



※1. このプリントは、しながわ・目黒こどもスクールのウェブサイトでダウンロードができます。無断複写・引用はご遠慮ください。  
※2. このプリントを活用したオンライン授業のスケジュールは、しながわ・目黒こどもスクールのウェブサイトでご確認ください。





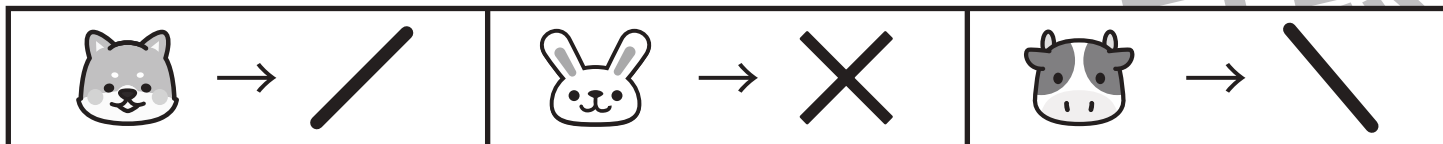


# おうちで、やろう。 年中児版

Study at home. 小学校受験の家庭学習教材

処理能力：置き換え 6

上の太い四角の中がお約束です。下の四角にそれぞれの記号を鉛筆で描きます。左上から矢印の方向へ進み、右端まできたら次の段の左から右へと順番に進みます。



※1. このプリントは、しながわ・目黒こどもスクールのウェブサイトでダウンロードができます。無断複写・引用はご遠慮ください。  
 ※2. このプリントを活用したオンライン授業のスケジュールは、しながわ・目黒こどもスクールのウェブサイトでご確認ください。

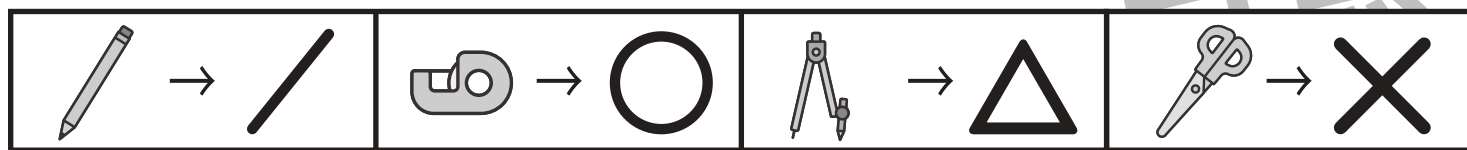








# おうちで、やろう。 年中児版







Study at home. 小学校受験の家庭学習教材







## 処理能力：置き換え6

上の太い四角の中がお約束です。下の四角にそれぞれの記号をかきます。問題は左上から矢印の方向へ進み、右端まできたら次の段の左から右へと順番に進みます。



※1. このプリントは、しながわ・目黒こどもスクールのウェブサイトでダウンロードができます。無断複写・引用はご遠慮ください。  
 ※2. このプリントを活用したオンライン授業のスケジュールは、しながわ・目黒こどもスクールのウェブサイトでご確認ください。





透明な板に、絵がかいてあります。矢印の左にある二枚の板をかさねた時の見え方を考えて、右の四角の中に線をかきます。

		➔	
		➔	
		➔	
		➔	

※1. このプリントは、しながわ・目黒こどもスクールのウェブサイトでダウンロードができます。無断複写・引用はご遠慮ください。  
 ※2. このプリントを活用したオンライン授業のスケジュールは、しながわ・目黒こどもスクールのウェブサイトでご確認ください。



上下の絵を見比べて、変わっているところを6つ探します。見つけたら、下の絵の変わっている部分に丸をつけます。



ICT教育の小学校受験

※1. このプリントは、しながわ・目黒こどもスクールのウェブサイトでダウンロードができます。無断複写・引用はご遠慮ください。

※2. このプリントを活用したオンライン授業のスケジュールは、しながわ・目黒こどもスクールのウェブサイトでご確認ください。



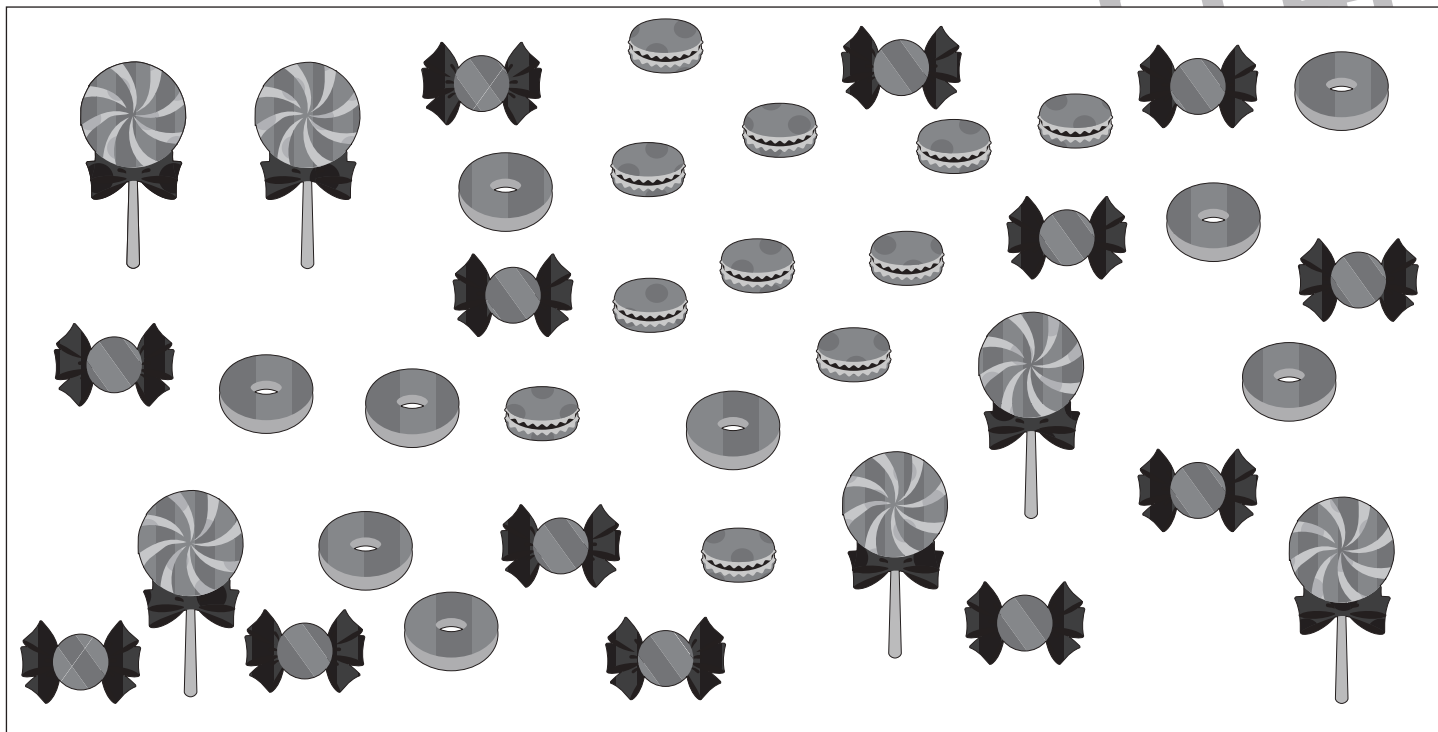



# おうちで、やろう。

Study at home. 小学校受験の家庭学習教材

数量：違いの数 1


上の四角の中の絵をかぞえて、絵の隣にある四角にその数だけ〇をかきます。また、二つの絵がかいてある太い四角の中には、その絵の違いの数だけ△をかきます。



し 







※1. このプリントは、しながわ・目黒こどもスクールのウェブサイトでダウンロードができます。無断複写・引用はご遠慮ください。  
※2. このプリントを活用したオンライン授業のスケジュールは、しながわ・目黒こどもスクールのウェブサイトでご確認ください。



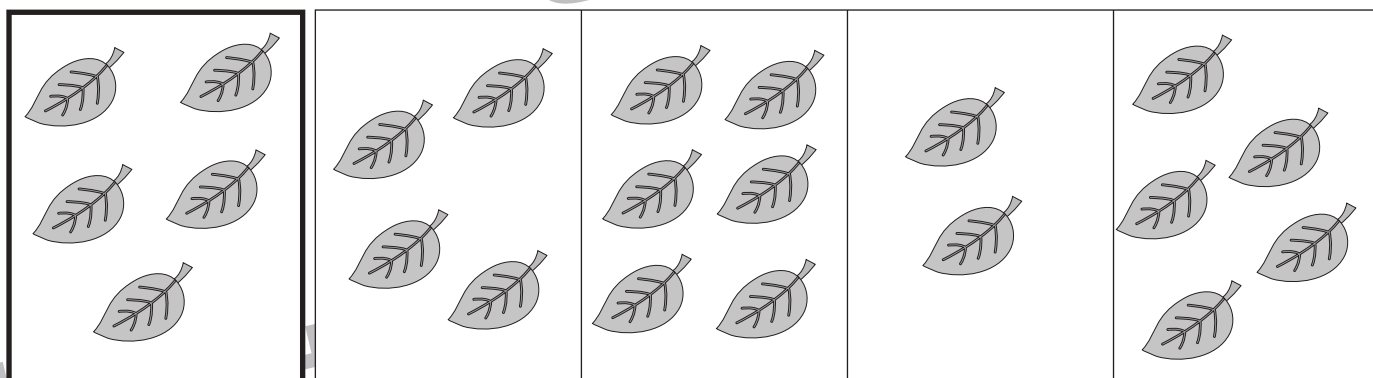



# おうちで、やろう。

Study at home. 小学校受験の家庭学習教材

数量：合わせた数7

左の太い四角の中の物を10個にします。右の4つの四角のうち左の四角の中の絵と合わせて10個になる物を1つ選んで○をつけます。



※1. このプリントは、しながわ・目黒こどもスクールのウェブサイトでダウンロードができます。無断複写・引用はご遠慮ください。

※2. このプリントを活用したオンライン授業のスケジュールは、しながわ・目黒こどもスクールのウェブサイトでご確認ください。



# おうちで、やろう。 年中児版

Study at home. 小学校受験の家庭学習教材

絵画：条件画 24

下の形を使って絵をかきます。点線は必要な色でなぞりましょう。紙の向きは自由です。

