



同じ音で終わるもの同士を線で結びましょう。

※1. このプリントは、しながわ・目黒こどもスクールのウェブサイトでダウンロードができます。無断複写・引用はご遠慮ください。

※2. このプリントを活用したオンライン授業のスケジュールは、しながわ・目黒こどもスクールのウェブサイトでご確認ください。



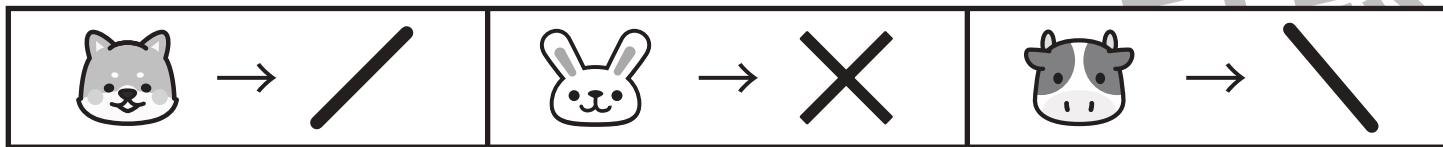


おうちで、やろう。 年中児版

Study at home. 小学校受験の家庭学習教材

処理能力：置き換え6

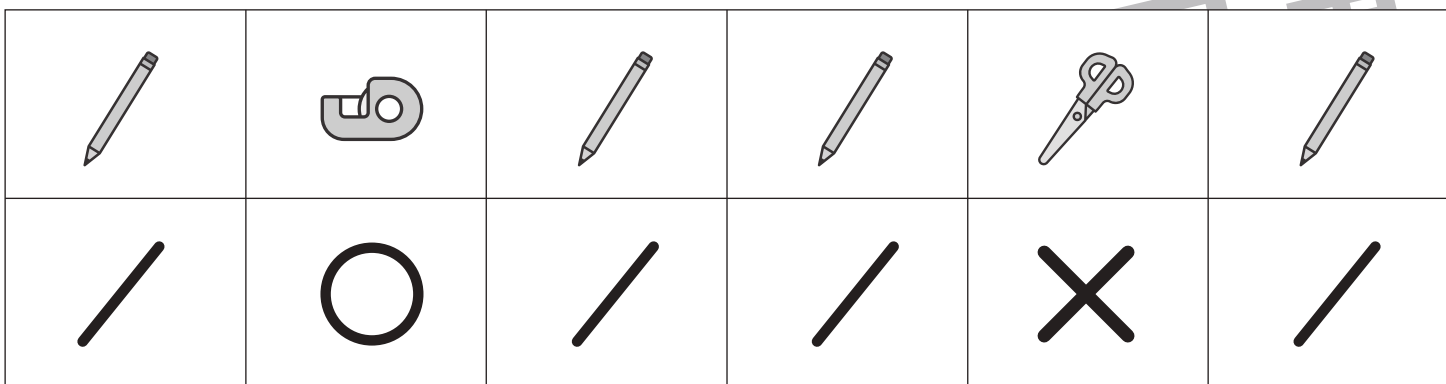
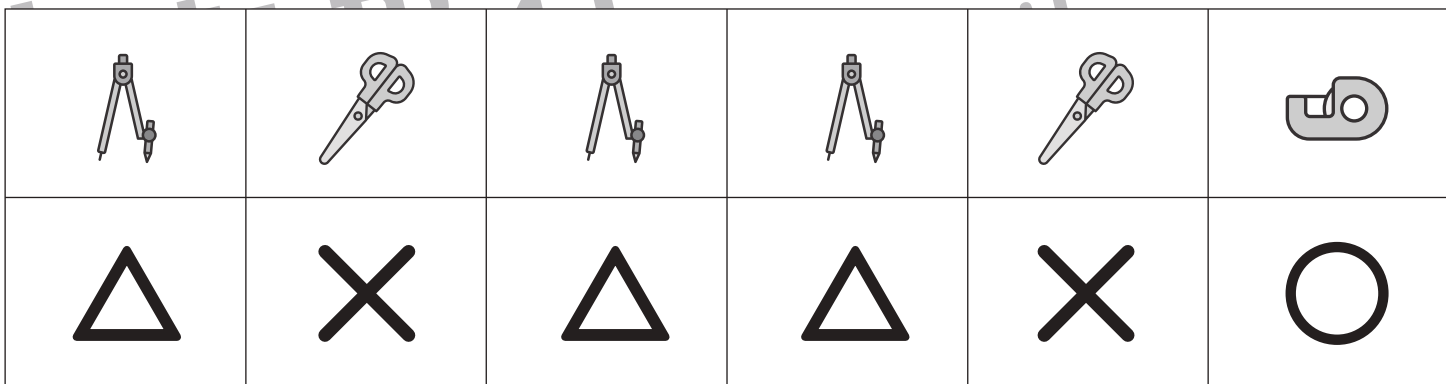

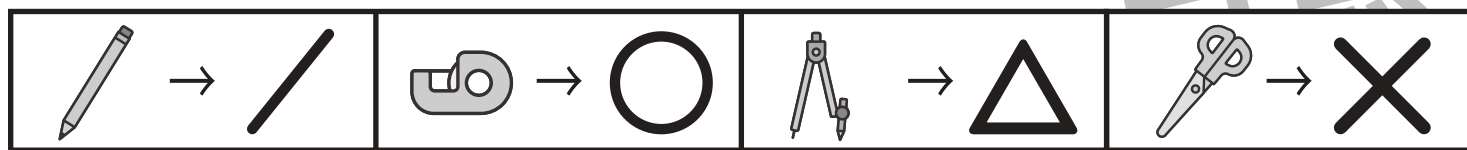
上の太い四角の中がお約束です。下の四角にそれぞれの記号を鉛筆で描きます。左上から矢印の方向へ進み、右端まできたら次の段の左から右へと順番に進みます。



※1. このプリントは、しながわ・目黒こどもスクールのウェブサイトでダウンロードができます。無断複写・引用はご遠慮ください。
 ※2. このプリントを活用したオンライン授業のスケジュールは、しながわ・目黒こどもスクールのウェブサイトでご確認ください。



上の太い四角の中がお約束です。下の四角にそれぞれの記号をかきます。問題は左上から矢印の方向へ進み、右端まできたら次の段の左から右へと順番に進みます。

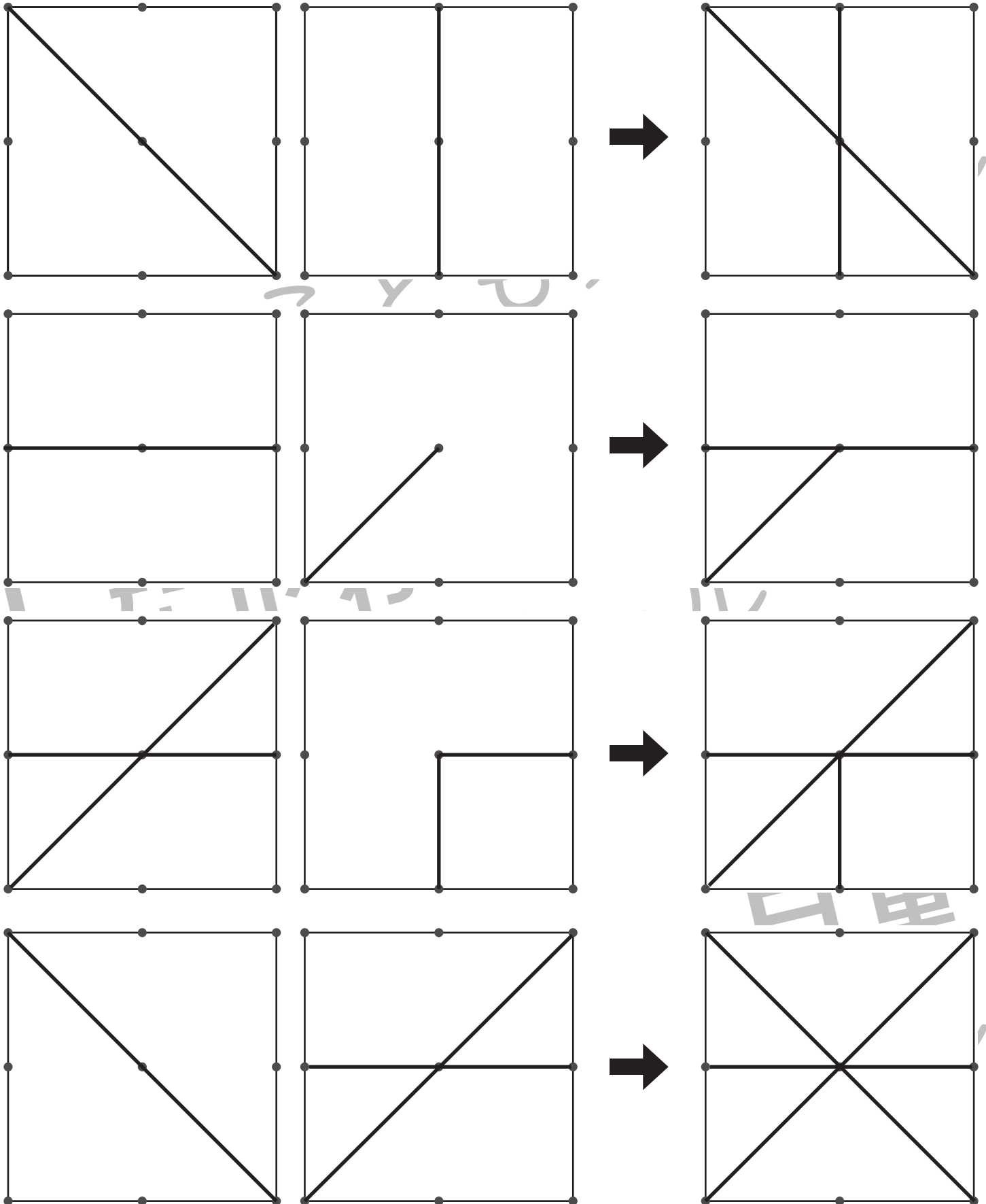


※1. このプリントは、しながわ・目黒こどもスクールのウェブサイトダウンロードできます。無断複写・引用はご遠慮ください。

※2. このプリントを活用したオンライン授業のスケジュールは、しながわ・目黒こどもスクールのウェブサイトでご確認ください。



透明な板に、絵がかいてあります。矢印の左にある二枚の板をかさねた時の見え方を考えて、右の四角の中に線をかきます。



※1. このプリントは、しながわ・目黒こどもスクールのウェブサイトダウンロードができます。無断複写・引用はご遠慮ください。

※2. このプリントを活用したオンライン授業のスケジュールは、しながわ・目黒こどもスクールのウェブサイトでご確認ください。





おうちで、やろう。 年中児版

Study at home. 小学校受験の家庭学習教材

まちがいさがし 24

上下の絵を見比べて、変わっているところを6つ探します。見つけたら、下の絵の変わっている部分に丸をつけます。



ICT 教育の小学校受験

※1. このプリントは、しながわ・目黒こどもスクールのウェブサイトでダウンロードができます。無断複写・引用はご遠慮ください。
※2. このプリントを活用したオンライン授業のスケジュールは、しながわ・目黒こどもスクールのウェブサイトでご確認ください。






おうちで、やろう。

Study at home. 小学校受験の家庭学習教材

数量：違いの数 1

上の四角の中の絵をかぞえて、絵の隣にある四角にその数だけ〇をかきます。また、二つの絵がかいてある太い四角の中には、その絵の違いの数だけ△をかきます。



	<input type="text"/>	$\bigcirc \times 11$
--	----------------------	----------------------

	<input type="text"/>	$\bigcirc \times 9$
--	----------------------	---------------------

	<input type="text"/>	$\triangle \times 2$
--	----------------------	----------------------

	<input type="text"/>	$\bigcirc \times 6$
--	----------------------	---------------------

	<input type="text"/>	$\bigcirc \times 13$
--	----------------------	----------------------

	<input type="text"/>	$\triangle \times 7$
--	----------------------	----------------------

※1. このプリントは、しながわ・目黒こどもスクールのウェブサイトからダウンロードできます。無断複写・引用はご遠慮ください。
 ※2. このプリントを活用したオンライン授業のスケジュールは、しながわ・目黒こどもスクールのウェブサイトでご確認ください。



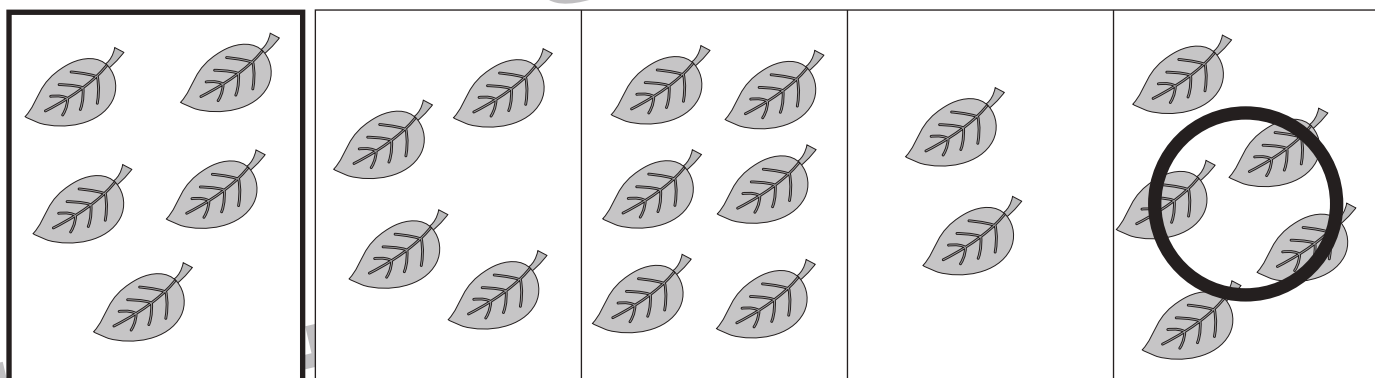



おうちで、やろう。

Study at home. 小学校受験の家庭学習教材

数量：合わせた数7

左の太い四角の中の物を10個にします。右の4つの四角のうち左の四角の中の絵と合わせて10個になる物を1つ選んで○をつけます。



※1. このプリントは、しながわ・目黒こどもスクールのウェブサイトでダウンロードができます。無断複写・引用はご遠慮ください。

※2. このプリントを活用したオンライン授業のスケジュールは、しながわ・目黒こどもスクールのウェブサイトでご確認ください。