

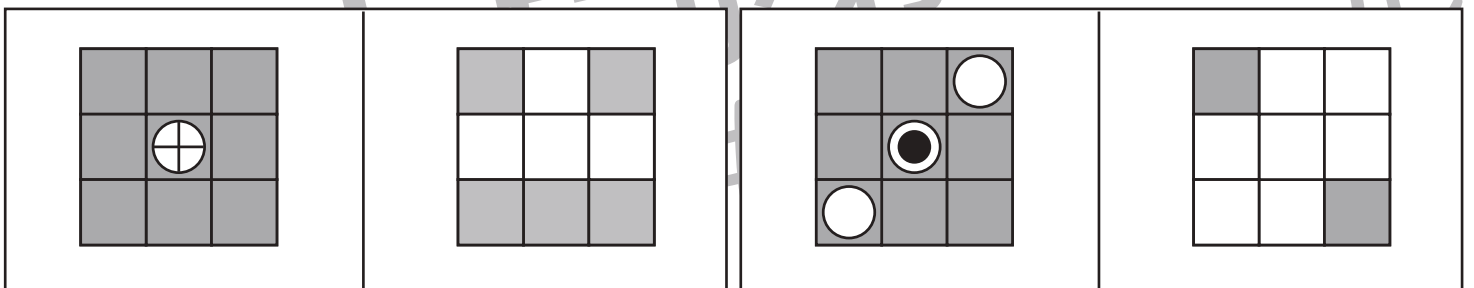
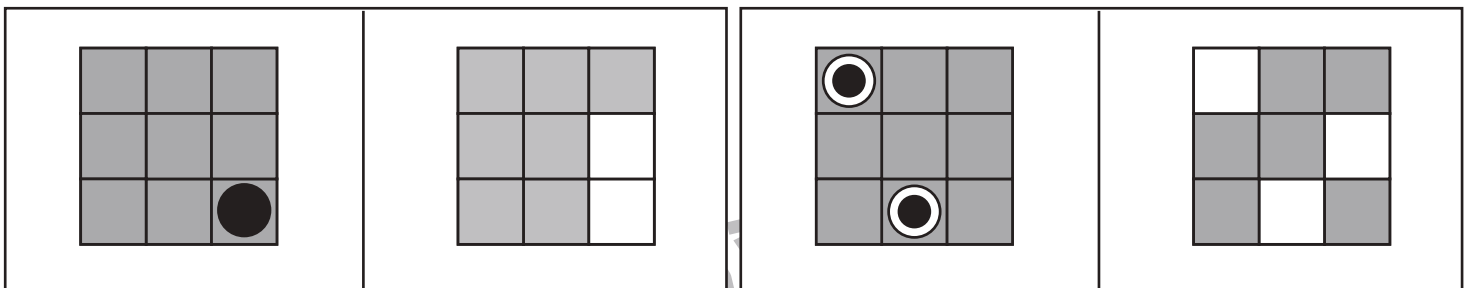
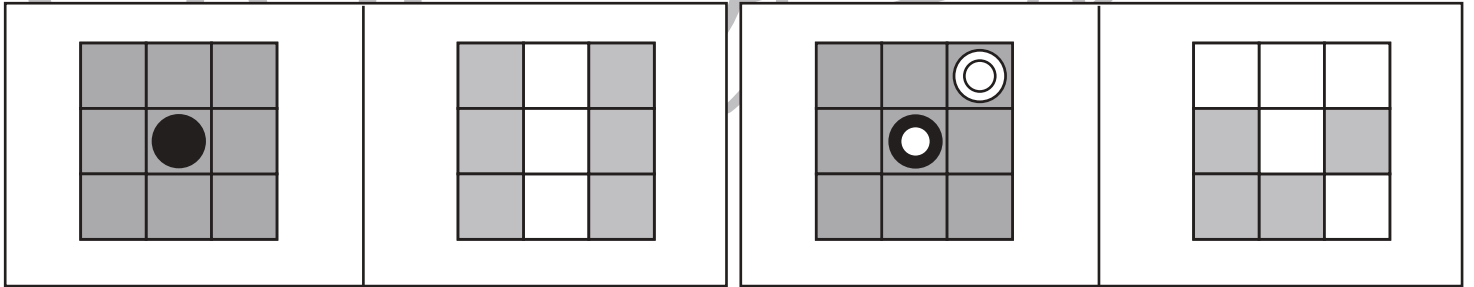
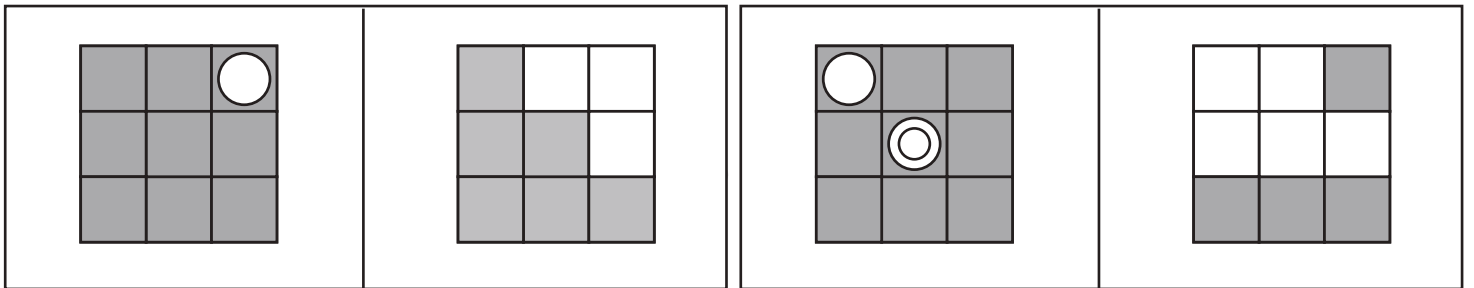
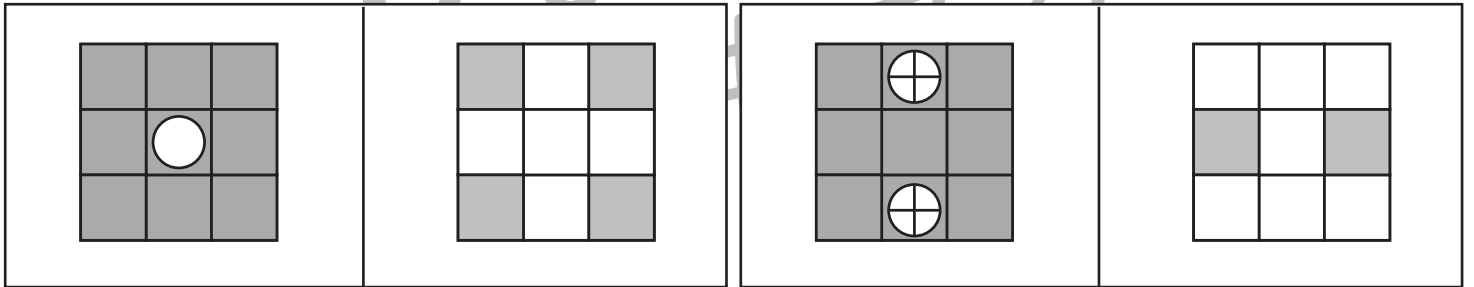
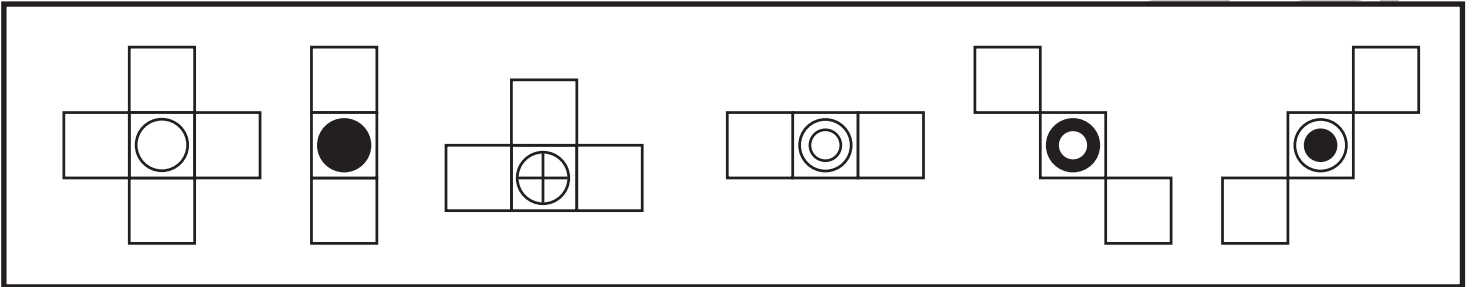


おうちで、よろう。

Study at home. 小学校受験の家庭学習教材

図形：構成 46

上の太い四角の中が約束です。それぞれの形を縦、横3マスずつある灰色の四角にマークが合うように向きを変えずにそのまま置きます。お手本の形は白なので灰色のマスのまに置くと白いマスに変わります。それぞれの形を灰色のマスのまに置いたあと、マスの色を考えて右の四角に灰色になるマスを塗ります。



※1. このプリントは、しながわ・目黒こどもスクールのウェブサイトでダウンロードができます。無断複写・引用はご遠慮ください。
※2. このプリントを活用したオンライン授業のスケジュールは、しながわ・目黒こどもスクールのウェブサイトでご確認ください。



おうちで、やろう。

Study at home. 小学校受験の家庭学習教材

図形：回転重ね 11

2枚の四角は透明です。上の四角の角にある丸が下の四角の角にある丸に重なるように回転させてからから重ねます。2枚を重ねた後の見え方を考えて下の四角に模様をかきます。

※1. このプリントは、しながわ・目黒こどもスクールのウェブサイトでダウンロードができます。無断複写・引用はご遠慮ください。

※2. このプリントを活用したオンライン授業のスケジュールは、しながわ・目黒こどもスクールのウェブサイトでご確認ください。



おうちで、やろう。

Study at home. 小学校受験の家庭学習教材

図形：回転重ね 12

2枚の四角は透明です。上の四角の角にある丸が下の四角の角にある丸に重なるように回転させてからから重ねます。2枚を重ねた後の見え方を考えて下の四角に模様をかきます。

※1. このプリントは、しながわ・目黒こどもスクールのウェブサイトでダウンロードができます。無断複写・引用はご遠慮ください。

※2. このプリントを活用したオンライン授業のスケジュールは、しながわ・目黒こどもスクールのウェブサイトでご確認ください。



おうちで、やろう。

Study at home. 小学校受験の家庭学習教材

図形：回転重ね 13

2枚の四角は透明です。上の四角の角にある丸が下の四角の角にある丸に重なるように回転させてからから重ねます。2枚を重ねた後の見え方を考えて下の四角に模様をかきます。

※1. このプリントは、しながわ・目黒こどもスクールのウェブサイトでダウンロードができます。無断複写・引用はご遠慮ください。

※2. このプリントを活用したオンライン授業のスケジュールは、しながわ・目黒こどもスクールのウェブサイトでご確認ください。




おうちで、やろう。

Study at home. 小学校受験の家庭学習教材

推理：左右 9

この渦巻きは真ん中から描き始めてつくりました。左上の太い枠の中の渦巻きのように、真ん中から時計と反対回りに描いてつくられた渦巻きをすべて見つけて○をつけましょう。 ※回り方がわからないときは【左回り】と説明してください。



※1. このプリントは、しながわ・目黒こどもスクールのウェブサイトからダウンロードできます。無断複写・引用はご遠慮ください。
※2. このプリントを活用したオンライン授業のスケジュールは、しながわ・目黒こどもスクールのウェブサイトでご確認ください。




おうちで、やろう。

Study at home. 小学校受験の家庭学習教材

推理：左右 10

右手を挙げている人に○をつけます。

左手だけに何かを持っている人に×をつけます。



※1. このプリントは、しながわ・目黒こどもスクールのウェブサイトからダウンロードできます。無断複写・引用はご遠慮ください。

※2. このプリントを活用したオンライン授業のスケジュールは、しながわ・目黒こどもスクールのウェブサイトでご確認ください。

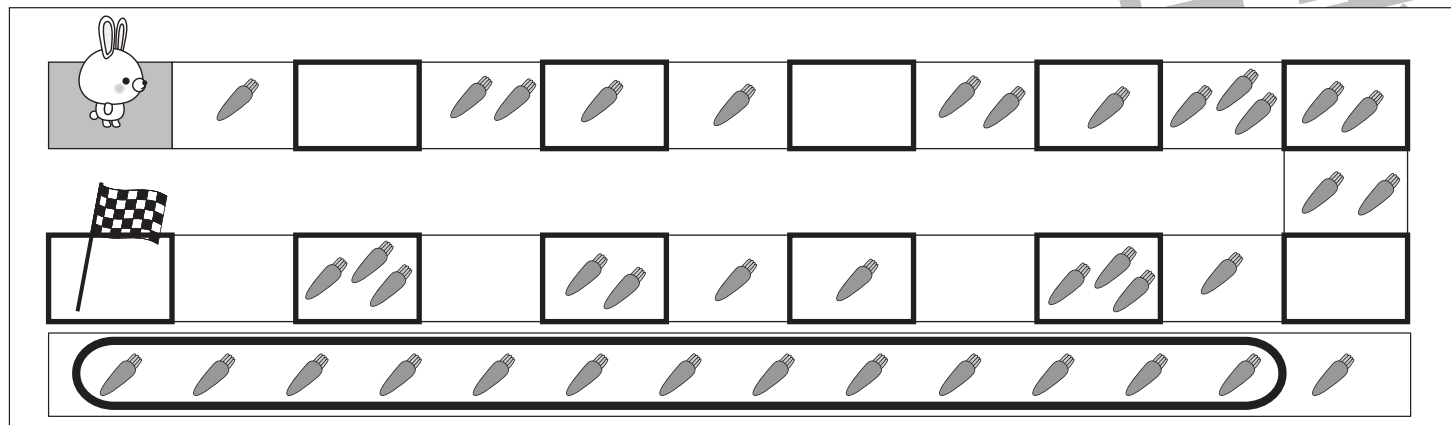
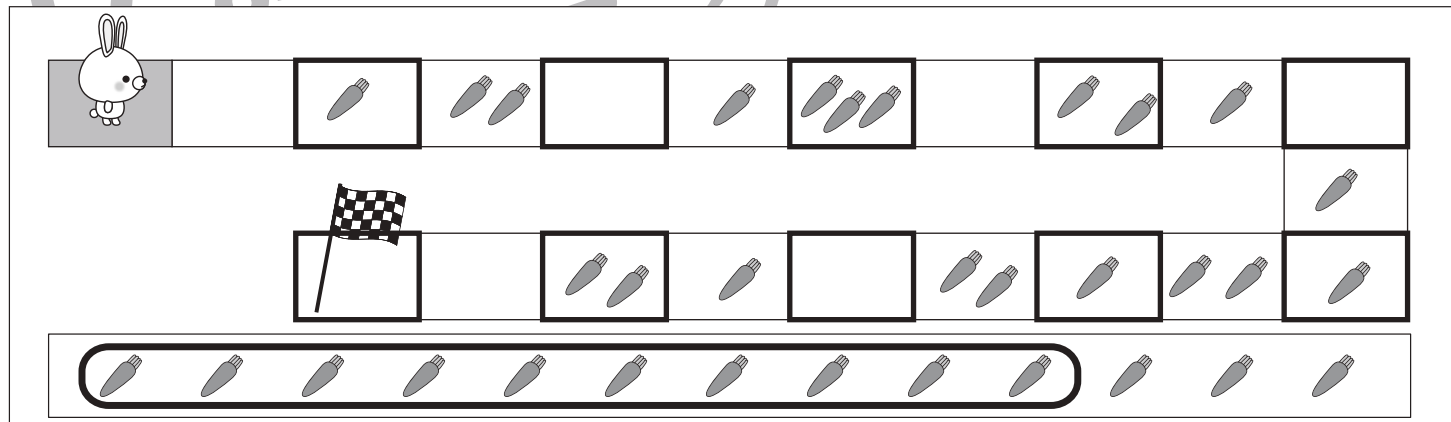
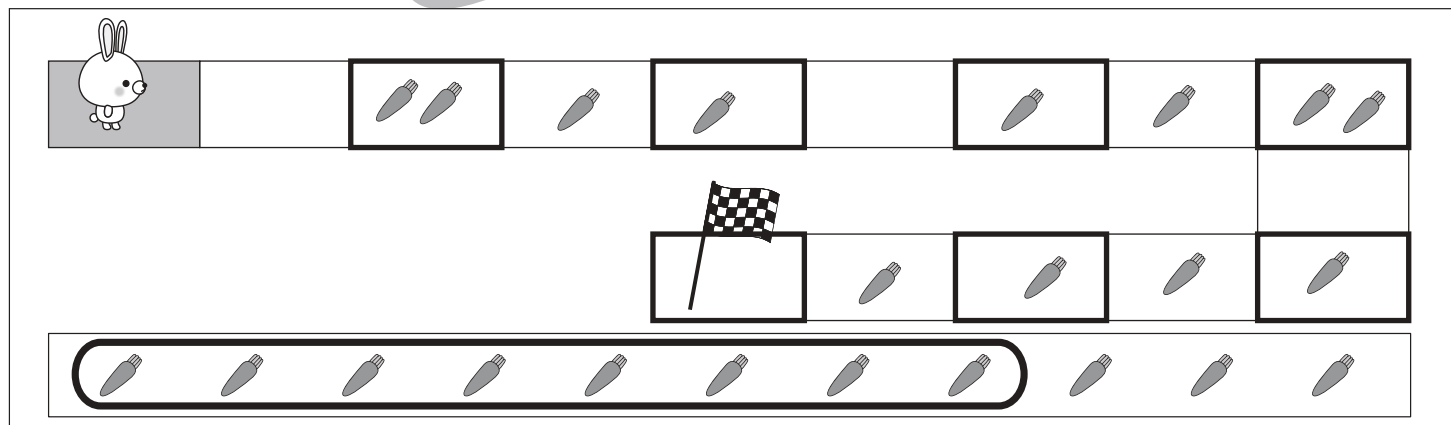
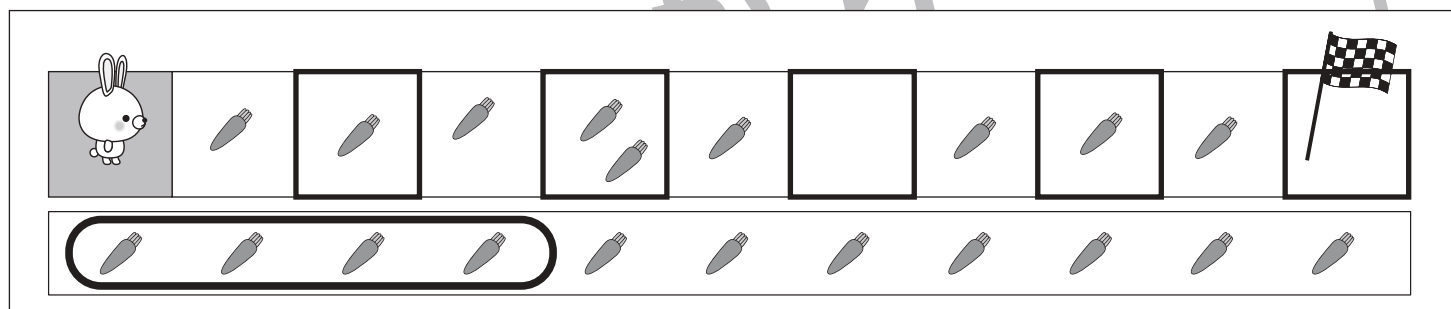



おうちで、やろう。

Study at home. 小学校受験の家庭学習教材

数量：条件推理 20

上の太い四角の中が約束です。ウサギはマスを進むとき、1マスとばしてジャンプして進みます。この約束で進み、止まったマスのニンジンを集めてゴールの旗まで行きます。ゴールに着いたときニンジンはいくつ集めましたか。集めた数だけ下の四角のニンジンを見ます。



※1. このプリントは、しながわ・目黒こどもスクールのウェブサイトでダウンロードができます。無断複写・引用はご遠慮ください。

※2. このプリントを活用したオンライン授業のスケジュールは、しながわ・目黒こどもスクールのウェブサイトでご確認ください。

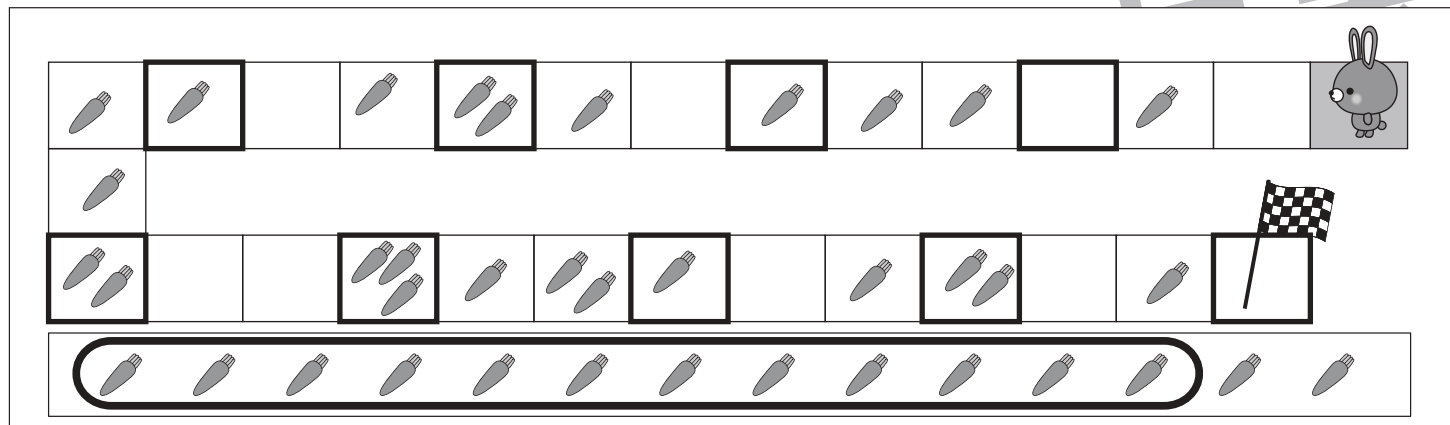
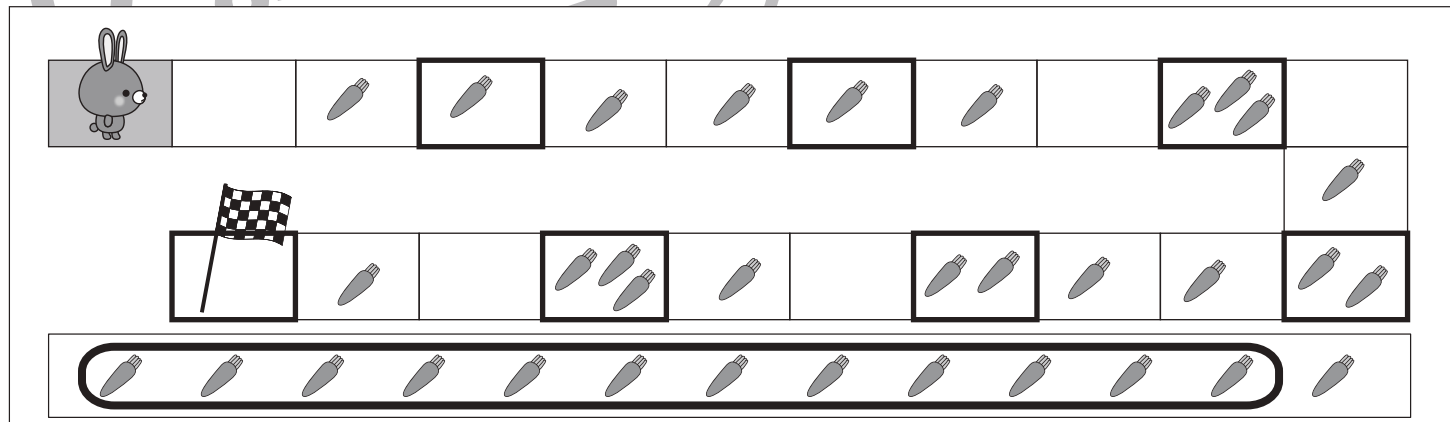
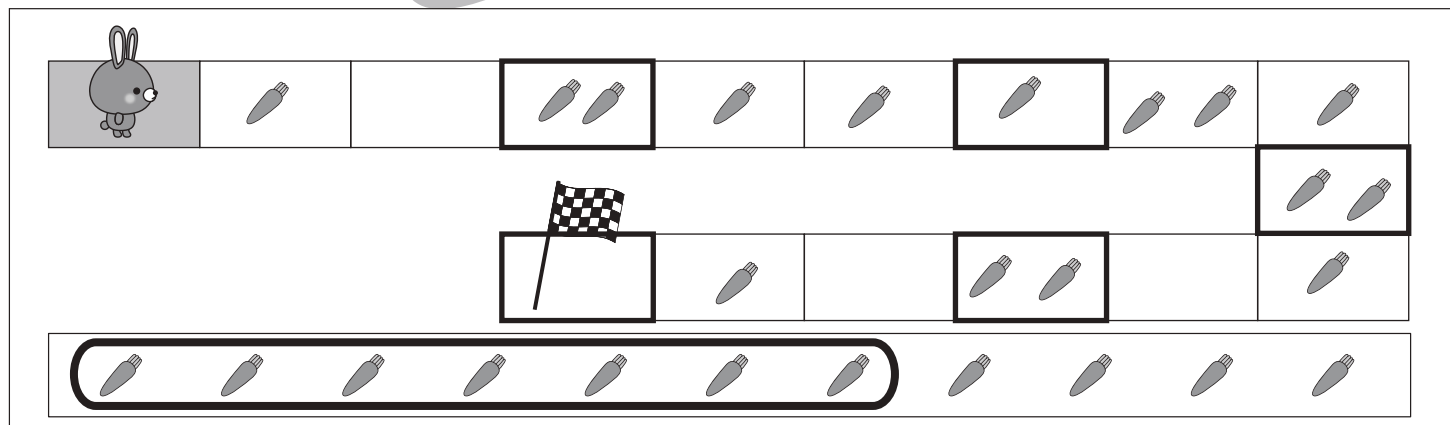
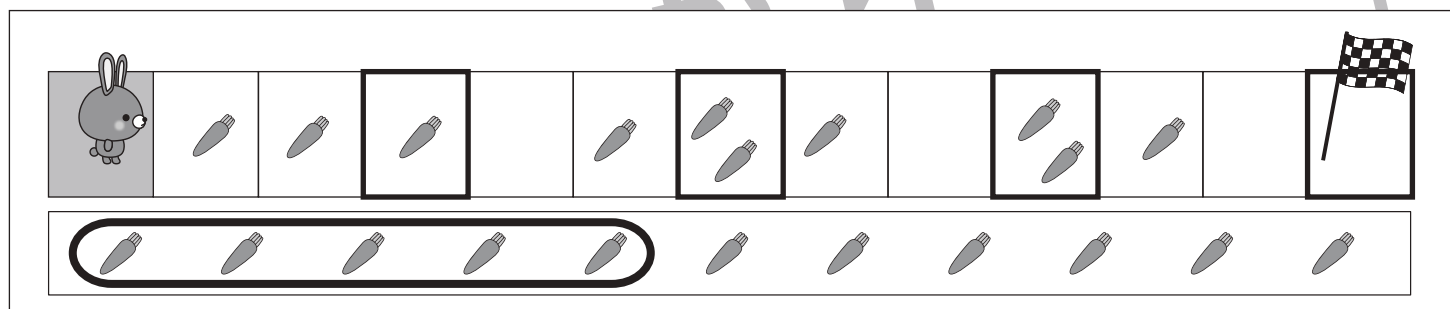
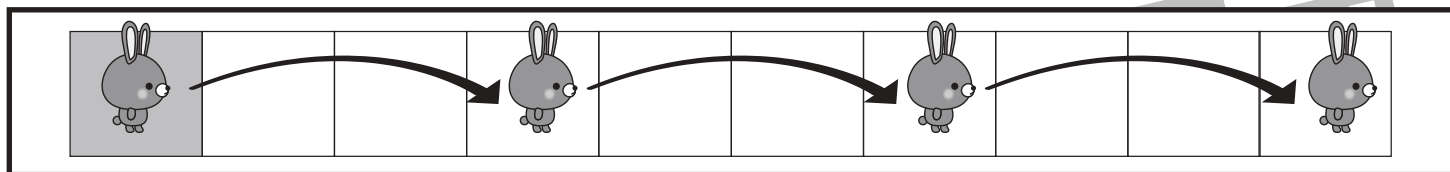


おうちで、やろう。

Study at home. 小学校受験の家庭学習教材

数量：条件推理 21

上の太い四角の中が約束です。ウサギはマスを進むとき、2マスとばしてジャンプして進みます。この約束で進み、止まったマスのニンジンを集めてゴールの旗まで行きます。ゴールに着いたときニンジンはいくつ集めましたか。集めた数だけ下の四角のニンジンを集めます。



※1. このプリントは、しながわ・目黒こどもスクールのウェブサイトでダウンロードができます。無断複写・引用はご遠慮ください。

※2. このプリントを活用したオンライン授業のスケジュールは、しながわ・目黒こどもスクールのウェブサイトでご確認ください。