




おうちで、やろう。

Study at home. 小学校受験の家庭学習教材

推理：順位付け5


下の四角の中で、身長が二番目に高い人に○をつけ、二番目に低い人に□をつけましょう。



下の四角の中で、年齢が一番上の人に○、一番下の人に□をつけます。



下の四角の中で、人数が一番多いグループに○、二番目に多いグループに□をつけます。



※1. このプリントは、しながわ・目黒こどもスクールのウェブサイトでダウンロードができます。無断複写・引用はご遠慮ください。
※2. このプリントを活用したオンライン授業のスケジュールは、しながわ・目黒こどもスクールのウェブサイトでご確認ください。










おうちで、やろう。

Study at home. 小学校受験の家庭学習教材

推理：水量 18

それぞれの四角の中のコップには水が入っています。

それぞれのコップの水を満タンにしたとき、入れた水の量が2番目に多いコップに○をつけます。



※1. このプリントは、しながわ・目黒こどもスクールのウェブサイトでダウンロードができます。無断複写・引用はご遠慮ください。

※2. このプリントを活用したオンライン授業のスケジュールは、しながわ・目黒こどもスクールのウェブサイトでご確認ください。








おうちで、やろう。

Study at home. 小学校受験の家庭学習教材

推理：水量 19

それぞれの四角の中のコップには水が入っています。

それぞれのコップの水を満タンにしたとき、入れた水の量が一番少ないコップに○をつけます。



※1. このプリントは、しながわ・目黒こどもスクールのウェブサイトからダウンロードできます。無断複写・引用はご遠慮ください。

※2. このプリントを活用したオンライン授業のスケジュールは、しながわ・目黒こどもスクールのウェブサイトでご確認ください。








おうちで、やろう。

Study at home. 小学校受験の家庭学習教材

推理：水量 20

それぞれの四角の中のコップには水が入っています。

それぞれのコップの水を満タンにしたとき、入れた水の量が3番目に多いコップに○をつけます。



※1. このプリントは、しながわ・目黒こどもスクールのウェブサイトでダウンロードができます。無断複写・引用はご遠慮ください。

※2. このプリントを活用したオンライン授業のスケジュールは、しながわ・目黒こどもスクールのウェブサイトでご確認ください。



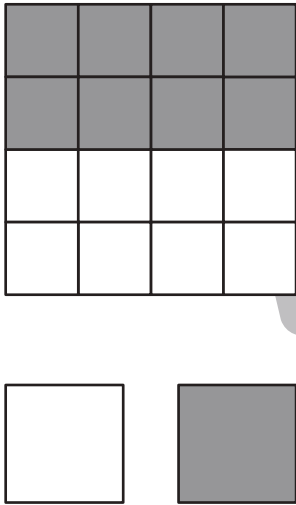
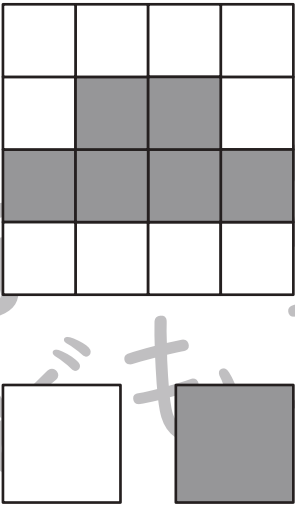
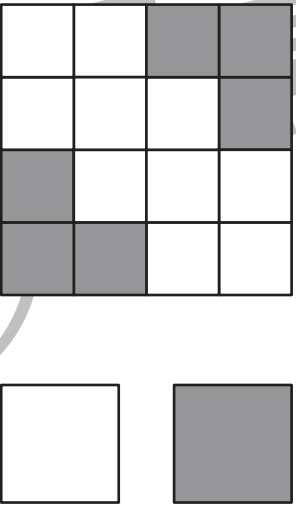
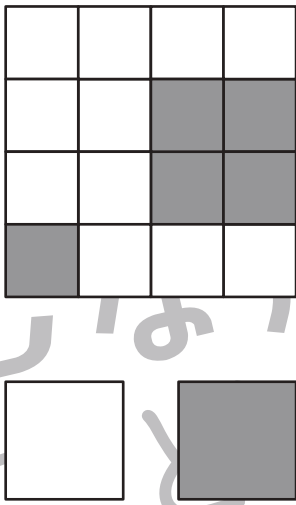
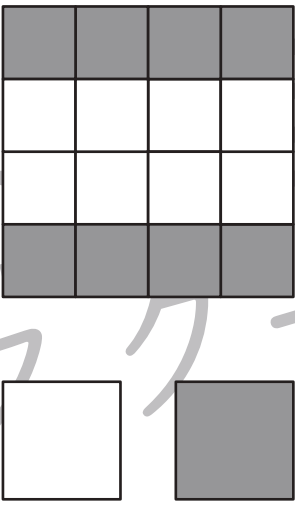
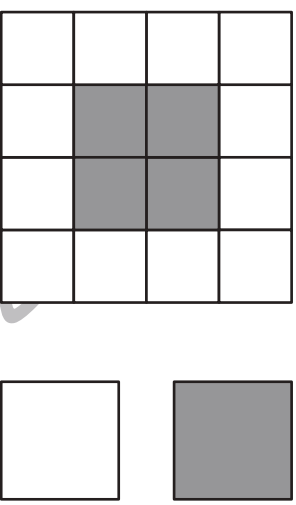
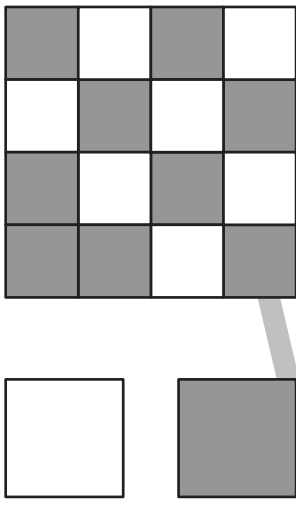
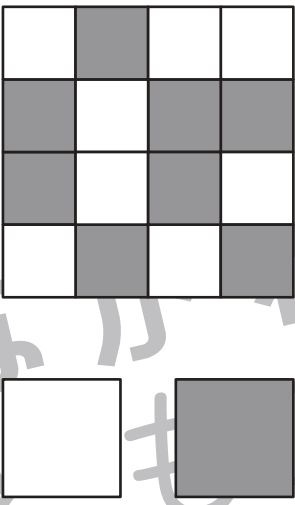
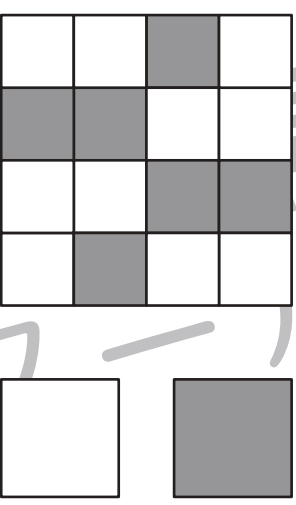


おうちで、やろう。

Study at home. 小学校受験の家庭学習教材

数量：広さ 17

それぞれの四角の白い部分と灰色の部分の広さを比べます。広い方を考えて下のマスに○をつけます。同じ広さの場合は両方とも○をつけます。

※1. このプリントは、しながわ・目黒こどもスクールのウェブサイトでダウンロードができます。無断複写・引用はご遠慮ください。

※2. このプリントを活用したオンライン授業のスケジュールは、しながわ・目黒こどもスクールのウェブサイトでご確認ください。



おうちで、やろう。

Study at home. 小学校受験の家庭学習教材

数量：的あてゲーム5

今から、それぞれの的にボールを当てる的当てをします。的は当たったものによって得点が違います。春のものは3点、夏のもの4点、秋のものは2点、冬のもの1点とします。①～④の問題に答えましょう。

- ①「春のもの」と「夏のもの」の的にボールを当てたとき、何点になりますか。その数だけ○をかきましょう。
- ②「秋のもの」と「冬のもの」の的にボールを当てたとき、何点になりますか。その数だけ△をかきましょう。
- ③「春のもの」と「冬のもの」と「夏のもの」の的にボールを当てたとき、何点になりますか。その数だけ□をかきましょう。
- ④全ての的にボールを当てたとき、何点になりますか。ただし、「春のもの」の点数はいれません。その数だけ○をかきましょう。



①

②

③

④

※1. このプリントは、しながわ・目黒こどもスクールのウェブサイトでダウンロードができます。無断複写・引用はご遠慮ください。
 ※2. このプリントを活用したオンライン授業のスケジュールは、しながわ・目黒こどもスクールのウェブサイトでご確認ください。



おうちで、やろう。

Study at home. 小学校受験の家庭学習教材

数量：同数 31

上の虫の数をかぞえます。

それぞれの虫の数とおはなの数が同じ四角をみつけて、それぞれの虫の四角の左上にある記号をつけます。

※1. このプリントは、しながわ・目黒こどもスクールのウェブサイトでダウンロードができます。無断複写・引用はご遠慮ください。

※2. このプリントを活用したオンライン授業のスケジュールは、しながわ・目黒こどもスクールのウェブサイトでご確認ください。



おうちで、やろう。

Study at home. 小学校受験の家庭学習教材

数量：複合 7

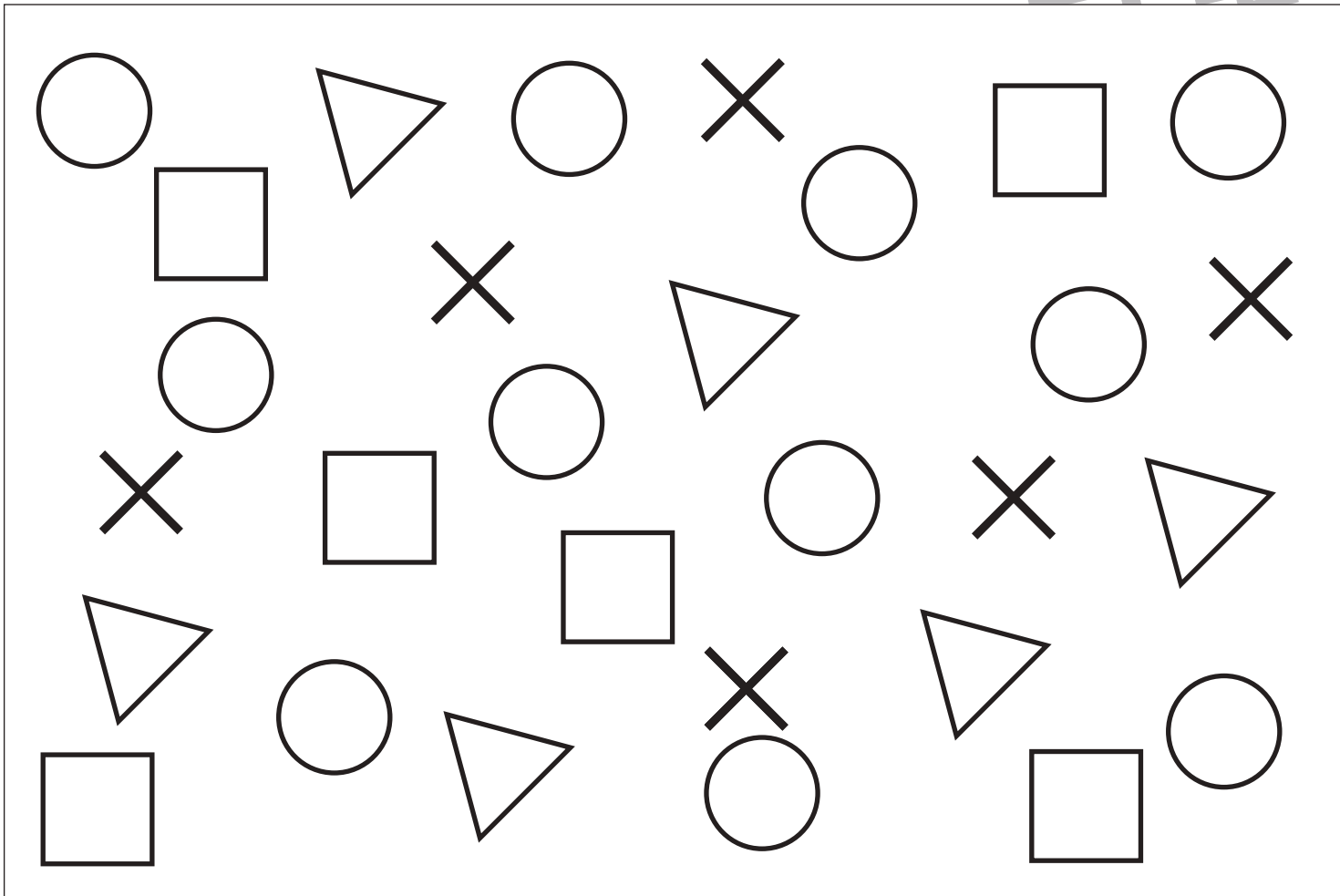
上の大きな四角を見て①～④の問題を聞いて取り組みます。

①○の数をかぞえてその数だけ○をかきます。

②△の数をかぞえてその数より3つ多い数だけ△をかきます。

③□の数をかぞえてその数より4つ少ない数だけ□をかきます。

④○と×の数の違いはいくつですか。その数だけ○をかきます。



①

②

③

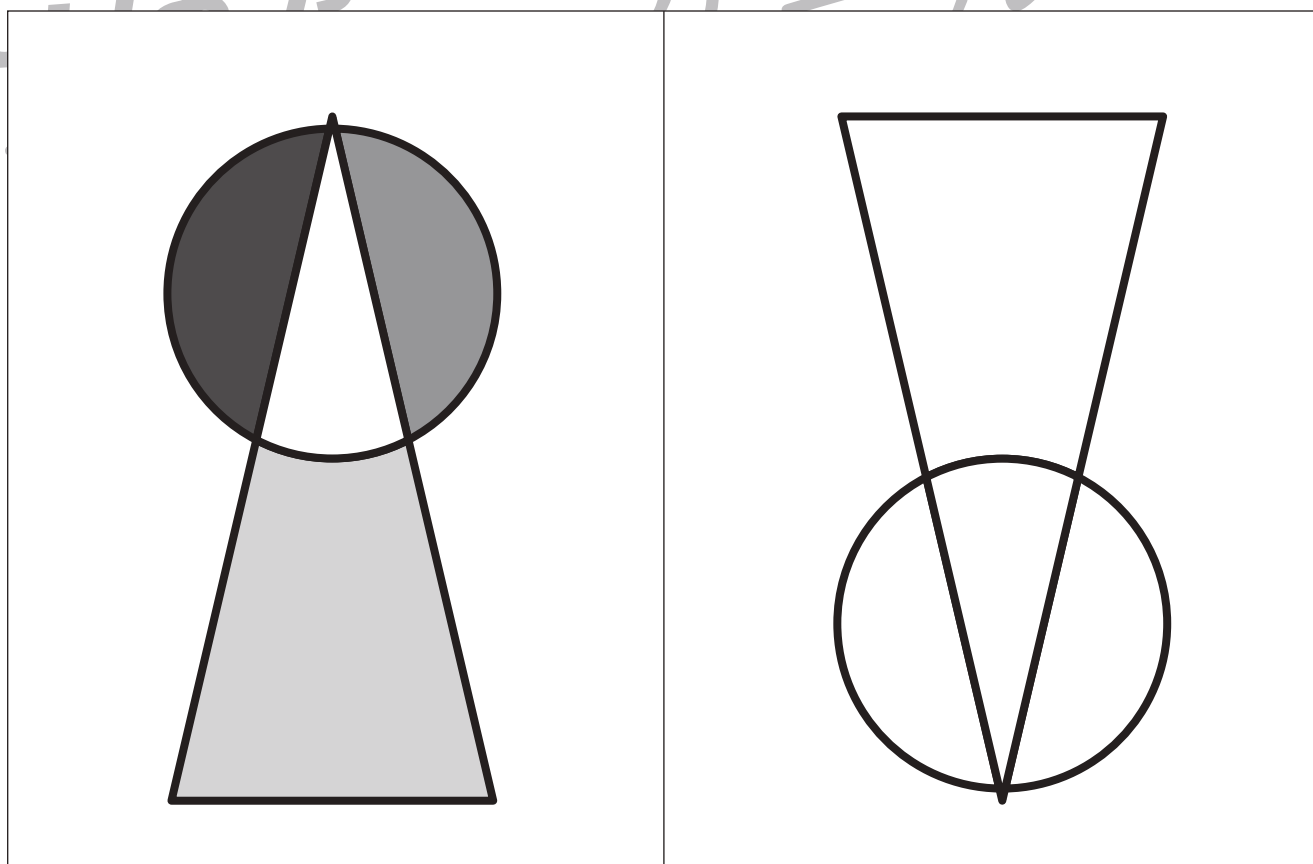
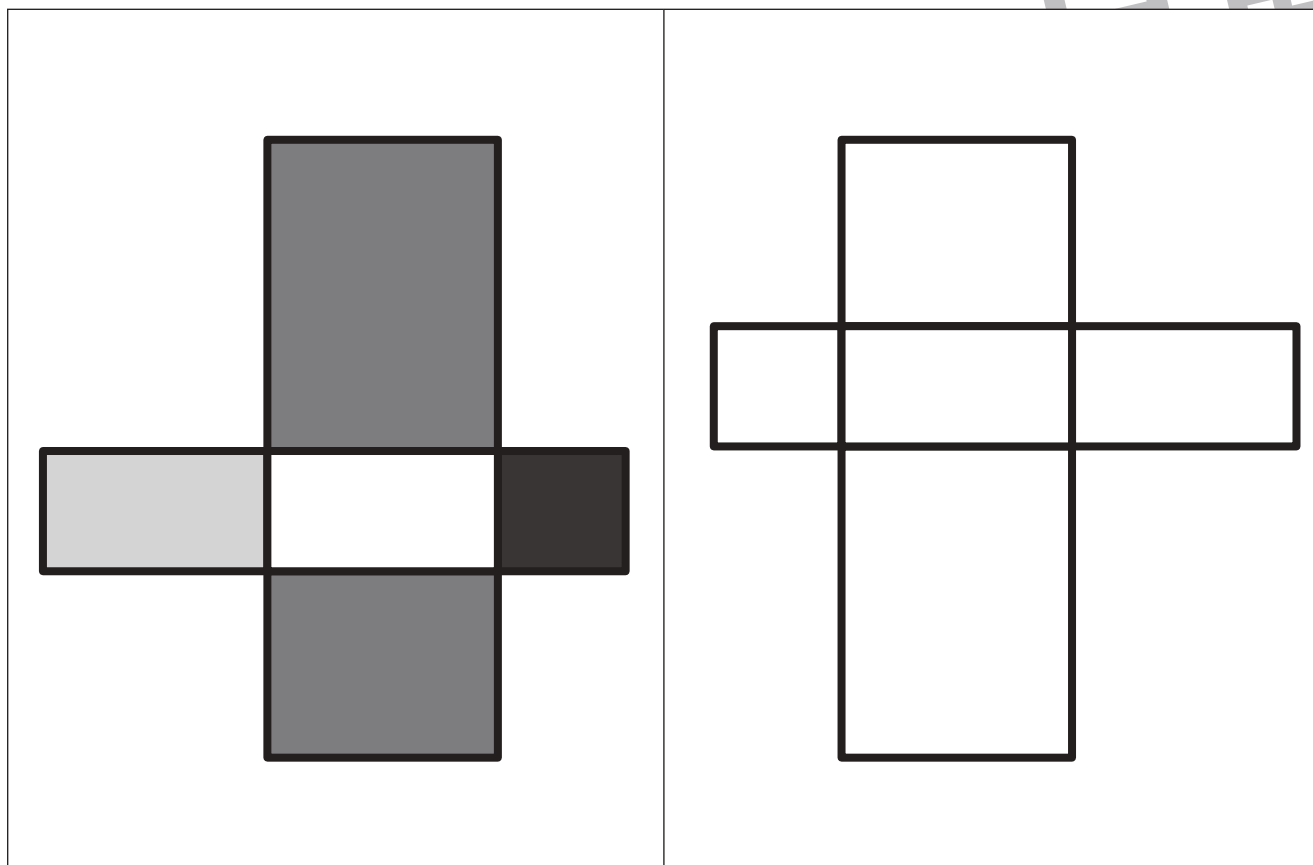
④

※1. このプリントは、しながわ・目黒こどもスクールのウェブサイトでダウンロードができます。無断複写・引用はご遠慮ください。

※2. このプリントを活用したオンライン授業のスケジュールは、しながわ・目黒こどもスクールのウェブサイトでご確認ください。



左のお手本を右のように向きを変えたときの見え方を考えて同じ濃さになるように鉛筆で塗ります。



※1. このプリントは、しながわ・目黒こどもスクールのウェブサイトからダウンロードできます。無断複写・引用はご遠慮ください。

※2. このプリントを活用したオンライン授業のスケジュールは、しながわ・目黒こどもスクールのウェブサイトでご確認ください。



おうちで、やろう。

Study at home. 小学校受験の家庭学習教材

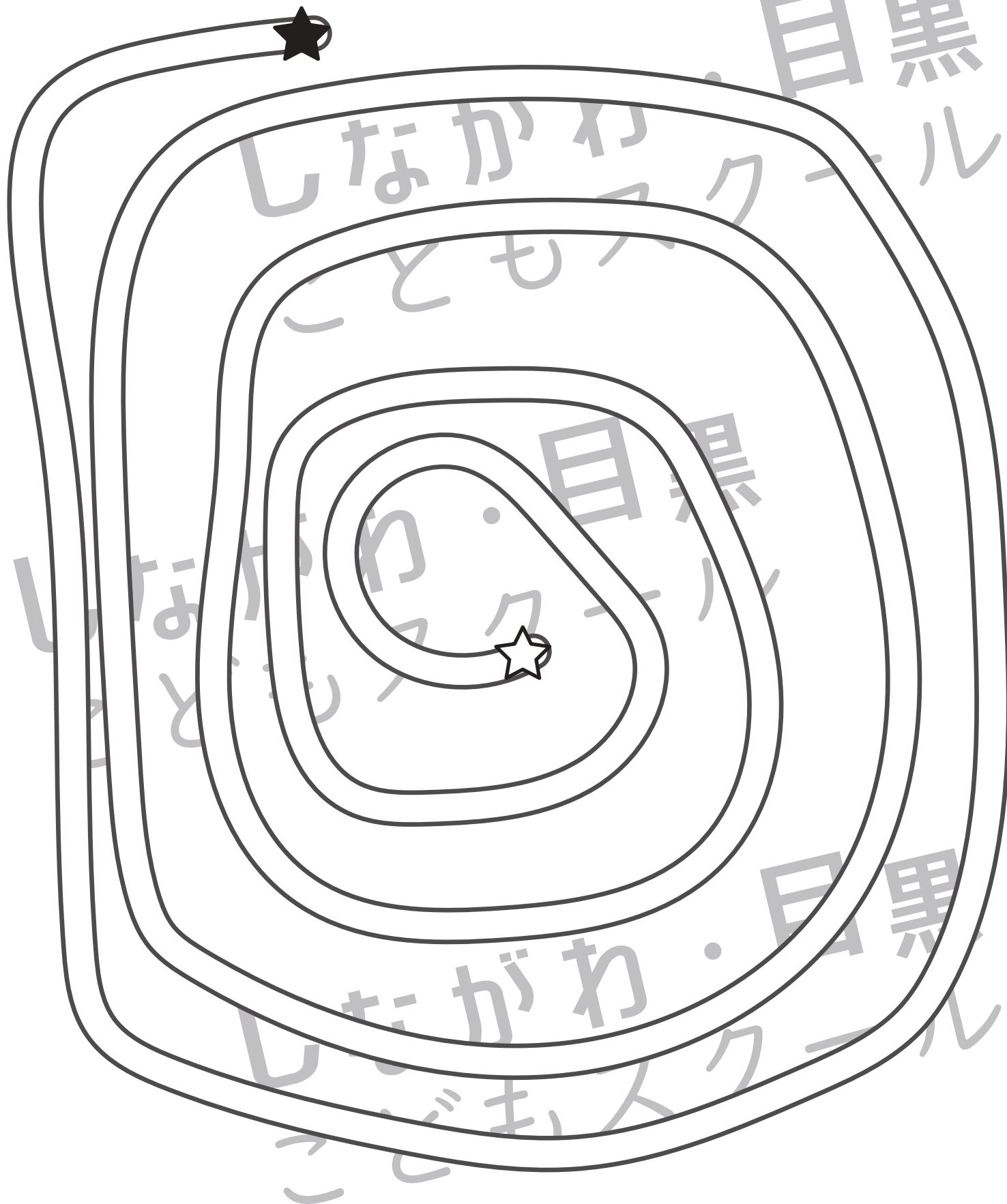
処理：運筆 32

☆から★まで壁にぶつからないように線をひきます。

この問題はスピードを意識して取り組む練習をしてみましょう。(1分～1分30秒)

※クーピー、鉛筆、水性ペンの好きなものを使ってやりましょう。

※この問題に解答はありません。



※1. このプリントは、しながわ・目黒こどもスクールのウェブサイトでダウンロードができます。無断複写・引用はご遠慮ください。

※2. このプリントを活用したオンライン授業のスケジュールは、しながわ・目黒こどもスクールのウェブサイトでご確認ください。

