










おうちで、やろう。

Study at home. 小学校受験の家庭学習教材

運筆：濃淡 14

- ①好きな○を2つ青のクーピーで濃く塗ります。
 - ②好きな☆を3つ青のクーピーで薄く塗ります。
- このプリントに解答はありません。





おうちで、やろう。

Study at home. 小学校受験の家庭学習教材

図形：回転 67

左のお手本を右のように向きを変えたときの見え方を考えてかきます。

	→			→	
	→			→	
	→			→	
	→			→	
	→			→	
	→			→	

※1. このプリントは、しながわ・目黒こどもスクールのウェブサイトからダウンロードできます。無断複写・引用はご遠慮ください。

※2. このプリントを活用したオンライン授業のスケジュールは、しながわ・目黒こどもスクールのウェブサイトでご確認ください。



おうちで、やろう。

Study at home. 小学校受験の家庭学習教材

図形：回転 68

左のお手本を右のように向きを変えたときの見え方を考えてかきます。

	→			→	
	→			→	
	→			→	
	→			→	
	→			→	
	→			→	

※1. このプリントは、しながわ・目黒こどもスクールのウェブサイトからダウンロードできます。無断複写・引用はご遠慮ください。

※2. このプリントを活用したオンライン授業のスケジュールは、しながわ・目黒こどもスクールのウェブサイトでご確認ください。



おうちで、やろう。

Study at home. 小学校受験の家庭学習教材

図形：回転 69

左のお手本を右のように向きを変えたときの見え方を考えてかきます。

	→				→	
	→				→	
	→				→	
	→				→	
	→				→	
	→				→	

※1. このプリントは、しながわ・目黒こどもスクールのウェブサイトからダウンロードできます。無断複写・引用はご遠慮ください。
 ※2. このプリントを活用したオンライン授業のスケジュールは、しながわ・目黒こどもスクールのウェブサイトでご確認ください。



おうちで、やろう。

Study at home. 小学校受験の家庭学習教材

推理：四方観察 27

四角の中の積み木は白い積み木と黒い積み木で作った形です。女の子が見ている白い積み木はいくつですか。その数だけ〇をかきます。

10

10

10

10

10

10

※1. このプリントは、しながわ・目黒こどもスクールのウェブサイトでダウンロードができます。無断複写・引用はご遠慮ください。
 ※2. このプリントを活用したオンライン授業のスケジュールは、しながわ・目黒こどもスクールのウェブサイトでご確認ください。



おうちで、やろう。

Study at home. 小学校受験の家庭学習教材

推理：四方観察 28

四角の中の積み木は白い積み木と黒い積み木で作った形です。女の子が見ている白い積み木はいくつですか。その数だけ〇をかきます。

Blank space for the answer.

Blank space for the answer.

Blank space for the answer.

Blank space for the answer.

Blank space for the answer.

Blank space for the answer.

※1. このプリントは、しながわ・目黒こどもスクールのウェブサイトでダウンロードができます。無断複写・引用はご遠慮ください。
 ※2. このプリントを活用したオンライン授業のスケジュールは、しながわ・目黒こどもスクールのウェブサイトでご確認ください。



おうちで、やろう。

Study at home. 小学校受験の家庭学習教材

推理：重さの置き換え 12

天秤に果物をのせて重さ比べをしました。上の太い四角の中が約束です。この約束のとき、それぞれの四角の中の天秤で釣り合うものを探して○をつけます。

※1. このプリントは、しながわ・目黒こどもスクールのウェブサイトでダウンロードができます。無断複写・引用はご遠慮ください。

※2. このプリントを活用したオンライン授業のスケジュールは、しながわ・目黒こどもスクールのウェブサイトでご確認ください。



おうちで、やろう。

Study at home. 小学校受験の家庭学習教材

推理：重さの置き換え 13

天秤に果物をのせて重さ比べをしました。上の太い四角の中が約束です。この約束のとき、それぞれの四角の中の天秤で釣り合うものを探して○をつけます。

※1. このプリントは、しながわ・目黒こどもスクールのウェブサイトでダウンロードができます。無断複写・引用はご遠慮ください。

※2. このプリントを活用したオンライン授業のスケジュールは、しながわ・目黒こどもスクールのウェブサイトでご確認ください。



おうちで、やろう。

Study at home. 小学校受験の家庭学習教材

推理：重さの置き換え 14

天秤に果物をのせて重さ比べをしました。上の太い四角の中が約束です。この約束のとき、それぞれの四角の中の天秤で釣り合うものを探して○をつけます。

※1. このプリントは、しながわ・目黒こどもスクールのウェブサイトからダウンロードできます。無断複写・引用はご遠慮ください。

※2. このプリントを活用したオンライン授業のスケジュールは、しながわ・目黒こどもスクールのウェブサイトでご確認ください。



おうちで、やろう。

Study at home. 小学校受験の家庭学習教材

処理：計数 23

上の四角の中の絵の数をかぞえて、その数だけ下の同じ絵の右に○をかきます。
この問題はスピードを意識して取り組む練習をしてみましょう。(1分～1分30秒)



※1. このプリントは、しながわ・目黒こどもスクールのウェブサイトでダウンロードができます。無断複写・引用はご遠慮ください。
※2. このプリントを活用したオンライン授業のスケジュールは、しながわ・目黒こどもスクールのウェブサイトでご確認ください。