



# おうちで、やろう。

Study at home. 小学校受験の家庭学習教材

言語：しりとり 11

左上の太い四角の絵から真ん中の太い四角の絵までしりとりでつながるように、それぞれの四角から正しい絵を選んで、○をつけます。

A word chain puzzle grid with 11 boxes. The top-left and center boxes have thick borders. Arrows indicate the path from the top-left box to the center box.

- Box 1 (Top-Left, thick border):** Saw. A circle is drawn around the saw.
- Box 2 (Top-Middle):** Two panels. Left: A person in a wheelchair. Right: A squirrel. A circle is drawn around the person in the wheelchair.
- Box 3 (Top-Right):** Two panels. Left: A sheep. Right: A mushroom. A circle is drawn around the mushroom.
- Box 4 (Middle-Left):** Two panels. Left: A guitar. Right: A hot air balloon. A circle is drawn around the hot air balloon.
- Box 5 (Middle-Middle):** Two panels. Left: A pair of shoes. Right: A mushroom. A circle is drawn around the mushroom.
- Box 6 (Middle-Right):** Two panels. Left: A ball and a pencil. Right: A pair of shoes. A circle is drawn around the pencil.
- Box 7 (Bottom-Middle):** Thick border. A crocodile.
- Box 8 (Bottom-Right):** Two panels. Left: A matchbox and chopsticks. Right: A mushroom. A circle is drawn around the mushroom.
- Box 9 (Bottom-Left):** Two panels. Left: A keyboard. Right: A monkey. A circle is drawn around the keyboard.
- Box 10 (Bottom-Middle):** Two panels. Left: An owl. Right: A swing set. A circle is drawn around the swing set.
- Box 11 (Bottom-Right):** Two panels. Left: A pill bottle. Right: A pea pod. A circle is drawn around the pill bottle.

※1. このプリントは、しながわ・目黒こどもスクールのウェブサイトでダウンロードができます。無断複写・引用はご遠慮ください。  
※2. このプリントを活用したオンライン授業のスケジュールは、しながわ・目黒こどもスクールのウェブサイトでご確認ください。

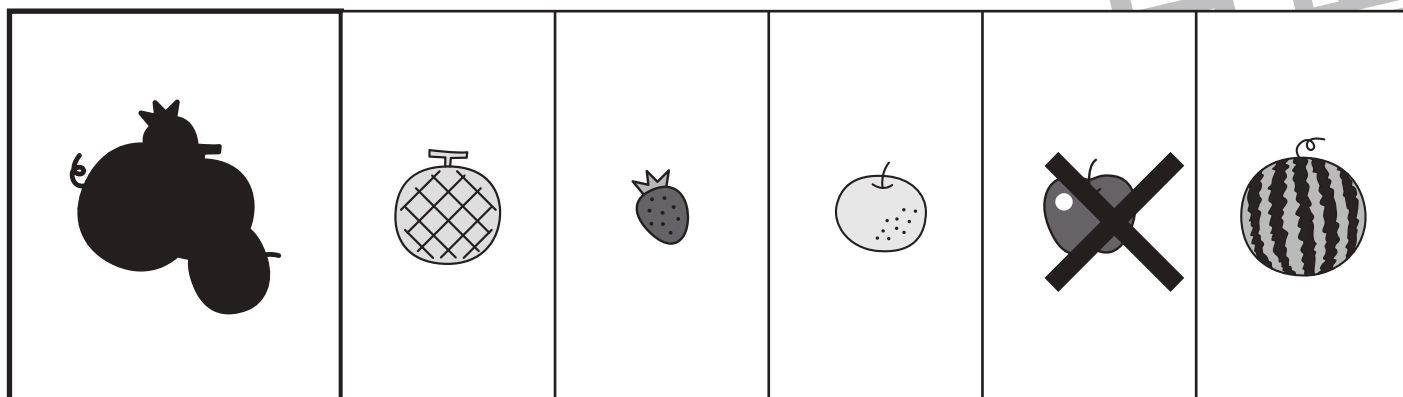





# おうちで、やろう。

Study at home. 小学校受験の家庭学習教材

図形：重なり 22

左の太い四角の中は、野菜や果物が影になって出来た絵です。どの野菜や果物が影になって重なっているか考えて、影にないものを右の四角から選んで×をつけます。



※1. このプリントは、しながわ・目黒こどもスクールのウェブサイトからダウンロードできます。無断複写・引用はご遠慮ください。

※2. このプリントを活用したオンライン授業のスケジュールは、しながわ・目黒こどもスクールのウェブサイトでご確認ください。


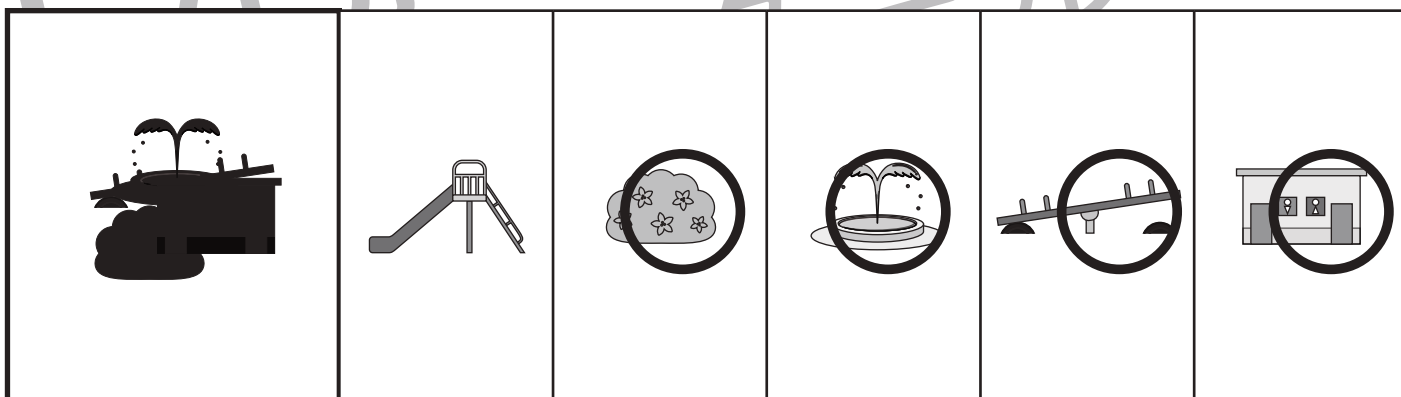
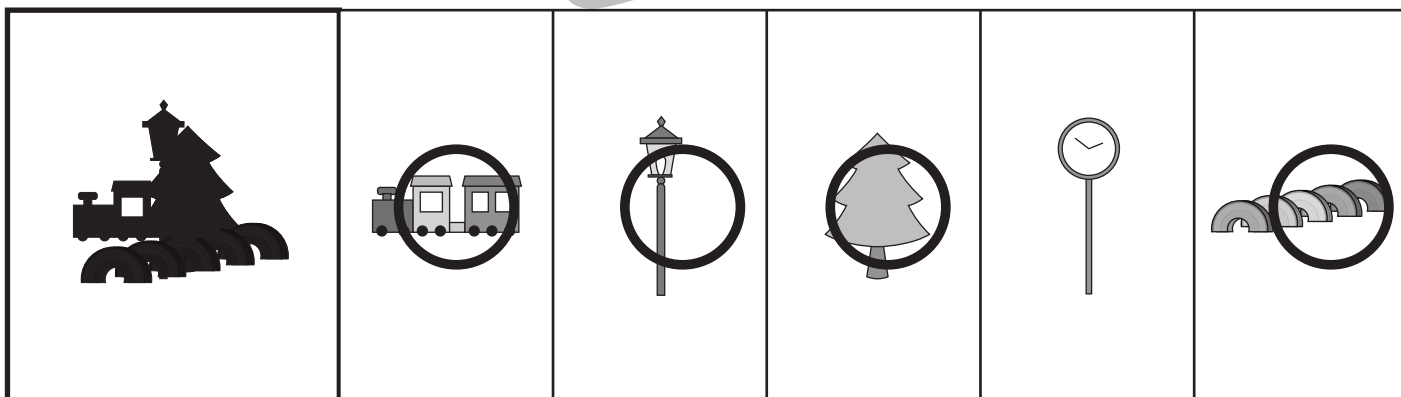
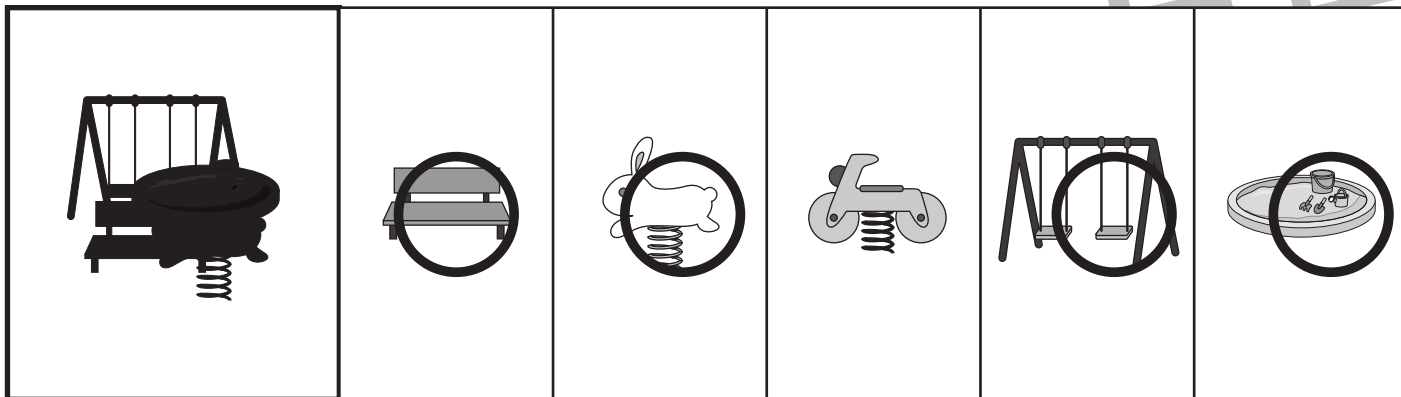


# おうちで、やろう。

Study at home. 小学校受験の家庭学習教材

## 図形：重なり 23

左の太い四角の中は、公園にあるものが影になって出来た絵です。どれが影になって重なっているか考えて、影になっているものを右の四角から全て選んで○をつけます。



※1. このプリントは、しながわ・目黒こどもスクールのウェブサイトでダウンロードができます。無断複写・引用はご遠慮ください。

※2. このプリントを活用したオンライン授業のスケジュールは、しながわ・目黒こどもスクールのウェブサイトでご確認ください。



# おうちで、やろう。

Study at home. 小学校受験の家庭学習教材

## 図形：重なり 24

左の太い四角の中には、色々な形が重なっています。下から2番目にある形を、右の中から選んで○をつけます。

--	--	--	--

--	--	--	--

--	--	--	--	--

--	--	--	--	--	--

※1. このプリントは、しながわ・目黒こどもスクールのウェブサイトでダウンロードができます。無断複写・引用はご遠慮ください。

※2. このプリントを活用したオンライン授業のスケジュールは、しながわ・目黒こどもスクールのウェブサイトでご確認ください。



# おうちで、やろう。

Study at home. 小学校受験の家庭学習教材

## 推理：シーソー1

左側のシーソーはつり合っています。右側のシーソーがつり合う為に必要な果物や野菜の数を考えて、その数だけ下の四角に○を描きます。

Left pan: 1 watermelon, 4 bananas. Right pan: 2 watermelons, 1 question mark.

Below the pans are 8 boxes for drawing circles:

Left pan: 10 strawberries, 3 raspberries. Right pan: 6 strawberries, 1 question mark.

Below the pans are 8 boxes for drawing circles:

Left pan: 4 bell peppers, 8 cherry tomatoes. Right pan: 3 bell peppers, 1 question mark.

Below the pans are 8 boxes for drawing circles:

Left pan: 2 onions, 6 eggplants. Right pan: 1 onion, 1 question mark.

Below the pans are 8 boxes for drawing circles:

※1. このプリントは、しながわ・目黒こどもスクールのウェブサイトでダウンロードができます。無断複写・引用はご遠慮ください。

※2. このプリントを活用したオンライン授業のスケジュールは、しながわ・目黒こどもスクールのウェブサイトでご確認ください。



# おうちで、やろう。

Study at home. 小学校受験の家庭学習教材

## 推理：シーソー2

右側のシーソーはつり合っています。左側のシーソーがつり合う為に必要な動物の数を考えて、その数だけ下の四角に○を描きます。

Left pan: 2 rabbits, 1 question mark. Right pan: 1 rabbit, 3 snakes.

Below: 6 boxes with circles, 2 empty boxes.

Left pan: 6 foxes, 1 question mark. Right pan: 2 foxes, 1 pig.

Below: 3 boxes with circles, 5 empty boxes.

Left pan: 4 crocodiles, 2 sheep. Right pan: 2 crocodiles, 1 sheep, 1 elephant.

Below: 2 boxes with circles, 6 empty boxes.

Left pan: 4 hedgehogs, 1 question mark. Right pan: 2 hedgehogs, 3 cats.

Below: 6 boxes with circles, 2 empty boxes.

※1. このプリントは、しながわ・目黒こどもスクールのウェブサイトでダウンロードができます。無断複写・引用はご遠慮ください。  
 ※2. このプリントを活用したオンライン授業のスケジュールは、しながわ・目黒こどもスクールのウェブサイトでご確認ください。



# おうちで、やろう。

Study at home. 小学校受験の家庭学習教材

## 推理：積み木 22

左側の積み木の数と、右側のマスの灰色のマスの数と同じものを見つけて点と点を線で結びます。

ことせ

※1. このプリントは、しながわ・目黒こどもスクールのウェブサイトでダウンロードができます。無断複写・引用はご遠慮ください。  
 ※2. このプリントを活用したオンライン授業のスケジュールは、しながわ・目黒こどもスクールのウェブサイトでご確認ください。



左の四角の中の白い積み木と灰色の積み木のうち、数の少ない積み木はいくつありますか。その数だけ、右の星をまとめて囲みます。隠れている積み木は白い積み木です。

	<p>8個まとめて囲む</p> <p>☆ ☆ ☆ ☆ ☆ ☆ ☆ ☆ ☆ ☆ ☆ ☆</p>
	<p>6個まとめて囲む</p> <p>☆ ☆ ☆ ☆ ☆ ☆ ☆ ☆ ☆ ☆ ☆ ☆</p>
	<p>6個まとめて囲む</p> <p>☆ ☆ ☆ ☆ ☆ ☆ ☆ ☆ ☆ ☆ ☆ ☆</p>
	<p>7個まとめて囲む</p> <p>☆ ☆ ☆ ☆ ☆ ☆ ☆ ☆ ☆ ☆ ☆ ☆</p>
	<p>6個まとめて囲む</p> <p>☆ ☆ ☆ ☆ ☆ ☆ ☆ ☆ ☆ ☆ ☆ ☆</p>

※1. このプリントは、しながわ・目黒こどもスクールのウェブサイトでダウンロードができます。無断複写・引用はご遠慮ください。

※2. このプリントを活用したオンライン授業のスケジュールは、しながわ・目黒こどもスクールのウェブサイトでご確認ください。














# おうちで、やろう。

Study at home. 小学校受験の家庭学習教材

数量：計数 34

四角の中にある形の数をそれぞれ数えて、その数だけ○を描きます。



	 × 10
	 × 9
	 × 6
	 × 8

※1. このプリントは、しながわ・目黒こどもスクールのウェブサイトからダウンロードできます。無断複写・引用はご遠慮ください。

※2. このプリントを活用したオンライン授業のスケジュールは、しながわ・目黒こどもスクールのウェブサイトでご確認ください。







# おうちで、やろう。

Study at home. 小学校受験の家庭学習教材

数量：計数 35

下の四角の絵と仲間のものを上の大きい四角から探して、その数だけ○を描きます。



	○ × 7
	○ × 5
	○ × 7
	○ × 5

※1. このプリントは、しながわ・目黒こどもスクールのウェブサイトからダウンロードできます。無断複写・引用はご遠慮ください。

※2. このプリントを活用したオンライン授業のスケジュールは、しながわ・目黒こどもスクールのウェブサイトでご確認ください。