





# おうちで、やろう。


Study at home. 小学校受験の家庭学習教材


言語：音の数 27


左の絵の音の数だけ右のマスが必要ですが、右のマスは余ります。余るマスの数だけ色を塗ります。  
音の数で使うマスは上の段の左から右へ、下の段の左から右で考えましょう。





























※1. このプリントは、しながわ・目黒こどもスクールのウェブサイトからダウンロードできます。無断複写・引用はご遠慮ください。  
 ※2. このプリントを活用したオンライン授業のスケジュールは、しながわ・目黒こどもスクールのウェブサイトでご確認ください。








# おうちで、やろう。

Study at home. 小学校受験の家庭学習教材

常識：仲間9

四角の中の絵の中で仲間外れを1つ見つけて、○をつけます。  
また、その理由もお話しましょう。



※1. このプリントは、しながわ・目黒こどもスクールのウェブサイトからダウンロードができます。無断複写・引用はご遠慮ください。  
※2. このプリントを活用したオンライン授業のスケジュールは、しながわ・目黒こどもスクールのウェブサイトでご確認ください。

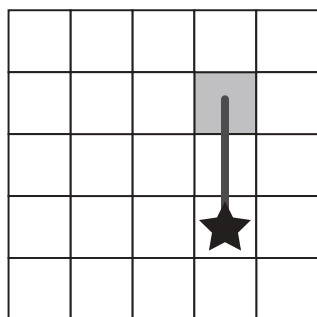
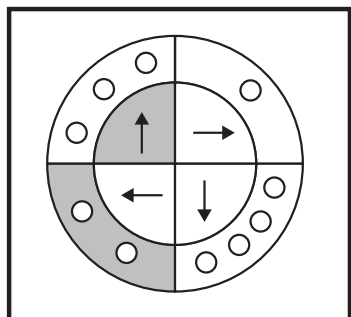




# おうちで、やろう。

Study at home. 小学校受験の家庭学習教材

## 図形：移動 46



左の太い四角の中の丸が約束です。矢印は進む方向、○は進むマスの数です。右のマスの中の★から左の丸の約束通りに進み、最後に着いたマスを塗ります。

--	--	--	--

--	--	--	--

--	--	--	--

--	--	--	--

※1. このプリントは、しながわ・目黒こどもスクールのウェブサイトでダウンロードができます。無断複写・引用はご遠慮ください。  
※2. このプリントを活用したオンライン授業のスケジュールは、しながわ・目黒こどもスクールのウェブサイトでご確認ください。


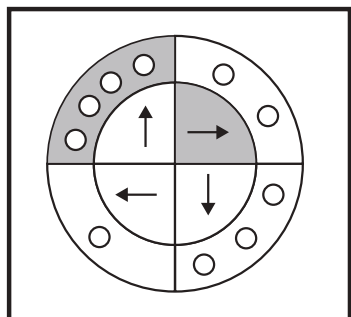





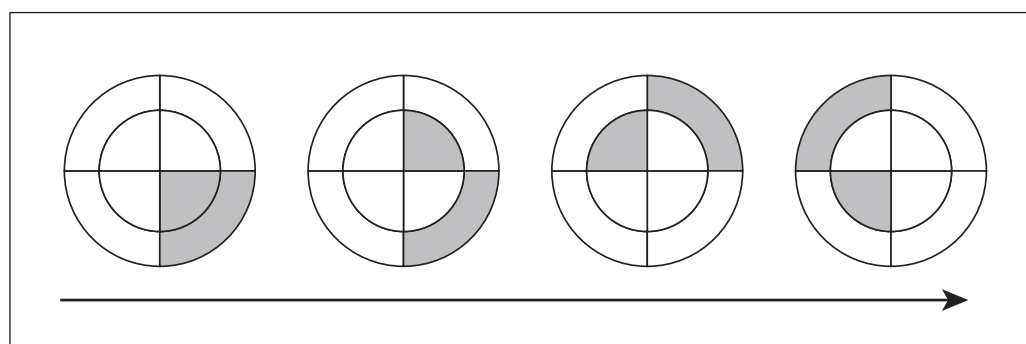

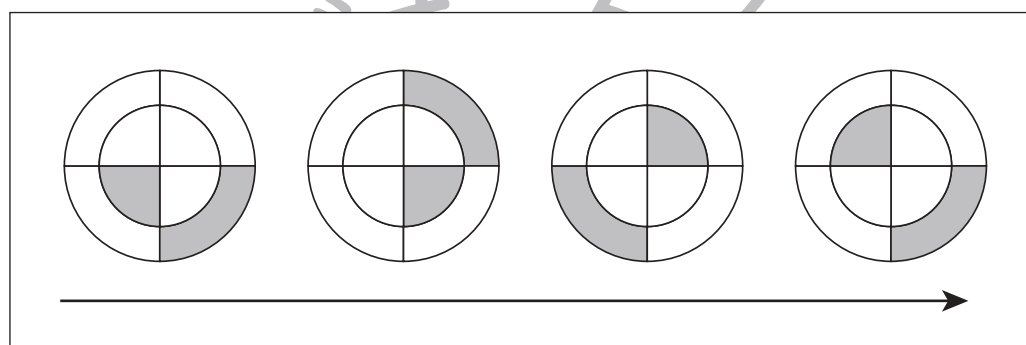
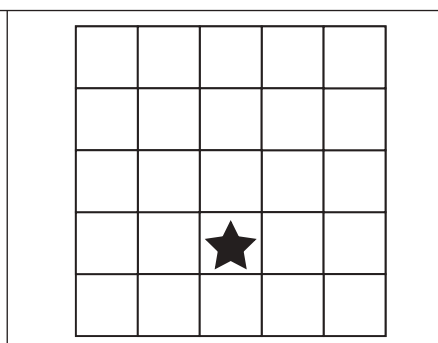
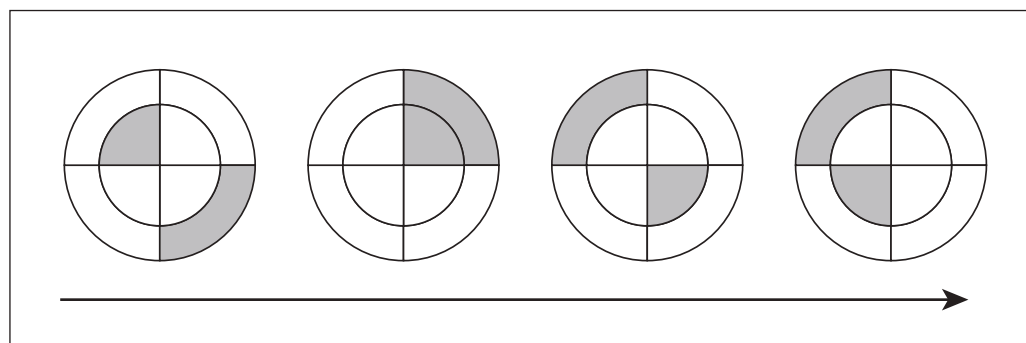

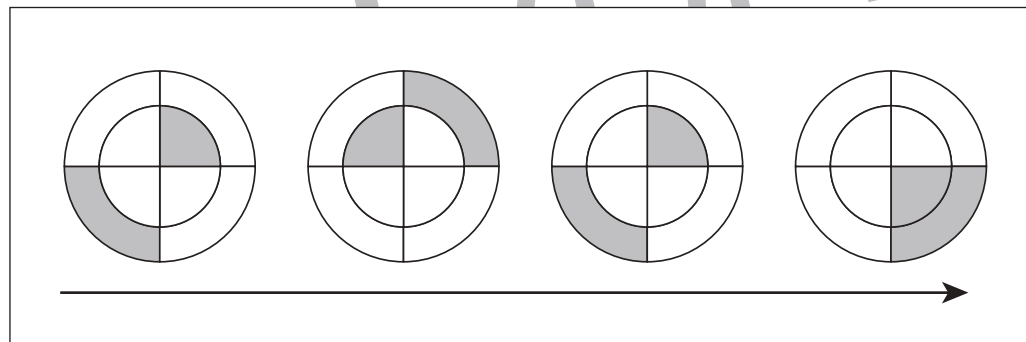
# おうちで、やろう。

Study at home. 小学校受験の家庭学習教材

## 図形：移動 47



左の太い四角の中の丸が約束です。矢印は進む方向、○は進むマスの数です。灰色の部分の矢印の向きに灰色の部分の○の数だけ進みます。右のマスの中の★から左の丸の約束通りに進み、最後に着いたマスを塗ります。



※1. このプリントは、しながわ・目黒こどもスクールのウェブサイトでダウンロードができます。無断複写・引用はご遠慮ください。  
※2. このプリントを活用したオンライン授業のスケジュールは、しながわ・目黒こどもスクールのウェブサイトでご確認ください。





# おうちで、やろう。

Study at home. 小学校受験の家庭学習教材

## 図形：構成 49

左のマスの中の白い部分に右の四角のパズルを入れます。このとき、使わないパズルを1つ見つけて×をつけます。向きを変えてもいいですが、裏返してはいけません。

--	--

--	--

--	--

--	--

--	--

※1. このプリントは、しながわ・目黒こどもスクールのウェブサイトでダウンロードができます。無断複写・引用はご遠慮ください。  
 ※2. このプリントを活用したオンライン授業のスケジュールは、しながわ・目黒こどもスクールのウェブサイトでご確認ください。


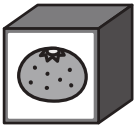

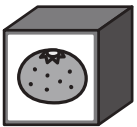


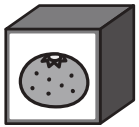

# おうちで、やろう。


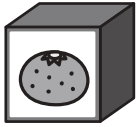
Study at home. 小学校受験の家庭学習教材

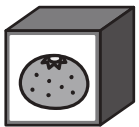

## 推理：ブラックボックス 28


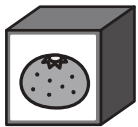
上の太い四角が約束です。左の形が箱の中を通ると約束にしがたって出てきます。左の形がりんごやみかんの箱を通ると最後の矢印の後はどんな形になって出てきますか。一番右の四角の中に記号を書きましょう。

× →  → △	□ →  → ×
○ →  → □	△ →  → ○

△ →  →  →	
---	--

× →  →  →	
---	--

□ →  →  →	
---	--

○ →  →  →	
---	--

※1. このプリントは、しながわ・目黒こどもスクールのウェブサイトからダウンロードできます。無断複写・引用はご遠慮ください。

※2. このプリントを活用したオンライン授業のスケジュールは、しながわ・目黒こどもスクールのウェブサイトでご確認ください。









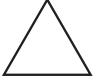




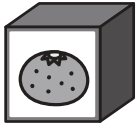


# おうちで、やろう。

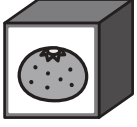



Study at home. 小学校受験の家庭学習教材

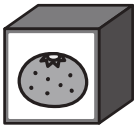



## 推理：ブラックボックス 29






上の太い四角が約束です。左の形が箱の中を通ると約束にしがたって出てきます。左の形がりんごやみかんの箱を通ると最後の矢印の後はどんな形になって出てきますか。一番右の四角の中に記号を書きましょう。

	→		→		×	→		→	
	→		→	×	○	→		→	

	→		→		→		→	
---	---	---	---	---	---	---	---	--

×	→		→		→		→	
---	---	---	---	---	---	---	---	---

○	→		→		→		→	
---	---	---	---	---	---	---	---	---

	→		→		→		→	
---	---	---	---	---	---	---	---	---

※1. このプリントは、しながわ・目黒こどもスクールのウェブサイトでダウンロードができます。無断複写・引用はご遠慮ください。

※2. このプリントを活用したオンライン授業のスケジュールは、しながわ・目黒こどもスクールのウェブサイトでご確認ください。



# おうちで、やろう。

Study at home. 小学校受験の家庭学習教材

## 推理：構成1

左のお手本を真ん中の形と右の3つの中のうち1つを組み合わせて作ります。正しい組み合わせになるように右の3つの中から選んで○をつけます。隠れている積み木はすべて白い積み木です。積み木は向きを変えたりせずにそのまま組み合わせます。


※1. このプリントは、しながわ・目黒こどもスクールのウェブサイトでダウンロードができます。無断複写・引用はご遠慮ください。

※2. このプリントを活用したオンライン授業のスケジュールは、しながわ・目黒こどもスクールのウェブサイトでご確認ください。





# おうちで、やろう。

Study at home. 小学校受験の家庭学習教材

## 推理：構成2

左の白と灰色の積み木を紐でつなぎました。このひもを引っ張ってできた形を右の4つの中から見つけて○をつけます。

--	--

--	--

--	--

※1. このプリントは、しながわ・目黒こどもスクールのウェブサイトでダウンロードができます。無断複写・引用はご遠慮ください。  
 ※2. このプリントを活用したオンライン授業のスケジュールは、しながわ・目黒こどもスクールのウェブサイトでご確認ください。



# おうちで、やろう。

Study at home. 小学校受験の家庭学習教材

数量：複合 8


上の大きな四角の中の絵はみんなでキャンプに来ている様子です。そして夜はみんなでテントに泊まります。

①とまっている乗り物のタイヤの数だけ〇をかきます。

②外でバーベキューをしている家族が7人入って寝ることができる三角のテントで寝ると、このテントに入ることができる人はあと何人ですか。その数だけ〇をかきます。

③バーベキューでは大人が串を3本ずつ、子どもは2本ずつ食べました。合わせていくつの串を食べたことになりますか。その数だけ〇をかきます。

④木にカブトムシが5匹、セミが3匹とまっていた。子どもたちが虫取りでカブトムシを2匹、セミを1匹捕りました。木に残っているカブトムシとセミは合わせて何匹ですか。その数だけ〇をかきます。



①

②

③

④

※1. このプリントは、しながわ・目黒こどもスクールのウェブサイトでダウンロードができます。無断複写・引用はご遠慮ください。

※2. このプリントを活用したオンライン授業のスケジュールは、しながわ・目黒こどもスクールのウェブサイトでご確認ください。