
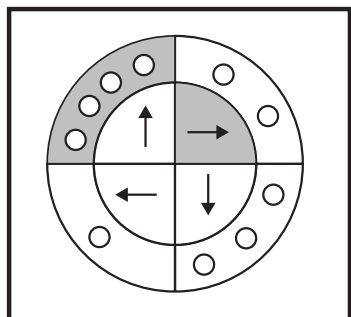





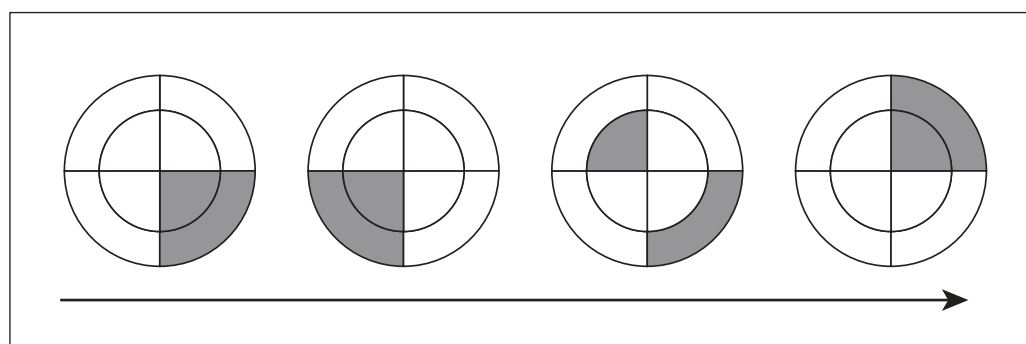

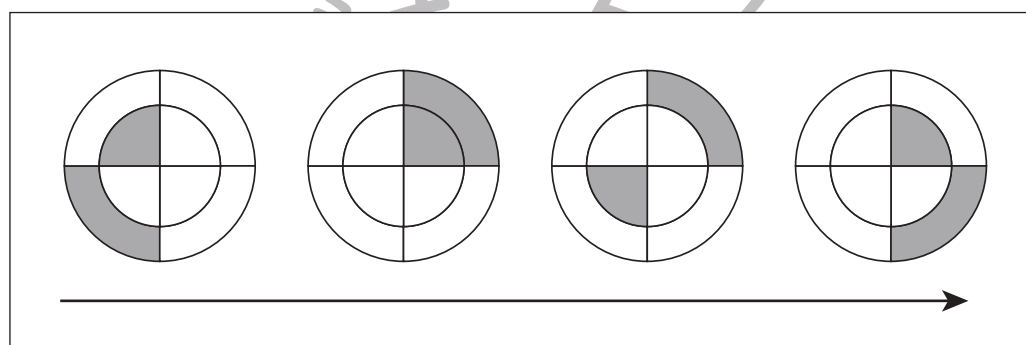

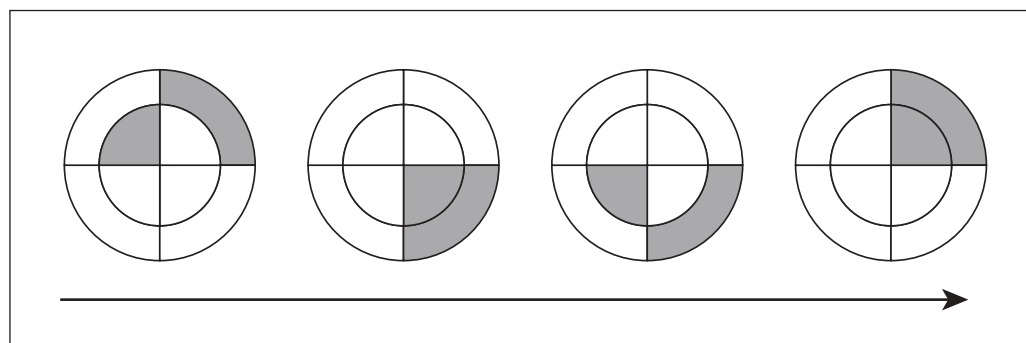

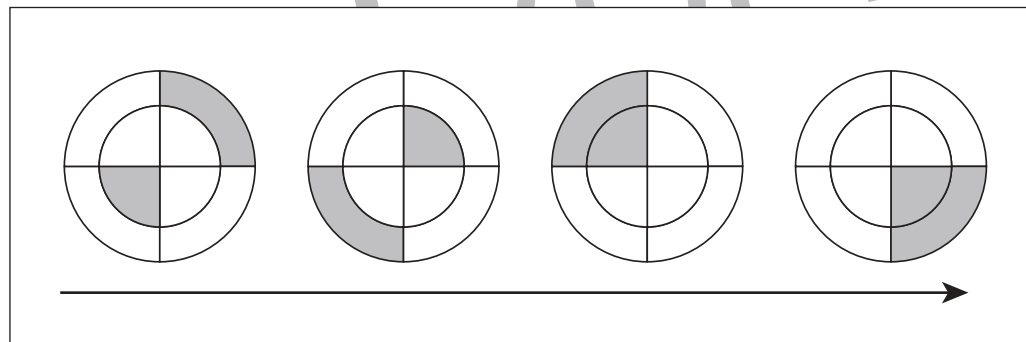
# おうちで、やろう。

Study at home. 小学校受験の家庭学習教材

## 図形：移動 48



左の太い四角の中の丸が約束です。矢印は進む方向、○は進むマスの数です。灰色の部分の矢印の向きに灰色の部分の○の数だけ進みます。右のマスの中の★から左の丸の約束通りに進み、最後に着いたマスを塗ります。



※1. このプリントは、しながわ・目黒こどもスクールのウェブサイトでダウンロードができます。無断複写・引用はご遠慮ください。  
※2. このプリントを活用したオンライン授業のスケジュールは、しながわ・目黒こどもスクールのウェブサイトでご確認ください。




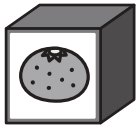

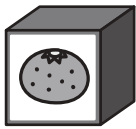



# おうちで、やろう。



Study at home. 小学校受験の家庭学習教材



## 推理：ブラックボックス 30



上の太い四角が約束です。左の形が箱の中を通ると約束にしがたって出てきます。左の形が最後の矢印の後に出てくるものが右の四角の中にあります。このとき、どの箱を通ってきたのかを考えて、通った箱に○をつけます。

× →  → ○	△ →  → ×
□ →  → △	○ →  → □

△ →		→	×
-----	--	---	---

□ →		→		→	×
-----	---	---	--	---	---

× →		→		→	□
-----	---	---	--	---	---

○ →		→		→	△
-----	---	---	--	---	---

※1. このプリントは、しながわ・目黒こどもスクールのウェブサイトでダウンロードができます。無断複写・引用はご遠慮ください。

※2. このプリントを活用したオンライン授業のスケジュールは、しながわ・目黒こどもスクールのウェブサイトでご確認ください。



# おうちで、やろう。

Study at home. 小学校受験の家庭学習教材

## 推理：ブラックボックス31

上の太い四角が約束です。左の形が箱の中を通ると約束にしがたって出てきます。左の形が最後の矢印の後に出てくるものが右の四角の中にあります。このとき、どの箱を通ってきたのかを考えて、通った箱に○をつけます。

×	→		→	□	○	→		→	×
△	→		→	○	□	→		→	△

○ → → ×

×

→ → → △

○ → → → □

□ → → → ○

※1. このプリントは、しながわ・目黒こどもスクールのウェブサイトでダウンロードができます。無断複写・引用はご遠慮ください。  
 ※2. このプリントを活用したオンライン授業のスケジュールは、しながわ・目黒こどもスクールのウェブサイトでご確認ください。




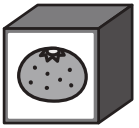



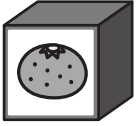







# おうちで、よろう。





Study at home. 小学校受験の家庭学習教材






## 推理：ブラックボックス 32






上の太い四角が約束です。左の形が箱の中を通ると約束にしがたって出てきます。左の形が最後の矢印の後に出てくるものが右の四角の中にあります。このとき、どの箱を通ってきたのかを考えて、通った箱に○をつけます。

	→		→		×	→		→	
	→		→	×	○	→		→	

	→		→		→		→	×
---	---	--	---	--	---	---	---	---

×	→		→		→		→	
---	---	---	---	---	---	--	---	---

	→		→		→		→	
---	---	---	---	---	---	--	---	---

	→		→		→		→	
---	---	---	---	---	---	--	---	---

※1. このプリントは、しながわ・目黒こどもスクールのウェブサイトからダウンロードができます。無断複写・引用はご遠慮ください。

※2. このプリントを活用したオンライン授業のスケジュールは、しながわ・目黒こどもスクールのウェブサイトでご確認ください。

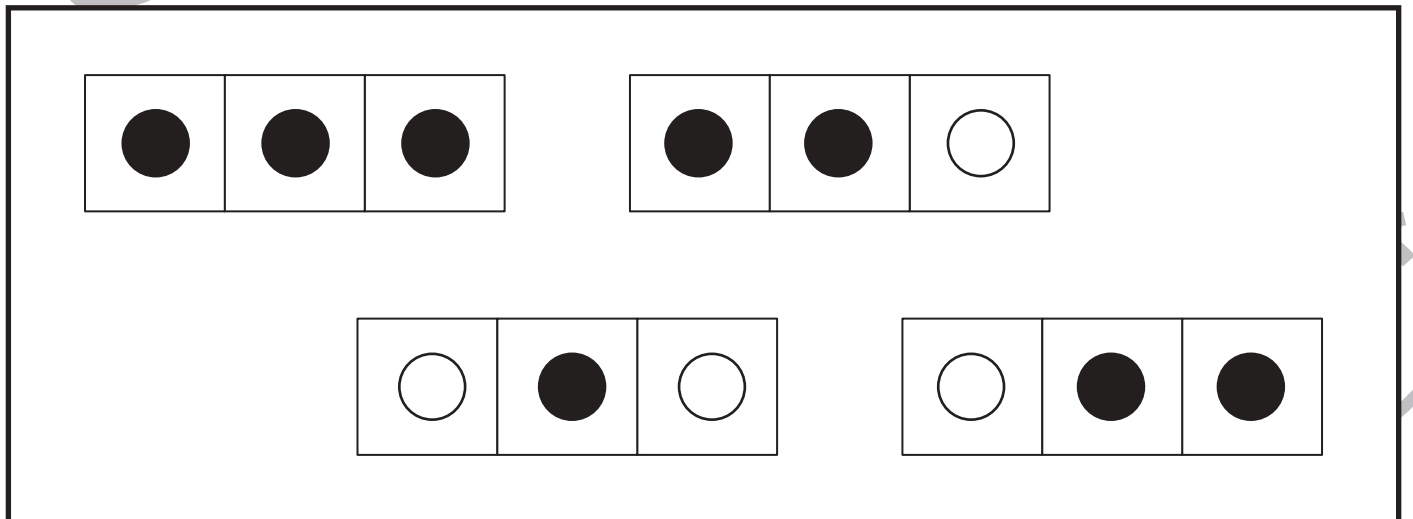
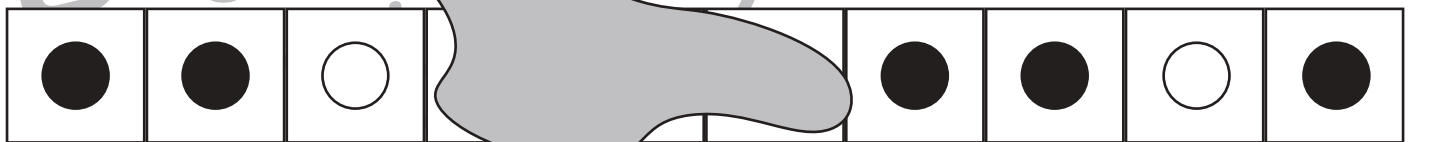
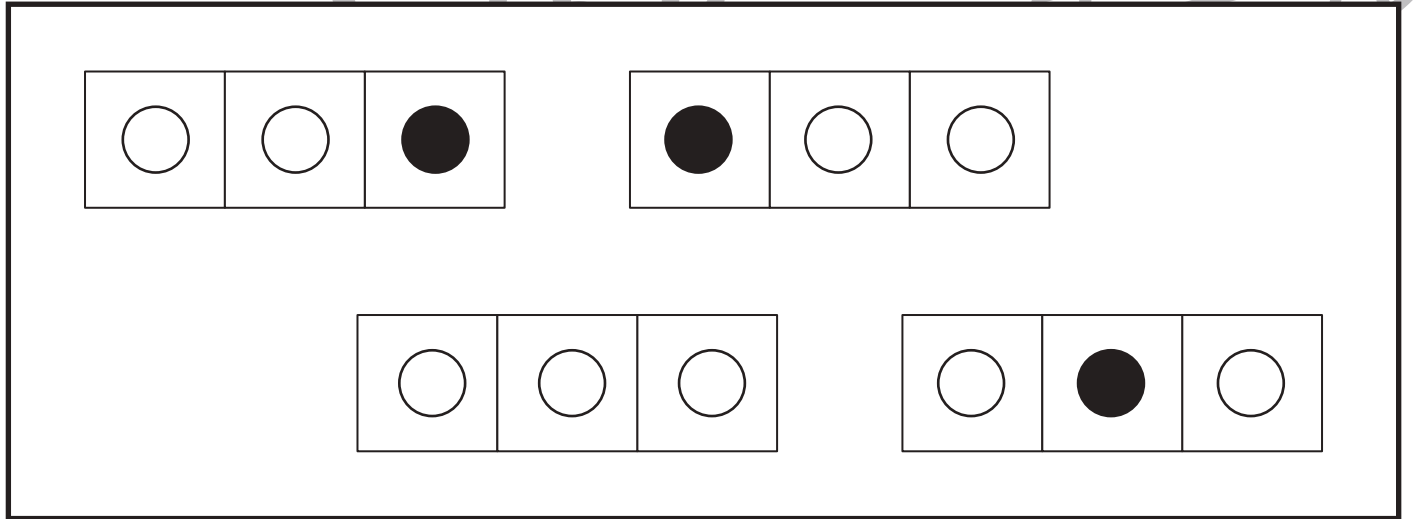
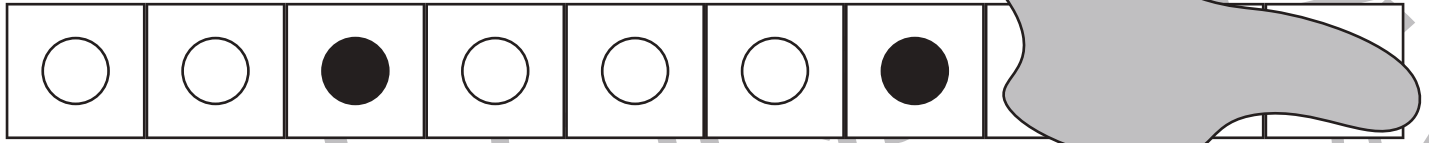


# おうちで、やろう。

Study at home. 小学校受験の家庭学習教材

## 推理：系列完成 28

形がある順番に並んでいます。上からジュースをこぼしてしまい、一部が見えなくなってしまいました。見えなくなっていたところにあてはまるものを下の太い四角の中から探して、○をつけます。



※1. このプリントは、しながわ・目黒こどもスクールのウェブサイトでダウンロードができます。無断複写・引用はご遠慮ください。  
 ※2. このプリントを活用したオンライン授業のスケジュールは、しながわ・目黒こどもスクールのウェブサイトでご確認ください。



# おうちで、やろう。

Study at home. 小学校受験の家庭学習教材

## 推理：系列完成 29

形がある順番に並んでいます。上に布がかかって一部が見えなくなっていました。見えなくなってしまったところにあてはまるものを下の太い四角の中から探して、布にかいてある印をつけます。

Two identical logic puzzles are presented. Each puzzle consists of a grid of shapes with some cells obscured by grey rectangles representing cloth.

**Puzzle 1 (Top):**

- Row 1: A white circle, a grey square (under a grey rectangle), a white circle, a white circle, a black circle, a white circle, a black circle, a black circle.
- Row 2: A black circle, a white circle, a white circle, a black circle, a grey circle (under a grey rectangle), a black circle, a white circle, a white circle.
- Row 3: A large grey rectangle covers the entire row.
- Row 4: A white circle, a black circle, a white circle, a black circle, a white circle, a black circle, a black circle.
- Row 5: A black circle, a black circle, a black circle, a black circle, a white circle, a black circle.

**Puzzle 2 (Bottom):**

- Row 1: A black circle, a grey circle (under a grey rectangle), a black circle, a white circle, a black circle, a white circle, a black circle, a white circle.
- Row 2: A black circle, a white circle, a grey square (under a grey rectangle), a white circle, a black circle, a white circle, a black circle, a white circle.
- Row 3: A large grey rectangle covers the entire row.
- Row 4: A white circle, a black circle, a white circle, a black circle, a white circle, a black circle, a black circle.
- Row 5: A black circle, a black circle, a black circle, a black circle, a white circle, a black circle.

※1. このプリントは、しながわ・目黒こどもスクールのウェブサイトでダウンロードができます。無断複写・引用はご遠慮ください。

※2. このプリントを活用したオンライン授業のスケジュールは、しながわ・目黒こどもスクールのウェブサイトでご確認ください。



# おうちで、やろう。

Study at home. 小学校受験の家庭学習教材

## 推理：系列完成 30

形がある順番に並んでいます。上に布がかかって一部が見えなくなりました。見えなくなってしまったところにあてはまるものを下の太い四角の中から探して、布にかいてある印をつけます。

Diagram illustrating a logic puzzle. The puzzle consists of a sequence of shapes in a row, with some parts obscured by grey rectangles representing cloth. Below the sequence are two large boxes containing various shapes to be used for completion.

**Sequence 1:** A row of 10 boxes. Box 1: white circle. Box 2: grey rectangle. Box 3: white square. Box 4: white circle. Box 5: black circle. Box 6: grey rectangle. Box 7: white circle. Box 8: black circle. Box 9: white circle. Box 10: black circle.

**Sequence 2:** A row of 10 boxes. Box 1: white circle. Box 2: black circle. Box 3: white triangle. Box 4: black circle. Box 5: white circle. Box 6: black circle. Box 7: white triangle. Box 8: black circle. Box 9: white circle. Box 10: black circle.

**Sequence 3:** A row of 10 boxes. Box 1: white circle. Box 2: white triangle. Box 3: white triangle. Box 4: black circle. Box 5: white circle. Box 6: white triangle. Box 7: white triangle. Box 8: grey rectangle. Box 9: white circle. Box 10: black circle.

**Sequence 4:** A row of 10 boxes. Box 1: white circle. Box 2: grey rectangle. Box 3: white square. Box 4: white circle. Box 5: black circle. Box 6: white triangle. Box 7: white triangle. Box 8: white circle. Box 9: white circle. Box 10: black circle.

**Options Box 1 (Top):** Two groups of three boxes each. Group 1: black circle, white triangle, black circle. Group 2: black circle, black circle, white circle.

**Options Box 2 (Bottom):** Two groups of three boxes each. Group 1: white triangle, black circle, white circle. Group 2: white circle, black circle, black circle.

※1. このプリントは、しながわ・目黒こどもスクールのウェブサイトでダウンロードができます。無断複写・引用はご遠慮ください。

※2. このプリントを活用したオンライン授業のスケジュールは、しながわ・目黒こどもスクールのウェブサイトでご確認ください。






























# おうちで、やろう。

Study at home. 小学校受験の家庭学習教材

数量：広さ 18

それぞれの四角の白い部分と灰色の部分の広さを比べます。広さが狭い方を考えて下のマスに○をつけます。同じ広さの場合は両方とも○をつけます。

※1. このプリントは、しながわ・目黒こどもスクールのウェブサイトでダウンロードができます。無断複写・引用はご遠慮ください。

※2. このプリントを活用したオンライン授業のスケジュールは、しながわ・目黒こどもスクールのウェブサイトでご確認ください。




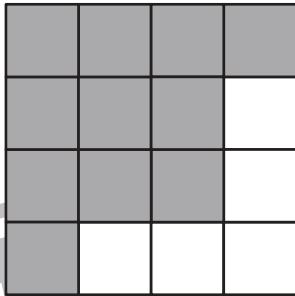









# おうちで、やろう。

Study at home. 小学校受験の家庭学習教材

数量：広さ 19

それぞれの四角の白い部分と灰色の部分の広さを比べます。灰色のマスのほうが広ければ下の四角に色を塗り、白いマスの方が広ければ下の四角を○で囲みます。

 <input type="checkbox"/>	 <input type="checkbox"/>	 <input type="checkbox"/>
 <input type="checkbox"/>	 <input type="checkbox"/>	 <input type="checkbox"/>
 <input type="checkbox"/>	 <input type="checkbox"/>	 <input type="checkbox"/>

※1. このプリントは、しながわ・目黒こどもスクールのウェブサイトでダウンロードができます。無断複写・引用はご遠慮ください。

※2. このプリントを活用したオンライン授業のスケジュールは、しながわ・目黒こどもスクールのウェブサイトでご確認ください。






# おうちで、やろう。

Study at home. 小学校受験の家庭学習教材

処理：運筆 33

左の太い四角の中がお手本です。そっくり同じになるようにかきましょう。  
この問題はスピードを意識して取り組む練習をしてみましょう。(1分～1分30秒)  
※クーピー、鉛筆、水性ペンの好きなものを使ってやりましょう。  
※この問題に解答はありません。

※1. このプリントは、しながわ・目黒こどもスクールのウェブサイトでダウンロードができます。無断複写・引用はご遠慮ください。  
※2. このプリントを活用したオンライン授業のスケジュールは、しながわ・目黒こどもスクールのウェブサイトでご確認ください。