
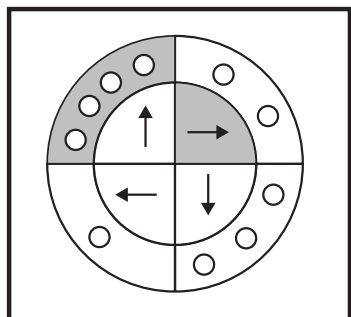




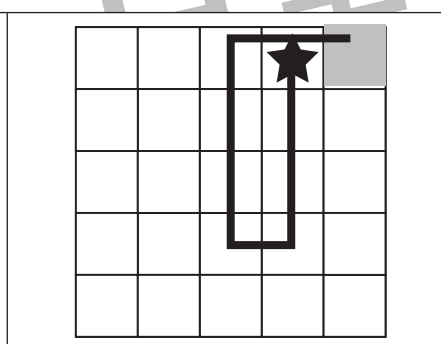
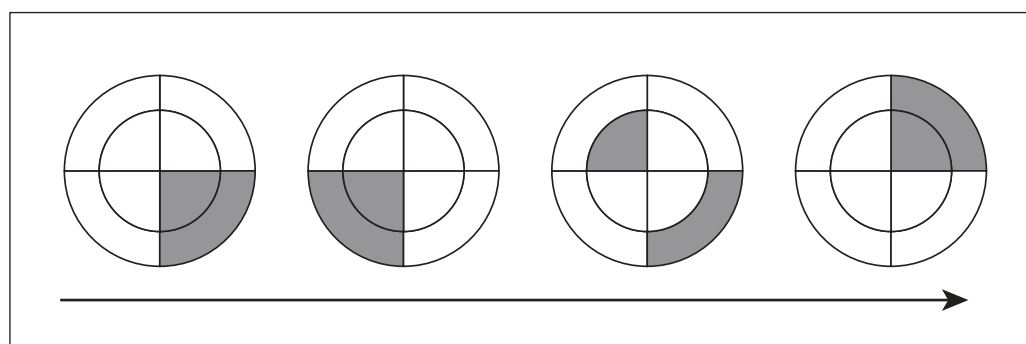
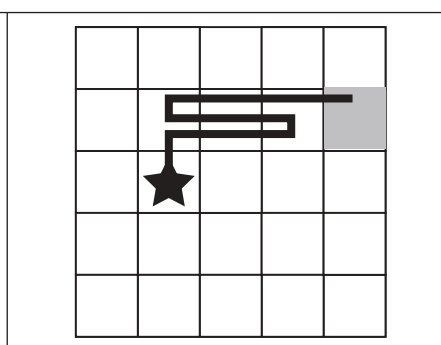
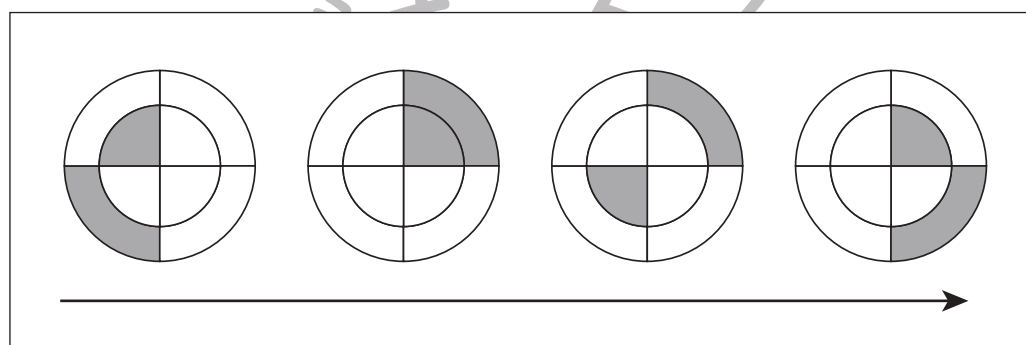
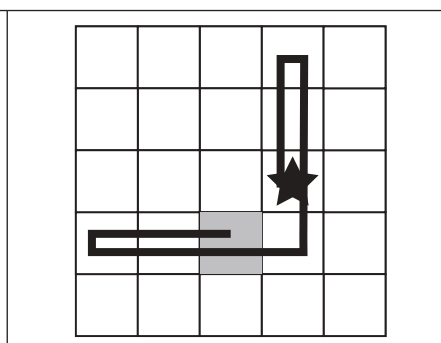
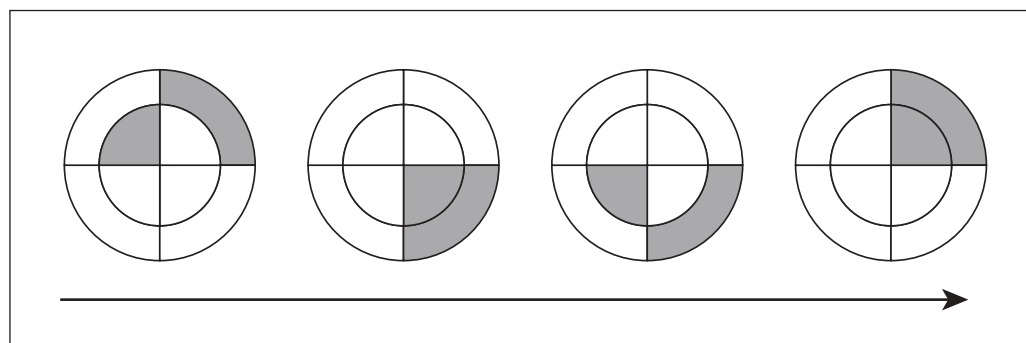
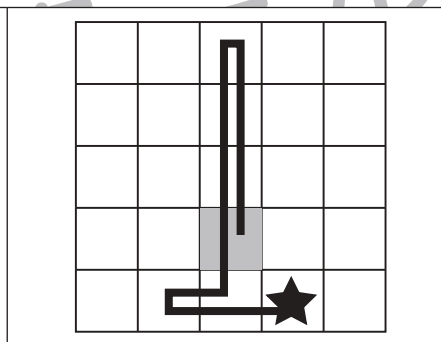
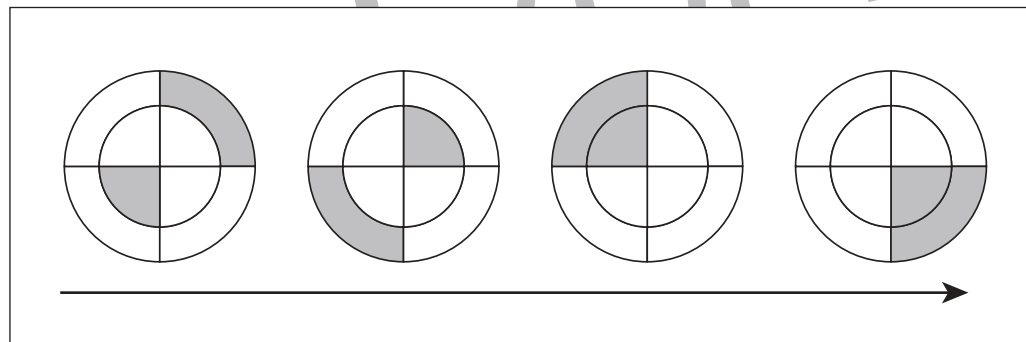
# おうちで、やろう。

Study at home. 小学校受験の家庭学習教材

## 図形：移動 48



左の太い四角の中の丸が約束です。矢印は進む方向、○は進むマスの数です。灰色の部分の矢印の向きに灰色の部分の○の数だけ進みます。右のマスの中の★から左の丸の約束通りに進み、最後に着いたマスを塗ります。



※1. このプリントは、しながわ・目黒こどもスクールのウェブサイトでダウンロードができます。無断複写・引用はご遠慮ください。  
※2. このプリントを活用したオンライン授業のスケジュールは、しながわ・目黒こどもスクールのウェブサイトでご確認ください。





# おうちで、やろう。

Study at home. 小学校受験の家庭学習教材

## 推理：ブラックボックス 30

上の太い四角が約束です。左の形が箱の中を通ると約束にしがたって出てきます。左の形が最後の矢印の後に出てくるものが右の四角の中にあります。このとき、どの箱を通ってきたのかを考えて、通った箱に○をつけます。

×	→		→	○	△	→		→	×
□	→		→	△	○	→		→	□

△	→		→	×
---	---	--	---	---

□	→		→		→	×
---	---	--	---	--	---	---

×	→		→		→	□
---	---	--	---	--	---	---

○	→		→		→	△
---	---	--	---	--	---	---

※1. このプリントは、しながわ・目黒こどもスクールのウェブサイトでダウンロードができます。無断複写・引用はご遠慮ください。

※2. このプリントを活用したオンライン授業のスケジュールは、しながわ・目黒こどもスクールのウェブサイトでご確認ください。



# おうちで、やろう。

Study at home. 小学校受験の家庭学習教材

## 推理：ブラックボックス31

上の太い四角が約束です。左の形が箱の中を通ると約束にしがたって出てきます。左の形が最後の矢印の後に出てくるものが右の四角の中にあります。このとき、どの箱を通ってきたのかを考えて、通った箱に○をつけます。

×	→		→	□	○	→		→	×
△	→		→	○	□	→		→	△

○	→	<table border="1"> <tr><td></td></tr> <tr><td></td></tr> </table>			→	×

×	→	<table border="1"> <tr><td></td></tr> <tr><td></td></tr> </table>			→	<table border="1"> <tr><td></td></tr> <tr><td></td></tr> </table>			→	△

○	→	<table border="1"> <tr><td></td></tr> <tr><td></td></tr> </table>			→	<table border="1"> <tr><td></td></tr> <tr><td></td></tr> </table>			→	□

□	→	<table border="1"> <tr><td></td></tr> <tr><td></td></tr> </table>			→	<table border="1"> <tr><td></td></tr> <tr><td></td></tr> </table>			→	○

※1. このプリントは、しながわ・目黒こどもスクールのウェブサイトからダウンロードができます。無断複写・引用はご遠慮ください。  
 ※2. このプリントを活用したオンライン授業のスケジュールは、しながわ・目黒こどもスクールのウェブサイトでご確認ください。




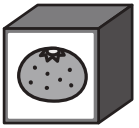



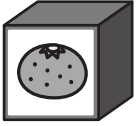







# おうちで、よろう。





Study at home. 小学校受験の家庭学習教材






## 推理：ブラックボックス 32






上の太い四角が約束です。左の形が箱の中を通ると約束にしがたって出てきます。左の形が最後の矢印の後に出てくるものが右の四角の中にあります。このとき、どの箱を通ってきたのかを考えて、通った箱に○をつけます。

	→		→		×	→		→	
	→		→	×	○	→		→	

	→		→		→		→	×
---	---	--	---	--	---	---	---	---

×	→		→		→		→	
---	---	---	---	---	---	--	---	---

	→		→		→		→	
---	---	---	---	---	---	--	---	---

	→		→		→		→	
---	---	---	---	---	---	--	---	---

※1. このプリントは、しながわ・目黒こどもスクールのウェブサイトでダウンロードができます。無断複写・引用はご遠慮ください。

※2. このプリントを活用したオンライン授業のスケジュールは、しながわ・目黒こどもスクールのウェブサイトでご確認ください。

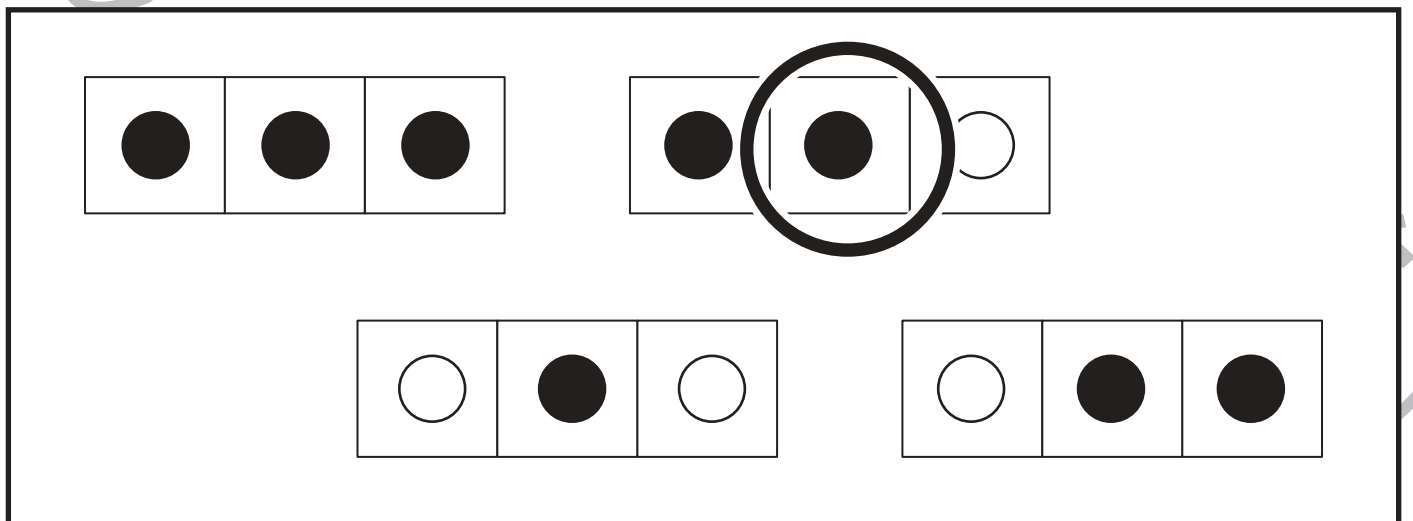
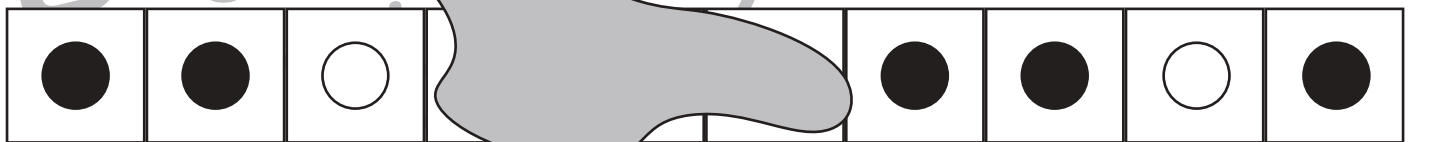
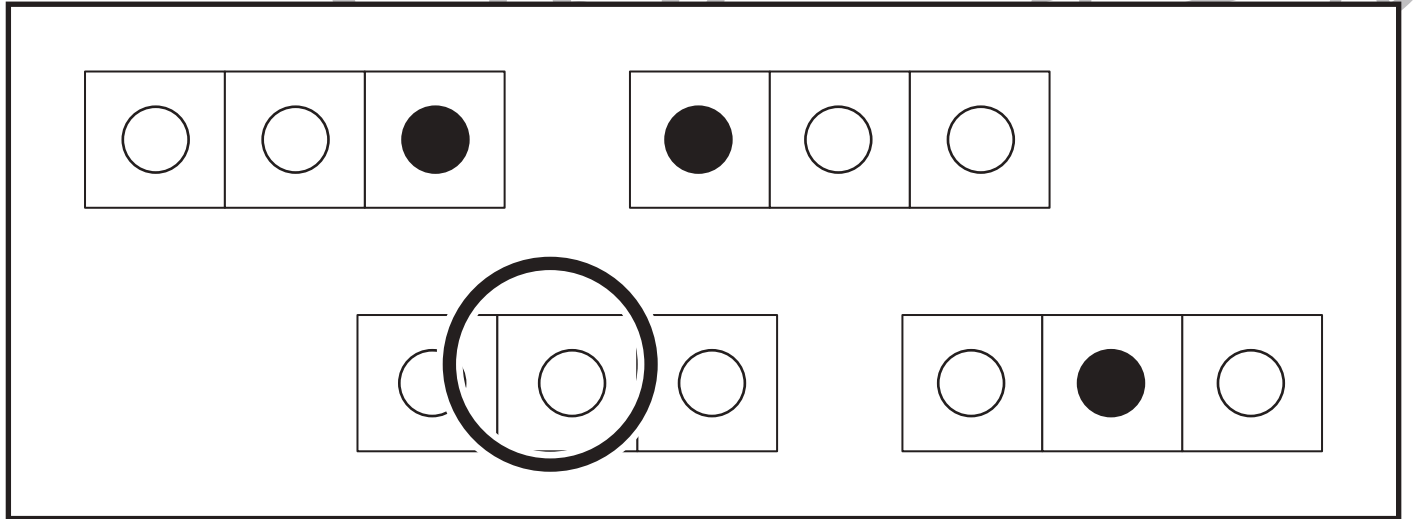
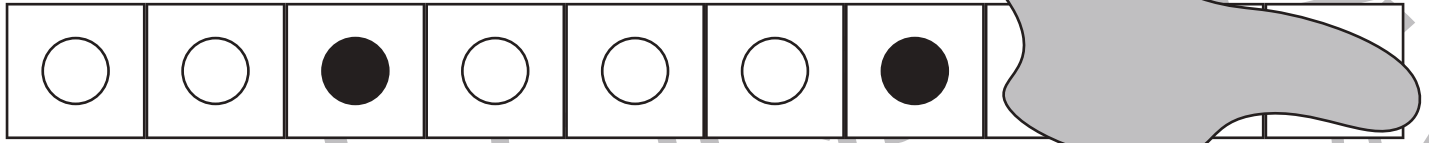


# おうちで、やろう。

Study at home. 小学校受験の家庭学習教材

## 推理：系列完成 28

形がある順番に並んでいます。上からジュースをこぼしてしまい、一部が見えなくなってしまいました。見えなくなっていたところにあてはまるものを下の太い四角の中から探して、○をつけます。



※1. このプリントは、しながわ・目黒こどもスクールのウェブサイトでダウンロードができます。無断複写・引用はご遠慮ください。  
 ※2. このプリントを活用したオンライン授業のスケジュールは、しながわ・目黒こどもスクールのウェブサイトでご確認ください。



# おうちで、やろう。

Study at home. 小学校受験の家庭学習教材

## 推理：系列完成 29

形がある順番に並んでいます。上に布がかかって一部が見えなくなりました。見えなくなってしまったところにあてはまるものを下の太い四角の中から探して、布にかいてある印をつけます。

※1. このプリントは、しながわ・目黒こどもスクールのウェブサイトでダウンロードができます。無断複写・引用はご遠慮ください。  
 ※2. このプリントを活用したオンライン授業のスケジュールは、しながわ・目黒こどもスクールのウェブサイトでご確認ください。



# おうちで、やろう。

Study at home. 小学校受験の家庭学習教材

## 推理：系列完成 30

形がある順番に並んでいます。上に布がかかって一部が見えなくなりました。見えなくなってしまったところにあてはまるものを下の太い四角の中から探して、布にかいてある印をつけます。

Diagram illustrating a logic puzzle. The puzzle consists of several rows of shapes, some of which are partially obscured by grey rectangular blocks representing 'cloths'.

**Row 1:** A sequence of shapes: a white circle, a grey square (under a cloth), a white circle, a black circle, a white circle (under a cloth), and a black circle.

**Row 2:** A sequence of shapes: a white circle, a black circle, a white triangle, a black circle, a white circle, a black circle, a white triangle, a black circle, a white circle, and a black circle.

**Row 3:** A large rectangular area containing two rows of boxes. The top row has a box with a black circle, a box with a white triangle (circled in thick black), and a box with a black circle. The bottom row has a box with a white triangle, a box with a black circle (circled in thick black), and a box with a white circle.

**Row 4:** A sequence of shapes: a white circle, a white triangle, a white triangle, a black circle, a white circle, a white triangle, a white triangle, and a white circle (under a cloth).

**Row 5:** A sequence of shapes: a white circle, a grey square (under a cloth), a white circle, a black circle, a white triangle, a white triangle, a white circle, and a black circle.

**Row 6:** A large rectangular area containing two rows of boxes. The top row has a box with a black circle, a box with a white circle (circled in thick black), and a box with a white triangle. The bottom row has a box with a white triangle, a box with a black circle, a box with a white circle, a box with a black circle, a box with a white triangle (circled in thick black), and a box with a white triangle.

※1. このプリントは、しながわ・目黒こどもスクールのウェブサイトでダウンロードができます。無断複写・引用はご遠慮ください。

※2. このプリントを活用したオンライン授業のスケジュールは、しながわ・目黒こどもスクールのウェブサイトでご確認ください。



# おうちで、やろう。

Study at home. 小学校受験の家庭学習教材

数量：広さ 18

それぞれの四角の白い部分と灰色の部分の広さを比べます。広さが狭い方を考えて下のマスに○をつけます。同じ広さの場合は両方とも○をつけます。


※1. このプリントは、しながわ・目黒こどもスクールのウェブサイトでダウンロードができます。無断複写・引用はご遠慮ください。

※2. このプリントを活用したオンライン授業のスケジュールは、しながわ・目黒こどもスクールのウェブサイトでご確認ください。



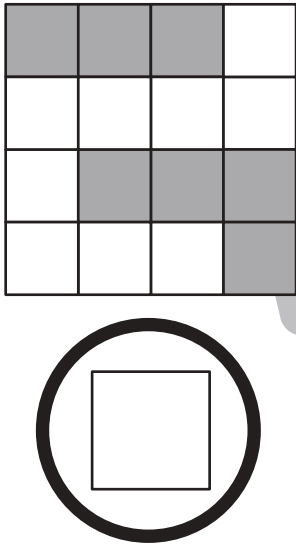
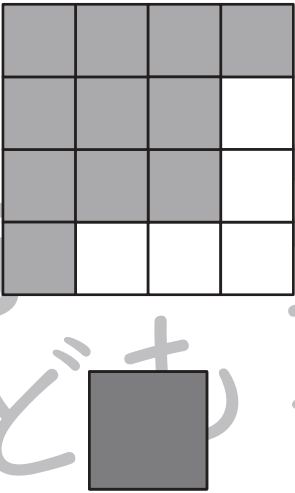
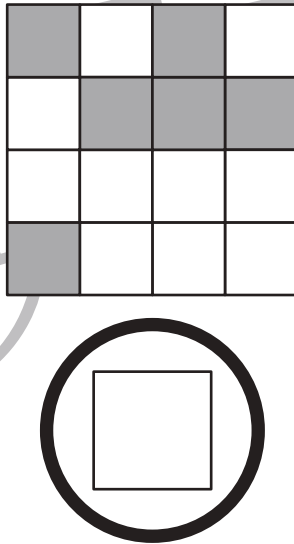
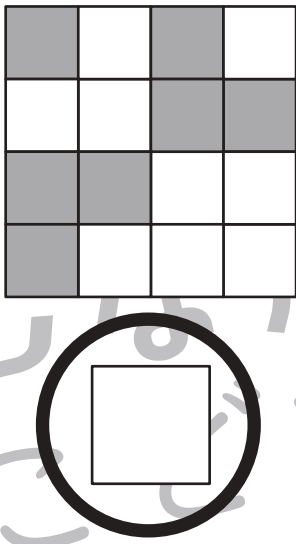
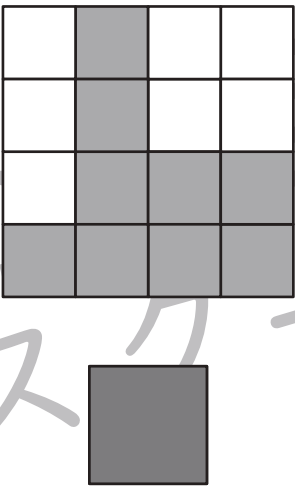

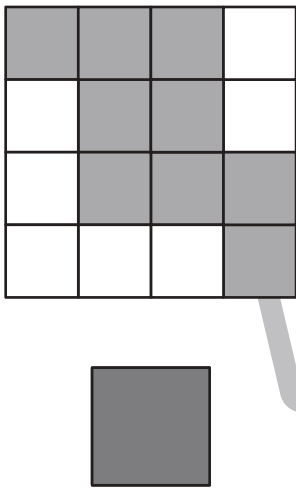
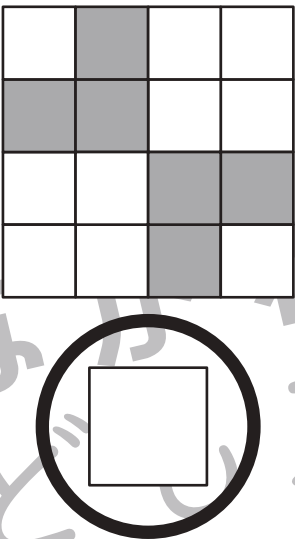
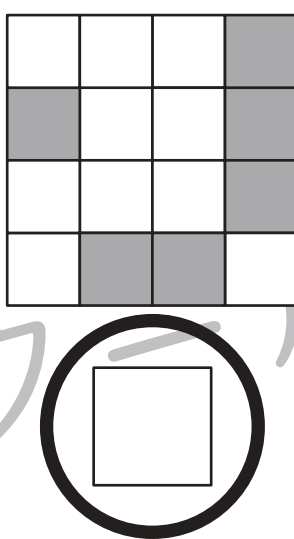


# おうちで、やろう。

Study at home. 小学校受験の家庭学習教材

数量：広さ 19

それぞれの四角の白い部分と灰色の部分の広さを比べます。灰色のマスの方が広ければ下の四角に色を塗り、白いマスの方が広ければ下の四角を○で囲みます。

※1. このプリントは、しながわ・目黒こどもスクールのウェブサイトでダウンロードができます。無断複写・引用はご遠慮ください。

※2. このプリントを活用したオンライン授業のスケジュールは、しながわ・目黒こどもスクールのウェブサイトでご確認ください。