



# おうちで、やろう。

Study at home. 小学校受験の家庭学習教材

## 図形：回転鏡 13

左の四角のマスに矢印の方向へ 1 回倒した時の見え方を矢印の右のマスにかきます。その後、その四角を鏡で映したときの見え方を考えて一番右のマスにかきます。

--	--	--	--	--

--	--	--	--	--

--	--	--	--	--

--	--	--	--	--

--	--	--	--	--

※1. このプリントは、しながわ・目黒こどもスクールのウェブサイトからダウンロードができます。無断複写・引用はご遠慮ください。  
 ※2. このプリントを活用したオンライン授業のスケジュールは、しながわ・目黒こどもスクールのウェブサイトでご確認ください。



# おうちで、やろう。

Study at home. 小学校受験の家庭学習教材

## 図形：回転鏡 14

左の四角のマスで矢印の方向へ 1 回倒した時の見え方を矢印の右のマスにかきます。その後、その四角を鏡で映したときの見え方を考えて一番右のマスにかきます。

--	--	--	--

--	--	--	--

--	--	--	--

--	--	--	--

--	--	--	--

※1. このプリントは、しながわ・目黒こどもスクールのウェブサイトからダウンロードできます。無断複写・引用はご遠慮ください。

※2. このプリントを活用したオンライン授業のスケジュールは、しながわ・目黒こどもスクールのウェブサイトでご確認ください。


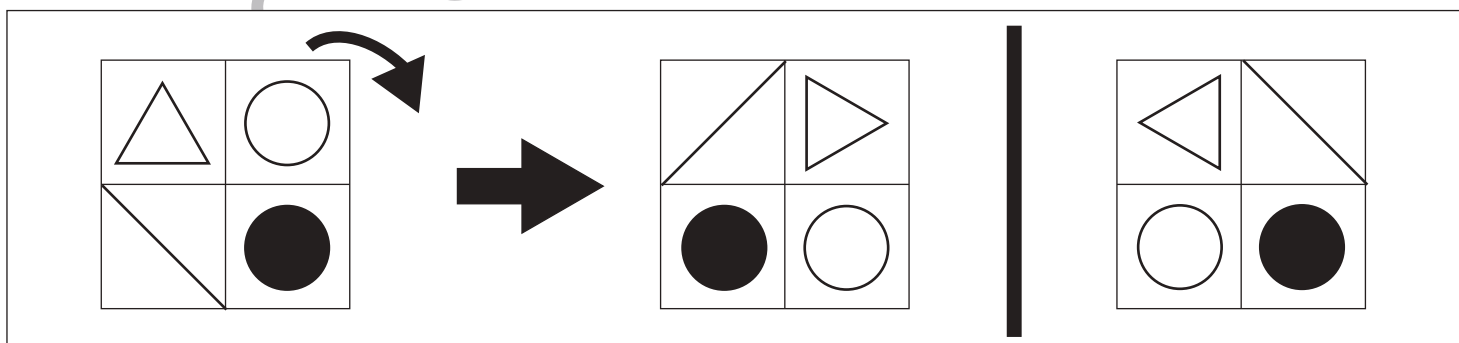
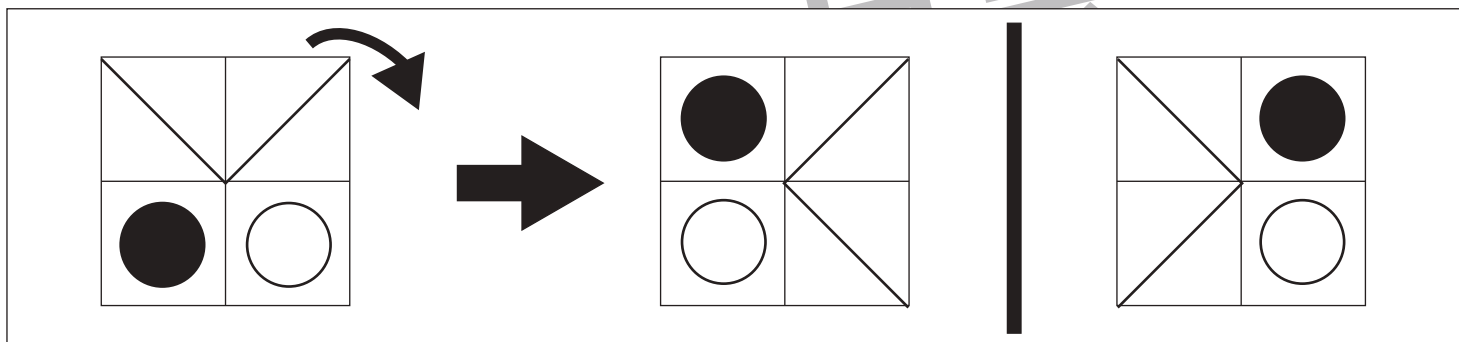
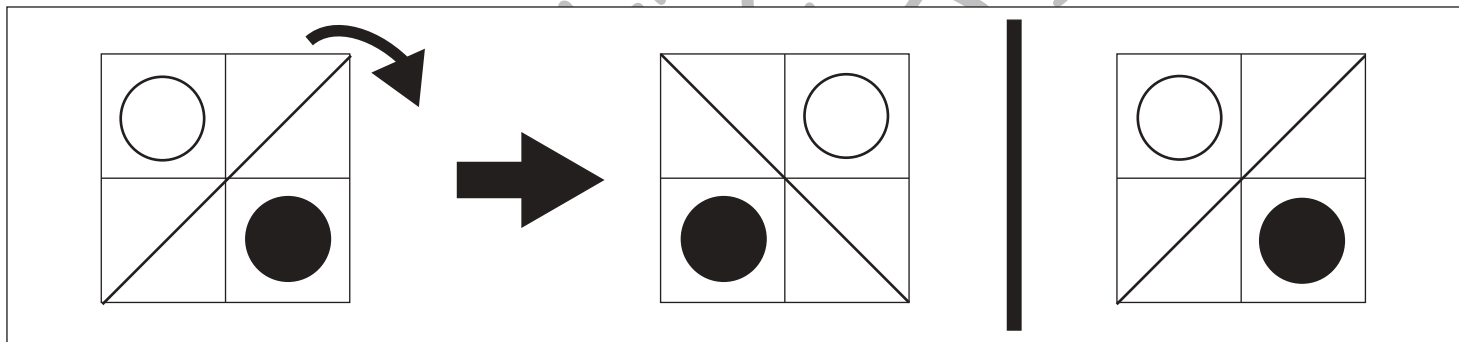
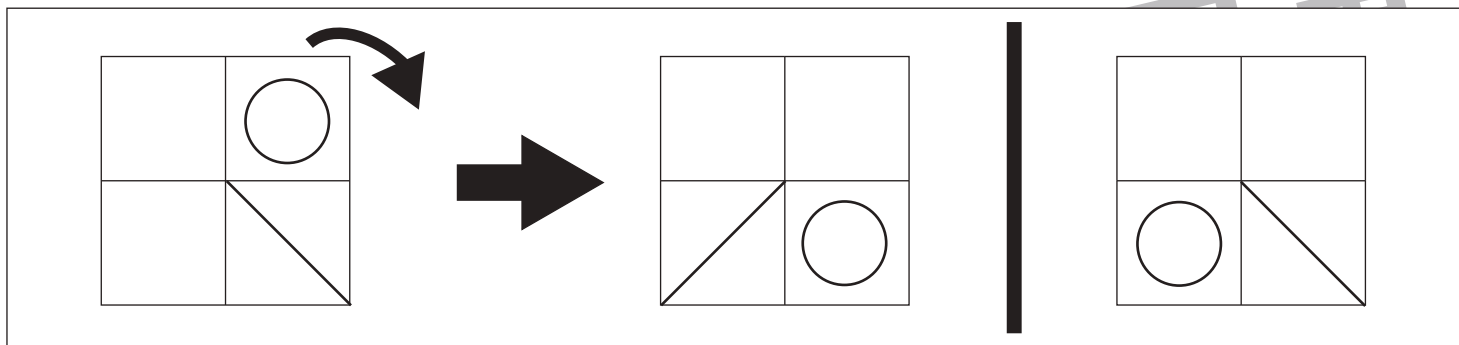


# おうちで、やろう。

Study at home. 小学校受験の家庭学習教材

## 図形：回転鏡 15

左の四角のマスを矢印の方向へ 1 回倒した時の見え方を矢印の右のマスにかきます。その後、その四角を鏡で映したときの見え方を考えて一番右のマスにかきます。



※1. このプリントは、しながわ・目黒こどもスクールのウェブサイトダウンロードができます。無断複写・引用はご遠慮ください。

※2. このプリントを活用したオンライン授業のスケジュールは、しながわ・目黒こどもスクールのウェブサイトでご確認ください。



# おうちで、やろう。

Study at home. 小学校受験の家庭学習教材

## 推理：ブラックボックス 33

上の太い四角の中が約束です。クマとパンダの箱は魔法の箱です。この箱の左にあるものが入ると箱の右のようになって出てきます。まず、この箱がどんな箱なのか約束を考えます。そして箱の左のものが箱から出てきたときを考えて右の空いている場所にかきます。


※1. このプリントは、しながわ・目黒こどもスクールのウェブサイトでダウンロードができます。無断複写・引用はご遠慮ください。  
 ※2. このプリントを活用したオンライン授業のスケジュールは、しながわ・目黒こどもスクールのウェブサイトでご確認ください。

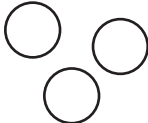

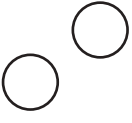
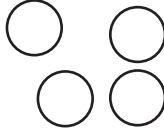


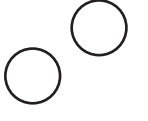


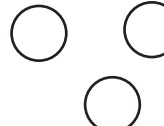




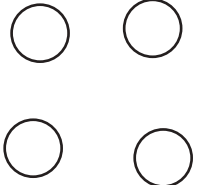



# おうちで、やろう。





Study at home. 小学校受験の家庭学習教材

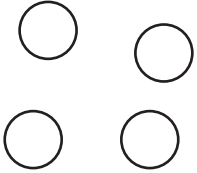



## 推理：ブラックボックス 34

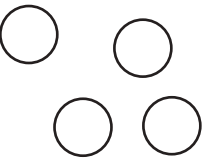




上の太い四角の中が約束です。クマとキツネの箱は魔法の箱です。この箱の左にあるものが入ると箱の右のようになって出てきます。まず、この箱がどんな箱なのか約束を考えます。そして箱の左のものが箱から出てきたときを考えて右の空いている場所にかきます。

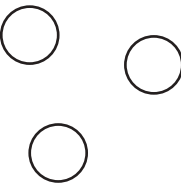





 →  → 	 →  → 
 →  → 	 →  → 

 →  →  → 

 →  →  → 

 →  →  → 

 →  →  →  → 

 →  →  →  →  → 

※1. このプリントは、しながわ・目黒こどもスクールのウェブサイトでダウンロードができます。無断複写・引用はご遠慮ください。  
 ※2. このプリントを活用したオンライン授業のスケジュールは、しながわ・目黒こどもスクールのウェブサイトでご確認ください。



# おうちで、やろう。

Study at home. 小学校受験の家庭学習教材

数量：条件推理 22

それぞれ縦と横に3つずつ四角が並んでいます。縦の3つ、横の3つの四角の中の丸を合わせると丸の数が5個になります。この約束のとき、空いている太い四角の中に丸が何個あればよいですか。その数だけ○をかきます。

The puzzle consists of a 3x3 grid of squares. The center square is thicker than the others. Each square contains a certain number of dots (black or white). The goal is to determine how many white dots to put in the thicker center square so that the total number of dots in each row and column is 5.

3 black dots	3 black dots	1 black dot
2 black dots	1 white dot	2 black dots
1 black dot	1 black dot	2 black dots

1 white dot	2 black dots	2 black dots
2 black dots	1 white dot	1 black dot
1 white dot	2 black dots	1 black dot

1 black dot	2 white dots	2 black dots
2 black dots	1 white dot	2 white dots
1 black dot	2 white dots	2 black dots

※1. このプリントは、しながわ・目黒こどもスクールのウェブサイトでダウンロードができます。無断複写・引用はご遠慮ください。  
 ※2. このプリントを活用したオンライン授業のスケジュールは、しながわ・目黒こどもスクールのウェブサイトでご確認ください。



# おうちで、やろう。

Study at home. 小学校受験の家庭学習教材

数量：条件推理 23

それぞれ縦と横に3つずつ四角が並んでいます。縦の3つ、横の3つの四角の中の丸を合わせると丸の数が7個になります。この約束のとき、空いている太い四角の中に丸が何個あればよいですか。その数だけ○をかきます。

※1. このプリントは、しながわ・目黒こどもスクールのウェブサイトでダウンロードができます。無断複写・引用はご遠慮ください。  
 ※2. このプリントを活用したオンライン授業のスケジュールは、しながわ・目黒こどもスクールのウェブサイトでご確認ください。


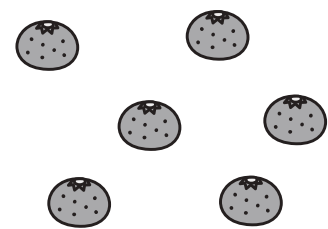

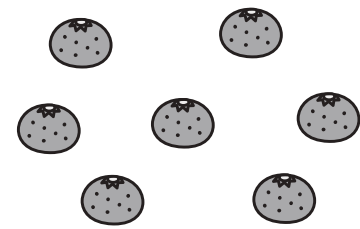





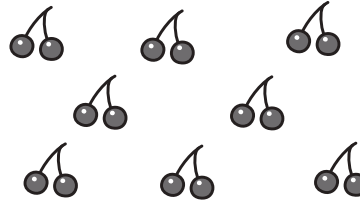





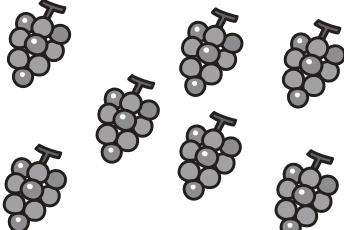
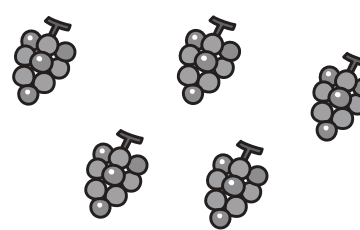
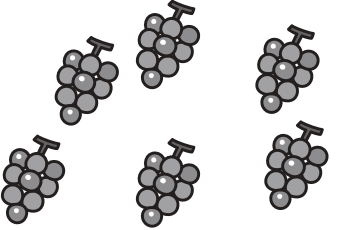












# おうちで、やろう。

Study at home. 小学校受験の家庭学習教材

数量：等分7

左の人数で仲良く分けられる物を右から選び下の四角に○をかきます。分けられなかった場合は足りない数だけ△をかきます。

※1. このプリントは、しながわ・目黒こどもスクールのウェブサイトでダウンロードができます。無断複写・引用はご遠慮ください。

※2. このプリントを活用したオンライン授業のスケジュールは、しながわ・目黒こどもスクールのウェブサイトでご確認ください。





# おうちで、やろう。

Study at home. 小学校受験の家庭学習教材

数量：等分8

左の人数で仲良く分けられる物を右から選び下の四角に○をかきます。分けられなかった場合は足りない数だけ△をかきます。





※1. このプリントは、しながわ・目黒こどもスクールのウェブサイトでダウンロードができます。無断複写・引用はご遠慮ください。

※2. このプリントを活用したオンライン授業のスケジュールは、しながわ・目黒こどもスクールのウェブサイトでご確認ください。