

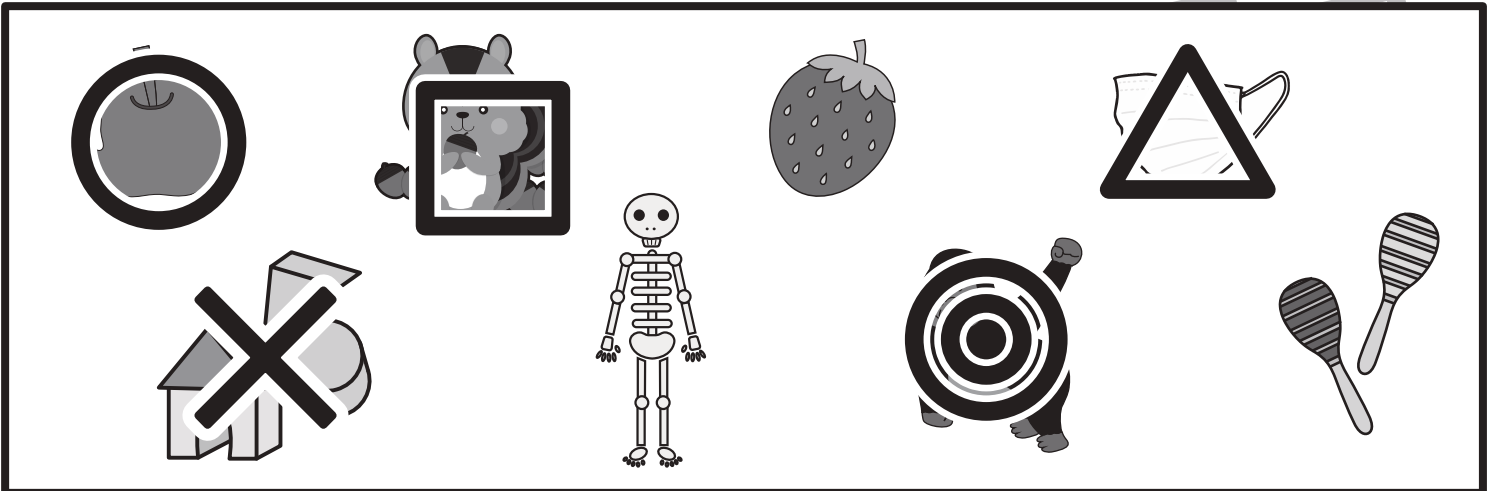
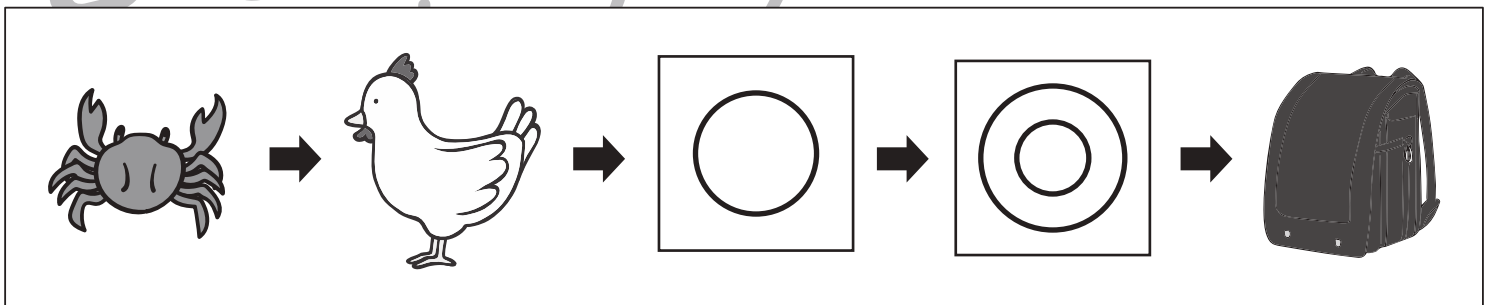
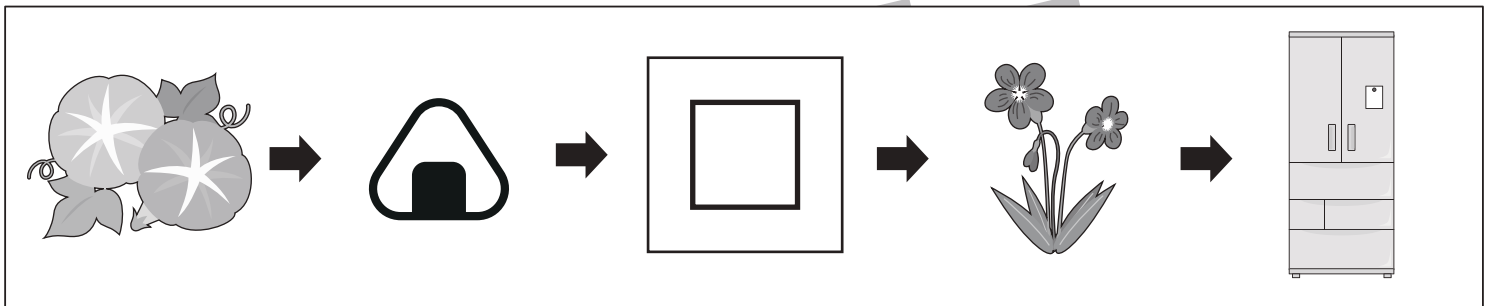
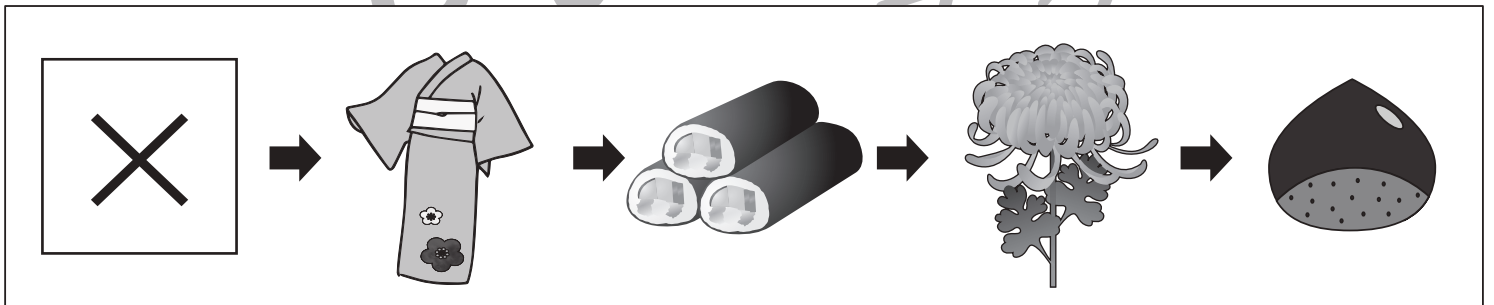
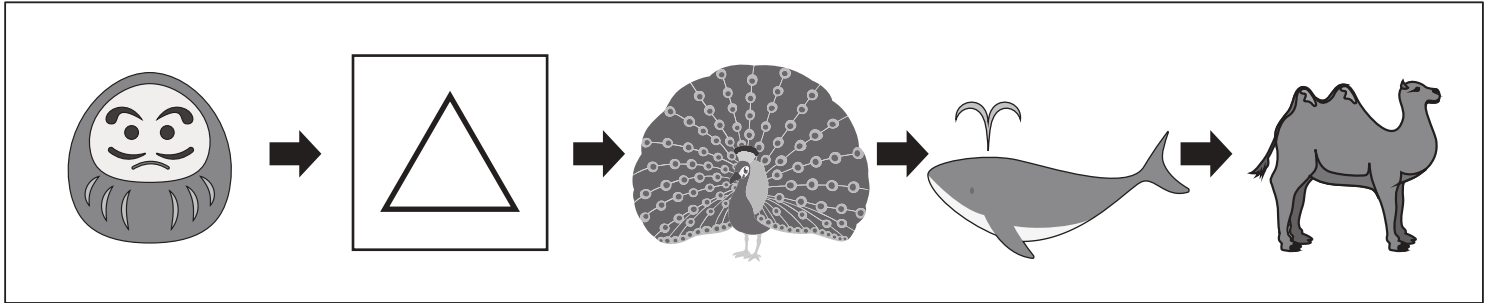


おうちで、やろう。

Study at home. 小学校受験の家庭学習教材

言語：しりとり 16

左から順番にしりとりをします。記号のある四角の中に入る絵を下の四角の中から選んで、それぞれの四角の中の記号をつけます。



※1. このプリントは、しながわ・目黒こどもスクールのウェブサイトからダウンロードできます。無断複写・引用はご遠慮ください。

※2. このプリントを活用したオンライン授業のスケジュールは、しながわ・目黒こどもスクールのウェブサイトでご確認ください。



おうちで、やろう。

Study at home. 小学校受験の家庭学習教材

図形：点図形 71

左のお手本には黒い線と点線があります。このうち点線の形だけを右に線でかきます。

※1. このプリントは、しながわ・目黒こどもスクールのウェブサイトでダウンロードができます。無断複写・引用はご遠慮ください。
 ※2. このプリントを活用したオンライン授業のスケジュールは、しながわ・目黒こどもスクールのウェブサイトでご確認ください。



おうちで、やろう。

Study at home. 小学校受験の家庭学習教材

推理：じゃんけん27

動物たちが左上の四角の通りにじゃんけんをします。勝った動物がマスずつ進みます。この約束の時、二匹の中でより遠くまで進んだ動物がどのマスにいるのかを考えて、その場所に○をかきます。

→

→

→

→

※1. このプリントは、しながわ・目黒こどもスクールのウェブサイトでダウンロードができます。無断複写・引用はご遠慮ください。
 ※2. このプリントを活用したオンライン授業のスケジュールは、しながわ・目黒こどもスクールのウェブサイトでご確認ください。



おうちで、やろう。

Study at home. 小学校受験の家庭学習教材

推理：じゃんけん 28

動物たちが左上の四角の通りにじゃんけんをします。勝った動物がニマスずつ進みます。あいこの時はどちらの動物も一マス進みます。この約束の時、二匹の中でより遠くまで進んだ動物がどのマスにいるのかを考えて、その場所に○をかきます。

→

						○						
--	--	--	--	--	--	---	--	--	--	--	--	--

→

								○				
--	--	--	--	--	--	--	--	---	--	--	--	--

→

												○	
--	--	--	--	--	--	--	--	--	--	--	--	---	--

→

												○	
--	--	--	--	--	--	--	--	--	--	--	--	---	--

※1. このプリントは、しながわ・目黒こどもスクールのウェブサイトでダウンロードができます。無断複写・引用はご遠慮ください。
※2. このプリントを活用したオンライン授業のスケジュールは、しながわ・目黒こどもスクールのウェブサイトでご確認ください。



おうちで、やろう。

Study at home. 小学校受験の家庭学習教材

推理：じゃんけん 29

動物たちが左上の四角の通りにじゃんけんをします。勝った動物がニマスずつ進みます。あいこの時はどちらの動物も一マス進みます。この約束の時、二匹の中でより遠くまで進んだ動物がどのマスにいるのかを考えて、いぬの方が遠くまで進んでいれば○、うさぎの方が遠くまで進んでいれば×をその場所にかきます。

→ | | | | | ○ | | | | |

→ | | | | | ○ | | | | |

→ | | | | | | | | | × |

→ | | | | | | | | | × |

※1. このプリントは、しながわ・目黒こどもスクールのウェブサイトでダウンロードができます。無断複写・引用はご遠慮ください。
※2. このプリントを活用したオンライン授業のスケジュールは、しながわ・目黒こどもスクールのウェブサイトでご確認ください。

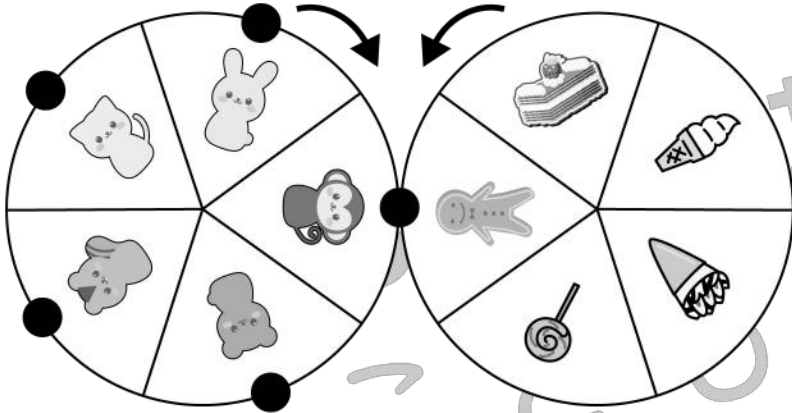


おうちで、やろう。

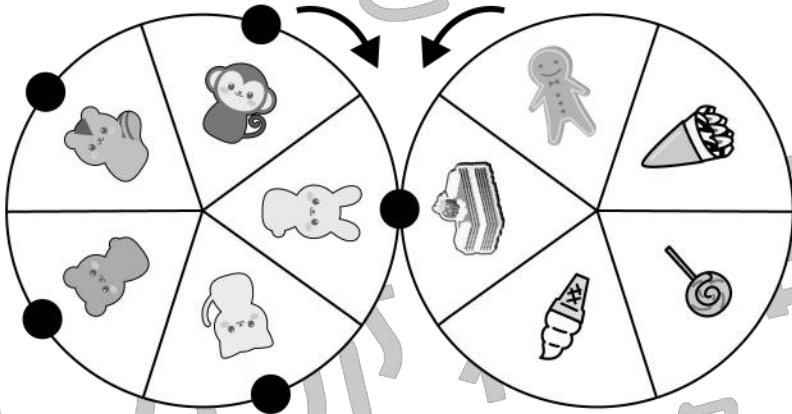
Study at home. 小学校受験の家庭学習教材

推理：ルーレット5


2つのルーレットが矢印の方向へ回ります。左の動物のルーレットの●が右の食べ物のルーレットとくっついていきます。右の四角の太い枠の動物は今の場所にくっつけている食べ物が描いてあります。このとき、それぞれのルーレットが回って残りの動物の●とくっつく食べ物を考えて右の四角に○をつけます。



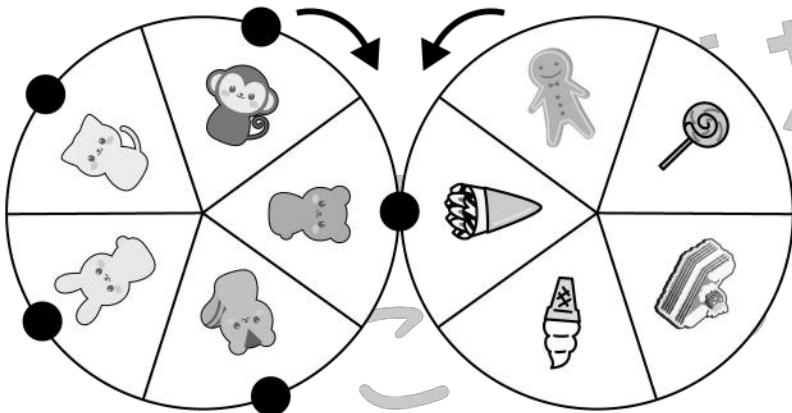
●	●				
●	●	●	●	●	●
●	●	●	●	●	●
●	●	●	●	●	●
●	●	●	●	●	●



●	●				
●	●	●	●	●	●
●	●	●	●	●	●
●	●	●	●	●	●
●	●	●	●	●	●



●	●				
●	●	●	●	●	●
●	●	●	●	●	●
●	●	●	●	●	●
●	●	●	●	●	●



●	●				
●	●	●	●	●	●
●	●	●	●	●	●
●	●	●	●	●	●
●	●	●	●	●	●

※1. このプリントは、しながわ・目黒こどもスクールのウェブサイトからダウンロードできます。無断複写・引用はご遠慮ください。

※2. このプリントを活用したオンライン授業のスケジュールは、しながわ・目黒こどもスクールのウェブサイトでご確認ください。




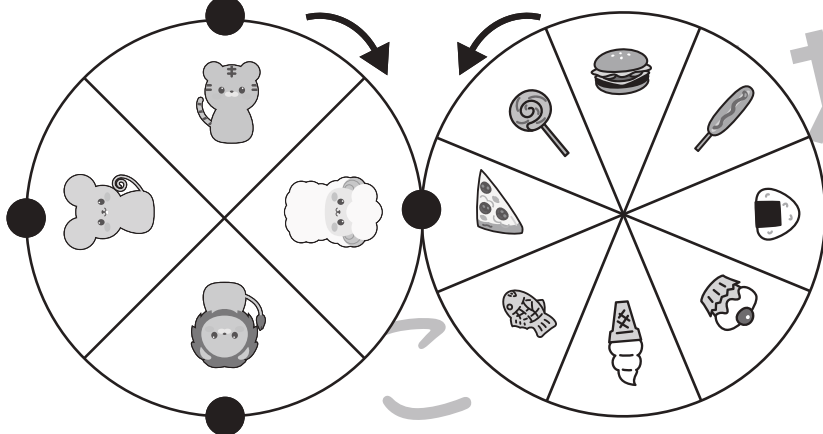

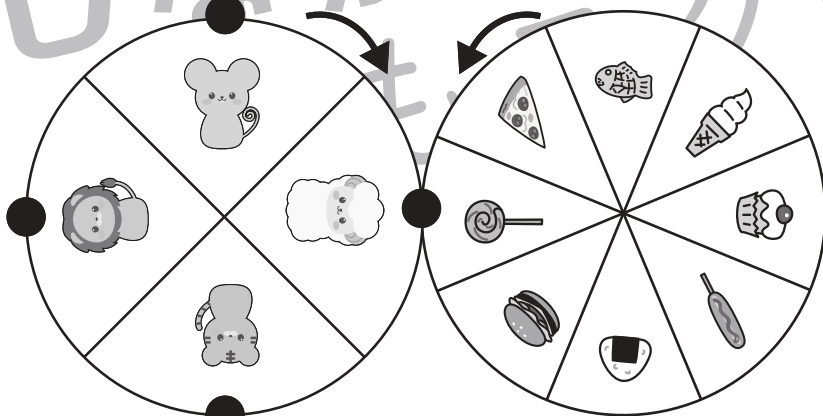

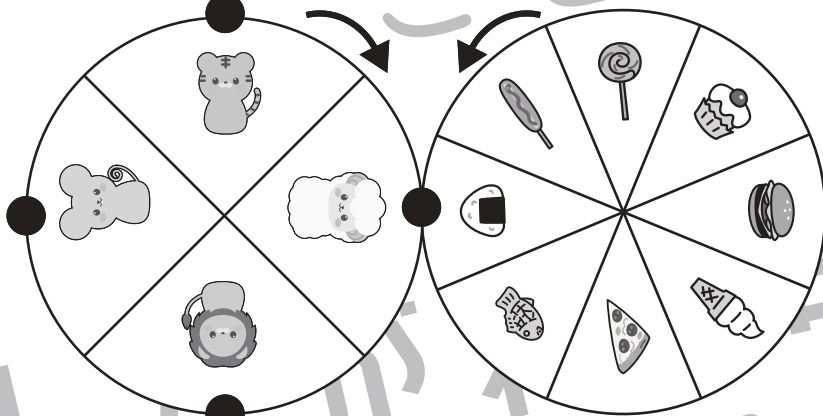

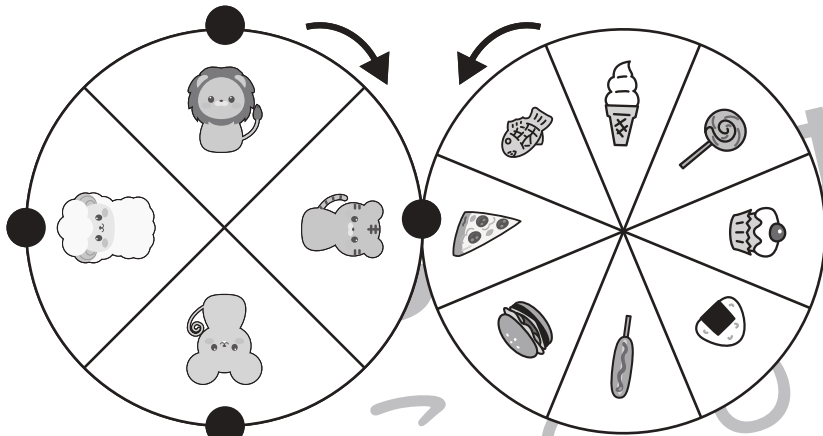


おうちで、やろう。

Study at home. 小学校受験の家庭学習教材

推理：ルーレット6

2つのルーレットが矢印の方向へ回ります。左の動物のルーレットの●が右の食べ物のルーレットとくっついていきます。それぞれのルーレットが回ったとき、右の四角の中の動物の●とくっつく食べ物を考えてそれぞれの記号をつけます。



※1. このプリントは、しながわ・目黒こどもスクールのウェブサイトからダウンロードできます。無断複写・引用はご遠慮ください。

※2. このプリントを活用したオンライン授業のスケジュールは、しながわ・目黒こどもスクールのウェブサイトでご確認ください。



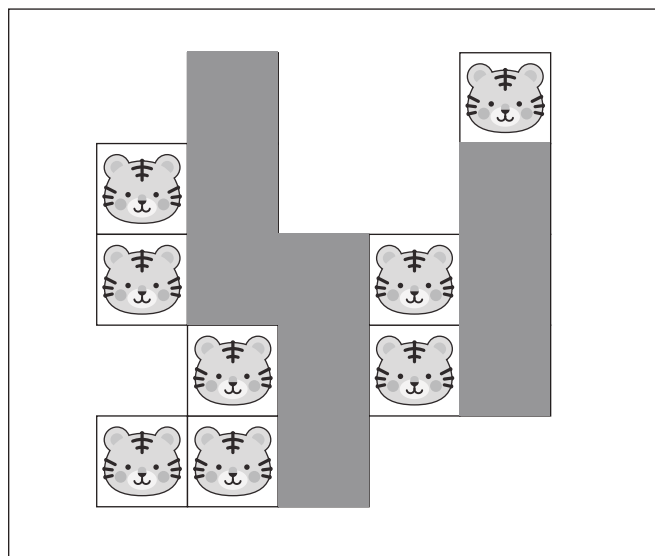


おうちで、やろう。

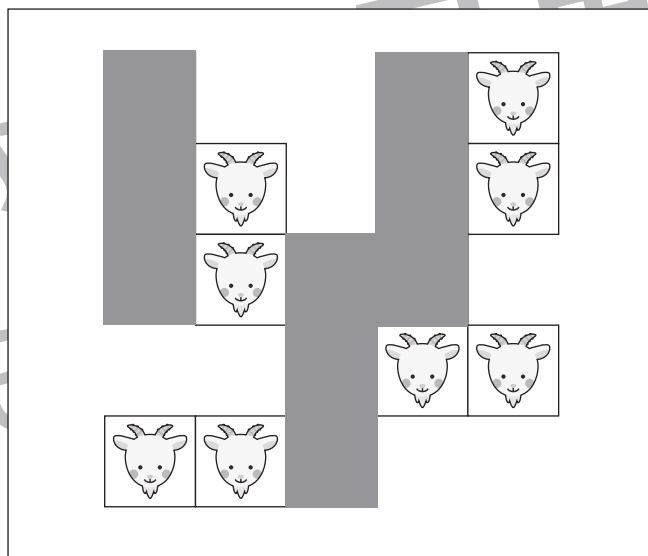
Study at home. 小学校受験の家庭学習教材

推理：隠れた絵 7

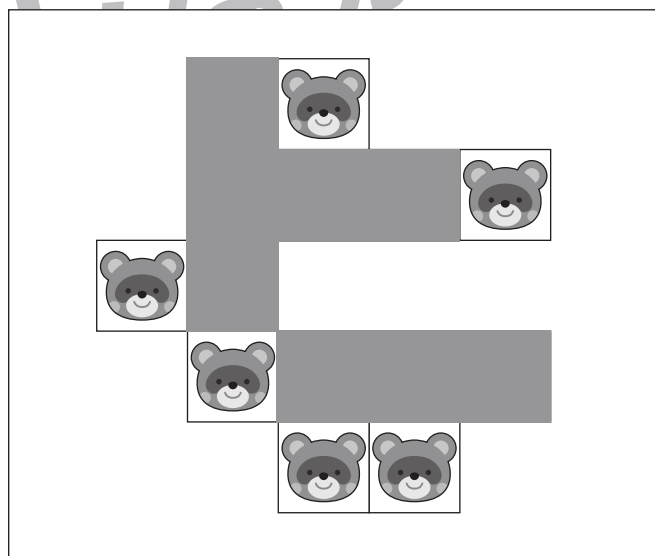
それぞれの四角の中のマスには同じ絵があります。灰色で隠れている場所に絵がいくつ隠れているかを考えて、その数だけ下の太い四角の中に○をかきます。




○ × 9



○ × 9



○ × 8



○ × 8

※1. このプリントは、しながわ・目黒こどもスクールのウェブサイトでダウンロードができます。無断複写・引用はご遠慮ください。
※2. このプリントを活用したオンライン授業のスケジュールは、しながわ・目黒こどもスクールのウェブサイトでご確認ください。



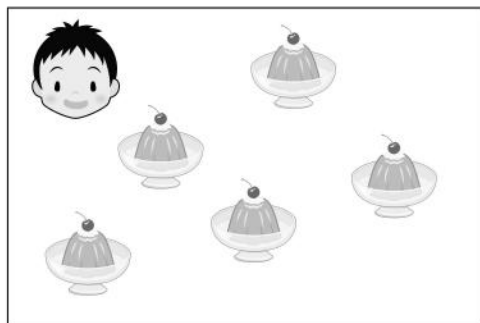
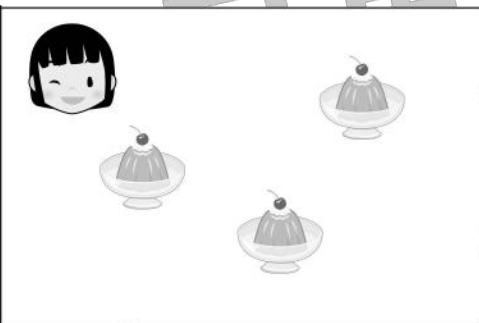




おうちで、やろう。



Study at home. 小学校受験の家庭学習教材



数量：数の操作 8

男の子と女の子はそれぞれ同じものを持っていますが、持っている数が違います。どちらかがいくつかあげると2人の数が同じになります。その数だけ真ん中の四角に、女の子があげるなら△を、男の子があげるなら○をかきます。

	$\bigcirc \times 1$	
---	---------------------	---

	$\triangle \times 2$	
--	----------------------	--

	$\triangle \times 1$	
---	----------------------	---

	$\bigcirc \times 2$	
---	---------------------	---

	$\triangle \times 3$	
---	----------------------	---

※1. このプリントは、しながわ・目黒こどもスクールのウェブサイトでダウンロードができます。無断複写・引用はご遠慮ください。

※2. このプリントを活用したオンライン授業のスケジュールは、しながわ・目黒こどもスクールのウェブサイトでご確認ください。



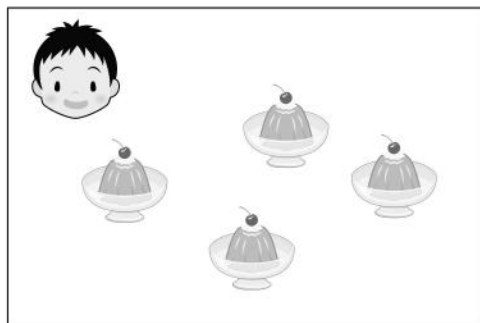



おうちで、やろう。

Study at home. 小学校受験の家庭学習教材


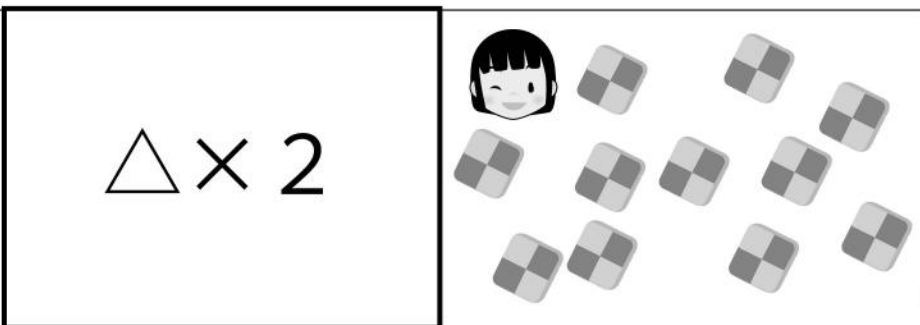
数量：数の操作9

男の子と女の子はそれぞれ同じものを持っていますが、持っている数が違います。どちらかがいくつかあげると2人の数が同じになります。その数だけ真ん中の四角に、女の子があげるなら△を、男の子があげるなら○をかきます。

	$\triangle \times 2$	
---	----------------------	--

	$\triangle \times 1$	
--	----------------------	---

	$\circ \times 3$	
---	------------------	--

	$\triangle \times 2$	
---	----------------------	--

	$\triangle \times 1$	
---	----------------------	--

※1. このプリントは、しながわ・目黒こどもスクールのウェブサイトでダウンロードができます。無断複写・引用はご遠慮ください。

※2. このプリントを活用したオンライン授業のスケジュールは、しながわ・目黒こどもスクールのウェブサイトでご確認ください。

