


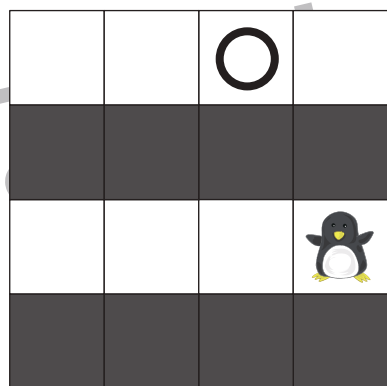

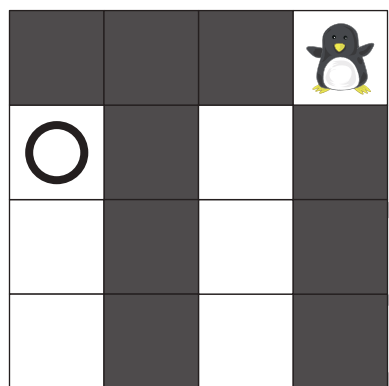
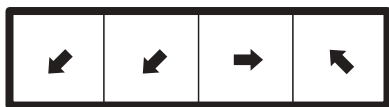
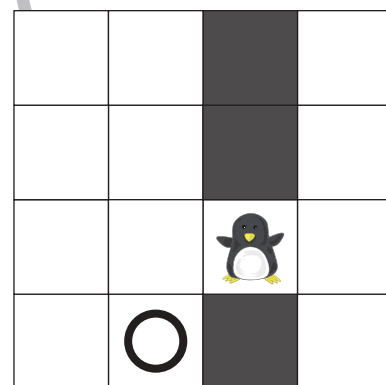

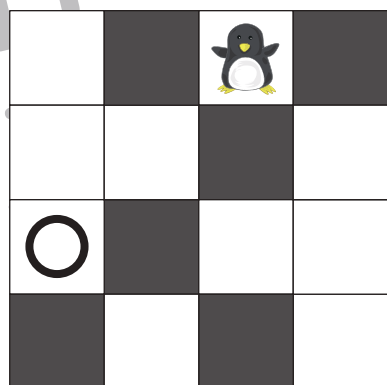
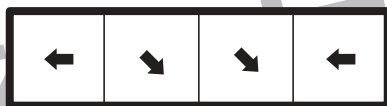


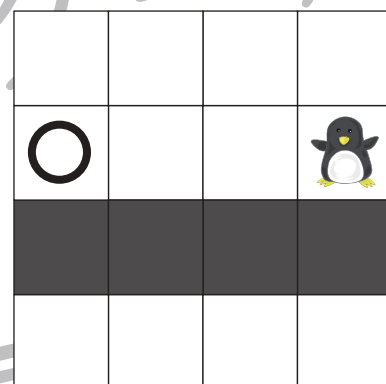
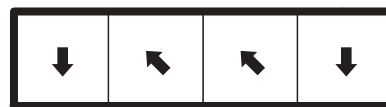
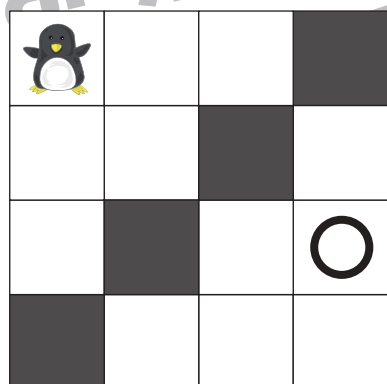

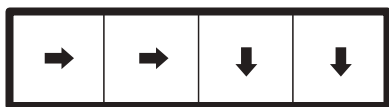


# おうちで、やろう。

Study at home. 小学校受験の家庭学習教材

## 図形：移動 49

ペンギンが上の太枠の矢印を左から順番に、マスの上を進んでいきます。白いマスの道はそのまま進めますが、黒い模様のマスは1つ飛ばして移動します。矢印が2つ並んでいるときは、2マス分進みます。この約束で、右端の矢印までペンギンが進んだとき、どこに着くかを考えて、そのマスの場所に○をつけましょう。



※1. このプリントは、しながわ・目黒こどもスクールのウェブサイトでダウンロードができます。無断複写・引用はご遠慮ください。

※2. このプリントを活用したオンライン授業のスケジュールは、しながわ・目黒こどもスクールのウェブサイトでご確認ください。



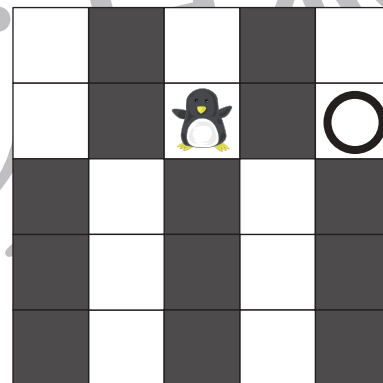
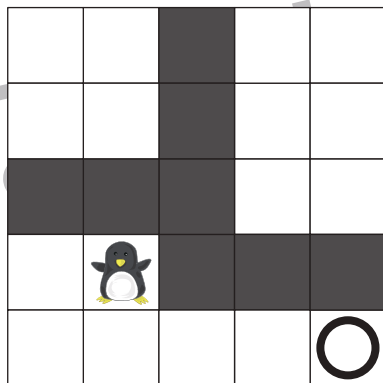
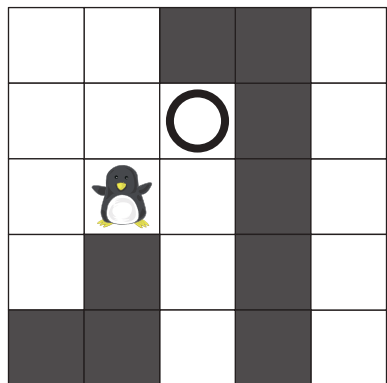
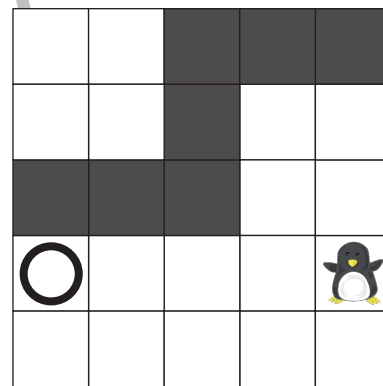
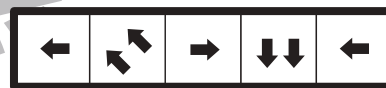
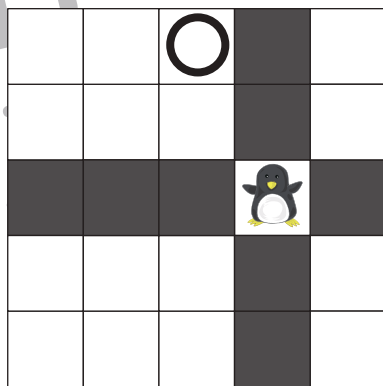
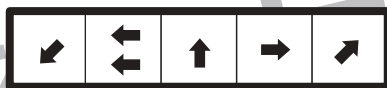
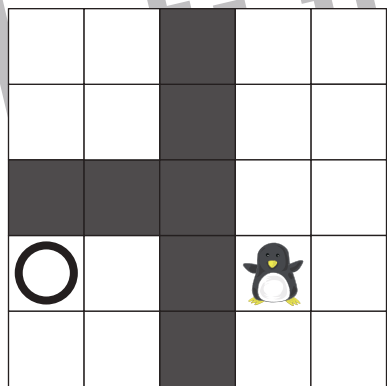
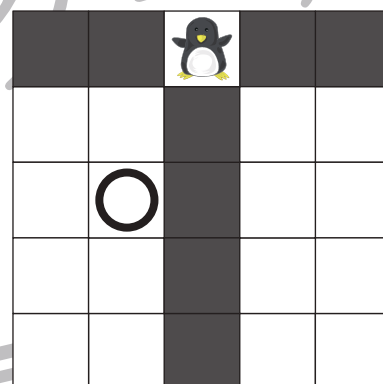

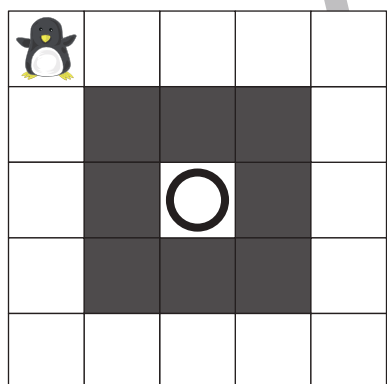


# おうちで、やろう。

Study at home. 小学校受験の家庭学習教材

図形：移動 50

ペンギンが上の太枠の矢印を左から順番に、マスの上を進んでいきます。白いマスの道はそのまま進めますが、黒い模様のマスは1つ飛ばして移動します。矢印が2つ並んでいるときは、2マス分進みます。この約束で、右端の矢印までペンギンが進んだとき、どこに着くかを考えて、そのマスの場所に○をつけましょう。



※1. このプリントは、しながわ・目黒こどもスクールのウェブサイトでダウンロードができます。無断複写・引用はご遠慮ください。

※2. このプリントを活用したオンライン授業のスケジュールは、しながわ・目黒こどもスクールのウェブサイトでご確認ください。





# おうちで、やろう。

Study at home. 小学校受験の家庭学習教材

## 図形：重ね 49

左の2枚の板は透明です。一番左の板を左から2番目の板に太い線がぴったり合うように重ねます。このときの見え方を考えてすぐ右の四角にかきます。答えを間違えてしまった場合は一番右の四角にかきなおします。

--	--	--	--

--	--	--	--

--	--	--	--

--	--	--	--

--	--	--	--

※1. このプリントは、しながわ・目黒こどもスクールのウェブサイトでダウンロードができます。無断複写・引用はご遠慮ください。

※2. このプリントを活用したオンライン授業のスケジュールは、しながわ・目黒こどもスクールのウェブサイトでご確認ください。



# おうちで、やろう。

Study at home. 小学校受験の家庭学習教材

図形：重ね 50

左の2枚の板は透明です。一番左の板を左から2番目の板に太い線がぴったり合うように重ねます。このときの見え方を考えてすぐ右の四角にかきます。答えを間違えてしまった場合は一番右の四角にかきなおします。

--	--	--	--

--	--	--	--

--	--	--	--

--	--	--	--

--	--	--	--

※1. このプリントは、しながわ・目黒こどもスクールのウェブサイトでダウンロードができます。無断複写・引用はご遠慮ください。  
※2. このプリントを活用したオンライン授業のスケジュールは、しながわ・目黒こどもスクールのウェブサイトでご確認ください。



# おうちで、やろう。

Study at home. 小学校受験の家庭学習教材

## 図形：重ね 51

左の2枚の板は透明です。一番左の板を左から2番目の板に太い線がぴったり合うように重ねます。このときの見え方を考えてすぐ右の四角にかきます。答えを間違えてしまった場合は一番右の四角にかきなおします。

--	--	--	--

--	--	--	--

--	--	--	--

--	--	--	--

--	--	--	--

※1. このプリントは、しながわ・目黒こどもスクールのウェブサイトでダウンロードができます。無断複写・引用はご遠慮ください。  
※2. このプリントを活用したオンライン授業のスケジュールは、しながわ・目黒こどもスクールのウェブサイトでご確認ください。

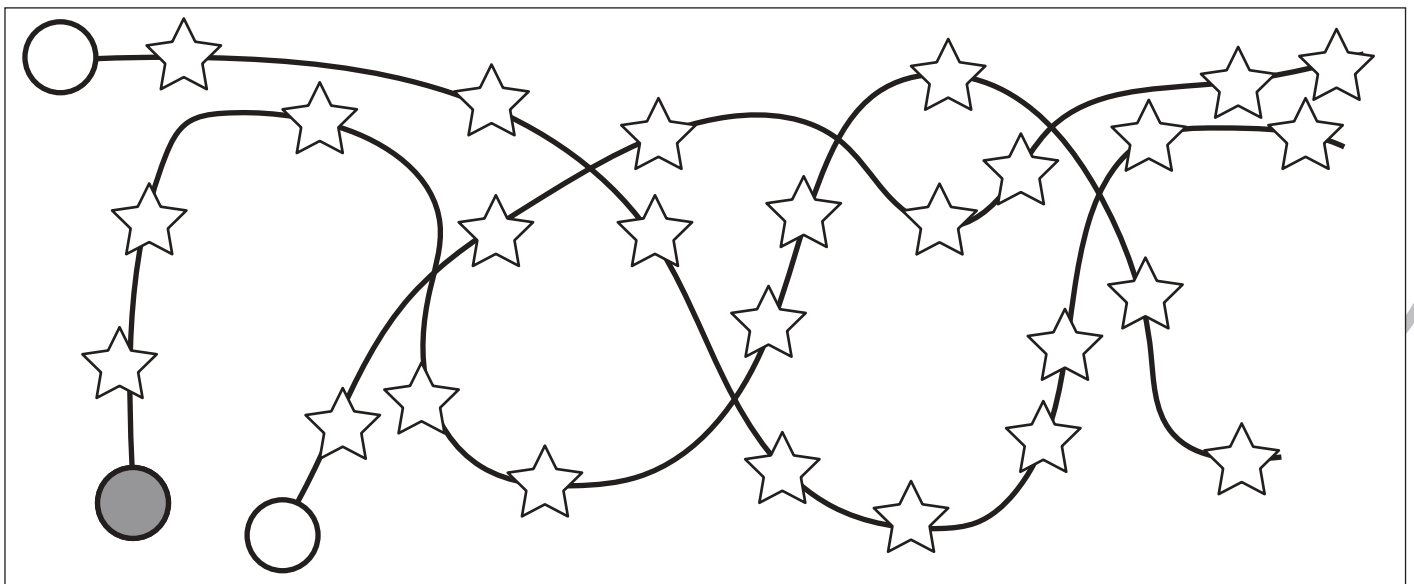
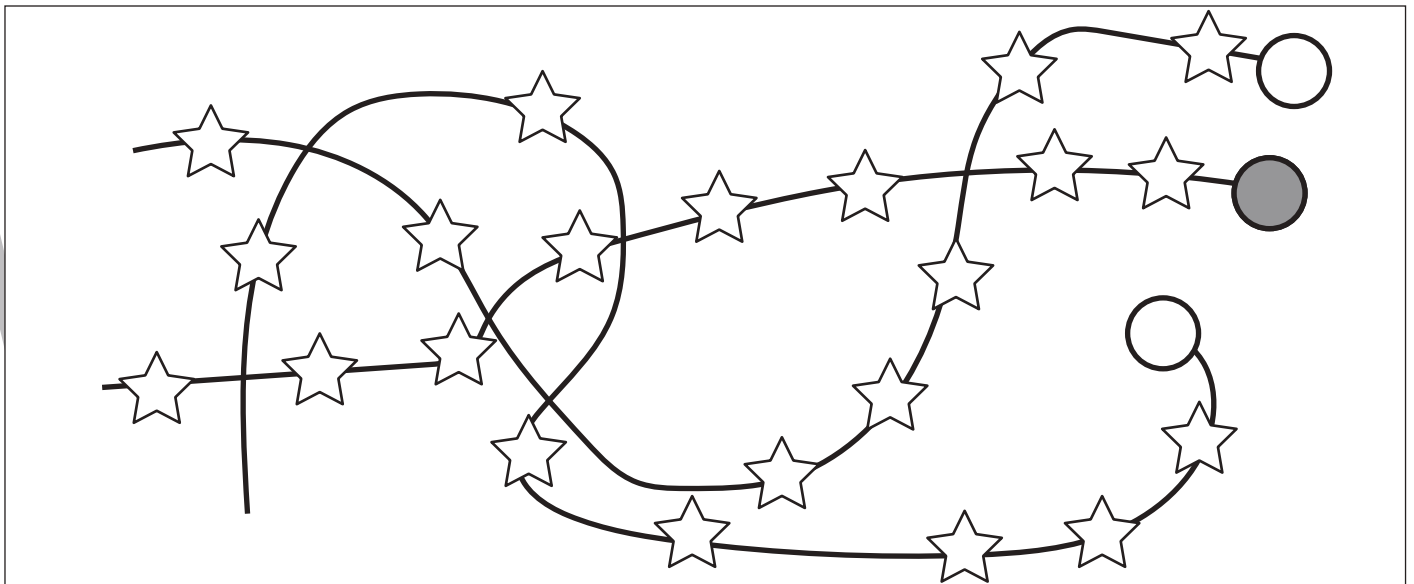
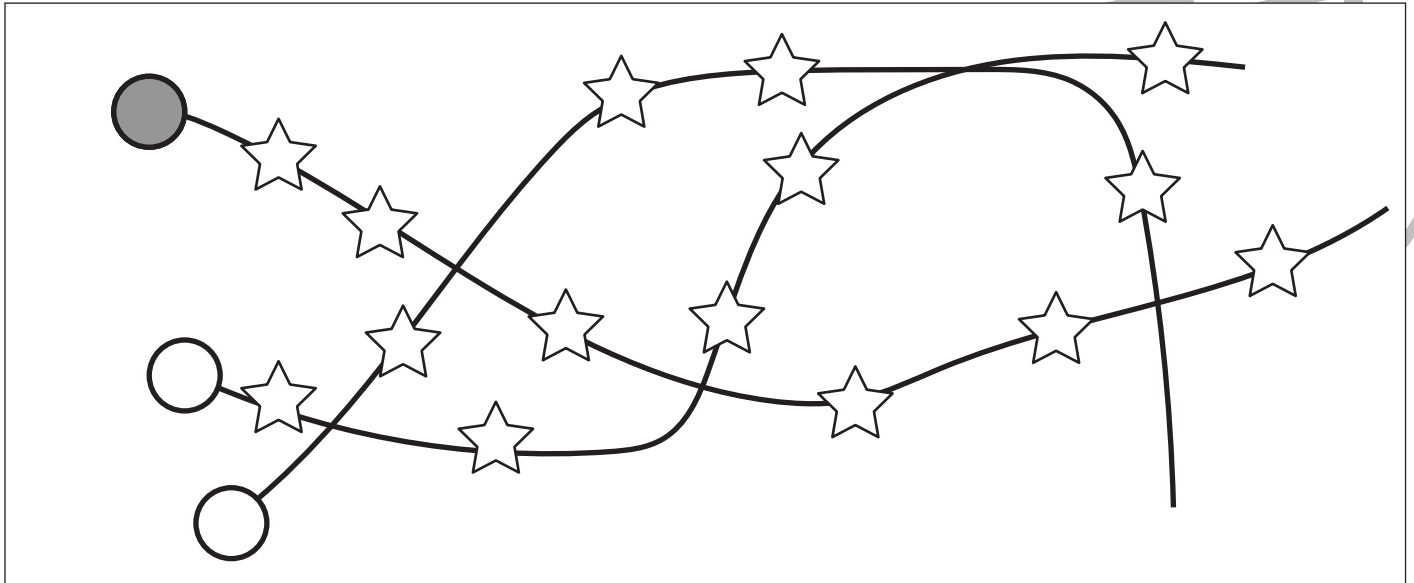


# おうちで、やろう。

Study at home. 小学校受験の家庭学習教材

数量：計数 36

紐に星のビーズを通しました。通した星のビーズが一番多い紐を見つけて紐の先の丸を塗ります。



※1. このプリントは、しながわ・目黒こどもスクールのウェブサイトからダウンロードできます。無断複写・引用はご遠慮ください。  
※2. このプリントを活用したオンライン授業のスケジュールは、しながわ・目黒こどもスクールのウェブサイトでご確認ください。




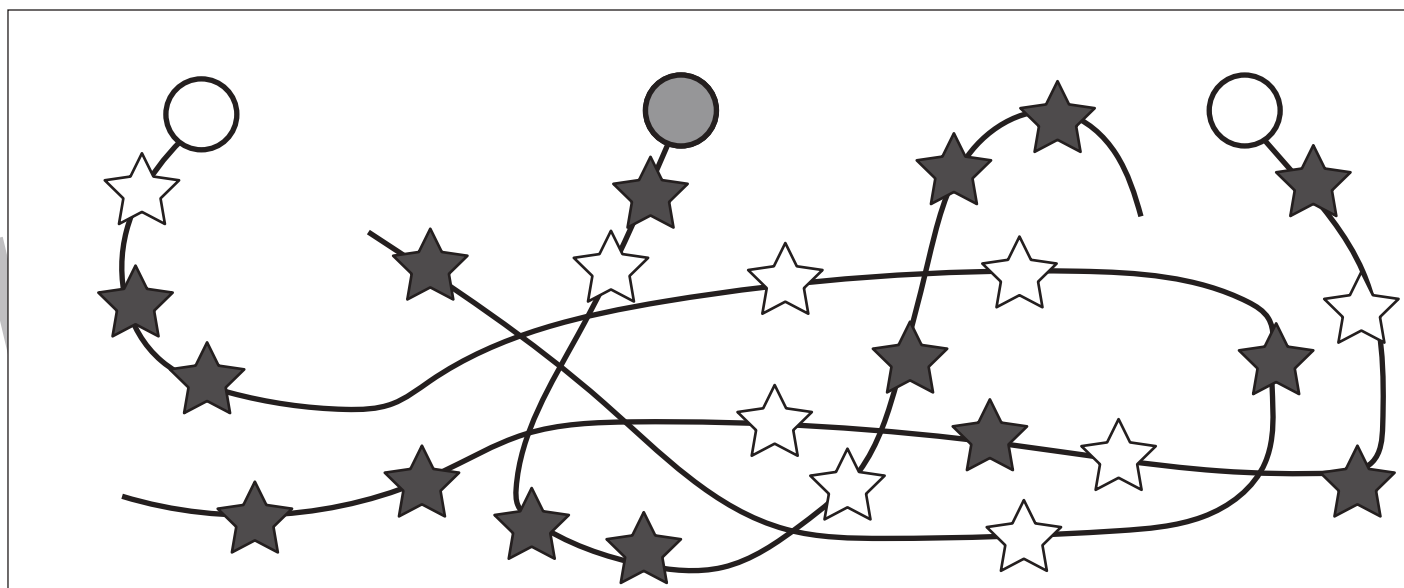
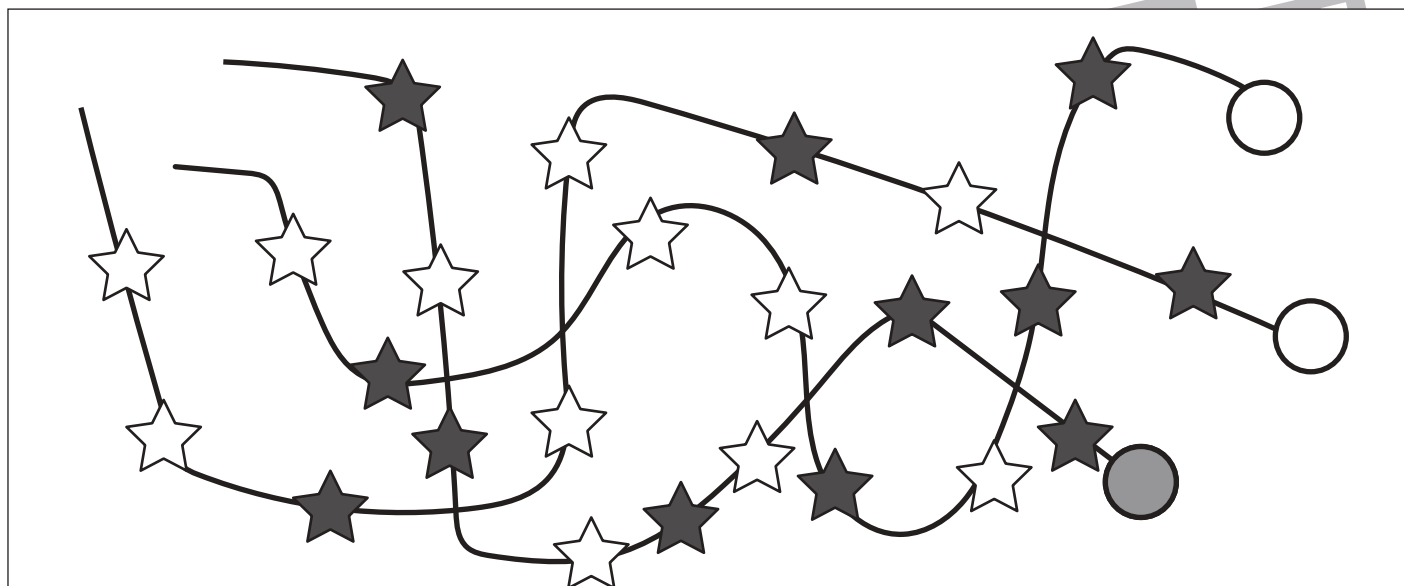


# おうちで、やろう。

Study at home. 小学校受験の家庭学習教材

数量：計数 37

紐に星のビーズを通しました。通した灰色の星のビーズが一番多い紐を見つけて紐の先の丸を塗ります。



※1. このプリントは、しながわ・目黒こどもスクールのウェブサイトからダウンロードできます。無断複写・引用はご遠慮ください。

※2. このプリントを活用したオンライン授業のスケジュールは、しながわ・目黒こどもスクールのウェブサイトでご確認ください。

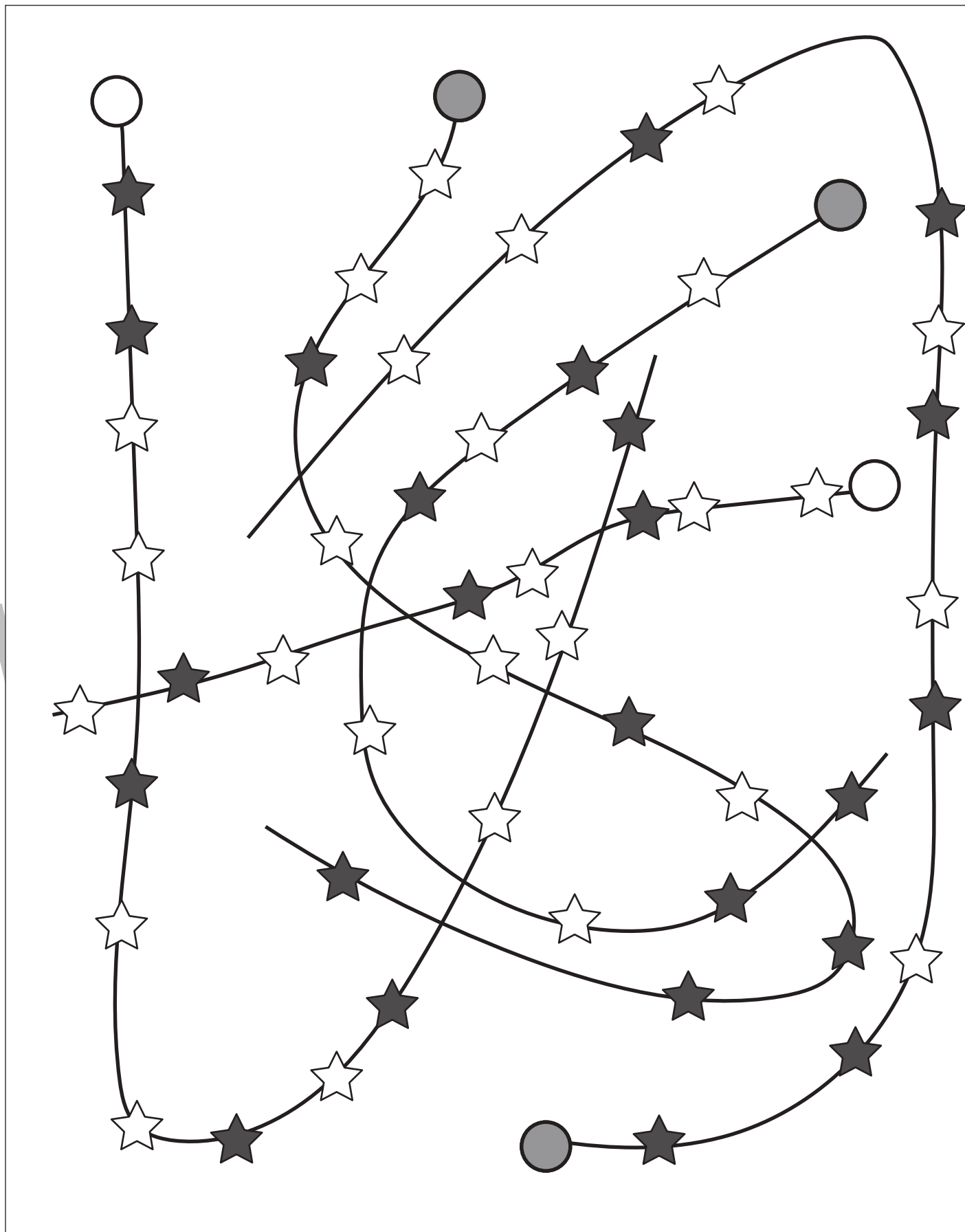


# おうちで、やろう。

Study at home. 小学校受験の家庭学習教材

数量：計数 38

紐に星のビーズを通しました。通した灰色と白い星のビーズは同じ数の紐を見つけて、紐の先の丸を塗ります。



※1. このプリントは、しながわ・目黒こどもスクールのウェブサイトダウンロードができます。無断複写・引用はご遠慮ください。  
※2. このプリントを活用したオンライン授業のスケジュールは、しながわ・目黒こどもスクールのウェブサイトでご確認ください。















# おうちで、やろう。

Study at home. 小学校受験の家庭学習教材

## 推理：じゃんけん 30

四角の中の2人でじゃんけんをしました。勝ったお友だちに○をつけ、あいこは全員に×をつけます。  
この問題は時間を意識して取り組みましょう。(目安時間 30 秒～1 分)



※1. このプリントは、しながわ・目黒こどもスクールのウェブサイトでダウンロードができます。無断複写・引用はご遠慮ください。  
※2. このプリントを活用したオンライン授業のスケジュールは、しながわ・目黒こどもスクールのウェブサイトでご確認ください。





# おうちで、やろう。

Study at home. 小学校受験の家庭学習教材

## 図形：点図形 72

左のお手本には黒い線と点線があります。このうち点線の形だけを右に線でかきます。


※1. このプリントは、しながわ・目黒こどもスクールのウェブサイトでダウンロードができます。無断複写・引用はご遠慮ください。  
 ※2. このプリントを活用したオンライン授業のスケジュールは、しながわ・目黒こどもスクールのウェブサイトでご確認ください。