



おうちで、やろう。

Study at home. 小学校受験の家庭学習教材

図形：重ね 52

それぞれの四角は透明です。左と右の2つの四角をぴったり重ねるとすべてのマスが灰色になります。この約束のとき、右の四角のどのマスが灰色なら、すべてのマスが灰色になるのかを考えてそのマスを塗ります。

※1. このプリントは、しながわ・目黒こどもスクールのウェブサイトでダウンロードができます。無断複写・引用はご遠慮ください。

※2. このプリントを活用したオンライン授業のスケジュールは、しながわ・目黒こどもスクールのウェブサイトでご確認ください。



おうちで、やろう。

Study at home. 小学校受験の家庭学習教材

図形：重ね 53

それぞれの四角は透明です。左と右の2つの四角をぴったり重ねるとすべてのマスが灰色になります。この約束のとき、右の四角のどのマスが灰色なら、すべてのマスが灰色になるのかを考えてそのマスを塗ります。

※1. このプリントは、しながわ・目黒こどもスクールのウェブサイトでダウンロードができます。無断複写・引用はご遠慮ください。

※2. このプリントを活用したオンライン授業のスケジュールは、しながわ・目黒こどもスクールのウェブサイトでご確認ください。



おうちで、やろう。

Study at home. 小学校受験の家庭学習教材

図形：重ね 54

それぞれの四角は透明です。3つの四角をぴったり重ねるとすべてのマスが灰色になります。この約束のとき、右の四角のどのマスが灰色なら、すべてのマスが灰色になるのかを考えてそのマスを塗ります。もし間違えてしまったら、点線の右の四角にかきなおしましょう。

※1. このプリントは、しながわ・目黒こどもスクールのウェブサイトでダウンロードができます。無断複写・引用はご遠慮ください。

※2. このプリントを活用したオンライン授業のスケジュールは、しながわ・目黒こどもスクールのウェブサイトでご確認ください。



おうちで、やろう。

Study at home. 小学校受験の家庭学習教材

図形：重ね 55

それぞれの四角は透明です。3つの四角をぴったり重ねるとすべてのマスが灰色になります。この約束のとき、右の四角のどのマスが灰色なら、すべてのマスが灰色になるのかを考えてそのマスを塗ります。もし間違えてしまったら、点線の右の四角にかきなおしましょう。

※1. このプリントは、しながわ・目黒こどもスクールのウェブサイトでダウンロードができます。無断複写・引用はご遠慮ください。

※2. このプリントを活用したオンライン授業のスケジュールは、しながわ・目黒こどもスクールのウェブサイトでご確認ください。




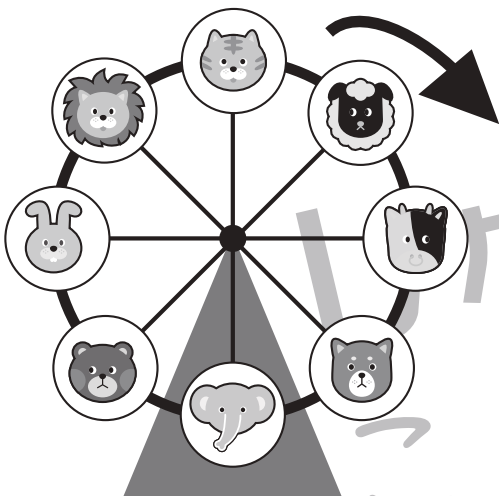

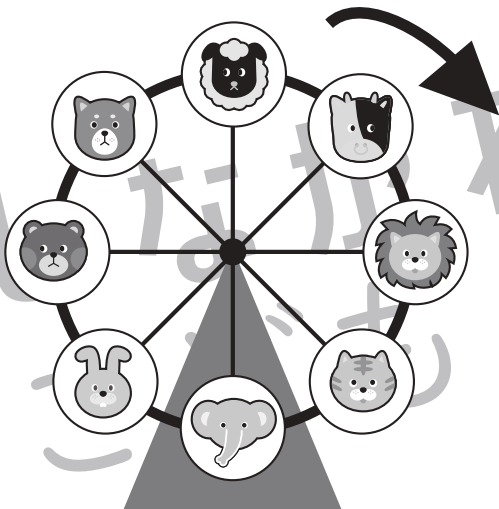

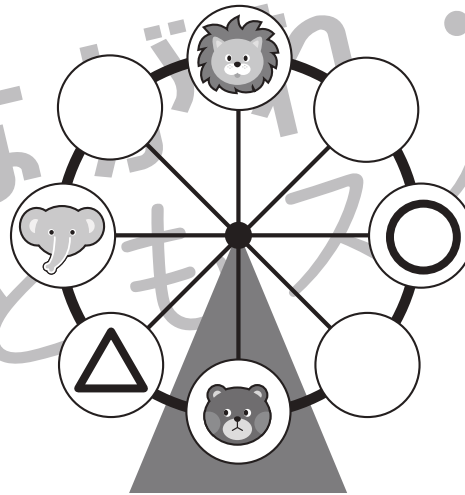

おうちで、やろう。

Study at home. 小学校受験の家庭学習教材

推理：観覧車 15

動物たちが観覧車に乗っており、矢印の方向に回っています。

それぞれ左の観覧車のゴンドラが右の観覧車のゴンドラになったとき、それぞれの印の場所のゴンドラに乗っている動物を考えて右の四角の中にそれぞれの印をつけます。



※1. このプリントは、しながわ・目黒こどもスクールのウェブサイトでダウンロードができます。無断複写・引用はご遠慮ください。
※2. このプリントを活用したオンライン授業のスケジュールは、しながわ・目黒こどもスクールのウェブサイトでご確認ください。






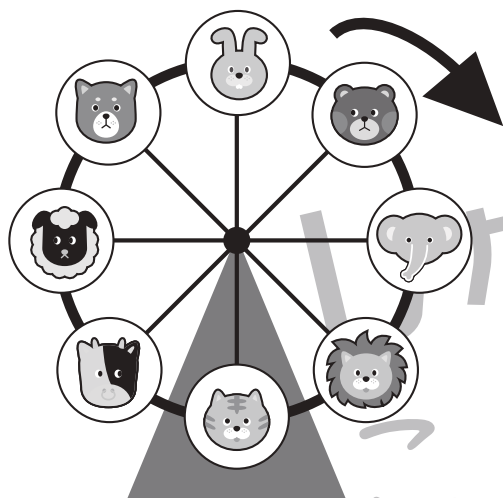
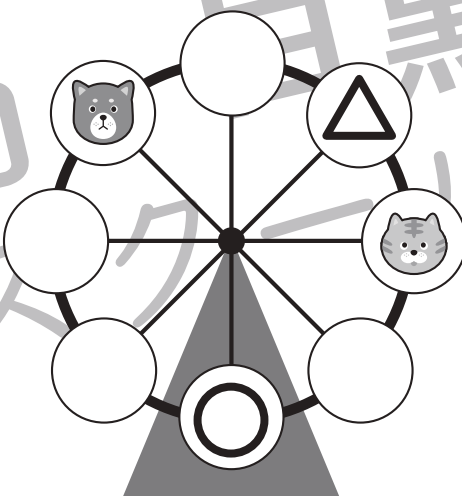



おうちで、やろう。

Study at home. 小学校受験の家庭学習教材

推理：観覧車 16

動物たちが観覧車に乗っており、矢印の方向に回っています。

それぞれ左の観覧車のゴンドラが右の観覧車のゴンドラになったとき、それぞれの印の場所のゴンドラに乗っている動物を考えて右の四角の中にそれぞれの印をつけます。



※1. このプリントは、しながわ・目黒こどもスクールのウェブサイトでダウンロードができます。無断複写・引用はご遠慮ください。

※2. このプリントを活用したオンライン授業のスケジュールは、しながわ・目黒こどもスクールのウェブサイトでご確認ください。





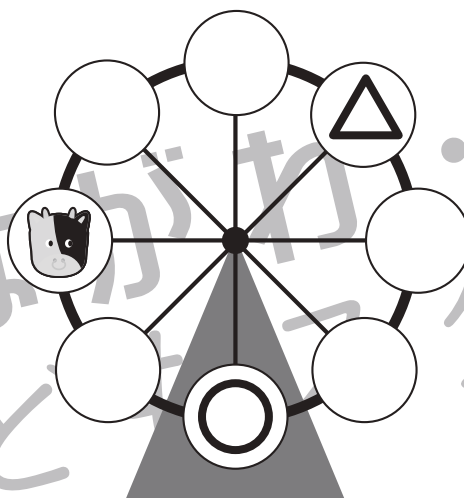
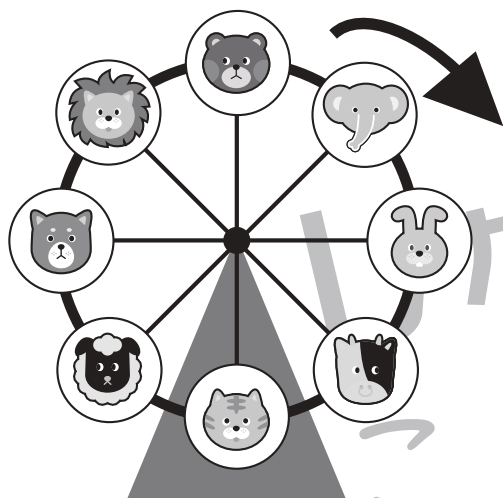
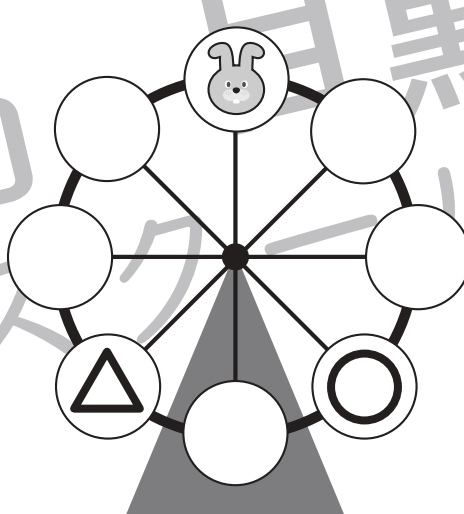

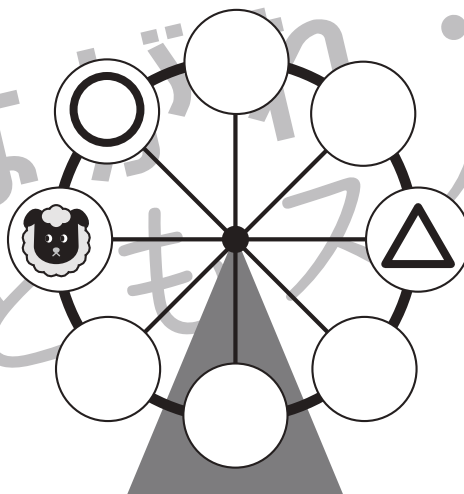
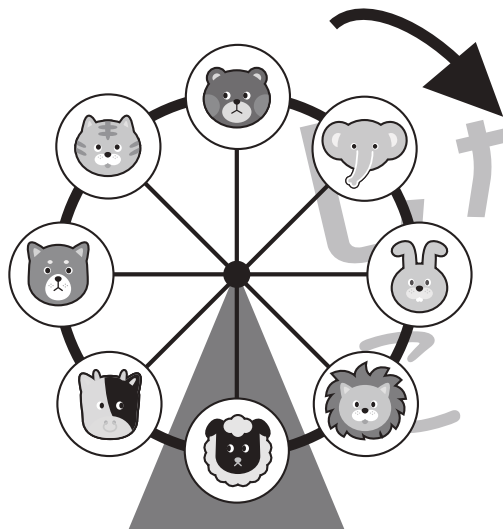
おうちで、やろう。

Study at home. 小学校受験の家庭学習教材

推理：観覧車 17

動物たちが観覧車に乗っており、矢印の方向に回っています。

それぞれ左の観覧車のゴンドラが右の観覧車のゴンドラになったとき、それぞれの印の場所のゴンドラに乗っている動物を考えて右の四角の中にそれぞれの印をつけます。



※1. このプリントは、しながわ・目黒こどもスクールのウェブサイトでダウンロードができます。無断複写・引用はご遠慮ください。

※2. このプリントを活用したオンライン授業のスケジュールは、しながわ・目黒こどもスクールのウェブサイトでご確認ください。






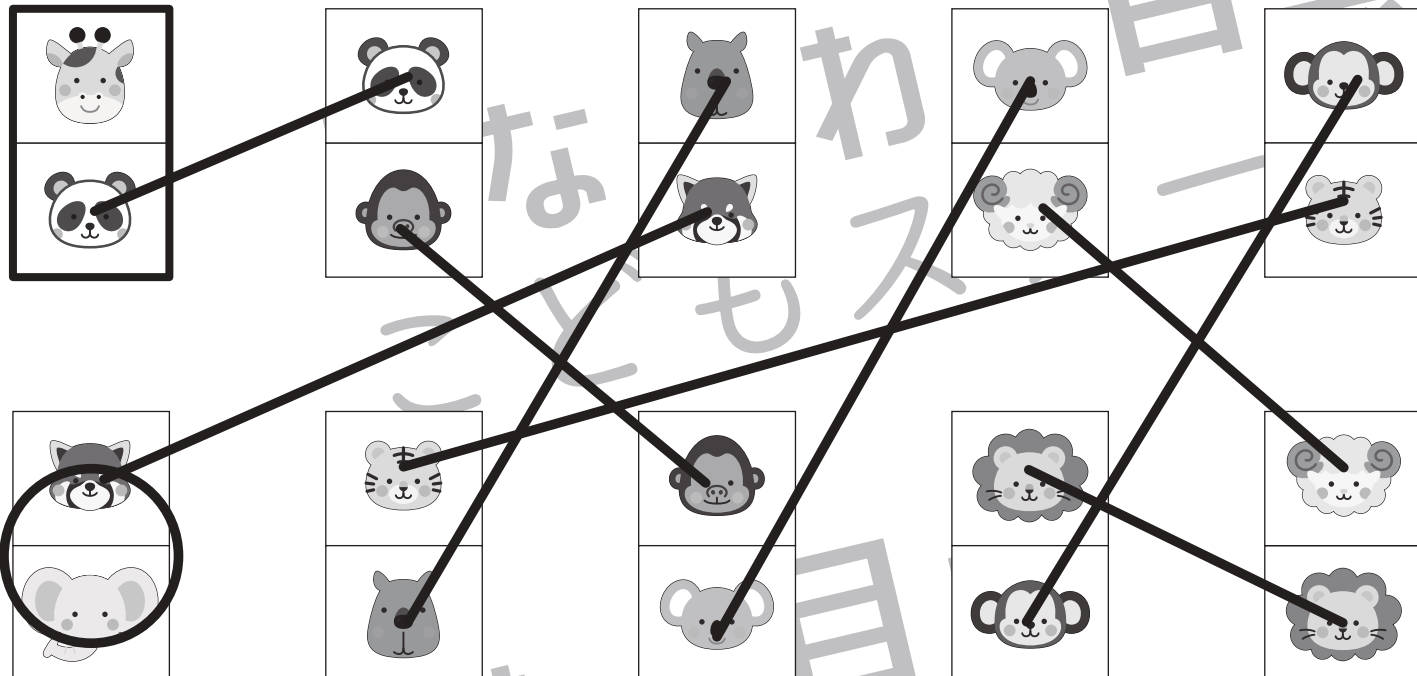
おうちで、やろう。

Study at home. 小学校受験の家庭学習教材

推理：条件推理 34

これは動物探し迷路です。太い四角がスタートです。四角の中には2種類の動物がいます。次のマスに進むにはそれぞれの四角の下にいる動物を考えます。進めるのは同じ動物がいる四角です。この約束で進んでいって最後の四角に○をつけます。

※上段の問題は線が引いていますが、解答に線は必要ありません。



※1. このプリントは、しながわ・目黒こどもスクールのウェブサイトでダウンロードができます。無断複写・引用はご遠慮ください。
 ※2. このプリントを活用したオンライン授業のスケジュールは、しながわ・目黒こどもスクールのウェブサイトでご確認ください。





おうちで、やろう。

Study at home. 小学校受験の家庭学習教材

推理：条件推理 35

これは動物探し迷路です。太い四角がスタートです。四角の中には2種類の動物がいます。次の四角に進むにはそれぞれの四角の中の動物を考えます。進めるのはどちらか同じ動物がいる四角です。この約束で進んでいって最後の四角に○をつけます。



※1. このプリントは、しながわ・目黒こどもスクールのウェブサイトでダウンロードができます。無断複写・引用はご遠慮ください。
 ※2. このプリントを活用したオンライン授業のスケジュールは、しながわ・目黒こどもスクールのウェブサイトでご確認ください。

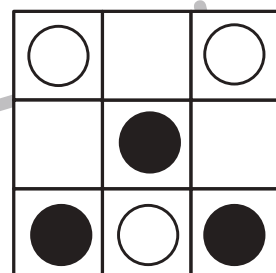


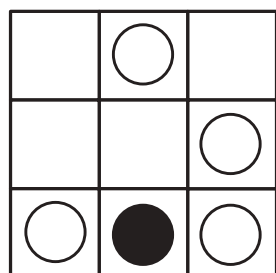
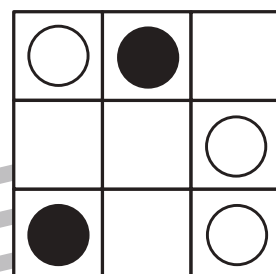
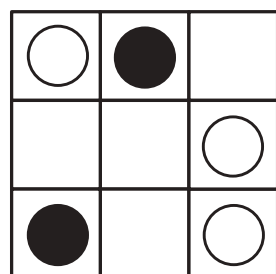
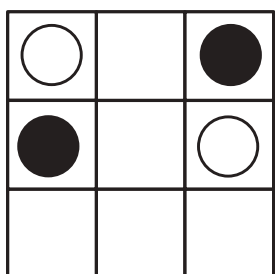

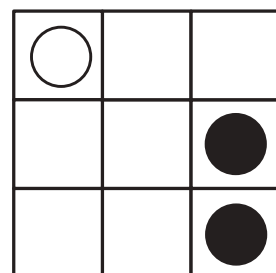

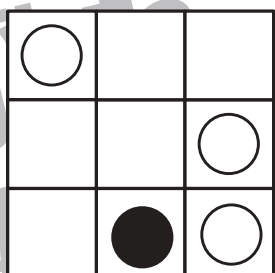
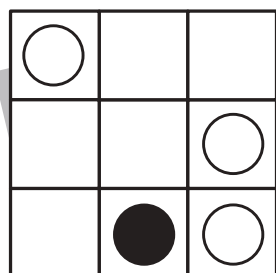
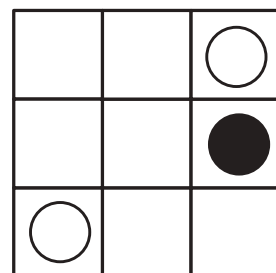
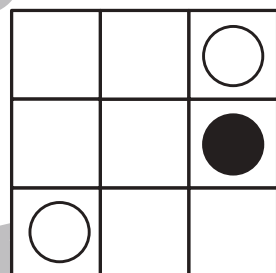
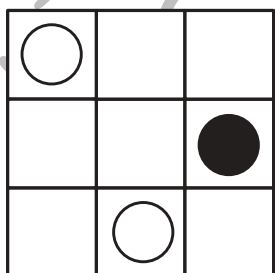
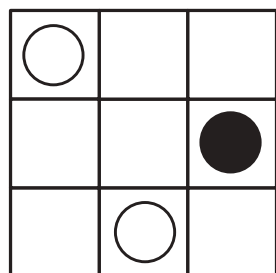
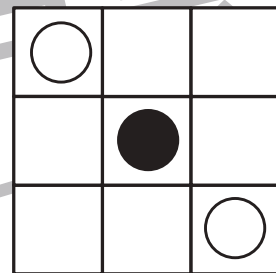
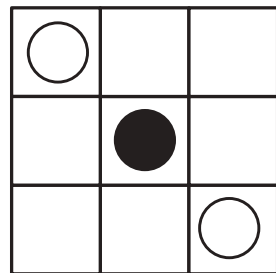
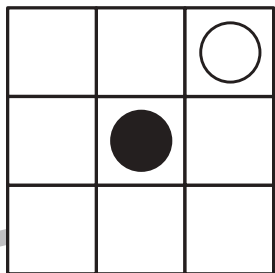
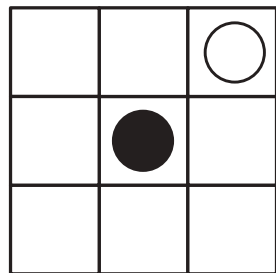


おうちで、やろう。

Study at home. 小学校受験の家庭学習教材

図形：模写 17

左の四角がお手本です。右の四角にお手本と同じ場所にかきます。
この問題はスピードを意識して取り組みます。(目安時間 1分～1分30秒)



※1. このプリントは、しながわ・目黒こどもスクールのウェブサイトでダウンロードができます。無断複写・引用はご遠慮ください。
※2. このプリントを活用したオンライン授業のスケジュールは、しながわ・目黒こどもスクールのウェブサイトでご確認ください。

