

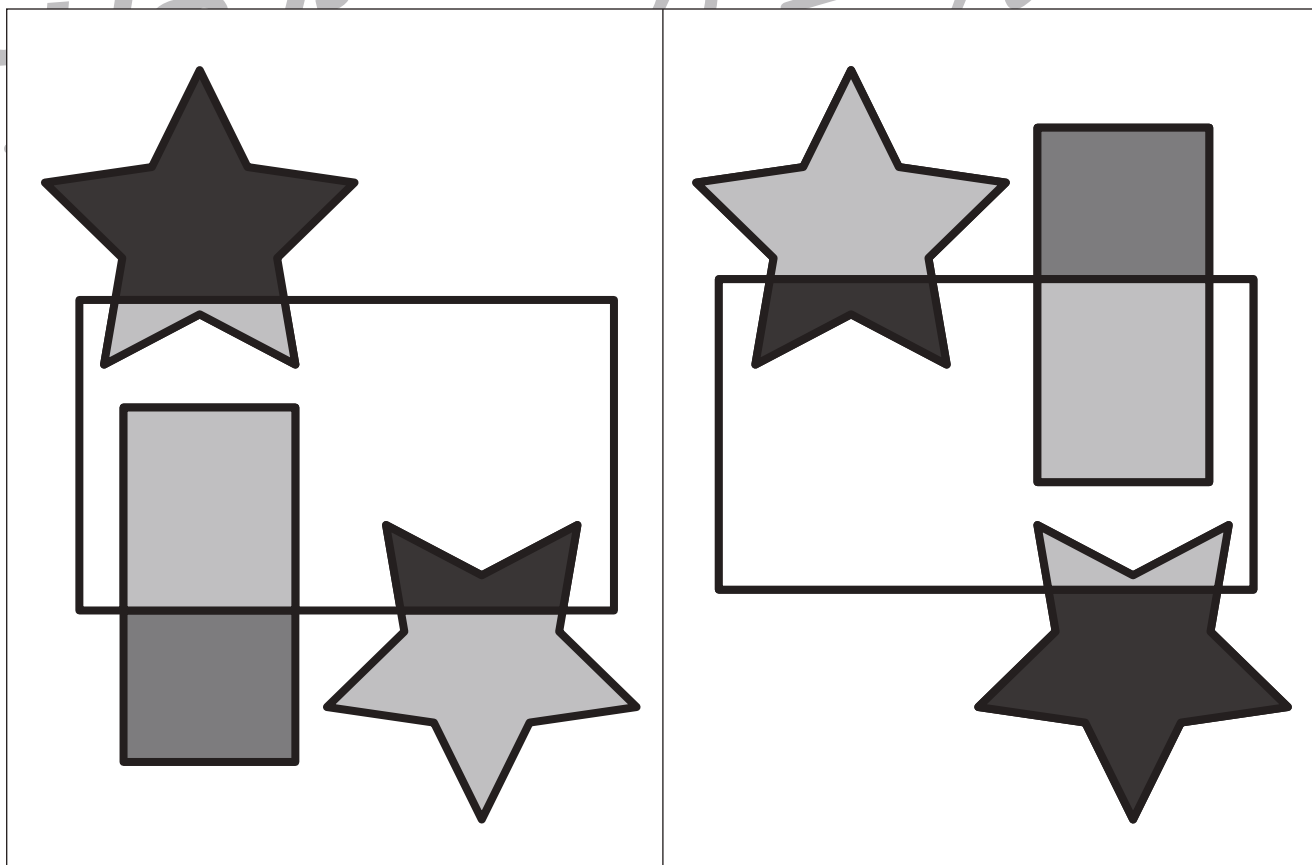
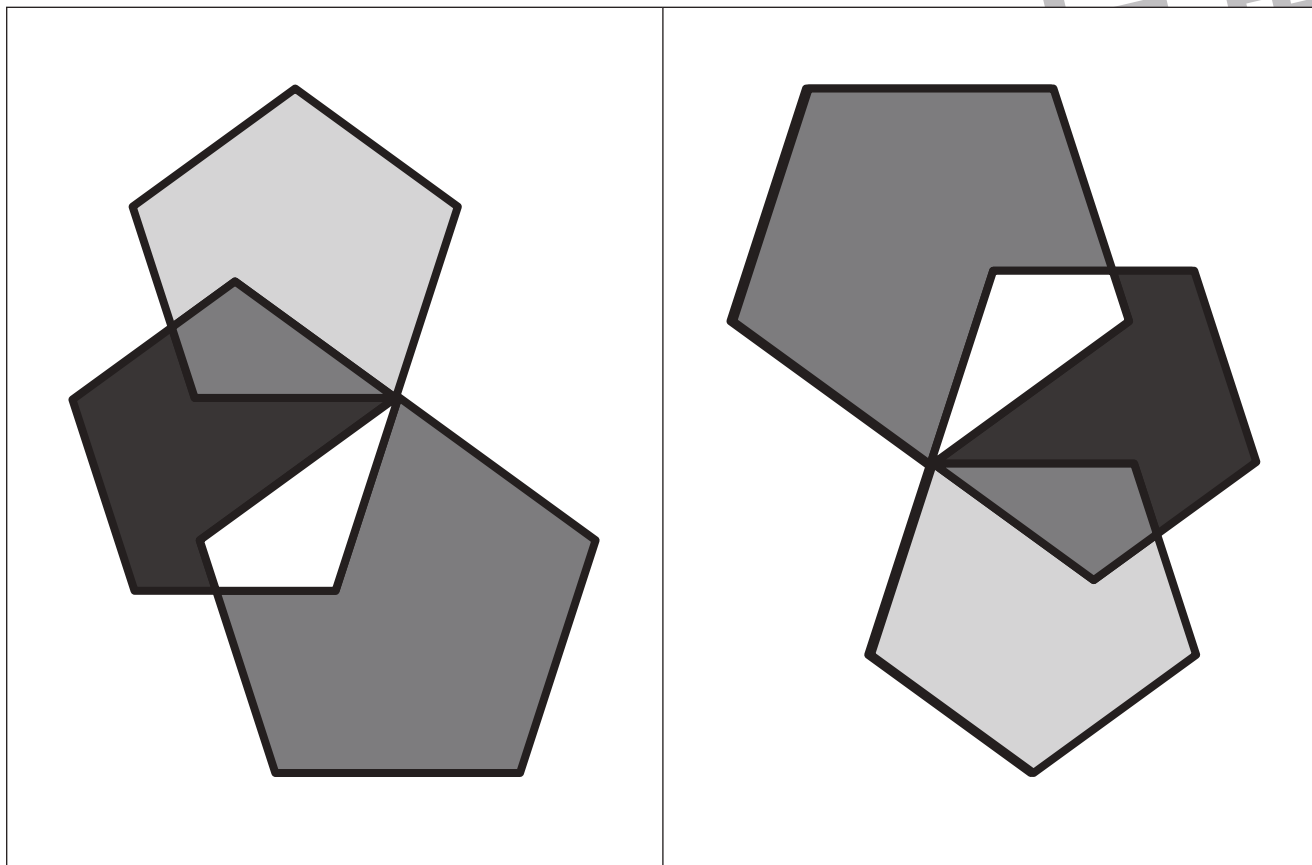


おうちで、やろう。

Study at home. 小学校受験の家庭学習教材

運筆：濃淡 15

左のお手本を右のように向きを変えたときの見え方を考えて同じ濃さになるように鉛筆で塗ります。



※1. このプリントは、しながわ・目黒こどもスクールのウェブサイトからダウンロードできます。無断複写・引用はご遠慮ください。
※2. このプリントを活用したオンライン授業のスケジュールは、しながわ・目黒こどもスクールのウェブサイトでご確認ください。




おうちで、やろう。

Study at home. 小学校受験の家庭学習教材

常識：季節 17

春の絵に○、夏の絵に×、秋の絵に□、冬の絵に/ をつけます。



※1. このプリントは、しながわ・目黒こどもスクールのウェブサイトでダウンロードができます。無断複写・引用はご遠慮ください。
 ※2. このプリントを活用したオンライン授業のスケジュールは、しながわ・目黒こどもスクールのウェブサイトでご確認ください。




おうちで、やろう。

Study at home. 小学校受験の家庭学習教材

図形：観察力 15

左に並んでいる絵がお手本です。この絵を手で隠したものが右の四角にあります。正しい組み合わせで線を結びましょう。



※1. このプリントは、しながわ・目黒こどもスクールのウェブサイトからダウンロードできます。無断複写・引用はご遠慮ください。

※2. このプリントを活用したオンライン授業のスケジュールは、しながわ・目黒こどもスクールのウェブサイトでご確認ください。



おうちで、やろう。

Study at home. 小学校受験の家庭学習教材

図形：観察力 16

左に並んでいる絵がお手本です。この絵を手で隠したものが右の四角にあります。正しい組み合わせで線を結びましょう。

※1. このプリントは、しながわ・目黒こどもスクールのウェブサイトでダウンロードができます。無断複写・引用はご遠慮ください。

※2. このプリントを活用したオンライン授業のスケジュールは、しながわ・目黒こどもスクールウェブサイトでご確認ください。



おうちで、やろう。

Study at home. 小学校受験の家庭学習教材

図形：観察力 17

左に並んでいる絵がお手本です。この絵を手で隠したものが右の四角にあります。正しい組み合わせで線を結びましょう。

A	●————●	
B	●————●	
C	●————●	
D	●————●	
E	●————●	

※1. このプリントは、しながわ・目黒こどもスクールのウェブサイトでダウンロードができます。無断複写・引用はご遠慮ください。

※2. このプリントを活用したオンライン授業のスケジュールは、しながわ・目黒こどもスクールのウェブサイトでご確認ください。



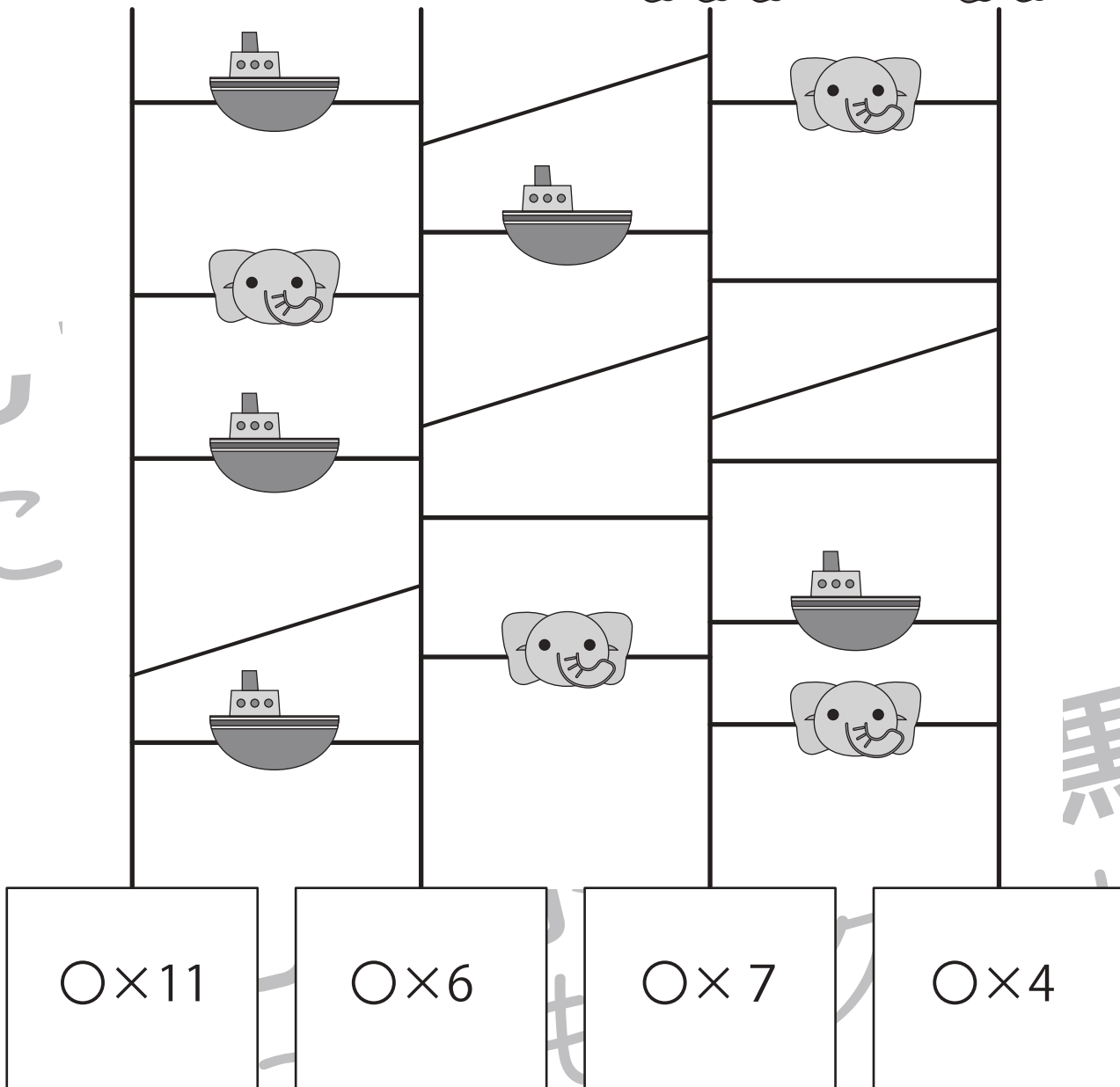



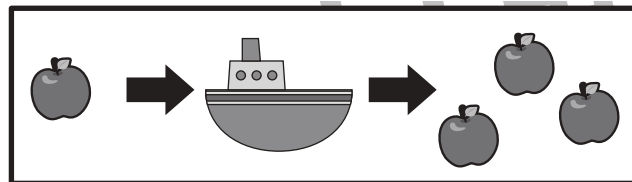
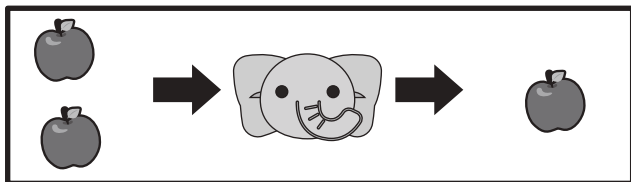
おうちで、やろう。

Study at home. 小学校受験の家庭学習教材

推理：あみだくじ 10

動物はそれぞれリンゴを持っています。あみだくじで進み、途中でゾウに会うと1つ減り、ふねを通り過ぎると2つ増えます。この約束であみだくじを通った後に持っていたリンゴの数だけ下の着いた四角の中に○をかきます。

※あみだくじのルール：①上から下へ進みます。道は戻ってはいけません。②途中で曲がり角があったら必ず曲がります。



※1. このプリントは、しながわ・目黒こどもスクールのウェブサイトでダウンロードができます。無断複写・引用はご遠慮ください。

※2. このプリントを活用したオンライン授業のスケジュールは、しながわ・目黒こどもスクールのウェブサイトでご確認ください。



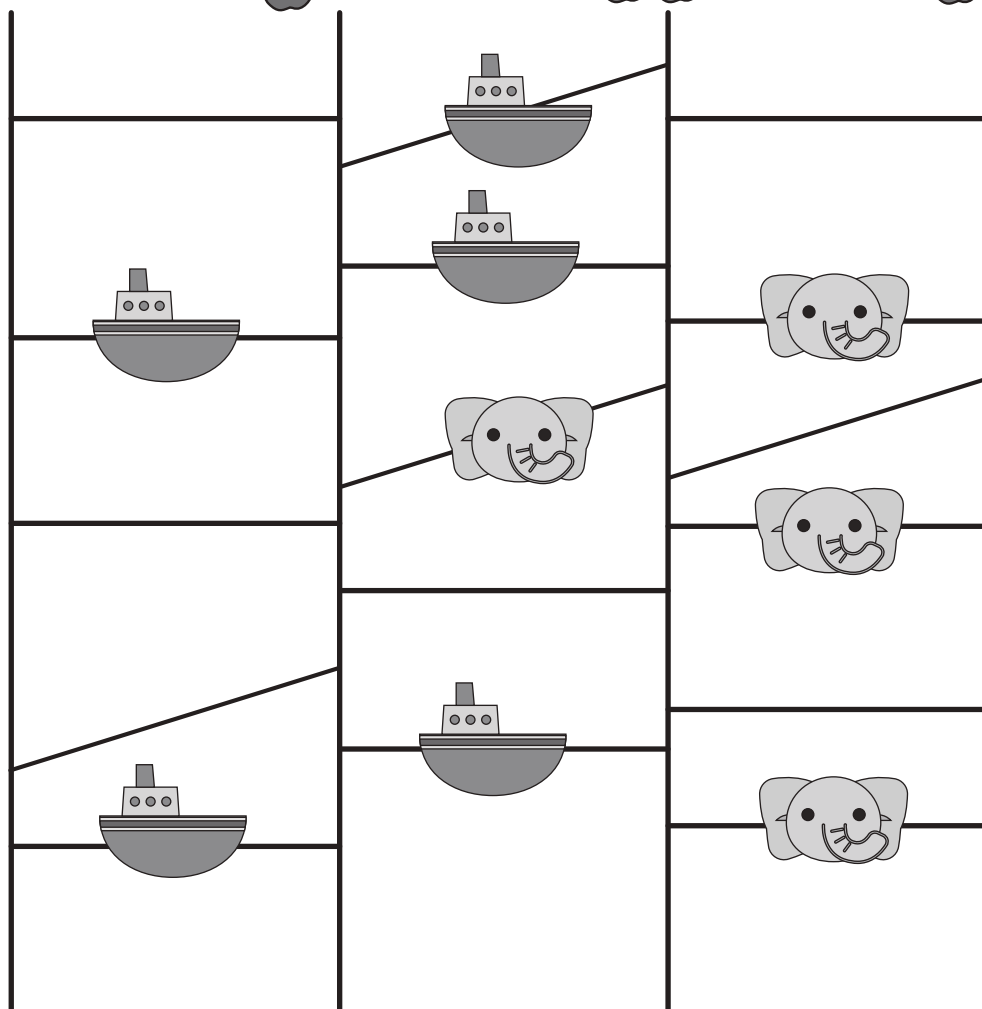

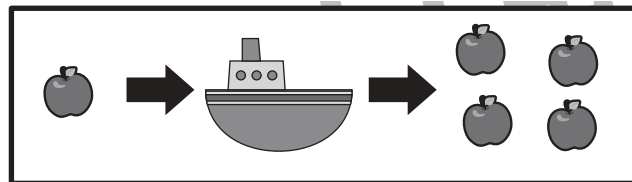
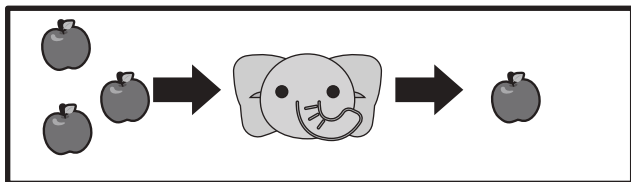
おうちで、やろう。

Study at home. 小学校受験の家庭学習教材

推理：あみだくじ 11

動物はそれぞれリンゴを持っています。あみだくじで進み、途中でゾウに会うと2つ減り、ふねを通り過ぎると3つ増えます。この約束であみだくじを通った後に持っていたリンゴの数だけ下の着いた四角の中に○をかきます。

※あみだくじのルール：①上から下へ進みます。道は戻ってはいけません。②途中で曲がり角があったら必ず曲がります。



○×13

○×6

○×10

○×2

※1. このプリントは、しながわ・目黒こどもスクールのウェブサイトでダウンロードができます。無断複写・引用はご遠慮ください。
※2. このプリントを活用したオンライン授業のスケジュールは、しながわ・目黒こどもスクールのウェブサイトでご確認ください。



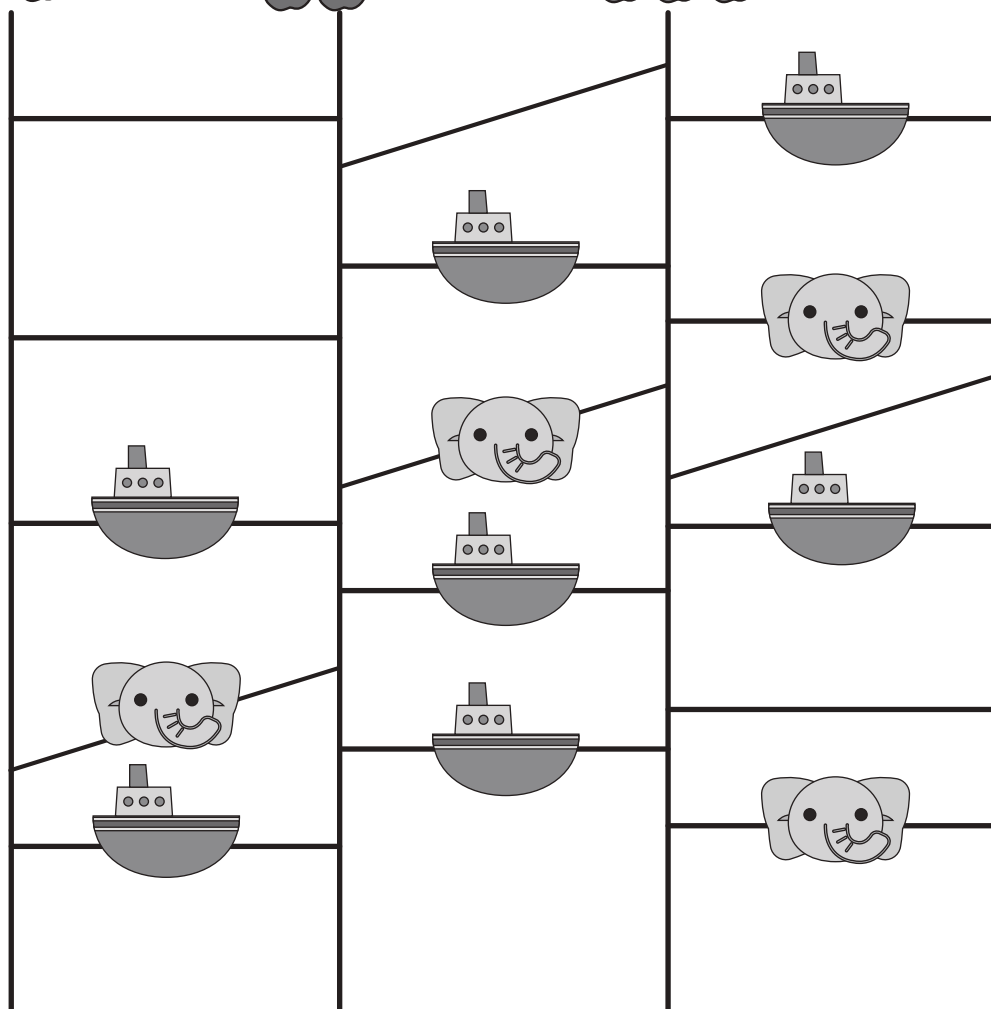


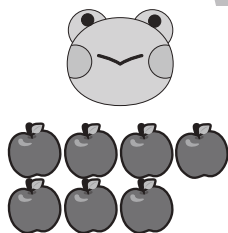
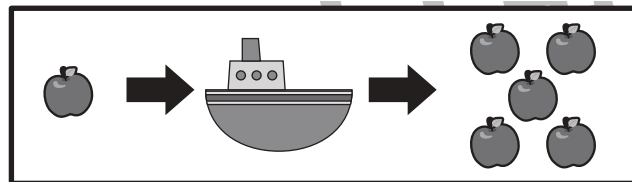
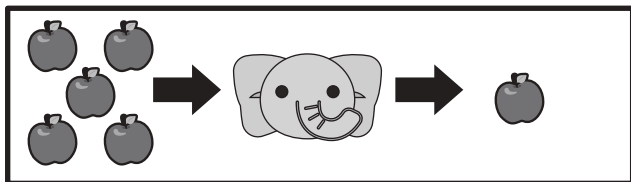
おうちで、やろう。

Study at home. 小学校受験の家庭学習教材

推理：あみだくじ 12

動物はそれぞれリンゴを持っています。あみだくじで進み、途中でゾウに会うと4つ減り、ふねを通り過ぎると4つ増えます。この約束であみだくじを通った後に持っていたリンゴの数は、10個より多いですか。少ないですか。10個より多い時は多い数だけ○を、少ない時は少ない数だけ△をかきます。

※あみだくじのルール：①上から下へ進みます。道は戻ってはいけません。②途中で曲がり角があったら必ず曲がります。



○×8

△×1

○×4

△×7

※1. このプリントは、しながわ・目黒こどもスクールのウェブサイトでダウンロードができます。無断複写・引用はご遠慮ください。

※2. このプリントを活用したオンライン授業のスケジュールは、しながわ・目黒こどもスクールのウェブサイトでご確認ください。





おうちで、やろう。

Study at home. 小学校受験の家庭学習教材

推理：まちがいさがし①

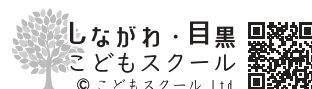
上下の絵を見比べて、変わっているところを6つ探します。見つけたら、下の絵の変わっている部分に丸をつけます。



ICT教育の小学校受験

※1. このプリントは、しながわ・目黒こどもスクールのウェブサイトでダウンロードができます。無断複写・引用はご遠慮ください。

※2. このプリントを活用したオンライン授業のスケジュールは、しながわ・目黒こどもスクールのウェブサイトでご確認ください。





おうちで、やろう。

Study at home. 小学校受験の家庭学習教材

推理：系列完成 34

それぞれマスには記号がある約束で並んでいます。このとき、空いている太いマスに入る記号を考えてその記号をかきます。

①

△
×
○
○
△
×
○
○
△
×
○
○
△
×
○

△
○
○
×
△
○
○
×
△
○
○
×

②

△
○
○
×
△
○
○
×
△
○
○
×

③

○
×
□
□
×
□
○
×
□
□
×
□

④

○
□
×
□
□
×
○
□
×
□
□
×
□

⑤

×
□
×
□
□
×
○
□
×
□
□
×
□

⑥

□
□
×
□
□
×
○
□
×
□
□
×
□

⑦

○
□
×
□
□
×
○
□
×
□
□
×
□

⑧

□
□
×
□
□
×
○
□
×
□
□
×
□

※1. このプリントは、しながわ・目黒こどもスクールのウェブサイトでダウンロードができます。無断複写・引用はご遠慮ください。
※2. このプリントを活用したオンライン授業のスケジュールは、しながわ・目黒こどもスクールのウェブサイトでご確認ください。