



# おうちで、やろう。

Study at home. 小学校受験の家庭学習教材

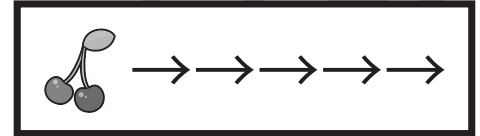
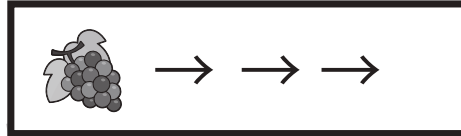
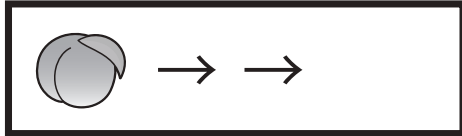
## 指示の聞き取り 30

下の太い四角が約束です。モモと言ったら2マス、バナナと言ったら3マス、サクランボと言ったら5マス進めます。この約束で☆から進み、①～③の問題に答えましょう。

①『モモ→ブドウ→サクランボ→モモ』ついた場所に○をつけます。

②『サクランボ→ブドウ→ブドウ→サクランボ→モモ→モモ』ついた場所に×をつけます。

③『ブドウ→ブドウ→サクランボ→モモ→モモ→サクランボ→サクランボ』ついた場所に◎をつけます。




※1. このプリントは、しながわ・目黒こどもスクールのウェブサイトでダウンロードができます。無断複写・引用はご遠慮ください。  
※2. このプリントを活用したオンライン授業のスケジュールは、しながわ・目黒こどもスクールのウェブサイトでご確認ください。













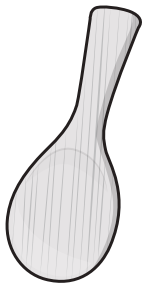






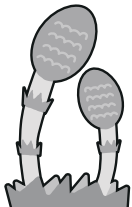






# おうちで、やろう。

Study at home. 小学校受験の家庭学習教材

## 言語：音の理解 57

右の四角の絵と同じ音が入っているもの全てに○をつけます。

※1. このプリントは、しながわ・目黒こどもスクールのウェブサイトでダウンロードができます。無断複写・引用はご遠慮ください。

※2. このプリントを活用したオンライン授業のスケジュールは、しながわ・目黒こどもスクールのウェブサイトでご確認ください。

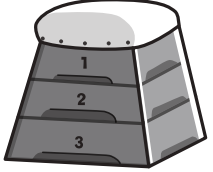

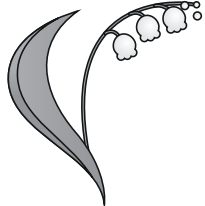






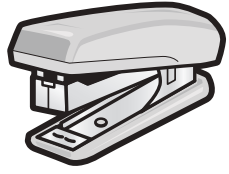


# おうちで、やろう。

Study at home. 小学校受験の家庭学習教材

## 言語：音の理解 58

左側の絵のおわりの音と、右側の絵のおわりから3番目の音が同じものを見つけて、点と点を線で結びましょう。

	●	●	
	●	●	
	●	●	
	●	●	
	●	●	

※1. このプリントは、しながわ・目黒こどもスクールのウェブサイトダウンロードができます。無断複写・引用はご遠慮ください。

※2. このプリントを活用したオンライン授業のスケジュールは、しながわ・目黒こどもスクールのウェブサイトでご確認ください。








# おうちで、やろう。

Study at home. 小学校受験の家庭学習教材

常識：仲間 10

四角の中の絵の中で仲間外れを見つけて○をつけます。また、その理由もお話しましょう。



※1. このプリントは、しながわ・目黒こどもスクールのウェブサイトからダウンロードできます。無断複写・引用はご遠慮ください。  
※2. このプリントを活用したオンライン授業のスケジュールは、しながわ・目黒こどもスクールのウェブサイトでご確認ください。

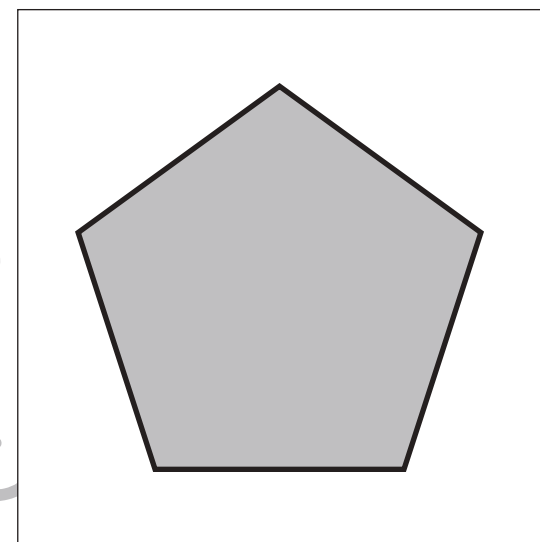
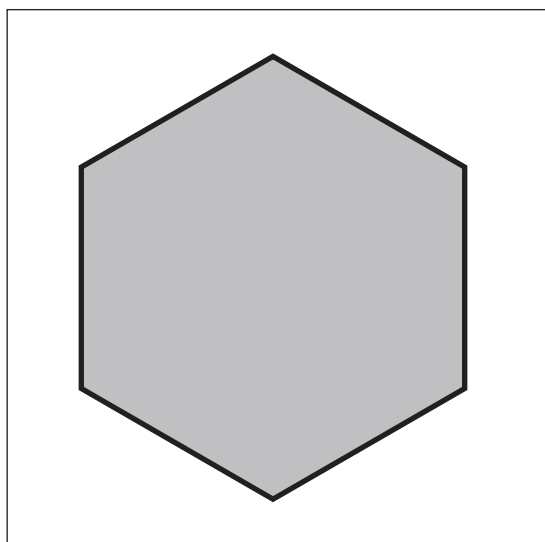
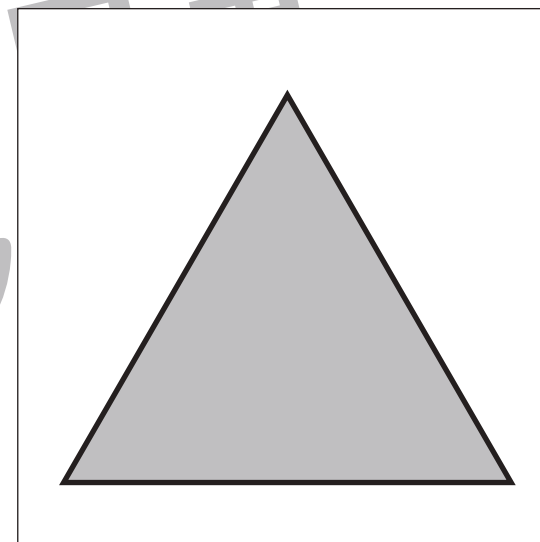





# おうちで、やろう。

Study at home. 小学校受験の家庭学習教材

図形：等分 4

四角の中の形を線を 1 本引いて半分にします。このとき、分けた形が同じになるようにします。



※1. このプリントは、しながわ・目黒こどもスクールのウェブサイトでダウンロードができます。無断複写・引用はご遠慮ください。  
※2. このプリントを活用したオンライン授業のスケジュールは、しながわ・目黒こどもスクールのウェブサイトでご確認ください。



# おうちで、やろう。

Study at home. 小学校受験の家庭学習教材

## 図形：同図形 8

男の子と女の子がそれぞれ太い四角の中の絵を描きました。2人が描いた絵と同じものを右から探して、男の子と同じものには△を、女の子と同じものには◎をつけます。



※1. このプリントは、しながわ・目黒こどもスクールのウェブサイトでダウンロードができます。無断複写・引用はご遠慮ください。

※2. このプリントを活用したオンライン授業のスケジュールは、しながわ・目黒こどもスクールのウェブサイトでご確認ください。



# おうちで、やろう。

Study at home. 小学校受験の家庭学習教材

図形：同図形 9

太い四角のお手本と同じものを、右から見つけて○をつけます。


※1. このプリントは、しながわ・目黒こどもスクールのウェブサイトからダウンロードできます。無断複写・引用はご遠慮ください。  
 ※2. このプリントを活用したオンライン授業のスケジュールは、しながわ・目黒こどもスクールのウェブサイトでご確認ください。



# おうちで、やろう。

Study at home. 小学校受験の家庭学習教材

数量：計数 39

- ①上の四角の中で数が1番多い動物には○を、数が1番少ない動物には△を、下の四角の絵に○をつけます。
- ②上の四角の中で数が2番目に多い動物には○を、数が2番目に少ない動物には△を、下の四角の絵に○をつけます。


--	--	--	--


--	--	--	--

※1. このプリントは、しながわ・目黒こどもスクールのウェブサイトでダウンロードができます。無断複写・引用はご遠慮ください。  
 ※2. このプリントを活用したオンライン授業のスケジュールは、しながわ・目黒こどもスクールのウェブサイトでご確認ください。





# おうちで、やろう。

Study at home. 小学校受験の家庭学習教材

数量：計数 40

太い四角の絵が2番目に多いものを、右から選んで○をつけます。


※1. このプリントは、しながわ・目黒こどもスクールのウェブサイトでダウンロードができます。無断複写・引用はご遠慮ください。  
 ※2. このプリントを活用したオンライン授業のスケジュールは、しながわ・目黒こどもスクールのウェブサイトでご確認ください。


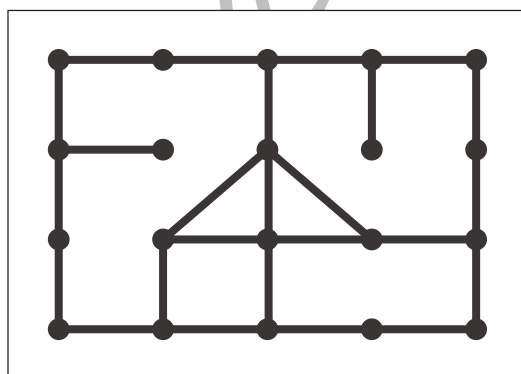

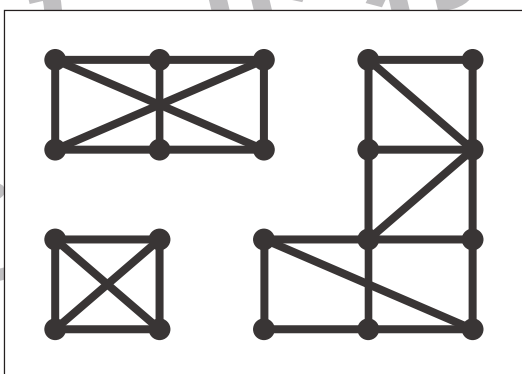

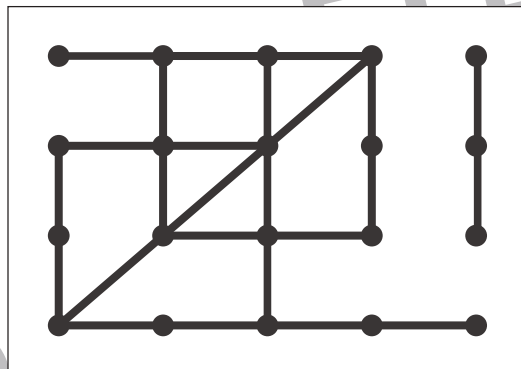

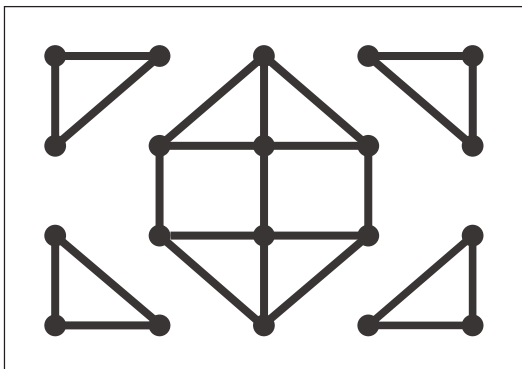


# おうちで、やろう。

Study at home. 小学校受験の家庭学習教材

図形：点図形 73

上の四角に描かれた線とまったく同じように鉛筆で下の四角に描きましょう。  
※このプリントに答えはありません。



※1. このプリントは、しながわ・目黒こどもスクールのウェブサイトでダウンロードができます。無断複写・引用はご遠慮ください。  
※2. このプリントを活用したオンライン授業のスケジュールは、しながわ・目黒こどもスクールのウェブサイトでご確認ください。