



# おうちで、やろう。

Study at home. 小学校受験の家庭学習教材

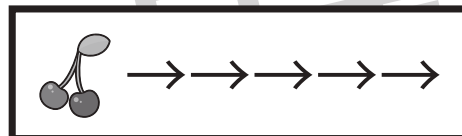
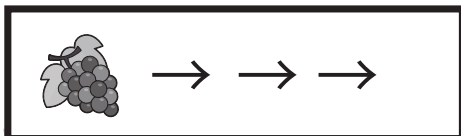
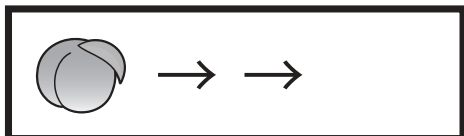
## 指示の聞き取り 30

下の太い四角が約束です。モモと言ったら2マス、バナナと言ったら3マス、サクランボと言ったら5マス進めます。この約束で☆から進み、①～③の問題に答えましょう。

①『モモ→ブドウ→サクランボ→モモ』ついた場所に○をつけます。

②『サクランボ→ブドウ→ブドウ→サクランボ→モモ→モモ』ついた場所に×をつけます。

③『ブドウ→ブドウ→サクランボ→モモ→モモ→サクランボ→サクランボ』ついた場所に◎をつけます。



☆						
	◎					
×						○

※1. このプリントは、しながわ・目黒こどもスクールのウェブサイトでダウンロードができます。無断複写・引用はご遠慮ください。

※2. このプリントを活用したオンライン授業のスケジュールは、しながわ・目黒こどもスクールのウェブサイトでご確認ください。













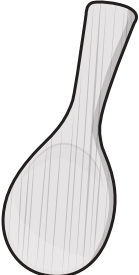






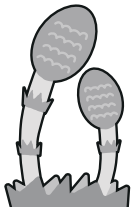



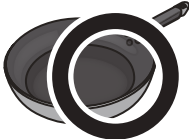


# おうちで、やろう。

Study at home. 小学校受験の家庭学習教材

## 言語：音の理解 57

右の四角の絵と同じ音が入っているもの全てに○をつけます。

※1. このプリントは、しながわ・目黒こどもスクールのウェブサイトからダウンロードできます。無断複写・引用はご遠慮ください。

※2. このプリントを活用したオンライン授業のスケジュールは、しながわ・目黒こどもスクールのウェブサイトでご確認ください。



# おうちで、やろう。

Study at home. 小学校受験の家庭学習教材

## 言語：音の理解 58

左側の絵のおわりの音と、右側の絵のおわりから3番目の音が同じものを見つけて、点と点を線で結びましょう。

※1. このプリントは、しながわ・目黒こどもスクールのウェブサイトからダウンロードできます。無断複写・引用はご遠慮ください。  
 ※2. このプリントを活用したオンライン授業のスケジュールは、しながわ・目黒こどもスクールのウェブサイトでご確認ください。







# おうちで、やろう。

Study at home. 小学校受験の家庭学習教材

常識：仲間 10

四角の中の絵の中で仲間外れを見つけて○をつけます。また、その理由もお話しましょう。



※1. このプリントは、しながわ・目黒こどもスクールのウェブサイトからダウンロードできます。無断複写・引用はご遠慮ください。  
※2. このプリントを活用したオンライン授業のスケジュールは、しながわ・目黒こどもスクールのウェブサイトでご確認ください。



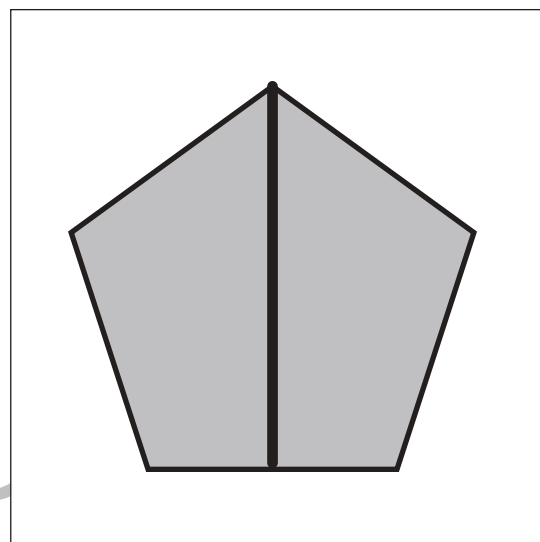
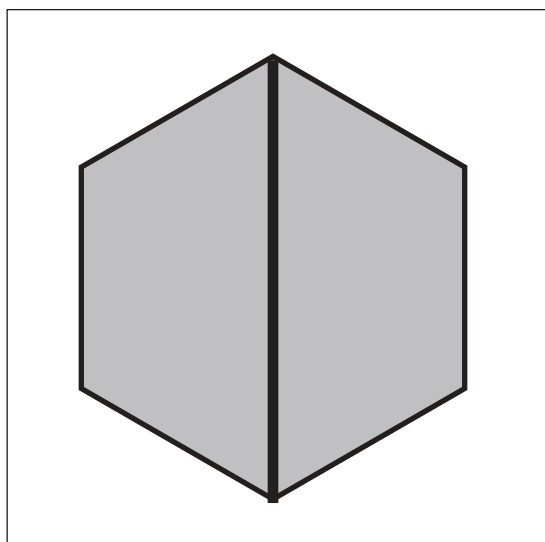
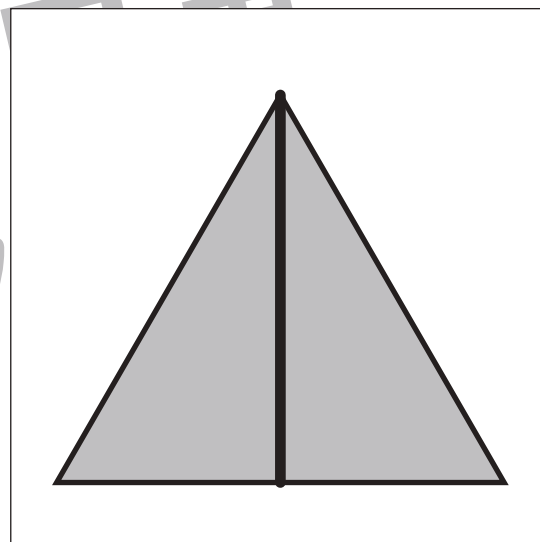

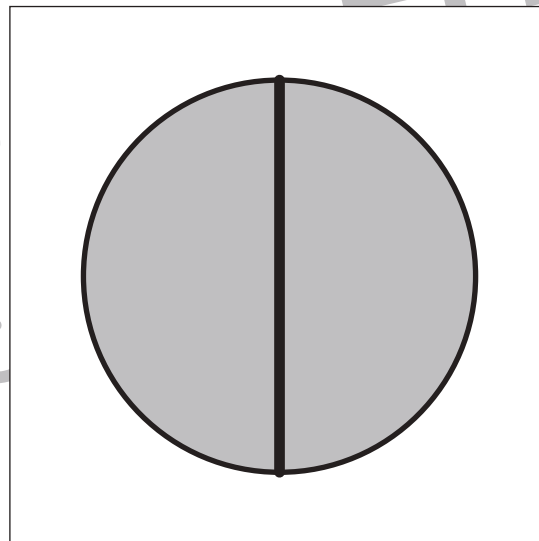
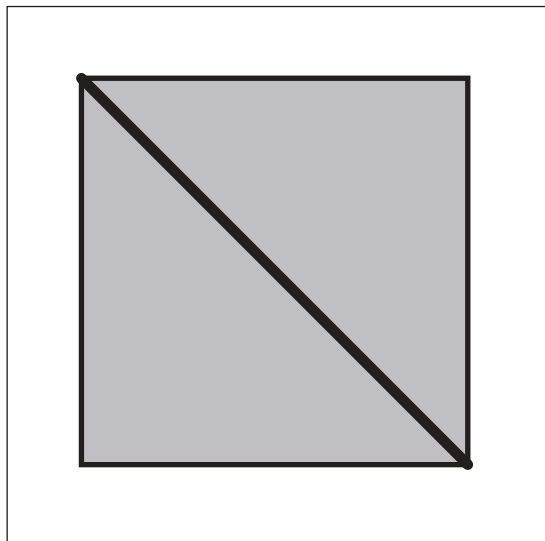
# おうちで、よろう。

Study at home. 小学校受験の家庭学習教材

図形：等分 4

四角の中の形を線を 1 本引いて半分にします。このとき、分けた形が同じになるようにします。

※解答は一例です。違う線の場合でも正解となる場合があります。



※1. このプリントは、しながわ・目黒こどもスクールのウェブサイトでダウンロードができます。無断複写・引用はご遠慮ください。

※2. このプリントを活用したオンライン授業のスケジュールは、しながわ・目黒こどもスクールのウェブサイトでご確認ください。



# おうちで、やろう。

Study at home. 小学校受験の家庭学習教材

## 図形：同図形 8

男の子と女の子がそれぞれ太い四角の中の絵を描きました。2人が描いた絵と同じものを右から探して、男の子と同じものには△を、女の子と同じものには◎をつけます。



※1. このプリントは、しながわ・目黒こどもスクールのウェブサイトでダウンロードができます。無断複写・引用はご遠慮ください。  
 ※2. このプリントを活用したオンライン授業のスケジュールは、しながわ・目黒こどもスクールのウェブサイトでご確認ください。

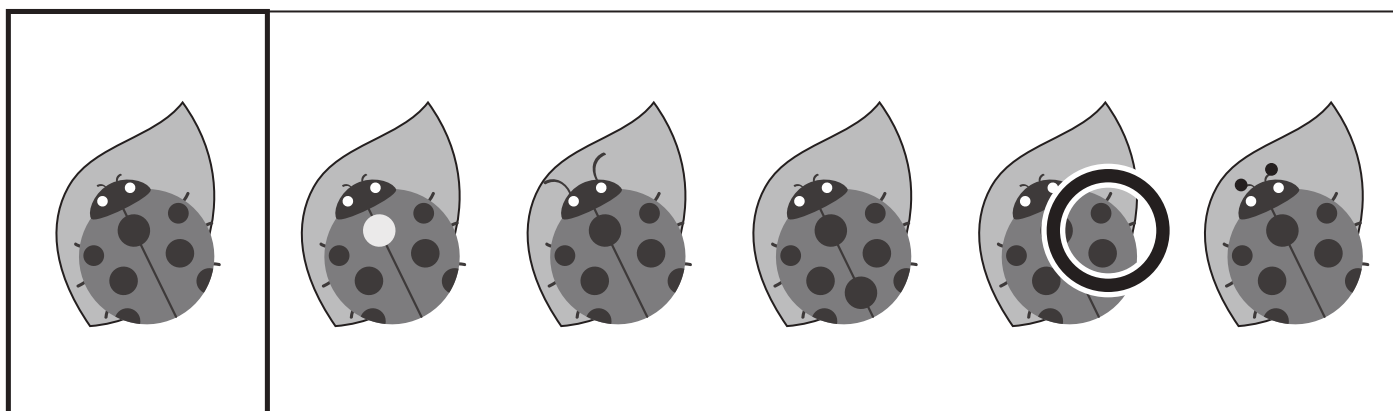





# おうちで、やろう。

Study at home. 小学校受験の家庭学習教材

図形：同図形 9

太い四角のお手本と同じものを、右から見つけて○をつけます。



※1. このプリントは、しながわ・目黒こどもスクールのウェブサイトからダウンロードできます。無断複写・引用はご遠慮ください。

※2. このプリントを活用したオンライン授業のスケジュールは、しながわ・目黒こどもスクールのウェブサイトでご確認ください。



# おうちで、やろう。

Study at home. 小学校受験の家庭学習教材

数量：計数 39

- ①上の四角の中で数が1番多い動物には○を、数が1番少ない動物には△を、下の四角の絵に○をつけます。
- ②上の四角の中で数が2番目に多い動物には○を、数が2番目に少ない動物には△を、下の四角の絵に○をつけます。


	△	○	
--	---	---	--


	○		△
--	---	--	---

※1. このプリントは、しながわ・目黒こどもスクールのウェブサイトでダウンロードができます。無断複写・引用はご遠慮ください。  
 ※2. このプリントを活用したオンライン授業のスケジュールは、しながわ・目黒こどもスクールのウェブサイトでご確認ください。





# おうちで、やろう。

Study at home. 小学校受験の家庭学習教材

数量：計数 40

太い四角の絵が2番目に多いものを、右から選んで○をつけます。


※1. このプリントは、しながわ・目黒こどもスクールのウェブサイトからダウンロードできます。無断複写・引用はご遠慮ください。  
 ※2. このプリントを活用したオンライン授業のスケジュールは、しながわ・目黒こどもスクールのウェブサイトでご確認ください。