



おうちで、やろう。

Study at home. 小学校受験の家庭学習教材

常識：生活 8

下の絵の中で水に浮くものには○を、水に沈むものには×をつけます。



※1. このプリントは、しながわ・目黒こどもスクールのウェブサイトからダウンロードができます。無断複写・引用はご遠慮ください。

※2. このプリントを活用したオンライン授業のスケジュールは、しながわ・目黒こどもスクールのウェブサイトでご確認ください。











おうちで、やろう。

Study at home. 小学校受験の家庭学習教材

図形：オセロ6

●と●に挟まれている縦と横と斜めにある○を全て塗ります。このとき、自分で塗った●は考えません。



※1. このプリントは、しながわ・目黒こどもスクールのウェブサイトからダウンロードができます。無断複写・引用はご遠慮ください。
 ※2. このプリントを活用したオンライン授業のスケジュールは、しながわ・目黒こどもスクールのウェブサイトでご確認ください。









おうちで、やろう。

Study at home. 小学校受験の家庭学習教材

図形：オセロ7

●と●に挟まれている縦と横と斜めにある○を全て塗ります。このとき、自分で塗った●は考えません。



※1. このプリントは、しながわ・目黒こどもスクールのウェブサイトダウンロードができます。無断複写・引用はご遠慮ください。

※2. このプリントを活用したオンライン授業のスケジュールは、しながわ・目黒こどもスクールのウェブサイトでご確認ください。









おうちで、やろう。

Study at home. 小学校受験の家庭学習教材

図形：オセロ8

●と●に挟まれている縦と横と斜めにある○を全て塗ります。このとき、自分で塗った●は考えません。



※1. このプリントは、しながわ・目黒こどもスクールのウェブサイトでダウンロードができます。無断複写・引用はご遠慮ください。

※2. このプリントを活用したオンライン授業のスケジュールは、しながわ・目黒こどもスクールのウェブサイトでご確認ください。



おうちで、やろう。

Study at home. 小学校受験の家庭学習教材

図形：回転鏡 16

左の四角のマスに鏡に映した時の見え方を考えて、真ん中の四角にかきます。その後その形を矢印の方向へ1回倒した時の見え方を考えて一番右のマスにかきます。

			↘	
--	--	--	---	--

			↘	
--	--	--	---	--

			↘	
--	--	--	---	--

			↘	
--	--	--	---	--

			↘	
--	--	--	---	--

※1. このプリントは、しながわ・目黒こどもスクールのウェブサイトからダウンロードできます。無断複写・引用はご遠慮ください。

※2. このプリントを活用したオンライン授業のスケジュールは、しながわ・目黒こどもスクールのウェブサイトでご確認ください。



おうちで、やろう。

Study at home. 小学校受験の家庭学習教材

図形：回転鏡 17

左の四角のマスに鏡に映した時の見え方を考えて、真ん中の四角にかきます。その後その形を矢印の方向へ1回倒した時の見え方を考えて一番右のマスにかきます。

			↘	
--	--	--	---	--

			↘	
--	--	--	---	--

			↘	
--	--	--	---	--

			↘	
--	--	--	---	--

			↘	
--	--	--	---	--

※1. このプリントは、しながわ・目黒こどもスクールのウェブサイトでダウンロードができます。無断複写・引用はご遠慮ください。

※2. このプリントを活用したオンライン授業のスケジュールは、しながわ・目黒こどもスクールのウェブサイトでご確認ください。



おうちで、やろう。

Study at home. 小学校受験の家庭学習教材

図形：回転鏡 18

左の四角のマスに鏡に映した時の見え方を考えて、真ん中の四角にかきます。その後その形を矢印の方向へ1回倒した時の見え方を考えて一番右のマスにかきます。

	↓		↘	
--	---	--	---	--

	↓		↘	
--	---	--	---	--

	↓		↘	
--	---	--	---	--

	↓		↘	
--	---	--	---	--

	↓		↘	
--	---	--	---	--

※1. このプリントは、しながわ・目黒こどもスクールのウェブサイトでダウンロードができます。無断複写・引用はご遠慮ください。

※2. このプリントを活用したオンライン授業のスケジュールは、しながわ・目黒こどもスクールのウェブサイトでご確認ください。


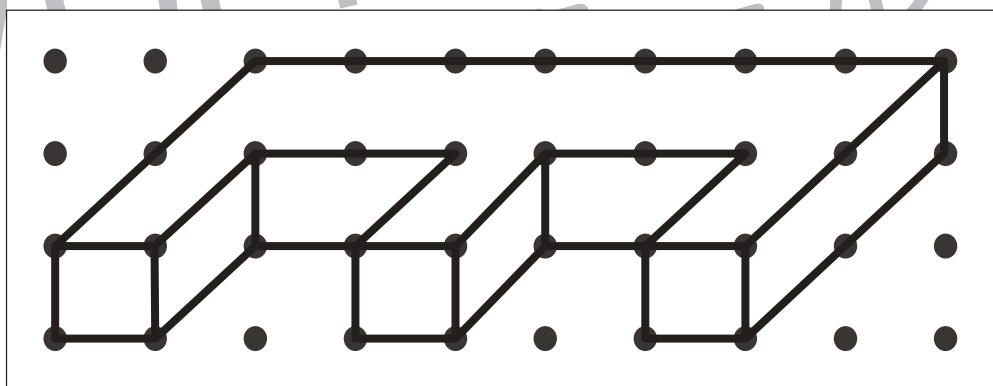

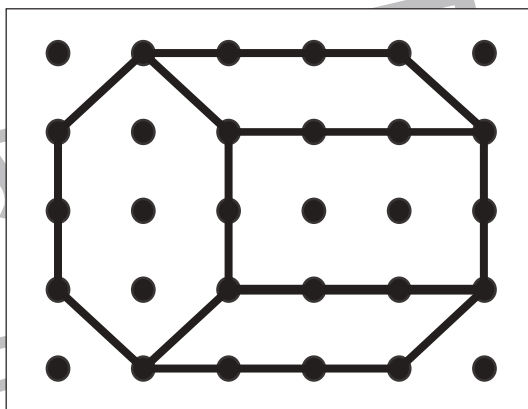

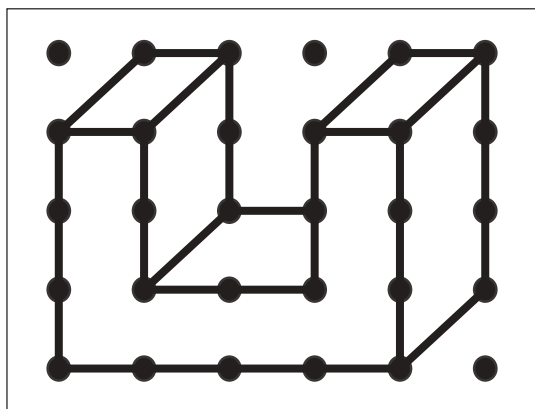


おうちで、やろう。

Study at home. 小学校受験の家庭学習教材

図形：点図形 74

上の四角に描かれた線とまったく同じように鉛筆で下の四角に描きましょう。
※このプリントに解答はありません。



※1. このプリントは、しながわ・目黒こどもスクールのウェブサイトからダウンロードできます。無断複写・引用はご遠慮ください。
※2. このプリントを活用したオンライン授業のスケジュールは、しながわ・目黒こどもスクールのウェブサイトでご確認ください。





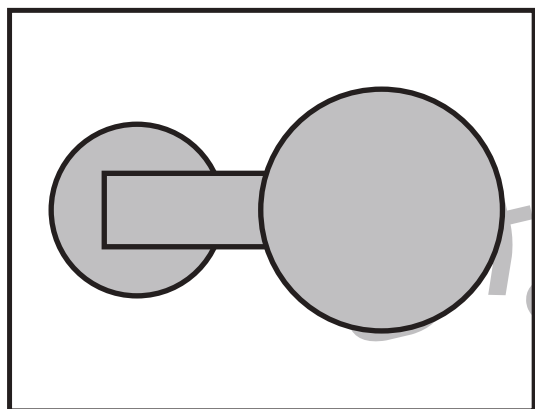


おうちで、やろう。

Study at home. 小学校受験の家庭学習教材

巧緻性：はさみ 20

- ①点線のところをはさみで切ります。
 - ②切った下の部分にある灰色の○、口をはさみで切ります。
 - ③切った上の部分にある形の中に左上のお手本と同じになるようにのりで貼ります。
- ※この問題に解答はありません。






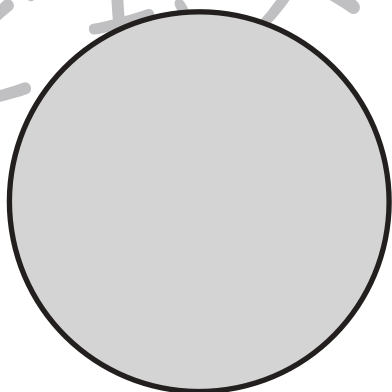
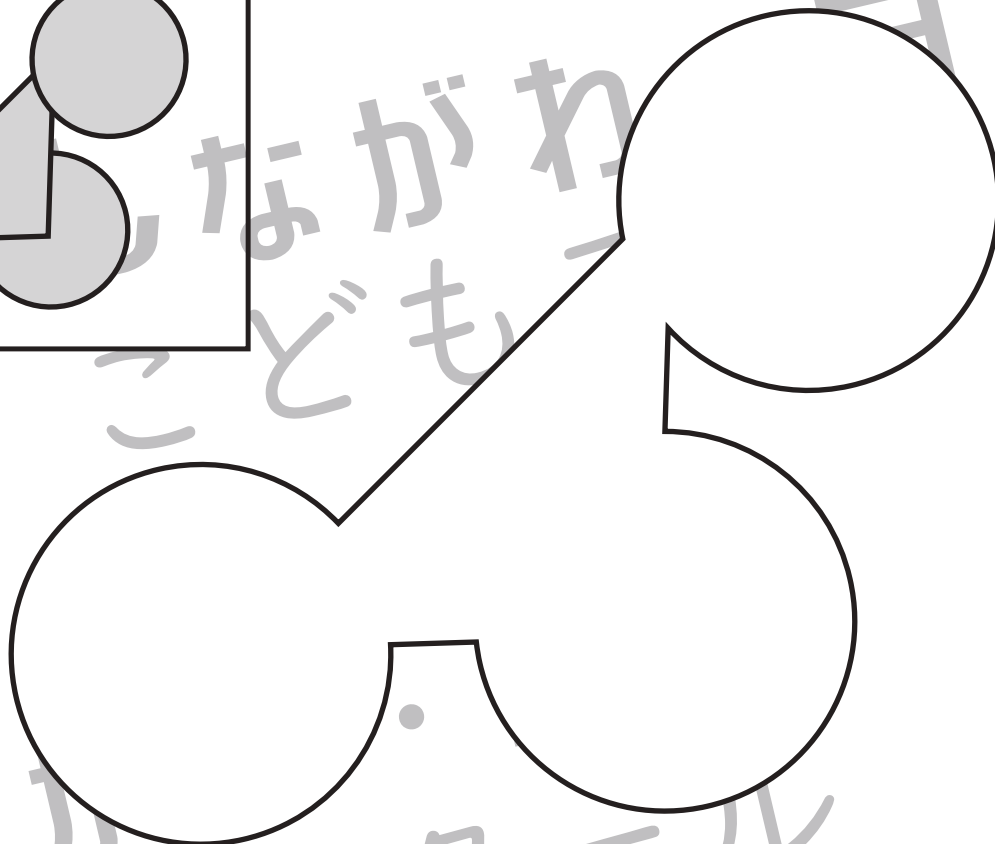
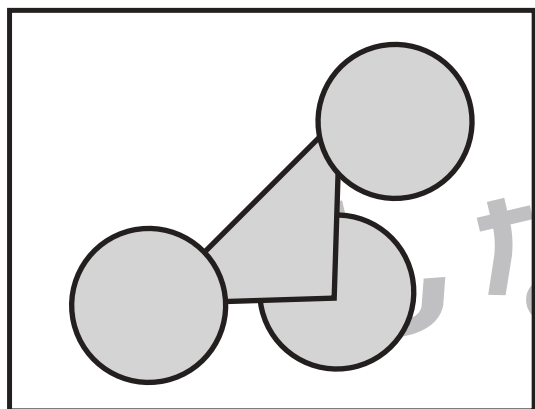


おうちで、やろう。

Study at home. 小学校受験の家庭学習教材

巧緻性：はさみ 21

- ①点線のところをはさみで切ります。 ②切った下の部分にある灰色の○、△をはさみで切ります。
 - ③切った上の部分にある形の中に左上のお手本と同じになるようにのりで貼ります。
- ※この問題に解答はありません。



※1. このプリントは、しながわ・目黒こどもスクールのウェブサイトでダウンロードができます。無断複写・引用はご遠慮ください。
 ※2. このプリントを活用したオンライン授業のスケジュールは、しながわ・目黒こどもスクールのウェブサイトでご確認ください。