



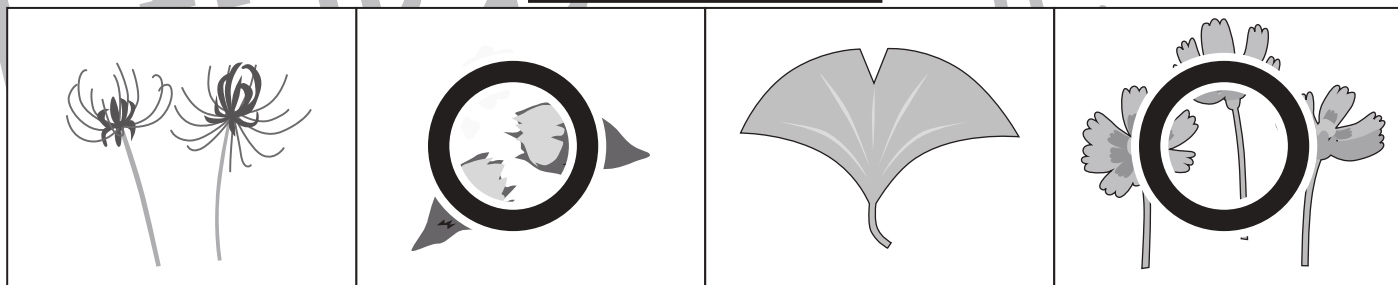

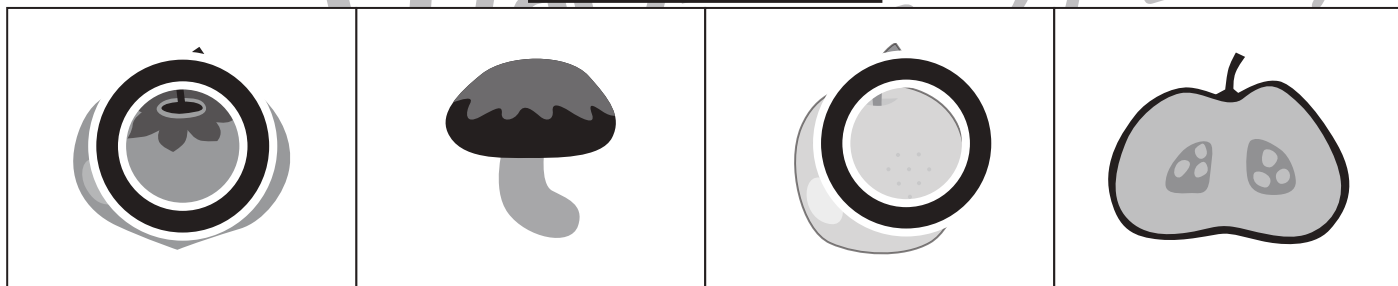



# おうちで、やろう。新年長児版

Study at home. 小学校受験の家庭学習教材

言語：音の数 14

太い線の中の絵と同じ音の数の絵を下の四角の中から全て選び、○をつけましょう。



※1. このプリントは、しながわ・目黒こどもスクールのウェブサイトからダウンロードできます。無断複写・引用はご遠慮ください。  
 ※2. このプリントを活用したオンライン授業のスケジュールは、しながわ・目黒こどもスクールのウェブサイトでご確認ください。



# おうちで、やろう。新年長児版

Study at home. 小学校受験の家庭学習教材

処理能力：抹消 5

上の太い四角の中がお手本です。下のマスに絵がたくさん並んでいます。この中でお手本の絵と同じ絵に○をつけます。ただし、進む方向は左上のセルからはじめて右へ進み、右端まできたら2段目の左から右へと順番に進みます。  
※お手本の点線をなぞってから先に進みましょう。




ICT 教育の小学校受験

※1. このプリントは、しながわ・目黒こどもスクールのウェブサイトからダウンロードできます。無断複写・引用はご遠慮ください。

※2. このプリントを活用したオンライン授業のスケジュールは、しながわ・目黒こどもスクールのウェブサイトでご確認ください。



# おうちで、やろう。 新年長児版

Study at home. 小学校受験の家庭学習教材

図形：移動 10

トラが上の四角の中に並んだ矢印の方向へマスで1マスずつ移動していきます。最後に着くマスを考えて、そのマスに○をかきます。矢印は左から順番に見ていきます。

↓ ↓ ↓ ↗ ↓ ↗ ↗				
				○

↙ ↑ ↙ ↑ ↙ ↙ ↑				
○				

↓ → ↑ ← ↘ ← →				
			○	

→ ↓ ← ↓ ↘ ↗ ↑				
○				

※1. このプリントは、しながわ・目黒こどもスクールのウェブサイトでダウンロードができます。無断複写・引用はご遠慮ください。  
 ※2. このプリントを活用したオンライン授業のスケジュールは、しながわ・目黒こどもスクールのウェブサイトでご確認ください。

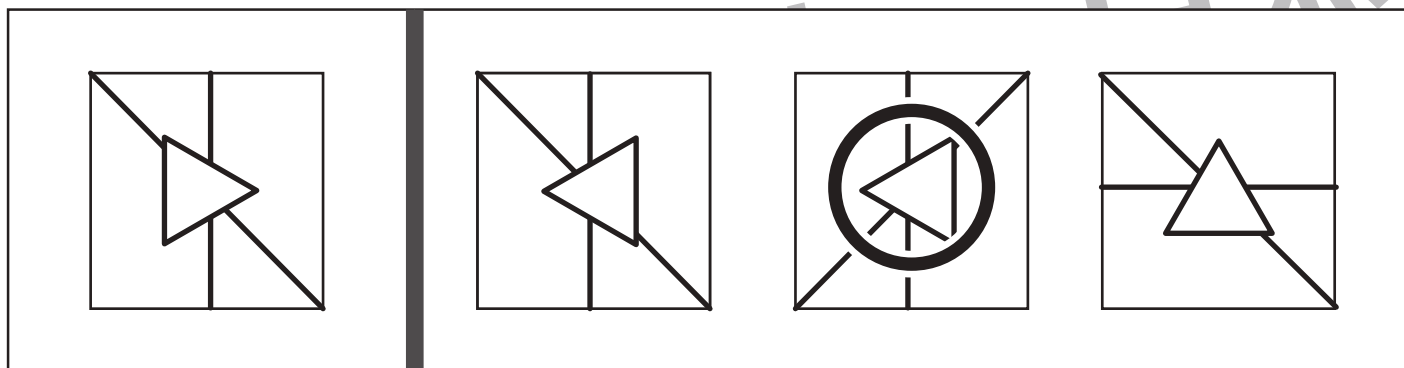

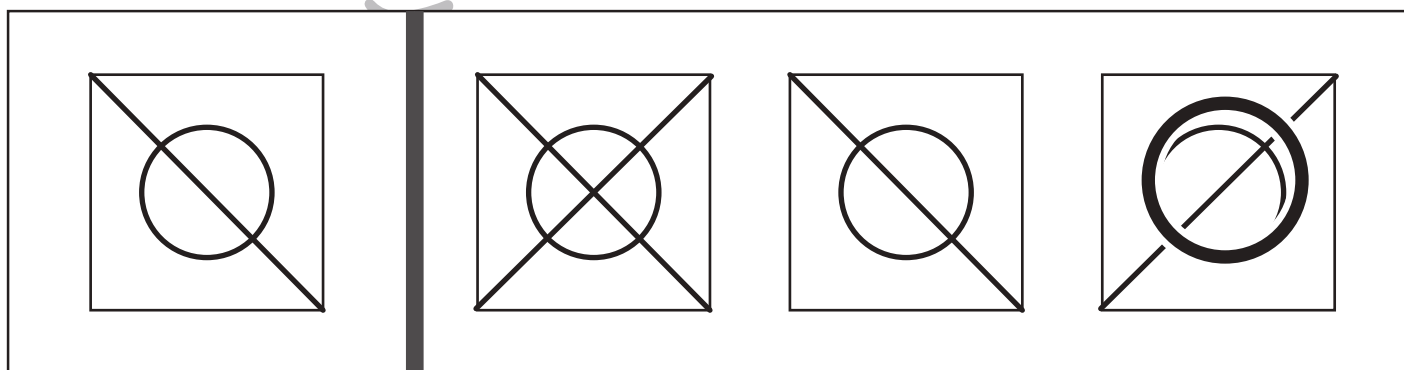
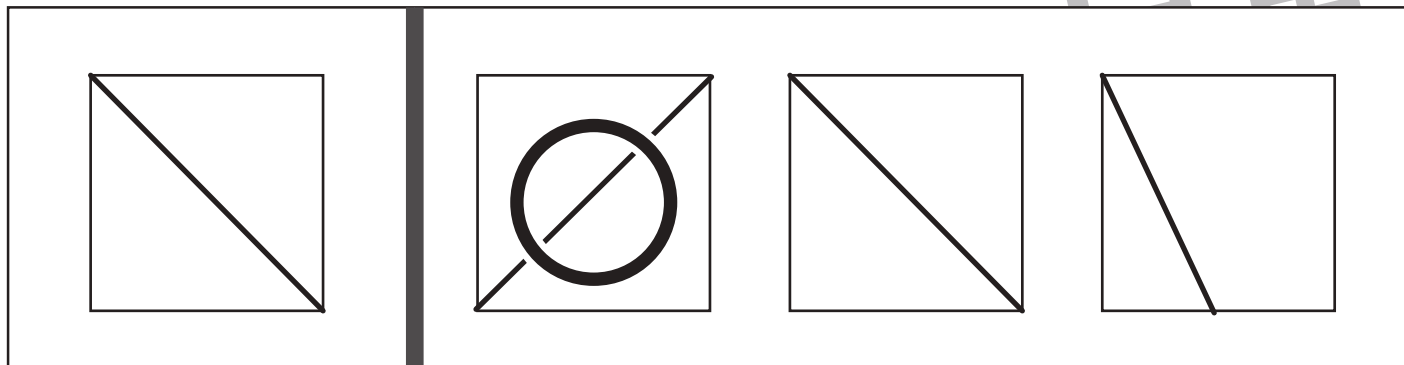


# おうちで、やろう。 新年長児版

Study at home. 小学校受験の家庭学習教材

図形：鏡 3

左の四角の中の絵を鏡に映したときの見え方を考えて、右の四角の中から選び、○をつけます。



※1. このプリントは、しながわ・目黒こどもスクールのウェブサイトでダウンロードができます。無断複写・引用はご遠慮ください。  
 ※2. このプリントを活用したオンライン授業のスケジュールは、しながわ・目黒こどもスクールのウェブサイトでご確認ください。



# おうちで、やろう。 新年長児版

Study at home. 小学校受験の家庭学習教材

図形：鏡 4

左の四角の中の絵を鏡に映したときの見え方を考えて、右の四角の中から選び、○をつけます。

<table border="1"> <tr><td>●</td><td></td></tr> <tr><td></td><td></td></tr> </table>	●				<table border="1"> <tr><td>○</td><td>●</td></tr> <tr><td>○</td><td></td></tr> </table>	○	●	○		<table border="1"> <tr><td></td><td></td></tr> <tr><td></td><td>●</td></tr> </table>				●	<table border="1"> <tr><td></td><td></td></tr> <tr><td>●</td><td></td></tr> </table>			●	
●																			
○	●																		
○																			
	●																		
●																			

<table border="1"> <tr><td>●</td><td>○</td></tr> <tr><td></td><td></td></tr> </table>	●	○			<table border="1"> <tr><td>●</td><td>○</td></tr> <tr><td></td><td></td></tr> </table>	●	○			<table border="1"> <tr><td>○</td><td>●</td></tr> <tr><td>○</td><td></td></tr> </table>	○	●	○		<table border="1"> <tr><td></td><td>●</td></tr> <tr><td></td><td>○</td></tr> </table>		●		○
●	○																		
●	○																		
○	●																		
○																			
	●																		
	○																		

<table border="1"> <tr><td>▲</td><td></td></tr> <tr><td></td><td></td></tr> </table>	▲				<table border="1"> <tr><td>▼</td><td></td></tr> <tr><td></td><td></td></tr> </table>	▼				<table border="1"> <tr><td>▲</td><td></td></tr> <tr><td></td><td></td></tr> </table>	▲				<table border="1"> <tr><td>○</td><td>▲</td></tr> <tr><td>○</td><td></td></tr> </table>	○	▲	○	
▲																			
▼																			
▲																			
○	▲																		
○																			

<table border="1"> <tr><td>○</td><td>▶</td></tr> <tr><td></td><td></td></tr> </table>	○	▶			<table border="1"> <tr><td>▶</td><td>○</td></tr> <tr><td>○</td><td>○</td></tr> </table>	▶	○	○	○	<table border="1"> <tr><td></td><td>▲</td></tr> <tr><td></td><td>○</td></tr> </table>		▲		○	<table border="1"> <tr><td></td><td></td></tr> <tr><td>○</td><td>▶</td></tr> </table>			○	▶
○	▶																		
▶	○																		
○	○																		
	▲																		
	○																		
○	▶																		

※1. このプリントは、しながわ・目黒こどもスクールのウェブサイトでダウンロードができます。無断複写・引用はご遠慮ください。  
 ※2. このプリントを活用したオンライン授業のスケジュールは、しながわ・目黒こどもスクールのウェブサイトでご確認ください。






# おうちで、やろう。新年長児版

Study at home. 小学校受験の家庭学習教材

推理：影 6

左の四角の中には絵が影になって重なっています。影になっていない絵を右の四角の中から見つけて△をつけます。



※1. このプリントは、しながわ・目黒こどもスクールのウェブサイトでダウンロードができます。無断複写・引用はご遠慮ください。  
※2. このプリントを活用したオンライン授業のスケジュールは、しながわ・目黒こどもスクールのウェブサイトでご確認ください。









# おうちで、やろう。 新年長児版




Study at home. 小学校受験の家庭学習教材



## 推理：数の推理 4

ある約束通りに絵が並んでいます。約束は決まった数だけ増えたり減ったりしています。空いている四角に入る絵の数だけ○をかきます。

	$\bigcirc \times 4$		$\bigcirc \times 6$
---	---------------------	--	---------------------

		$\bigcirc \times 7$	$\bigcirc \times 8$
--	--	---------------------	---------------------

		$\bigcirc \times 6$	
---	---	---------------------	---

	$\bigcirc \times 8$	$\bigcirc \times 7$	
---	---------------------	---------------------	---

※1. このプリントは、しながわ・目黒こどもスクールのウェブサイトでダウンロードができます。無断複写・引用はご遠慮ください。  
 ※2. このプリントを活用したオンライン授業のスケジュールは、しながわ・目黒こどもスクールのウェブサイトでご確認ください。