





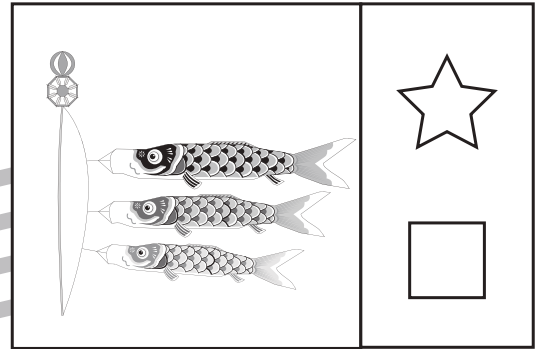




おうちで、やろう。

Study at home. 小学校受験の家庭学習教材

常識：仲間分け 1

四角の中の絵が春のものには☆を、冬のものには□を○で囲みます。



※1. このプリントは、しながわ・目黒こどもスクールのウェブサイトでダウンロードができます。無断複写・引用はご遠慮ください。
※2. このプリントを活用したオンライン授業のスケジュールは、しながわ・目黒こどもスクールのウェブサイトでご確認ください。




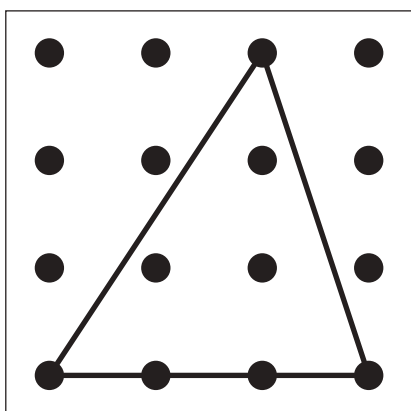
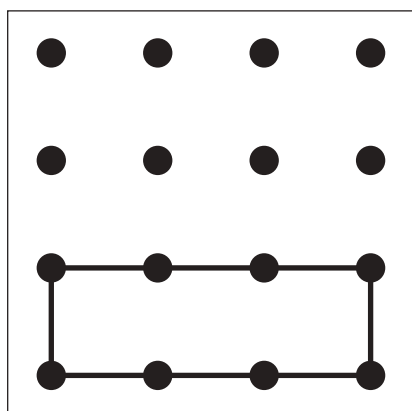

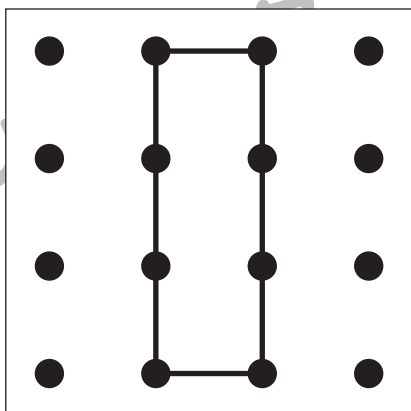
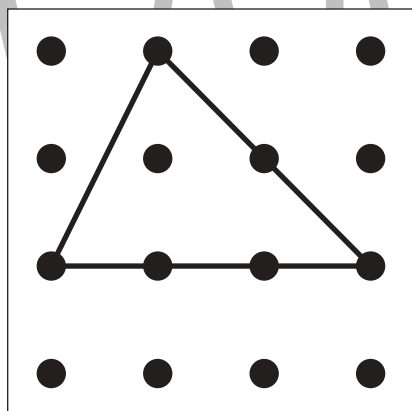

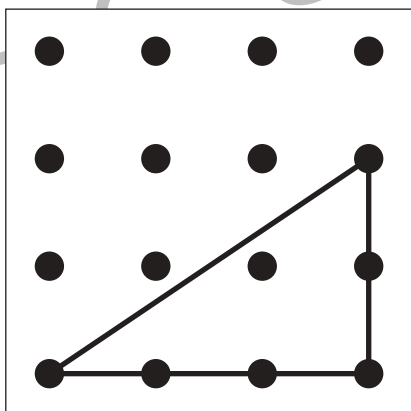
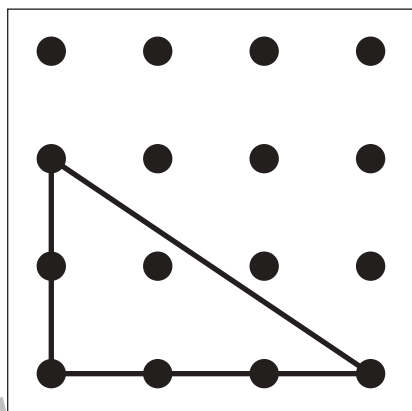

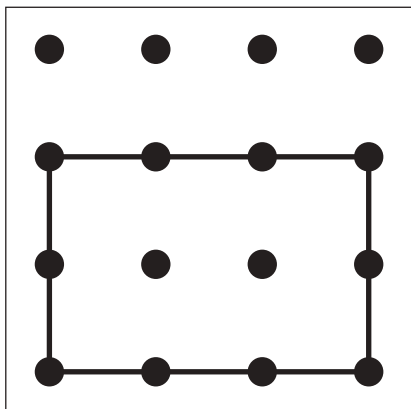
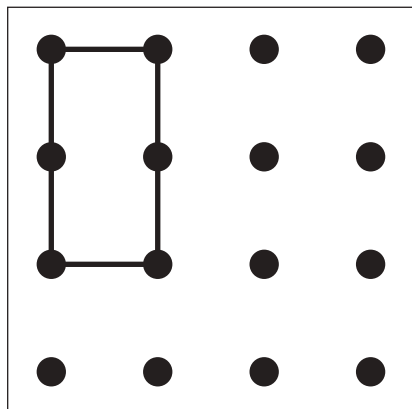


おうちで、やろう。

Study at home. 小学校受験の家庭学習教材

図形：重ね点図形 1

左の2枚の点図形を重ねた形を考えて、矢印の右の四角にかきます。



※1. このプリントは、しながわ・目黒こどもスクールのウェブサイトでダウンロードができます。無断複写・引用はご遠慮ください。

※2. このプリントを活用したオンライン授業のスケジュールは、しながわ・目黒こどもスクールのウェブサイトでご確認ください。


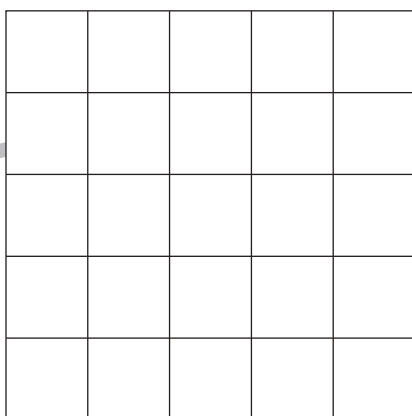
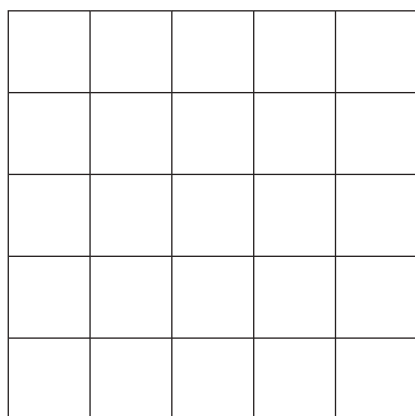
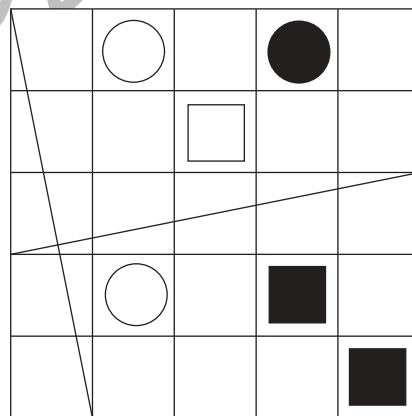
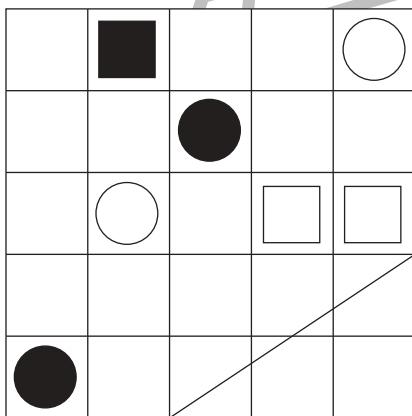
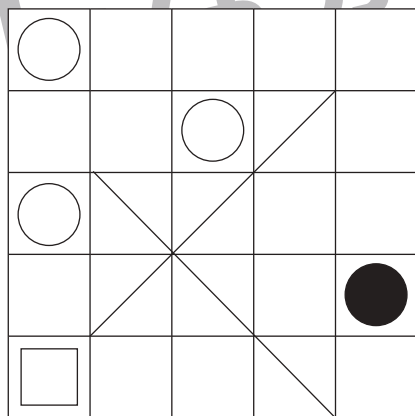




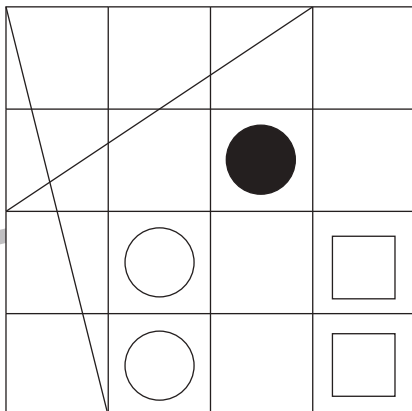
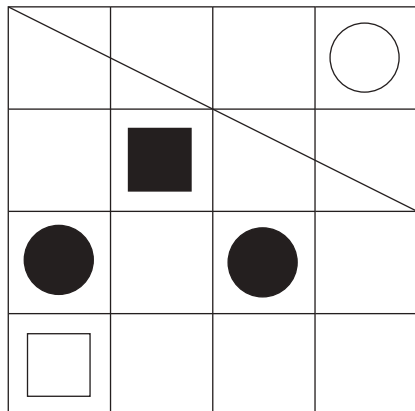


おうちで、やろう。

Study at home. 小学校受験の家庭学習教材

図形：模写 1

上のお手本を見ながら、下の四角に同じ線や印をかきます。(この問題に解答はありません)



※1. このプリントは、しながわ・目黒こどもスクールのウェブサイトでダウンロードができます。無断複写・引用はご遠慮ください。
※2. このプリントを活用したオンライン授業のスケジュールは、しながわ・目黒こどもスクールのウェブサイトでご確認ください。





おうちで、やろう。

Study at home. 小学校受験の家庭学習教材

推理：ブラックボックス1

一番上の四角の中が約束です。☆の箱に入ると1つ増え、★の箱に入ると2つ減ります。この約束で下の問題を考えます。お菓子が矢印の順番に箱の中を通ったとき、?の場所のお菓子はいくつになりますか。その数だけ右の四角の中に○をかきます。

※1. このプリントは、しながわ・目黒こどもスクールのウェブサイトでダウンロードができます。無断複写・引用はご遠慮ください。
※2. このプリントを活用したオンライン授業のスケジュールは、しながわ・目黒こどもスクールのウェブサイトでご確認ください。





おうちで、やろう。

Study at home. 小学校受験の家庭学習教材

まちがいさがし2


上下の絵を見比べて、変わっているところを6つ探します。見つけたら、下の絵の変わっている部分に丸をつけます。



ICT教育の小学校受験

※1. このプリントは、しながわ・目黒こどもスクールのウェブサイトでダウンロードができます。無断複写・引用はご遠慮ください。

※2. このプリントを活用したオンライン授業のスケジュールは、しながわ・目黒こどもスクールのウェブサイトでご確認ください。





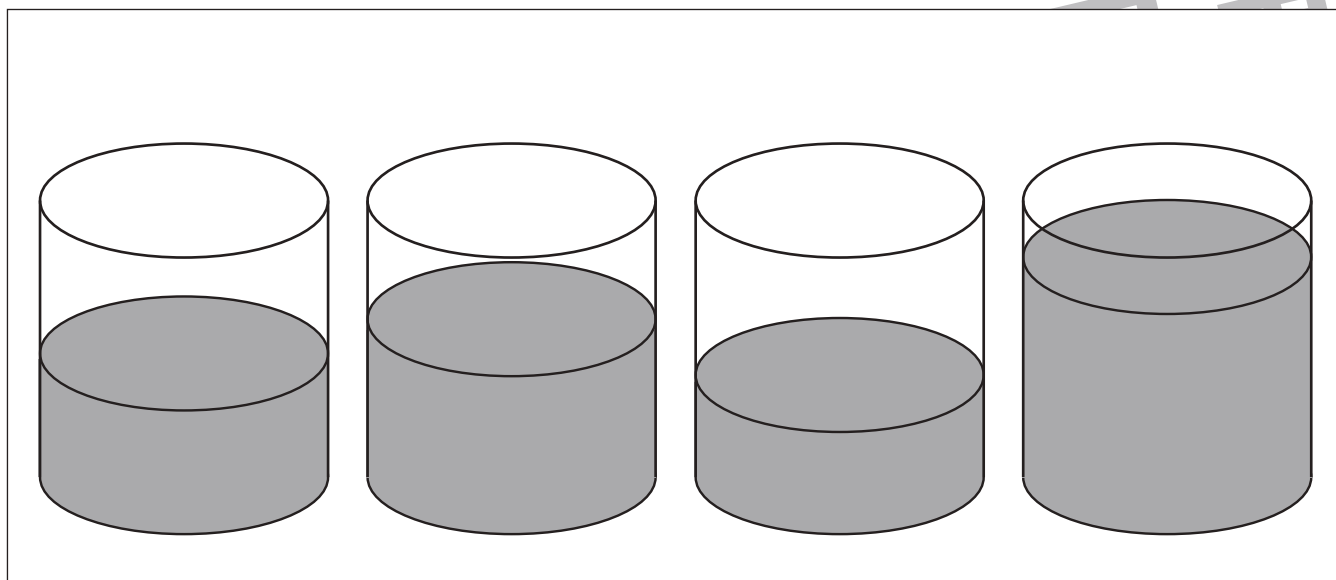
おうちで、やろう。

Study at home. 小学校受験の家庭学習教材

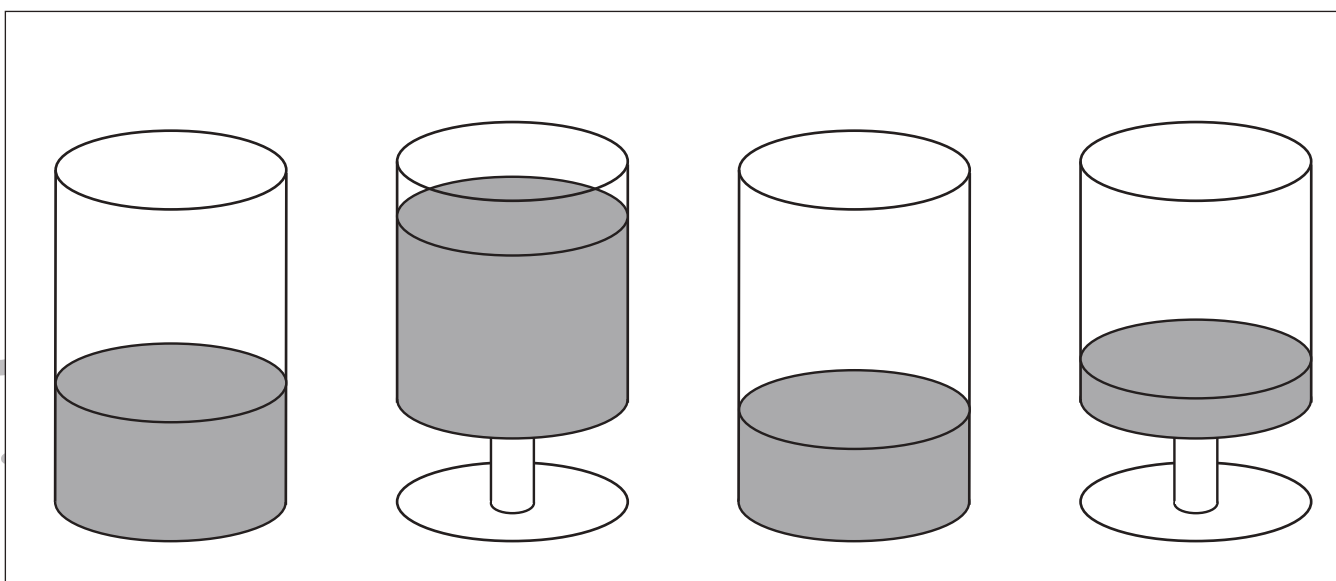
推理：水量 1

水の量が一番目に少ないものに○を、四番目に少ないものに×をつけます。

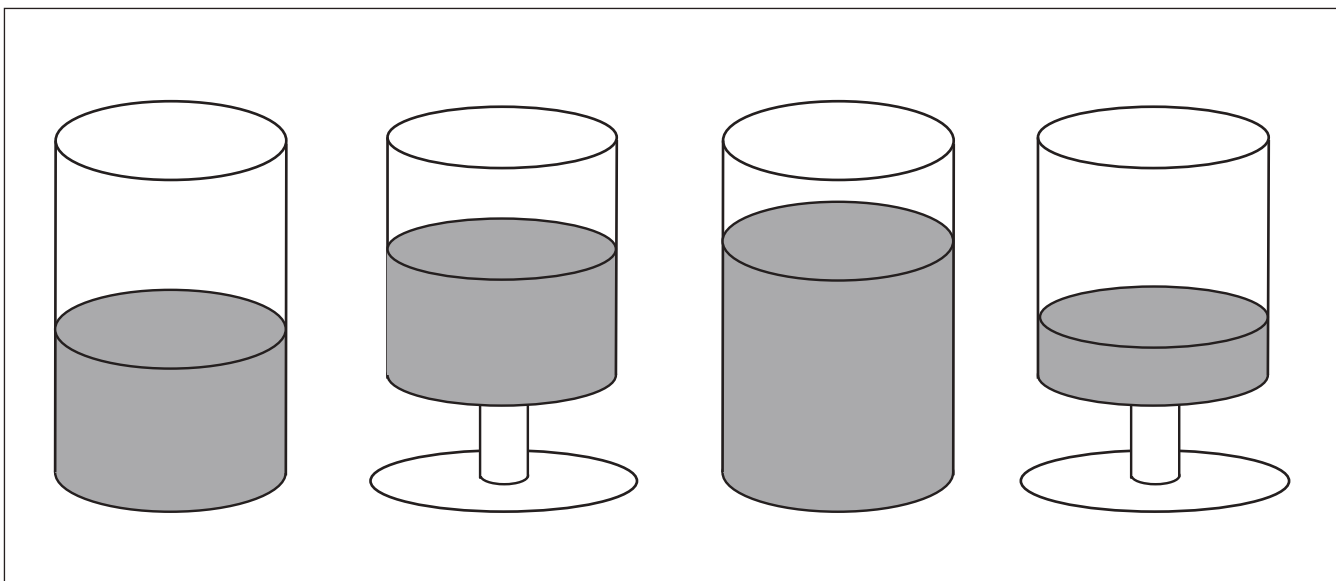
①



②



③



※1. このプリントは、しながわ・目黒こどもスクールのウェブサイトダウンロードができます。無断複写・引用はご遠慮ください。

※2. このプリントを活用したオンライン授業のスケジュールは、しながわ・目黒こどもスクールのウェブサイトでご確認ください。






おうちで、やろう。

Study at home. 小学校受験の家庭学習教材

数量：計数 1

四角の中にある絵の中で、下の四角の横に描いてあると同じくだものをかぞえてその数だけ四角の中に○をかきます。
大きさがちがうこともあります。



※1. このプリントは、しながわ・目黒こどもスクールのウェブサイトでダウンロードができます。無断複写・引用はご遠慮ください。
※2. このプリントを活用したオンライン授業のスケジュールは、しながわ・目黒こどもスクールのウェブサイトでご確認ください。



おうちで、やろう。

Study at home. 小学校受験の家庭学習教材

数量：差 1

太い四角の中がお手本です。右の四角の中の絵をお手本のように組み合わせた時、下の四角の中の絵はいくつ足りないですか。その数だけ下の四角の絵の横に○をかきます。

--	--

--	--

--	--

--	--

--	--

--	--

※1. このプリントは、しながわ・目黒こどもスクールのウェブサイトからダウンロードできます。無断複写・引用はご遠慮ください。
 ※2. このプリントを活用したオンライン授業のスケジュールは、しながわ・目黒こどもスクールのウェブサイトでご確認ください。




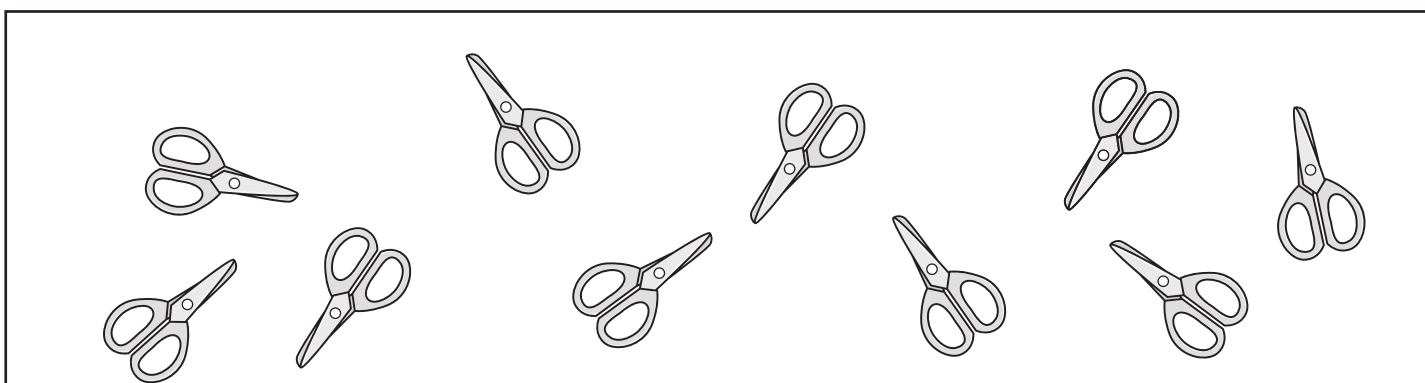
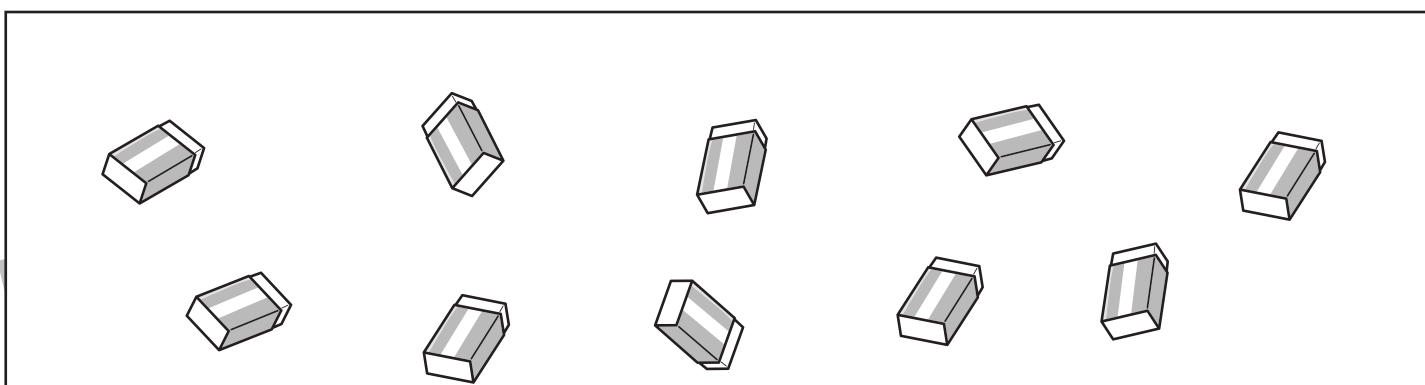



おうちで、やろう。

Study at home. 小学校受験の家庭学習教材

図形：分割 1

四角の中の文房具を、ふたりで同じ数になるように分けるとき、ひとり分はいくつになりますか。

それぞれがもらえる文房具の数だけ四角の中に○をかきます。



※1. このプリントは、しながわ・目黒こどもスクールのウェブサイトからダウンロードできます。無断複写・引用はご遠慮ください。
※2. このプリントを活用したオンライン授業のスケジュールは、しながわ・目黒こどもスクールのウェブサイトでご確認ください。

