



# おうちで、やろう。

Study at home. 小学校受験の家庭学習教材

## 図形：重ね点図形 2

左の2枚の点図形を重ねた形を考えて、矢印の右の四角にかきます。


※1. このプリントは、しながわ・目黒こどもスクールのウェブサイトでダウンロードができます。無断複写・引用はご遠慮ください。

※2. このプリントを活用したオンライン授業のスケジュールは、しながわ・目黒こどもスクールのウェブサイトでご確認ください。



# おうちで、やろう。

Study at home. 小学校受験の家庭学習教材

## 図形：重ね点図形 3

左の2枚の点図形を重ねた形を考えて、矢印の右の四角にかきます。


※1. このプリントは、しながわ・目黒こどもスクールのウェブサイトでダウンロードができます。無断複写・引用はご遠慮ください。

※2. このプリントを活用したオンライン授業のスケジュールは、しながわ・目黒こどもスクールのウェブサイトでご確認ください。


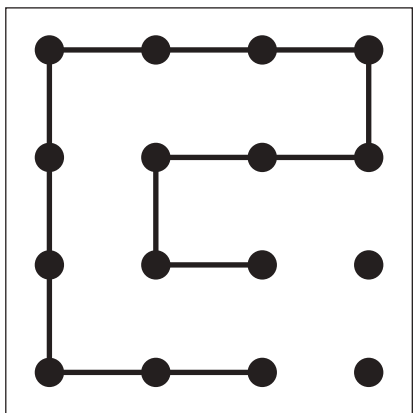
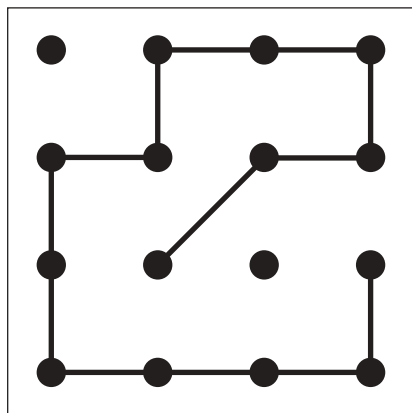

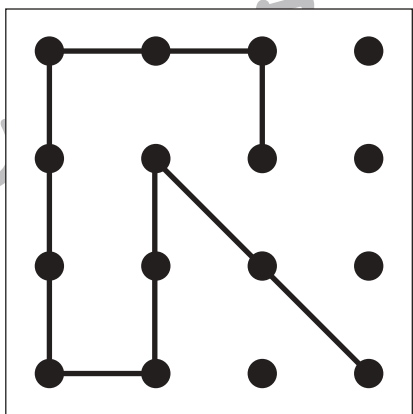
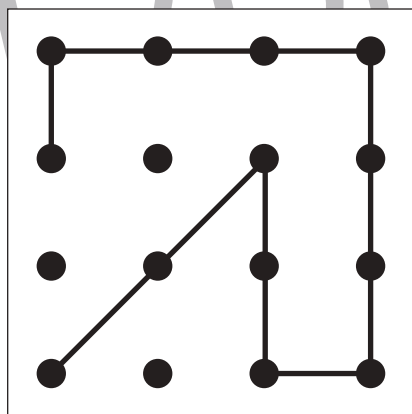

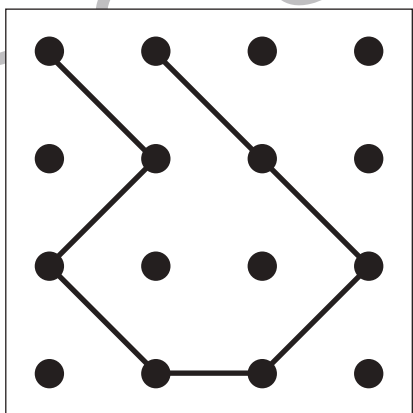
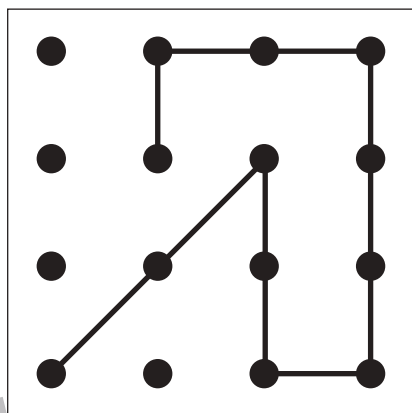

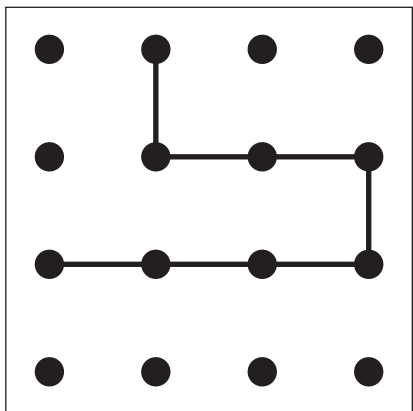
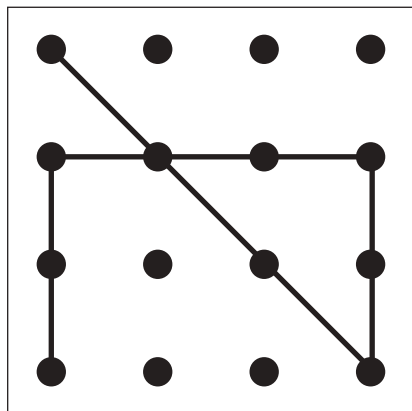


# おうちで、やろう。

Study at home. 小学校受験の家庭学習教材

## 図形：重ね点図形 4

左の2枚の点図形を重ねた形を考えて、矢印の右の四角にかきます。



※1. このプリントは、しながわ・目黒こどもスクールのウェブサイトでダウンロードができます。無断複写・引用はご遠慮ください。

※2. このプリントを活用したオンライン授業のスケジュールは、しながわ・目黒こどもスクールのウェブサイトでご確認ください。





# おうちで、やろう。

Study at home. 小学校受験の家庭学習教材

推理：比較 1

それぞれ、一番長いものに○、短いものに×をつけます。

The first puzzle shows three pencils of different lengths. The second puzzle shows three carrots on a stepped platform. The third puzzle shows a grid with horizontal bars of varying lengths.

※1. このプリントは、しながわ・目黒こどもスクールのウェブサイトからダウンロードができます。無断複写・引用はご遠慮ください。  
 ※2. このプリントを活用したオンライン授業のスケジュールは、しながわ・目黒こどもスクールのウェブサイトでご確認ください。



# おうちで、やろう。

Study at home. 小学校受験の家庭学習教材

推理：比較 2

それぞれ、一番長いものに○、短いものに×、同じ長さのものに△をつけます。

The exercise consists of three parts within a large frame:

- Top section:** Four pencils are shown horizontally, all starting from a vertical line on the left. They vary in length: the top one is the longest, the second is shorter, the third is the shortest, and the bottom one is the same length as the second.
- Middle section:** Four carrots are shown on platforms of different heights. From left to right: the first is on a low platform, the second is on the ground (lowest), the third is on a medium platform, and the fourth is on a high platform.
- Bottom section:** A grid with 10 columns and 4 rows. Horizontal bars are drawn across the grid at different heights and lengths:
  - Row 1: A bar spanning from the 4th to the 10th column.
  - Row 2: A bar spanning from the 1st to the 4th column.
  - Row 3: A bar spanning from the 2nd to the 5th column.
  - Row 4: A bar spanning from the 6th to the 10th column.

※1. このプリントは、しながわ・目黒こどもスクールのウェブサイトからダウンロードできます。無断複写・引用はご遠慮ください。

※2. このプリントを活用したオンライン授業のスケジュールは、しながわ・目黒こどもスクールのウェブサイトでご確認ください。



# おうちで、やろう。

Study at home. 小学校受験の家庭学習教材

推理：比較3

それぞれ、二番目に長いものに○、同じ長さのものに△をつけます。

The large frame contains three sections:

- Top Section:** Four pencils of different lengths are shown horizontally. From top to bottom, they are: long, medium, medium, and long.
- Middle Section:** Four carrots are shown on a stepped platform. From left to right: a medium carrot on a low platform, a small carrot on a low platform, a tall carrot on a high platform, and a tall carrot on a low platform.
- Bottom Section:** A 5x5 grid with thick black bars in the following cells: (1,4), (1,5), (2,1), (2,2), (2,3), (3,4), (3,5), (4,1), (4,2), (4,3), (4,4), (5,4), (5,5).

※1. このプリントは、しながわ・目黒こどもスクールのウェブサイトからダウンロードできます。無断複写・引用はご遠慮ください。  
 ※2. このプリントを活用したオンライン授業のスケジュールは、しながわ・目黒こどもスクールのウェブサイトでご確認ください。









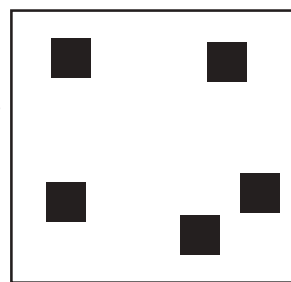













# おうちで、やろう。

Study at home. 小学校受験の家庭学習教材

数量：計数3

左の問題は、四角の中にある絵の数を比べて多いほうに○をつけます。右の問題は四角の中にある絵の数を比べて少ないほうに△をつけます。



※1. このプリントは、しながわ・目黒こどもスクールのウェブサイトでダウンロードができます。無断複写・引用はご遠慮ください。  
※2. このプリントを活用したオンライン授業のスケジュールは、しながわ・目黒こどもスクールのウェブサイトでご確認ください。

























# おうちで、やろう。

Study at home. 小学校受験の家庭学習教材

数量：計数 4

左の問題は、四角の中にある●と■の数を比べて多いほうに○をつけます。右の問題は四角の中にある絵の数を比べて少ないほうに△をつけます。



※1. このプリントは、しながわ・目黒こどもスクールのウェブサイトでダウンロードができます。無断複写・引用はご遠慮ください。  
※2. このプリントを活用したオンライン授業のスケジュールは、しながわ・目黒こどもスクールのウェブサイトでご確認ください。

























# おうちで、やろう。

Study at home. 小学校受験の家庭学習教材

数量：計数5

左の問題は、四角の中にある●と■の数を比べて多いほうに○をつけます。右の問題は四角の中にある絵の数を比べて少ないほうに△をつけます。左の問題も右の問題も、●と■の数が同じものには印をつけません。



※1. このプリントは、しながわ・目黒こどもスクールのウェブサイトでダウンロードができます。無断複写・引用はご遠慮ください。  
※2. このプリントを活用したオンライン授業のスケジュールは、しながわ・目黒こどもスクールのウェブサイトでご確認ください。






# おうちで、やろう。

Study at home. 小学校受験の家庭学習教材

絵画：条件画 1

下の形をなにかに変身させてみましょう。紙は縦横自由です。



※1. このプリントは、しながわ・目黒こどもスクールのウェブサイトでダウンロードができます。無断複写・引用はご遠慮ください。  
※2. このプリントを活用したオンライン授業のスケジュールは、しながわ・目黒こどもスクールのウェブサイトでご確認ください。