





















おうちで、やろう。新年長児版











Study at home. 小学校受験の家庭学習教材

処理能力：置き換え1

上の太枠の約束のとおり、絵を矢印の先の記号に変身させます。上のマスにある絵の場所をよく考えて、下のマスに記号に変身させて書きましょう。

 → 	 → 	 → 	 → 
---	---	---	---

※1. このプリントは、しながわ・目黒こどもスクールのウェブサイトからダウンロードできます。無断複写・引用はご遠慮ください。
 ※2. このプリントを活用したオンライン授業のスケジュールは、しながわ・目黒こどもスクールのウェブサイトでご確認ください。























おうちで、やろう。新年長児版













Study at home. 小学校受験の家庭学習教材

処理能力：置き換え2

上の太枠の約束のとおり、絵を矢印の先の記号に変身させます。上のマスにある絵の場所をよく考えて、下のマスに記号に変身させて書きましょう。

 → 	 → 	 → 	 → 
--	---	---	---

※1. このプリントは、しながわ・目黒こどもスクールのウェブサイトからダウンロードできます。無断複写・引用はご遠慮ください。
 ※2. このプリントを活用したオンライン授業のスケジュールは、しながわ・目黒こどもスクールのウェブサイトでご確認ください。



























おうちで、やろう。新年長児版

















Study at home. 小学校受験の家庭学習教材

処理能力：置き換え3

上の太枠の約束のとおり、絵を矢印の先の記号に変身させます。上のマスにある絵の場所をよく考えて、下のマスに記号に変身させて書きましょう。

 → 	 → 	 → 	 → 
---	---	---	---

※1. このプリントは、しながわ・目黒こどもスクールのウェブサイトからダウンロードできます。無断複写・引用はご遠慮ください。
 ※2. このプリントを活用したオンライン授業のスケジュールは、しながわ・目黒こどもスクールのウェブサイトでご確認ください。



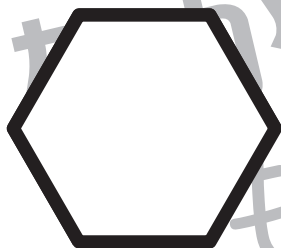




おうちで、よろう。新年長児版

Study at home. 小学校受験の家庭学習教材

図形：欠所1

下の図形をひとつの線で結びます。足りないところを描き足しましょう。



※1. このプリントは、しながわ・目黒こどもスクールのウェブサイトでダウンロードができます。無断複写・引用はご遠慮ください。
※2. このプリントを活用したオンライン授業のスケジュールは、しながわ・目黒こどもスクールのウェブサイトでご確認ください。




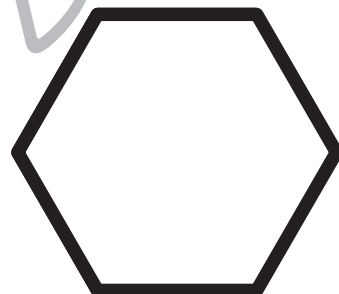


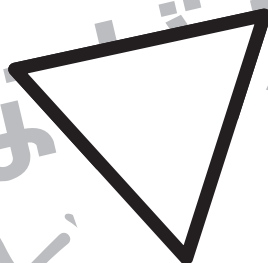
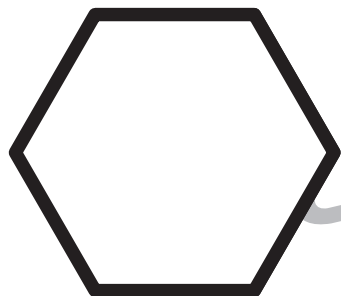


おうちで、よろう。新年長児版

Study at home. 小学校受験の家庭学習教材

図形：欠所2

下の図形をひとつの線で結びます。元の形を想像して、足りないところを描き足しましょう。



※1. このプリントは、しながわ・目黒こどもスクールのウェブサイトでダウンロードができます。無断複写・引用はご遠慮ください。
※2. このプリントを活用したオンライン授業のスケジュールは、しながわ・目黒こどもスクールのウェブサイトでご確認ください。





おうちで、やろう。

Study at home. 小学校受験の家庭学習教材

図形：重ね点図形2

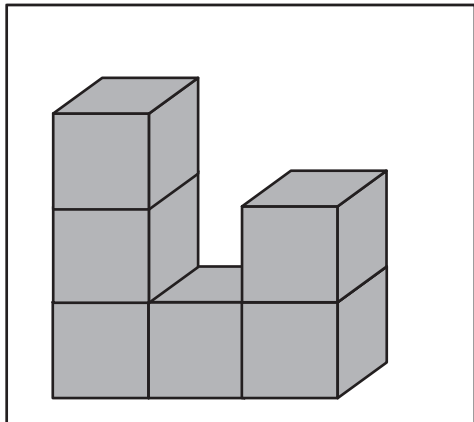
左の2枚の点図形を重ねた形を考えて、矢印の右の四角にかきます。

※1. このプリントは、しながわ・目黒こどもスクールのウェブサイトでダウンロードができます。無断複写・引用はご遠慮ください。

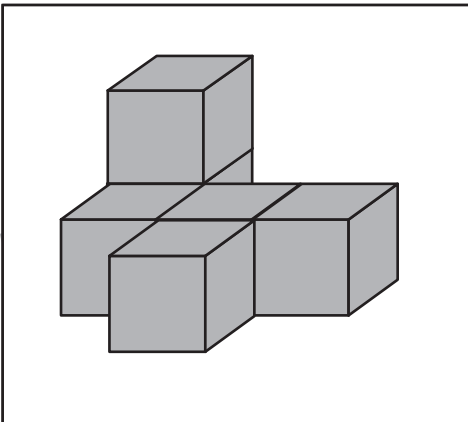
※2. このプリントを活用したオンライン授業のスケジュールは、しながわ・目黒こどもスクールのウェブサイトでご確認ください。



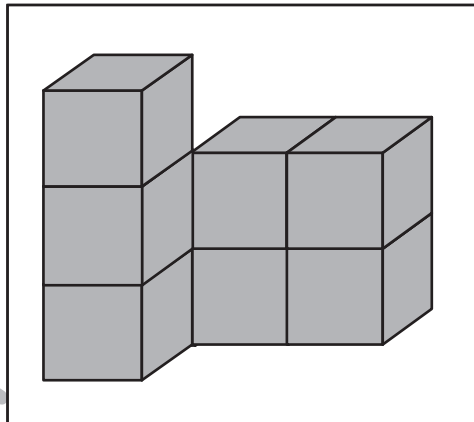
積み木の数だけ、すぐ下の四角に○をかきます。



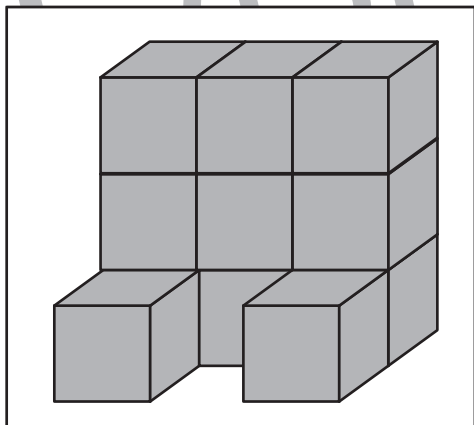
$$\bigcirc \times 6$$



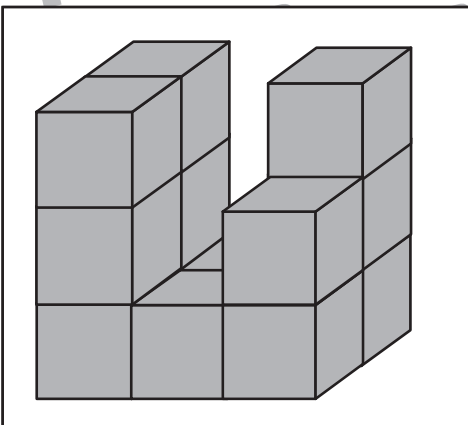
$$\bigcirc \times 6$$



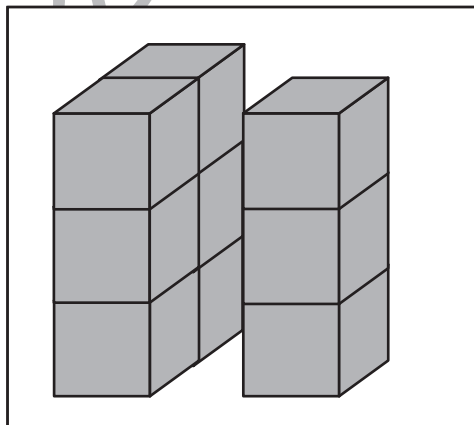
$$\bigcirc \times 7$$



$$\bigcirc \times 11$$



$$\bigcirc \times 13$$

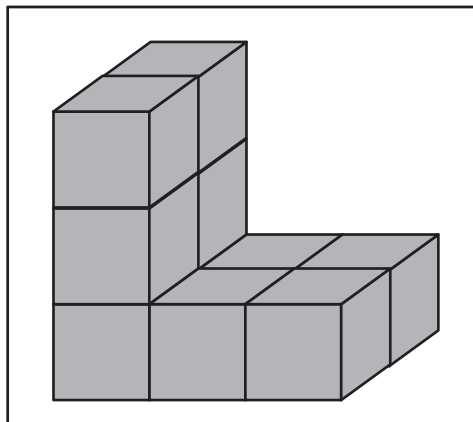


$$\bigcirc \times 9$$

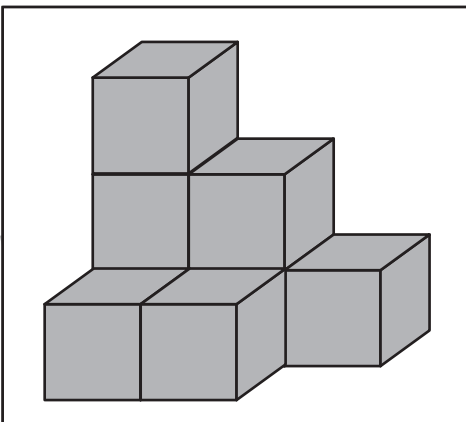
※1. このプリントは、しながわ・目黒こどもスクールのウェブサイトでダウンロードができます。無断複写・引用はご遠慮ください。
※2. このプリントを活用したオンライン授業のスケジュールは、しながわ・目黒こどもスクールのウェブサイトでご確認ください。



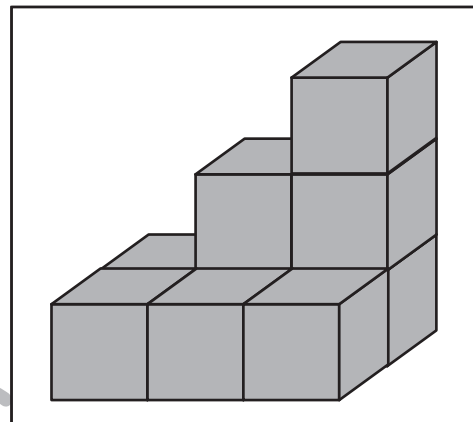
積み木の数だけ、すぐ下の四角に○をかきます。



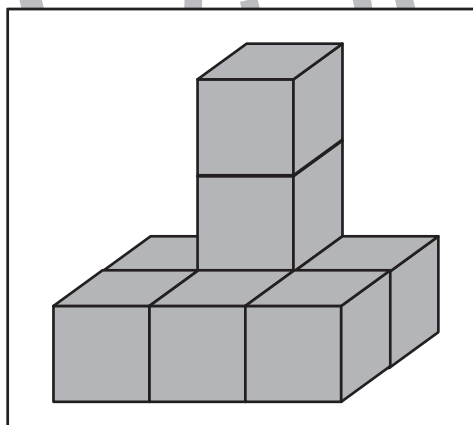
$$\bigcirc \times 10$$



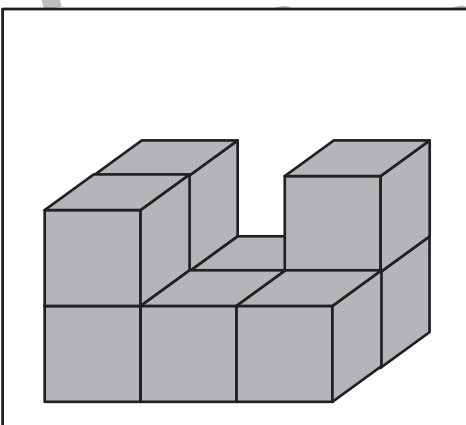
$$\bigcirc \times 8$$



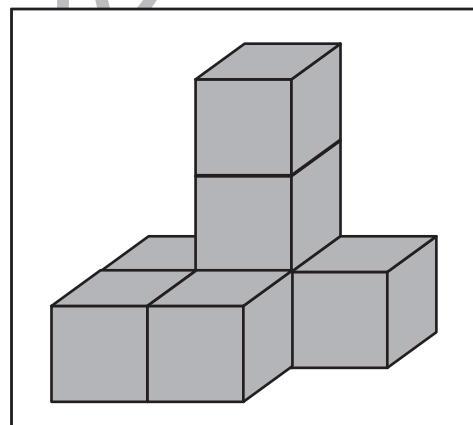
$$\bigcirc \times 9$$



$$\bigcirc \times 8$$



$$\bigcirc \times 9$$



$$\bigcirc \times 7$$