



おうちで、やろう。

Study at home. 小学校受験の家庭学習教材

図形：回転 89

太い四角の中のお手本を時計と反対周りに1回倒した形を考えて、右の四角の中から選び、○をつけます。

※1. このプリントは、しながわ・目黒こどもスクールのウェブサイトでダウンロードができます。無断複写・引用はご遠慮ください。

※2. このプリントを活用したオンライン授業のスケジュールは、しながわ・目黒こどもスクールのウェブサイトでご確認ください。



おうちで、やろう。

Study at home. 小学校受験の家庭学習教材

図形：回転 90

太い四角の中のお手本を時計と反対周りに2回倒した形を考えて、右の四角の中から選び、○をつけます。

※1. このプリントは、しながわ・目黒こどもスクールのウェブサイトからダウンロードできます。無断複写・引用はご遠慮ください。
 ※2. このプリントを活用したオンライン授業のスケジュールは、しながわ・目黒こどもスクールのウェブサイトでご確認ください。



おうちで、やろう。

Study at home. 小学校受験の家庭学習教材

図形：回転91

太い四角の中のお手本を時計と反対周りに3回倒した形を考えて、右の四角の中から選び、○をつけます。

※1. このプリントは、しながわ・目黒こどもスクールのウェブサイトからダウンロードできます。無断複写・引用はご遠慮ください。
 ※2. このプリントを活用したオンライン授業のスケジュールは、しながわ・目黒こどもスクールのウェブサイトでご確認ください。



おうちで、やろう。

Study at home. 小学校受験の家庭学習教材

図形：同図形 12

上のお手本と下のマスと同じ形にします。下のマスのどこかをハンマーで叩いて壊して上のお手本と同じにするには、どのマスが
いらない部分になりますか。その場所をすべて選んで、斜め線（/）をつけましょう。 ※色は塗らなくてもよいです

■	■	
■	■	
■		

		/
		/
	/	/

■		■
■	■	■

/	/	/
	/	

		■
	■	■
■	■	

/	/	
/		
		/

■	■	
	■	■
		■

		/
/		
/	/	

■		
■		

/		/
/		/
/	/	/

		■
■	■	■
■		

/	/	
	/	/

※1. このプリントは、しながわ・目黒こどもスクールのウェブサイトでダウンロードができます。無断複写・引用はご遠慮ください。

※2. このプリントを活用したオンライン授業のスケジュールは、しながわ・目黒こどもスクールのウェブサイトでご確認ください。



おうちで、やろう。

Study at home. 小学校受験の家庭学習教材

図形：同図形 13

上のお手本と下のマスと同じ形にします。下のマスのどこかをハンマーで叩いて壊して上のお手本と同じにするには、どのマスが
いない部分になりますか。その場所をすべて選んで、斜め線（/）をつけましょう。 ※色は塗らなくてもよいです

		/	/
/		/	
/			
/	/		

		/	/
	/	/	
/	/	/	/

/	/		/
/			
		/	
/		/	/

			/
	/	/	/
	/	/	/
		/	/

/	/		
			/
/			/
/	/		/

/	/		/
	/	/	/
		/	/
/		/	/

※1. このプリントは、しながわ・目黒こどもスクールのウェブサイトでダウンロードができます。無断複写・引用はご遠慮ください。

※2. このプリントを活用したオンライン授業のスケジュールは、しながわ・目黒こどもスクールのウェブサイトでご確認ください。



おうちで、やろう。

Study at home. 小学校受験の家庭学習教材

図形：同図形 14

上のお手本と下のマスと同じ形にします。下のマスのどこかをハンマーで叩いて壊して上のお手本と同じにするには、どのマスが
いない部分になりますか。その場所をすべて選んで、斜め線（/）をつけましょう。 ※色は塗らなくてもよいです

	/	/	
/		/	
	/		/
/	/	/	

/			/
	/	/	
/	/		/
	/	/	

/		/	/
		/	
	/	/	/
/		/	

/		/	
/	/		/
	/	/	/
/	/		

/		/	
/		/	
	/	/	/
/	/	/	

/		/	/
		/	
	/	/	/
/		/	

※1. このプリントは、しながわ・目黒こどもスクールのウェブサイトでダウンロードができます。無断複写・引用はご遠慮ください。

※2. このプリントを活用したオンライン授業のスケジュールは、しながわ・目黒こどもスクールのウェブサイトでご確認ください。

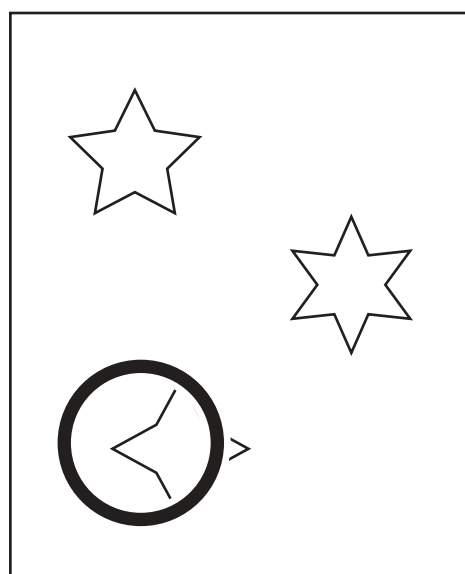

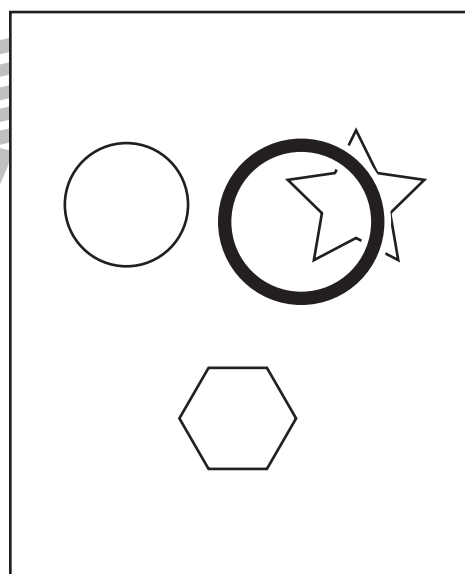
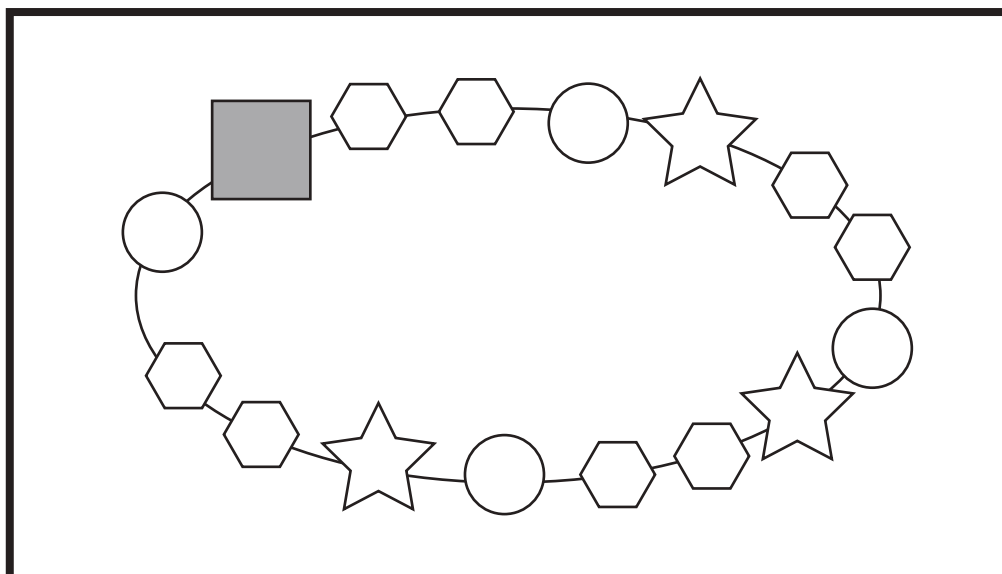

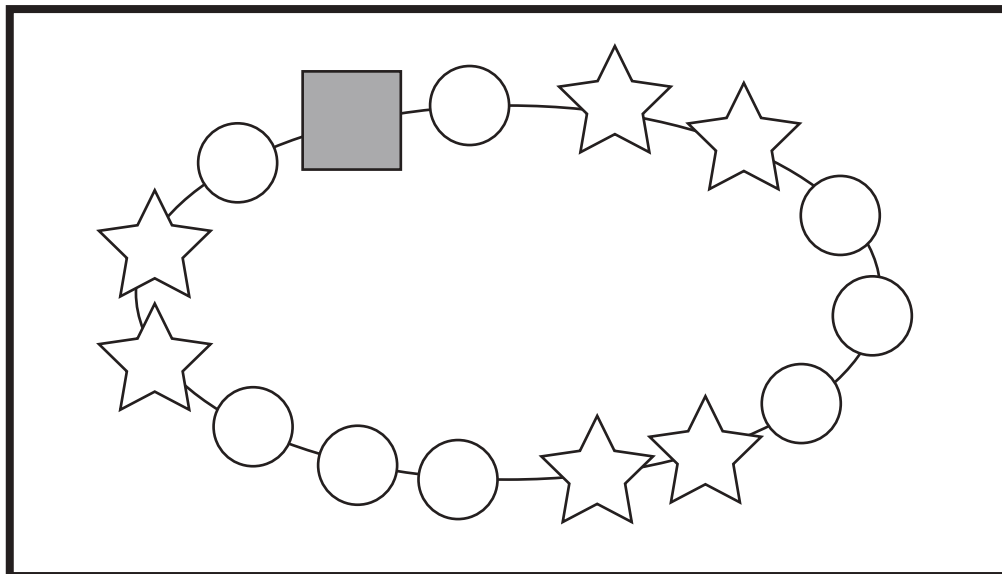


おうちで、やろう。

Study at home. 小学校受験の家庭学習教材

推理：系列完成 35

太い四角の中には、いろいろな形がある順番につながったプレスレットがあります。色のついた四角の場所にあてはまる形を考えて、右の四角の中から選び、○をつけます。




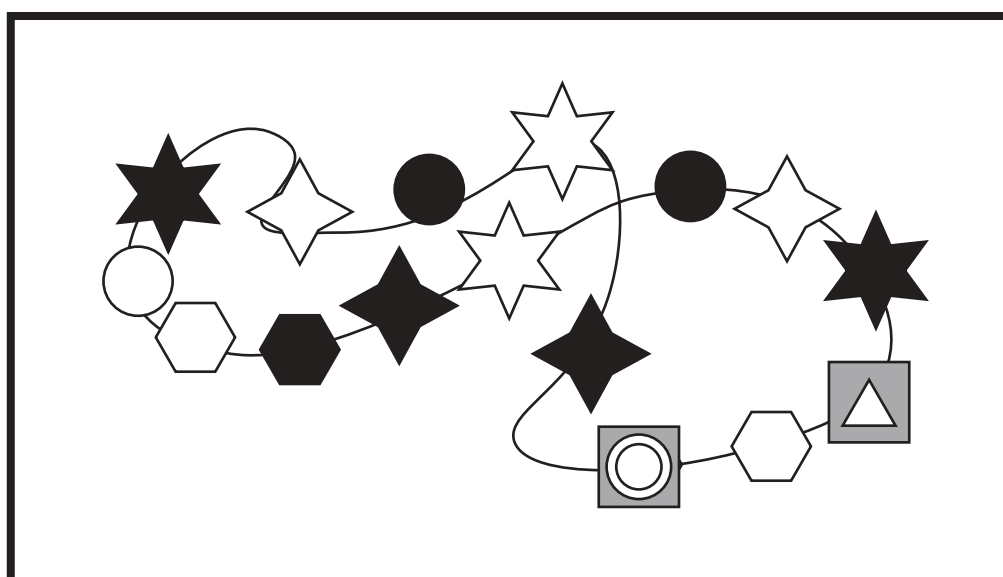

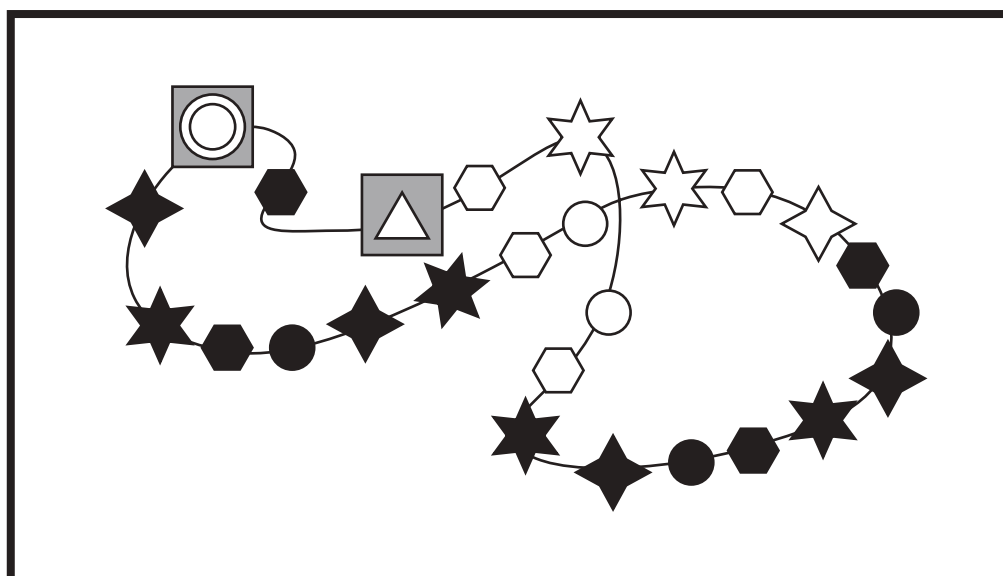

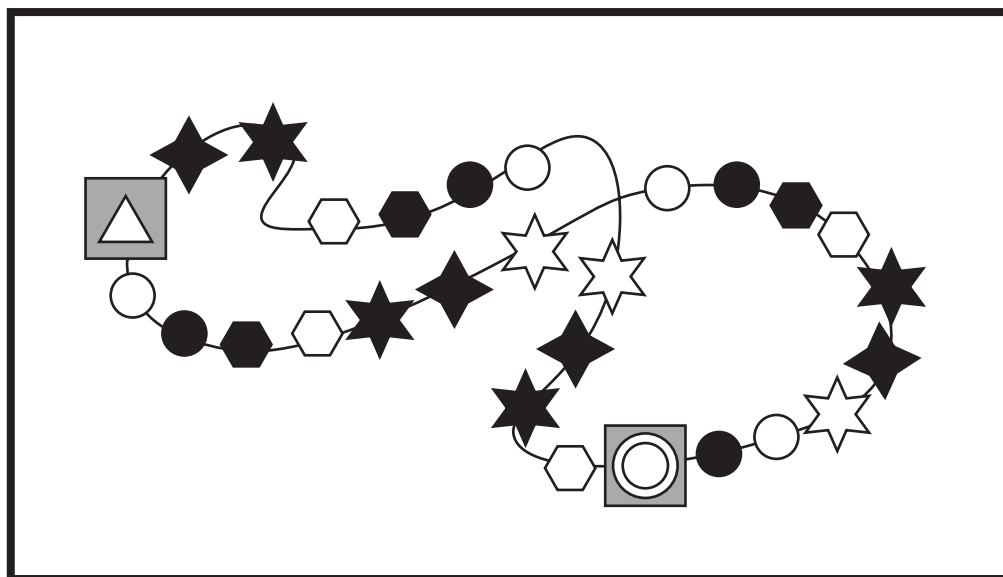
※1. このプリントは、しながわ・目黒こどもスクールのウェブサイトからダウンロードできます。無断複写・引用はご遠慮ください。

※2. このプリントを活用したオンライン授業のスケジュールは、しながわ・目黒こどもスクールのウェブサイトでご確認ください。





太い四角の中には、いろいろな形がある順番につながったプレスレットがあります。色のついた四角の場所にあてはまる形を考えて、右の四角の中から選び、○をつけます。



※1. このプリントは、しながわ・目黒こどもスクールのウェブサイトでダウンロードができます。無断複写・引用はご遠慮ください。
 ※2. このプリントを活用したオンライン授業のスケジュールは、しながわ・目黒こどもスクールのウェブサイトでご確認ください。