

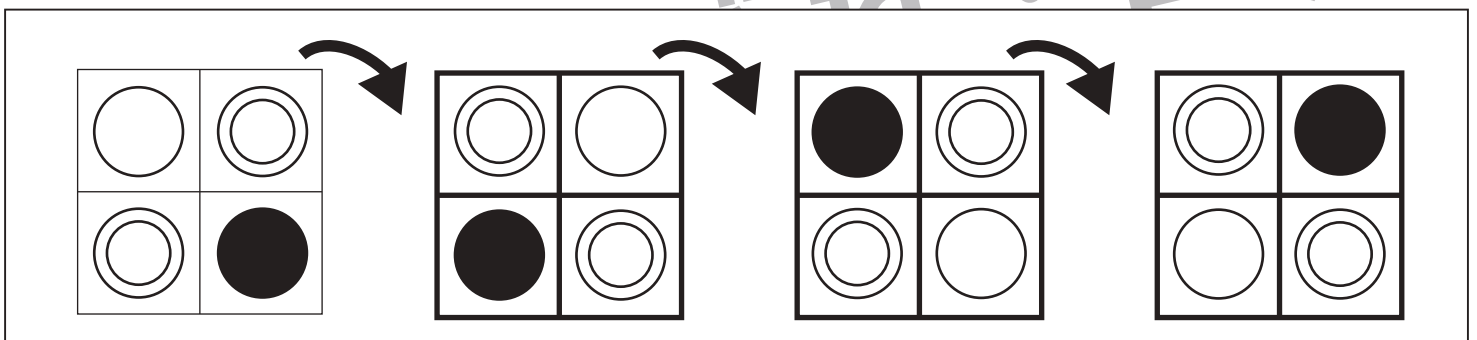
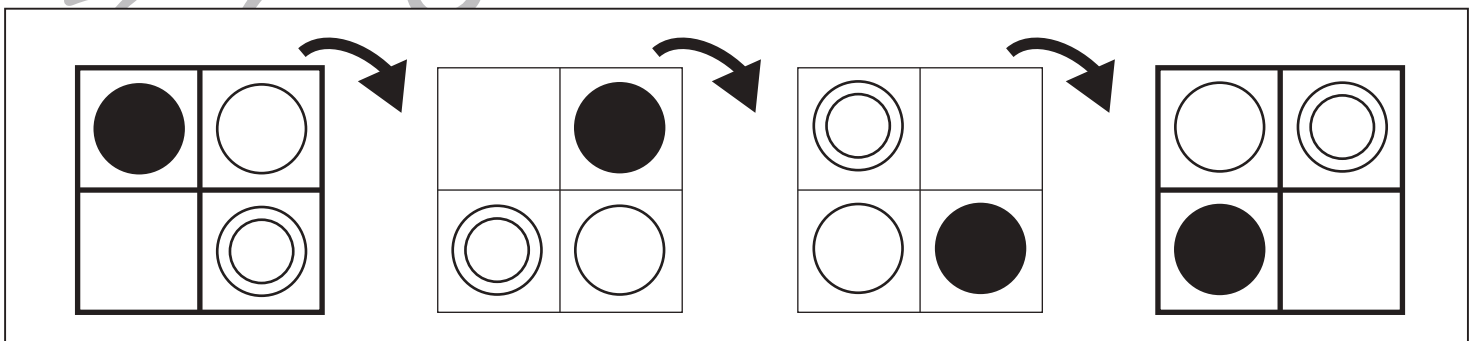
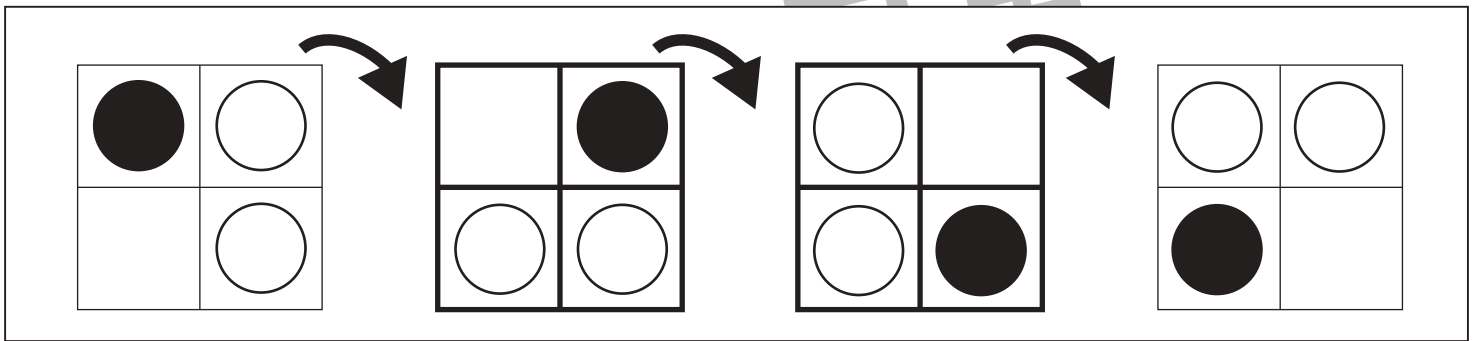
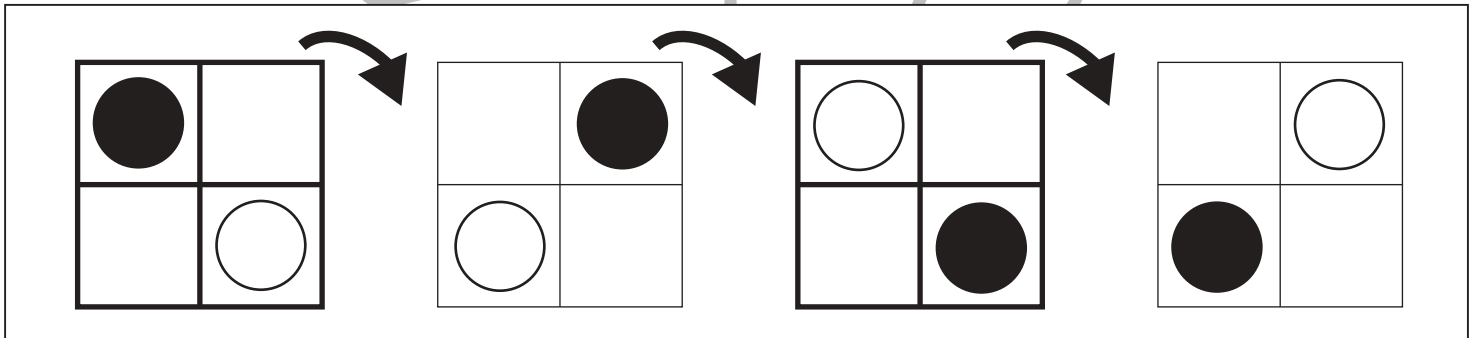
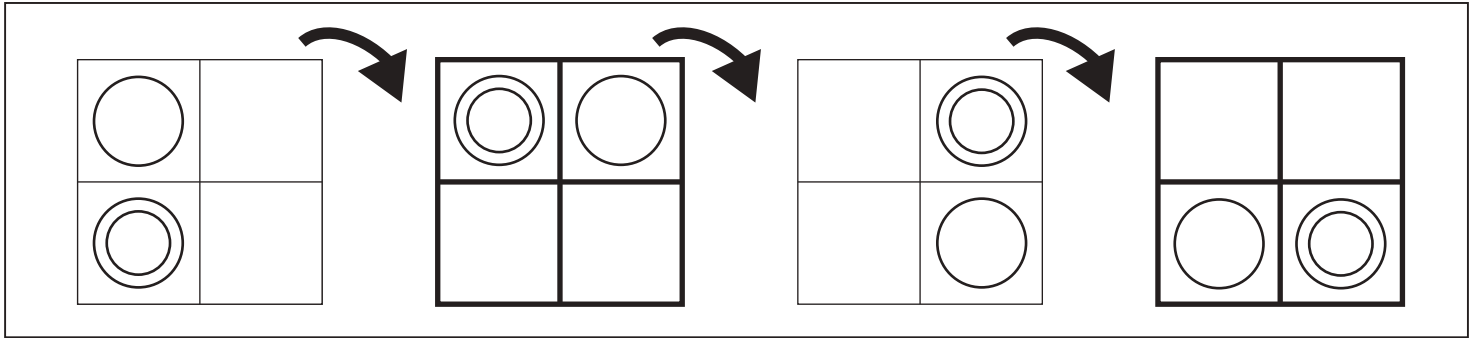


# おうちで、やろう。

Study at home. 小学校受験の家庭学習教材

図形：回転 77

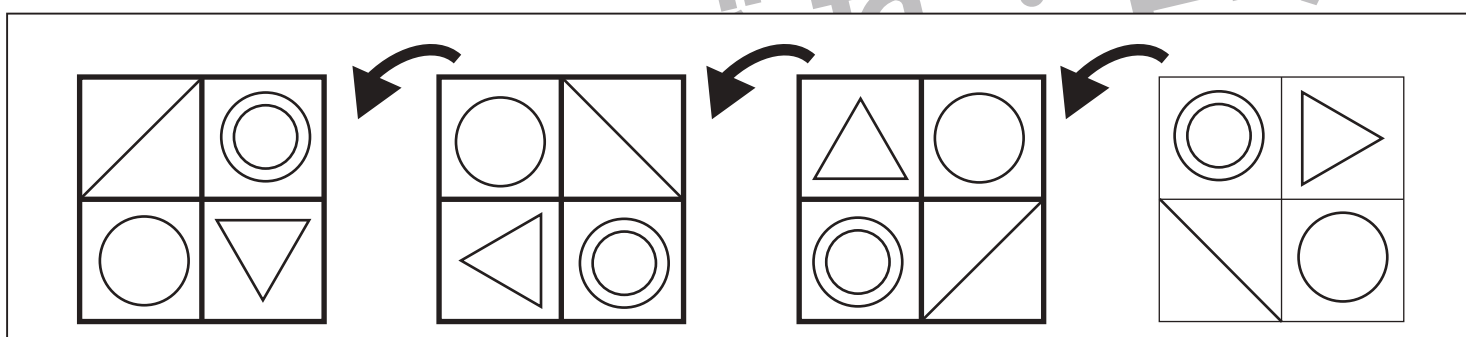
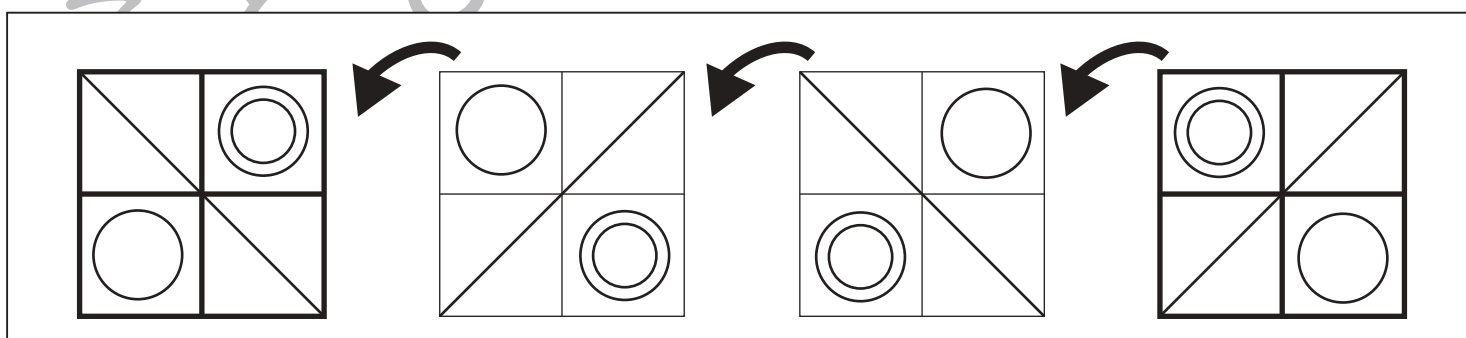
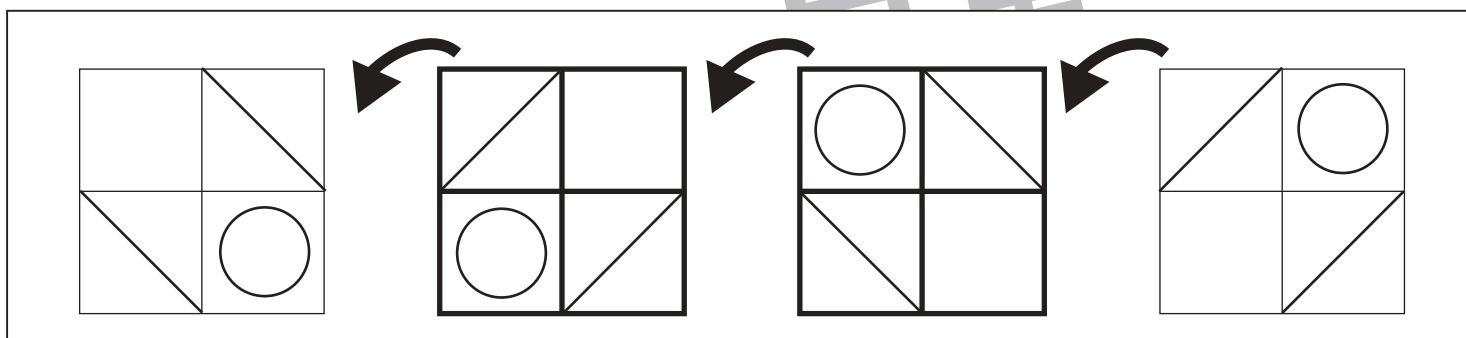
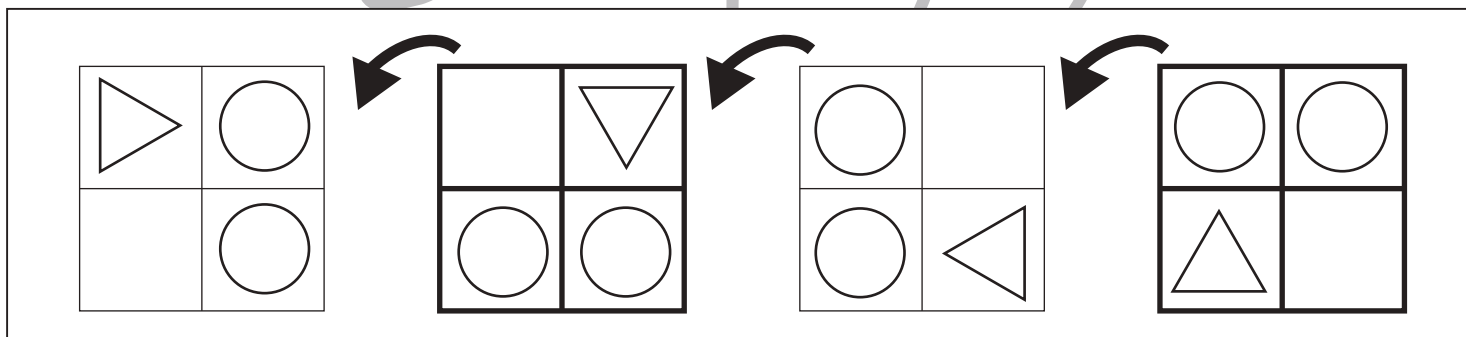
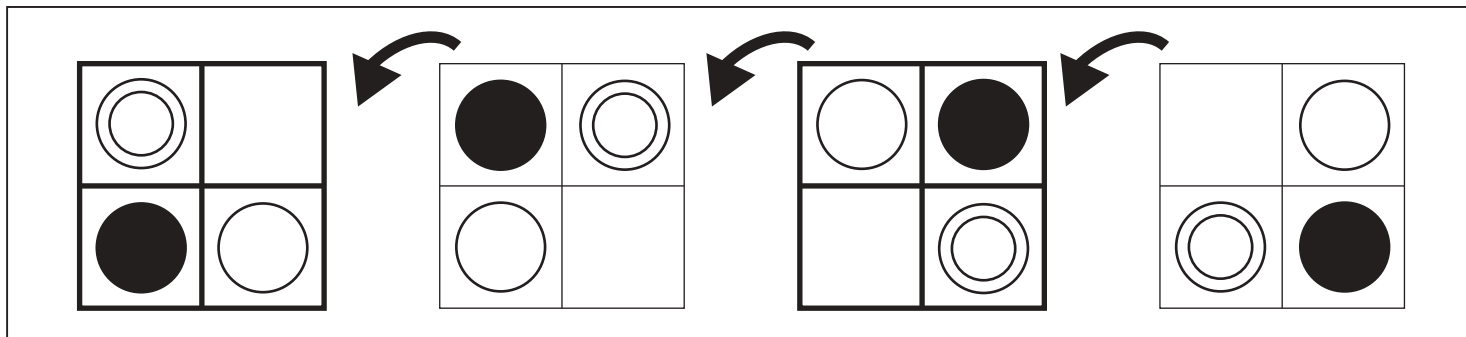
四角を矢印の方向へ倒したときの様子が順番に並んでいます。空いている四角の見え方を考えてかきます。



※1. このプリントは、しながわ・目黒こどもスクールのウェブサイトでダウンロードができます。無断複写・引用はご遠慮ください。  
 ※2. このプリントを活用したオンライン授業のスケジュールは、しながわ・目黒こどもスクールのウェブサイトでご確認ください。



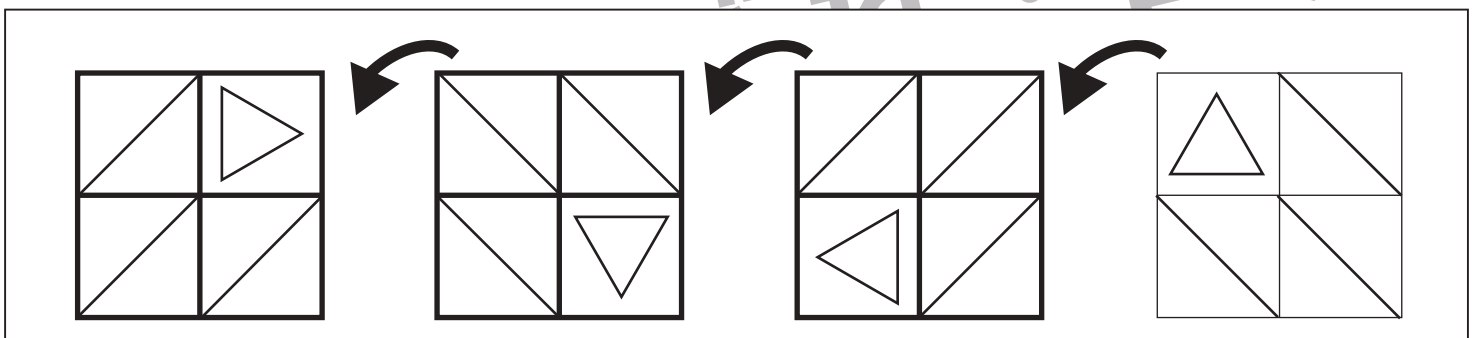
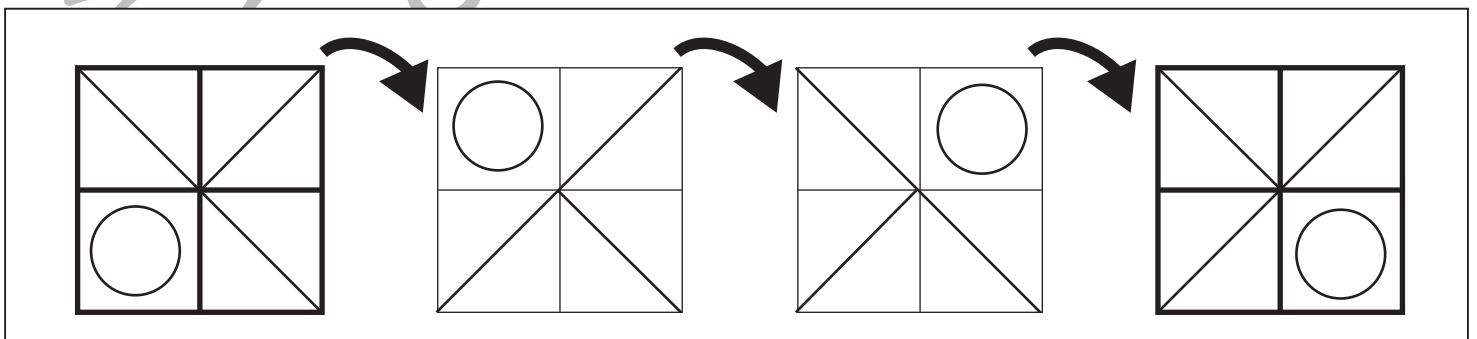
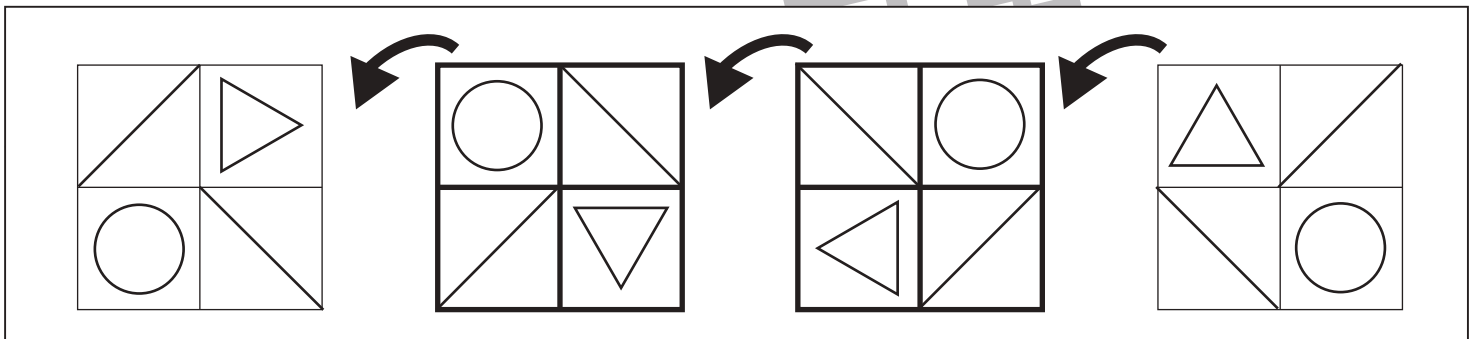
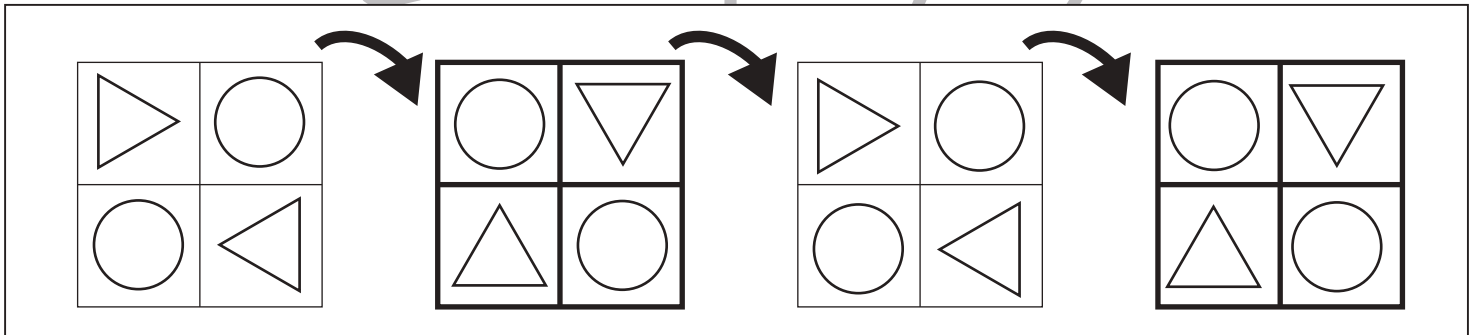
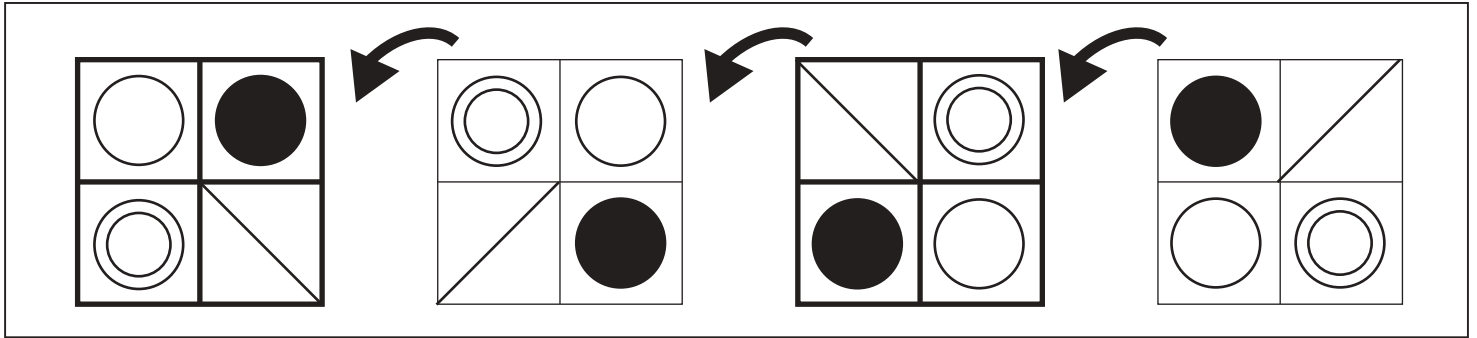
四角を矢印の方向へ倒したときの様子が順番に並んでいます。空いている四角の見え方を考えてかきます。



※1. このプリントは、しながわ・目黒こどもスクールのウェブサイトでダウンロードができます。無断複写・引用はご遠慮ください。  
 ※2. このプリントを活用したオンライン授業のスケジュールは、しながわ・目黒こどもスクールのウェブサイトでご確認ください。



四角を矢印の方向へ倒したときの様子が順番に並んでいます。空いている四角の見え方を考えてかきます。



※1. このプリントは、しながわ・目黒こどもスクールのウェブサイトでダウンロードができます。無断複写・引用はご遠慮ください。  
 ※2. このプリントを活用したオンライン授業のスケジュールは、しながわ・目黒こどもスクールのウェブサイトでご確認ください。



# おうちで、やろう。

Study at home. 小学校受験の家庭学習教材

## 図形：同図形 10

太い四角のお手本と同じものを、右から見つけて○をつけます。


※1. このプリントは、しながわ・目黒こどもスクールのウェブサイトでダウンロードができます。無断複写・引用はご遠慮ください。  
 ※2. このプリントを活用したオンライン授業のスケジュールは、しながわ・目黒こどもスクールのウェブサイトでご確認ください。



# おうちで、やろう。

Study at home. 小学校受験の家庭学習教材

## 図形：同図形 11

太い四角のお手本と同じものを、右から見つけて○をつけます。


※1. このプリントは、しながわ・目黒こどもスクールのウェブサイトでダウンロードができます。無断複写・引用はご遠慮ください。  
 ※2. このプリントを活用したオンライン授業のスケジュールは、しながわ・目黒こどもスクールのウェブサイトでご確認ください。



# おうちで、やろう。

Study at home. 小学校受験の家庭学習教材

数量：積み木1

太い四角の積み木の数だけ、それぞれのマス目に1つつつ〇をかきます。

	○	○	○	○	○
	○	○	○	○	○
	○	○	○	○	
	○	○	○	○	○
	○	○	○	○	○
	○	○	○		
	○	○	○	○	○
	○	○	○	○	○
	○	○			
	○	○	○	○	○
	○	○	○	○	○
	○	○			

※1. このプリントは、しながわ・目黒こどもスクールのウェブサイトでダウンロードができます。無断複写・引用はご遠慮ください。

※2. このプリントを活用したオンライン授業のスケジュールは、しながわ・目黒こどもスクールのウェブサイトでご確認ください。



# おうちで、やろう。

Study at home. 小学校受験の家庭学習教材

数量：積み木 2

太い四角の積み木と同じ数の積み木を、右から選んで○をつけます。


※1. このプリントは、しながわ・目黒こどもスクールのウェブサイトでダウンロードができます。無断複写・引用はご遠慮ください。

※2. このプリントを活用したオンライン授業のスケジュールは、しながわ・目黒こどもスクールのウェブサイトでご確認ください。



# おうちで、やろう。

Study at home. 小学校受験の家庭学習教材

数量：足りない数 1

左の四角の中にお友だちの人数で、1人分が点線の右にあるクッキーの数になるように、真ん中の大きな四角の中のクッキーを分けます。このとき、足りないクッキーは何枚ですか。その数だけ一番右の四角に○をかきます。

		$\bigcirc \times 1$
		$\bigcirc \times 2$
		$\bigcirc \times 2$
		$\bigcirc \times 3$
		$\bigcirc \times 2$

※1. このプリントは、しながわ・目黒こどもスクールのウェブサイトでダウンロードができます。無断複写・引用はご遠慮ください。

※2. このプリントを活用したオンライン授業のスケジュールは、しながわ・目黒こどもスクールのウェブサイトでご確認ください。





# おうちで、やろう。

Study at home. 小学校受験の家庭学習教材

数量：分割 22

①丸と三角と四角の外にあるクッキーを2人で仲良く同じ数だけ分けるといくつずつになりますか。その数だけクッキーの下の○を青のクーピーで塗ります。

②2人でそれぞれ四角の中のあめを3つとケーキを1つずつ取ります。余った数だけ、あめとケーキの下の○を青のクーピーで塗ります。

③2人でそれぞれ丸の中のせんべいを3つと三角の中のせんべいを2つずつ取ります。丸と三角の中の余ったせんべいの数だけ、せんべいの下の○を青のクーピーで塗ります。

● ● ●	● ● ●	● ● ●	● ● ●
● ● ●	● ○ ○	● ○ ○	● ● ●
○ ○ ○	○ ○ ○	○ ○ ○	● ● ○

※1. このプリントは、しながわ・目黒こどもスクールのウェブサイトでダウンロードができます。無断複写・引用はご遠慮ください。  
※2. このプリントを活用したオンライン授業のスケジュールは、しながわ・目黒こどもスクールのウェブサイトでご確認ください。


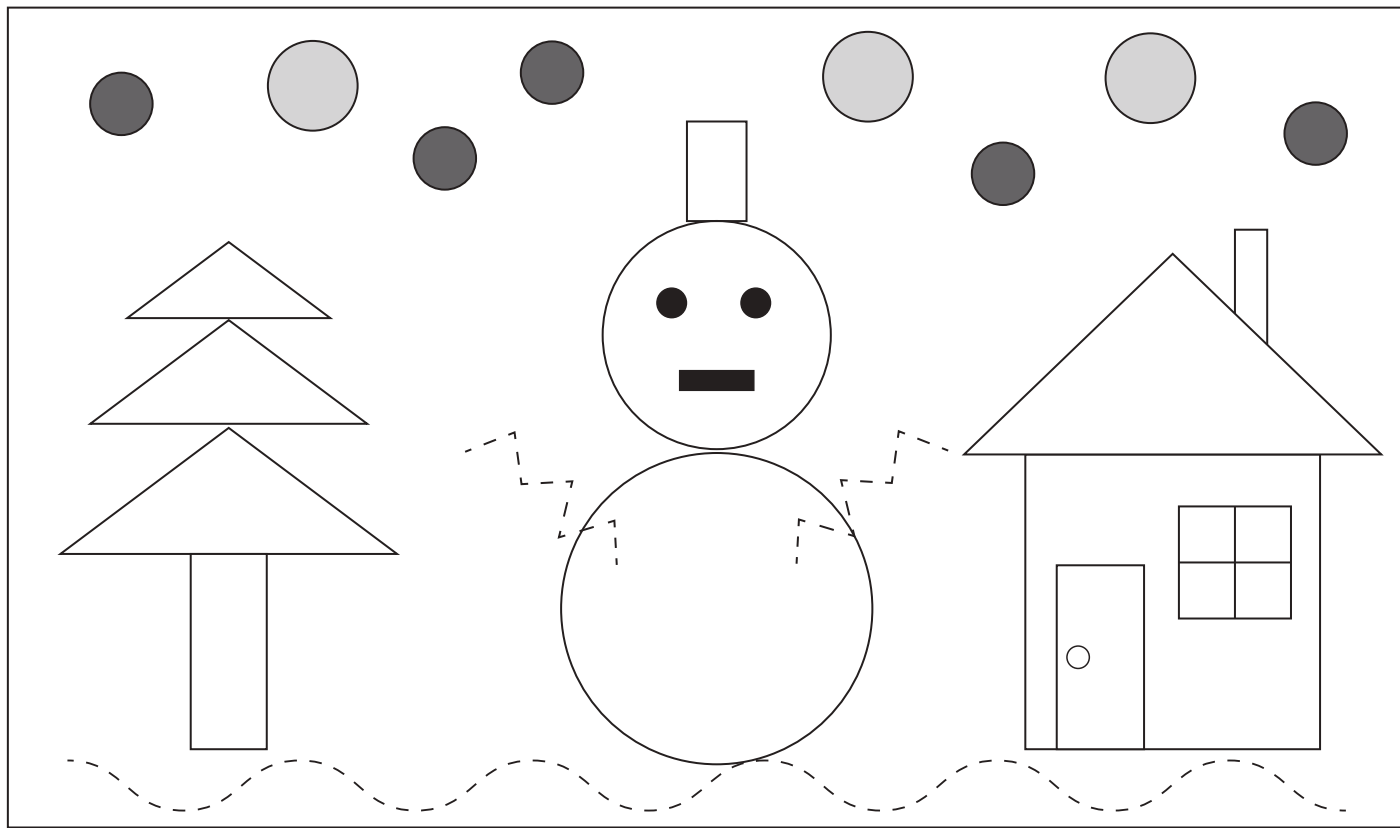


# おうちで、やろう。

Study at home. 小学校受験の家庭学習教材

運筆：模写 32

上のお手本と同じになるように、鉛筆で色を塗り、点線をなぞり、足りないところを描きましょう。



※1. このプリントは、しながわ・目黒こどもスクールのウェブサイトからダウンロードできます。無断複写・引用はご遠慮ください。

※2. このプリントを活用したオンライン授業のスケジュールは、しながわ・目黒こどもスクールのウェブサイトでご確認ください。

