








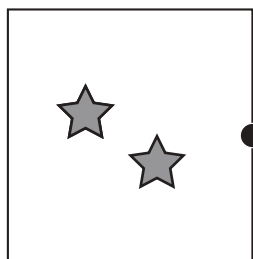

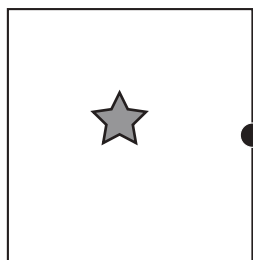


# おうちで、やろう。

Study at home. 小学校受験の家庭学習教材

常識：季節 18

右の絵の行事や様子を1月から順番通りに並べて1番目の絵と星が1つある四角の点と点を結びます。同じようにそれぞれの絵が何番目なのかを考えてその数の星の四角の点と点を線で結びます。



※1. このプリントは、しながわ・目黒こどもスクールのウェブサイトでダウンロードができます。無断複写・引用はご遠慮ください。

※2. このプリントを活用したオンライン授業のスケジュールは、しながわ・目黒こどもスクールのウェブサイトでご確認ください。









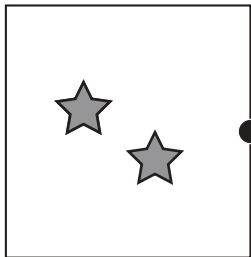




# おうちで、やろう。

Study at home. 小学校受験の家庭学習教材

常識：季節 19

右の絵の行事や様子を1月から順番通りに並べて1番目の絵と星が1つある四角の点と点を結びます。同じようにそれぞれの絵が何番目なのかを考えてその数の星の四角の点と点を線で結びます。



※1. このプリントは、しながわ・目黒こどもスクールのウェブサイトでダウンロードができます。無断複写・引用はご遠慮ください。  
※2. このプリントを活用したオンライン授業のスケジュールは、しながわ・目黒こどもスクールのウェブサイトでご確認ください。



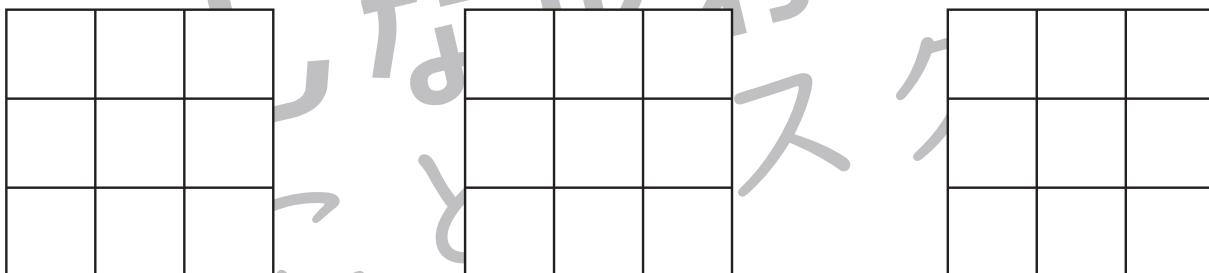
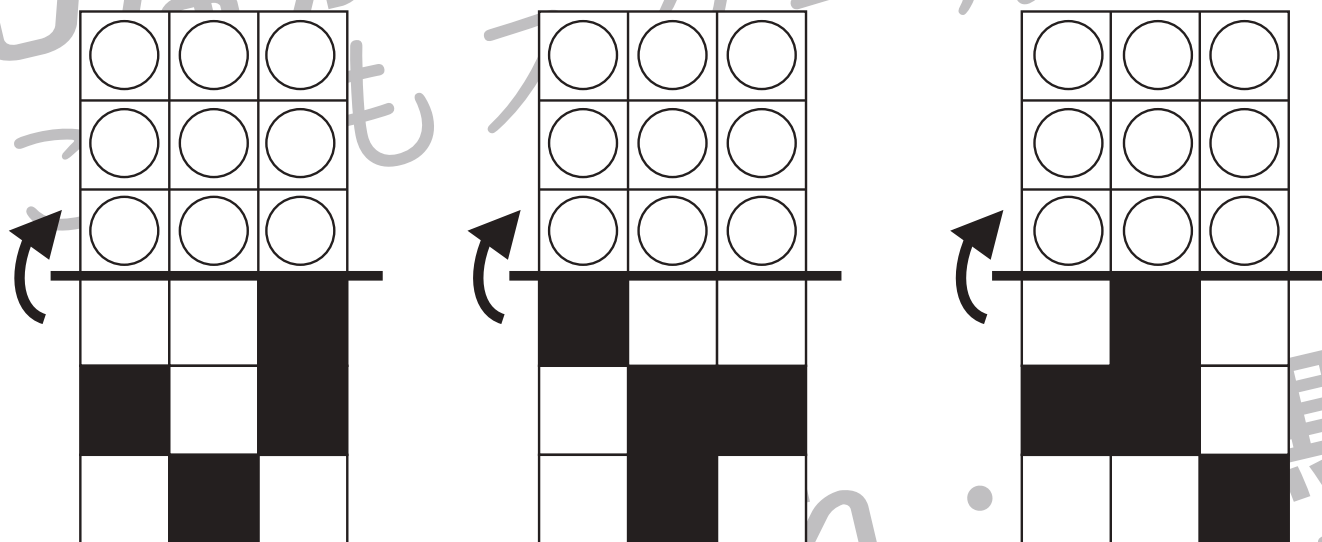
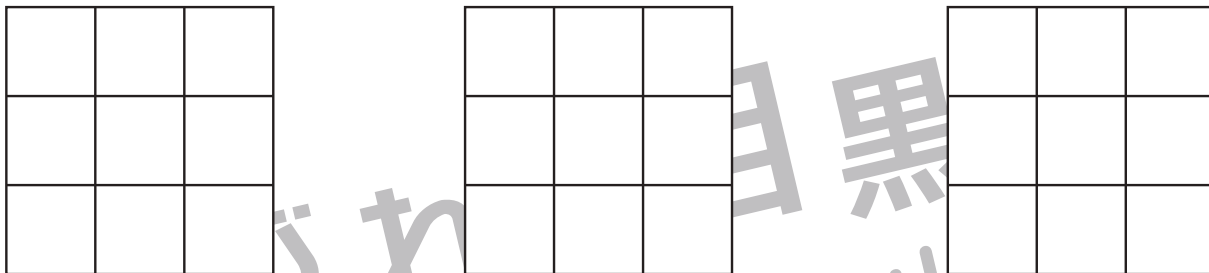
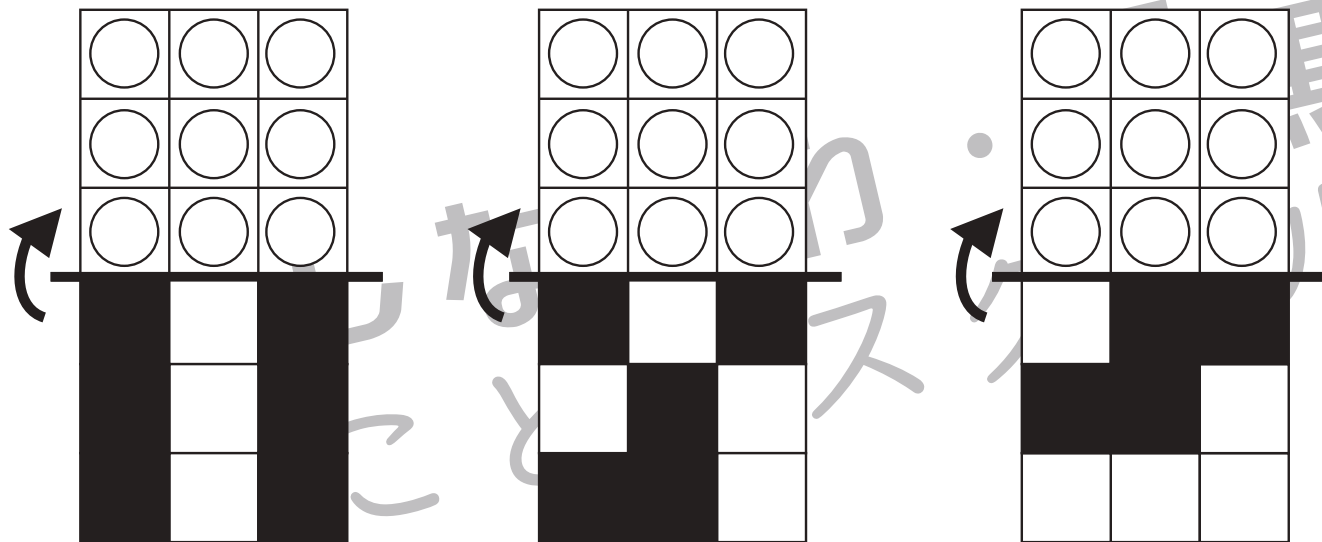


# おうちで、やろう。

Study at home. 小学校受験の家庭学習教材

## 図形：折り重ね 54

真ん中の太い線で折り重ねたときの見え方を考えます。このとき黒のマスの隠れないで見えている○を見つけて、下の四角に○をかきます。



※1. このプリントは、しながわ・目黒こどもスクールのウェブサイトでダウンロードができます。無断複写・引用はご遠慮ください。  
 ※2. このプリントを活用したオンライン授業のスケジュールは、しながわ・目黒こどもスクールのウェブサイトでご確認ください。

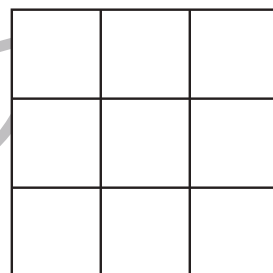

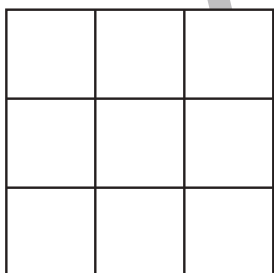



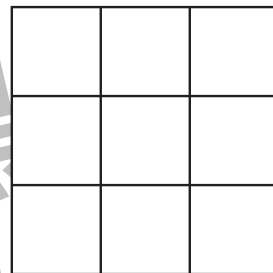
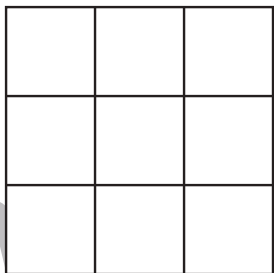
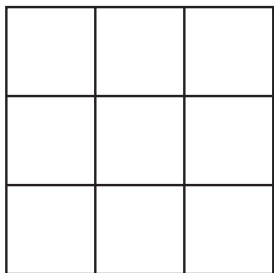





# おうちで、やろう。

Study at home. 小学校受験の家庭学習教材

## 図形：折り重ね 55

真ん中の太い線で折り重ねたときの見え方を考えます。このとき黒のマスの隠れないで見えている○を見つけて、下の四角に○をかきます。



※1. このプリントは、しながわ・目黒こどもスクールのウェブサイトでダウンロードができます。無断複写・引用はご遠慮ください。

※2. このプリントを活用したオンライン授業のスケジュールは、しながわ・目黒こどもスクールのウェブサイトでご確認ください。

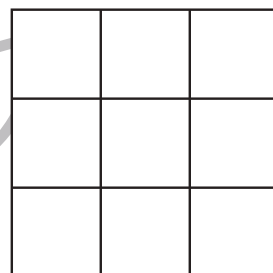

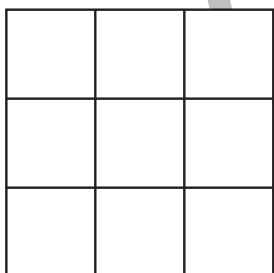
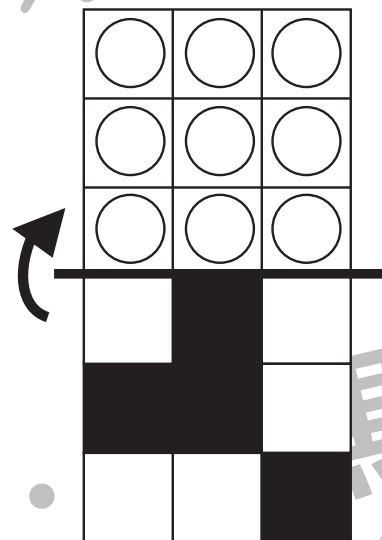


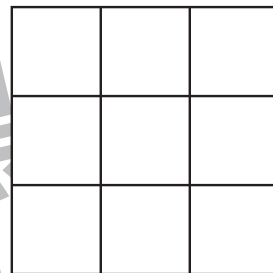
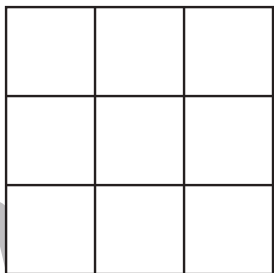
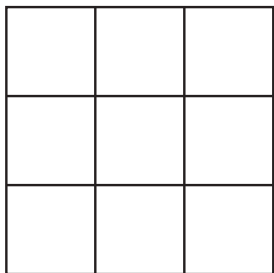





# おうちで、やろう。

Study at home. 小学校受験の家庭学習教材

## 図形：折り重ね 56

真ん中の太い線で折り重ねたときの見え方を考えます。このとき黒のマスの隠れないで見えている○を見つけて、下の四角に○をかきます。



※1. このプリントは、しながわ・目黒こどもスクールのウェブサイトでダウンロードができます。無断複写・引用はご遠慮ください。  
 ※2. このプリントを活用したオンライン授業のスケジュールは、しながわ・目黒こどもスクールのウェブサイトでご確認ください。















# おうちで、やろう。

Study at home. 小学校受験の家庭学習教材

## 図形：島作り 3

黒い丸を全て通って1本の線をつなぎ、島をつくります。縦と横には進めますが斜めに進むことはできません。  
※解答は一例です。約束通りに線を通していた場合は正解としてください。



※1. このプリントは、しながわ・目黒こどもスクールのウェブサイトでダウンロードができます。無断複写・引用はご遠慮ください。  
※2. このプリントを活用したオンライン授業のスケジュールは、しながわ・目黒こどもスクールのウェブサイトでご確認ください。















# おうちで、やろう。

Study at home. 小学校受験の家庭学習教材

## 図形：島作り 4

黒い丸を全て通って1本の線をつなぎ、島をつくります。縦と横と斜めに進むことができます。



※1. このプリントは、しながわ・目黒こどもスクールのウェブサイトでダウンロードができます。無断複写・引用はご遠慮ください。  
※2. このプリントを活用したオンライン授業のスケジュールは、しながわ・目黒こどもスクールのウェブサイトでご確認ください。















# おうちで、やろう。

Study at home. 小学校受験の家庭学習教材

## 図形：島作り5

黒い丸を全て通って1本の線をつなぎ、島をつくります。縦と横と斜めに進めます。斜めは点を飛ばした斜めでもよいです。



※1. このプリントは、しながわ・目黒こどもスクールのウェブサイトでダウンロードができます。無断複写・引用はご遠慮ください。

※2. このプリントを活用したオンライン授業のスケジュールは、しながわ・目黒こどもスクールのウェブサイトでご確認ください。








# おうちで、やろう。

Study at home. 小学校受験の家庭学習教材

処理：計数 21

上の四角の中の絵の数をかぞえて、その数だけ下の四角の同じ記号の右に○をかきます。  
この問題はスピードを意識して取り組む練習をしてみましょう。(1分～1分30秒)




※1. このプリントは、しながわ・目黒こどもスクールのウェブサイトでダウンロードができます。無断複写・引用はご遠慮ください。  
※2. このプリントを活用したオンライン授業のスケジュールは、しながわ・目黒こどもスクールのウェブサイトでご確認ください。