



おうちで、やろう。

Study at home. 小学校受験の家庭学習教材

常識：季節 18

右の絵の行事や様子を1月から順番通りに並べて1番目の絵と星が1つある四角の点と点を結びます。同じようにそれぞれの絵が何番目なのかを考えてその数の星の四角の点と点を線で結びます。

The matching exercise consists of two columns of six boxes each. The left column contains boxes with 1, 2, 3, 4, 5, and 6 stars respectively. The right column contains illustrations of various Japanese festivals and activities. Lines connect the boxes to their corresponding illustrations as follows:

- 1 star box connects to the illustration of a child with a festival float (Dion).
- 2 star box connects to the illustration of a girl blowing a bubble.
- 3 star box connects to the illustration of a girl sitting at a table with a tea set (Chawanabushi).
- 4 star box connects to the illustration of two children in school uniforms holding flowers in front of a school building (School festival).
- 5 star box connects to the illustration of a girl in a kimono holding a fan and a boy with a drum (Festive activities).
- 6 star box connects to the illustration of two children with umbrellas in the rain (Rain festival).

※1. このプリントは、しながわ・目黒こどもスクールのウェブサイトでダウンロードができます。無断複写・引用はご遠慮ください。

※2. このプリントを活用したオンライン授業のスケジュールは、しながわ・目黒こどもスクールのウェブサイトでご確認ください。












おうちで、やろう。

Study at home. 小学校受験の家庭学習教材

常識：季節 19

右の絵の行事や様子を1月から順番通りに並べて1番目の絵と星が1つある四角の点と点を結びます。同じようにそれぞれの絵が何番目なのかを考えてその数の星の四角の点と点を線で結びます。



※1. このプリントは、しながわ・目黒こどもスクールのウェブサイトでダウンロードができます。無断複写・引用はご遠慮ください。

※2. このプリントを活用したオンライン授業のスケジュールは、しながわ・目黒こどもスクールのウェブサイトでご確認ください。





おうちで、やろう。

Study at home. 小学校受験の家庭学習教材

図形：折り重ね 54

真ん中の太い線で折り重ねたときの見え方を考えます。このとき黒のマスの隠れないで見えている○を見つけて、下の四角に○をかきます。

The puzzle consists of three columns of 3x3 grids. Each grid has a thick horizontal line across its middle row. The top part of each grid is white with circles. The bottom part has black squares in various patterns. Below each grid is a 3x3 grid where circles are placed in the positions where they are visible through the holes in the black squares of the grid above.

※1. このプリントは、しながわ・目黒こどもスクールのウェブサイトでダウンロードができます。無断複写・引用はご遠慮ください。

※2. このプリントを活用したオンライン授業のスケジュールは、しながわ・目黒こどもスクールのウェブサイトでご確認ください。



おうちで、やろう。

Study at home. 小学校受験の家庭学習教材

図形：折り重ね 55

真ん中の太い線で折り重ねたときの見え方を考えます。このとき黒のマスの隠れないで見えている○を見つけて、下の四角に○をかきます。



おうちで、やろう。

Study at home. 小学校受験の家庭学習教材

図形：折り重ね 56

真ん中の太い線で折り重ねたときの見え方を考えます。このとき黒のマスの隠れないで見えている○を見つけて、下の四角に○をかきます。

The puzzle consists of a 3x3 grid of 3x3 grids. Each grid has a horizontal fold line. The top part is a 3x3 grid of circles. The bottom part is a 3x3 grid of squares, some of which are black. The puzzle is to identify which circles are visible after folding.

| | | |
|---|---|---|
| ○ | ○ | ○ |
| ○ | ○ | ○ |
| ○ | ○ | ○ |
| ■ | ■ | □ |
| □ | ■ | ■ |
| □ | □ | □ |

| | | |
|---|---|---|
| ○ | ○ | ○ |
| ○ | ○ | ○ |
| ○ | ○ | ○ |
| □ | ■ | □ |
| ■ | □ | ■ |
| ■ | □ | ■ |

| | | |
|---|---|---|
| ○ | ○ | ○ |
| ○ | ○ | ○ |
| ○ | ○ | ○ |
| ■ | □ | □ |
| ■ | ■ | □ |
| □ | □ | □ |

| | | |
|---|---|---|
| ○ | □ | ○ |
| ○ | □ | □ |
| □ | □ | ○ |

| | | |
|---|---|---|
| □ | ○ | □ |
| □ | ○ | □ |
| ○ | □ | □ |

| | | |
|---|---|---|
| ○ | ○ | ○ |
| ○ | ○ | ○ |
| ○ | ○ | ○ |
| □ | □ | □ |
| ■ | □ | □ |
| ■ | ■ | □ |

| | | |
|---|---|---|
| ○ | □ | ○ |
| □ | □ | ○ |
| ○ | □ | ○ |

| | | |
|---|---|---|
| ○ | ○ | ○ |
| ○ | ○ | ○ |
| ○ | ○ | ○ |
| □ | □ | □ |
| □ | □ | □ |
| ○ | ○ | ○ |

| | | |
|---|---|---|
| ○ | ○ | ○ |
| ○ | ○ | ○ |
| ○ | ○ | ○ |
| □ | □ | □ |
| □ | □ | □ |
| ○ | ○ | □ |

※1. このプリントは、しながわ・目黒こどもスクールのウェブサイトでダウンロードができます。無断複写・引用はご遠慮ください。

※2. このプリントを活用したオンライン授業のスケジュールは、しながわ・目黒こどもスクールのウェブサイトでご確認ください。

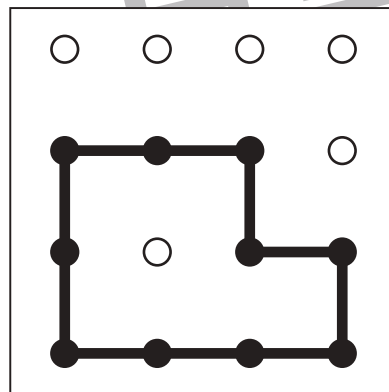
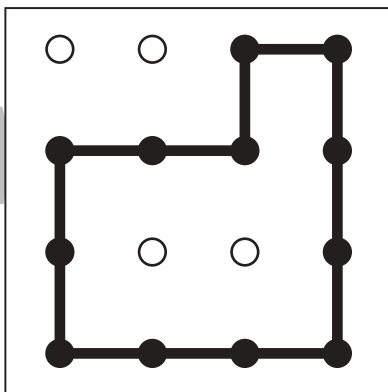
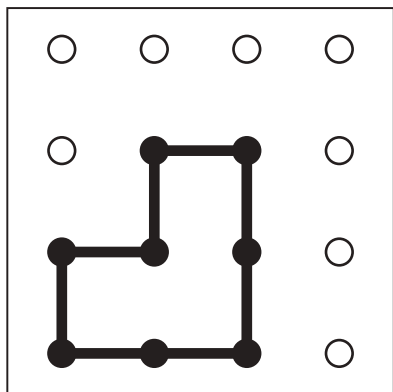
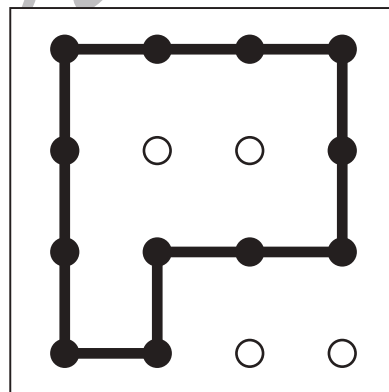
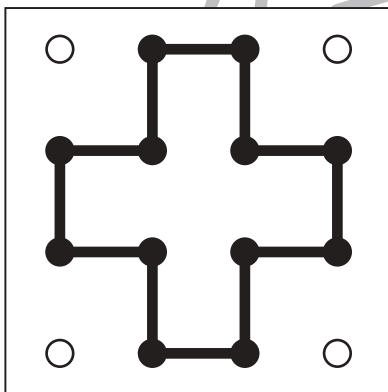
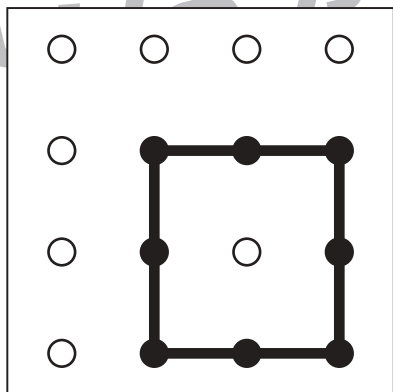
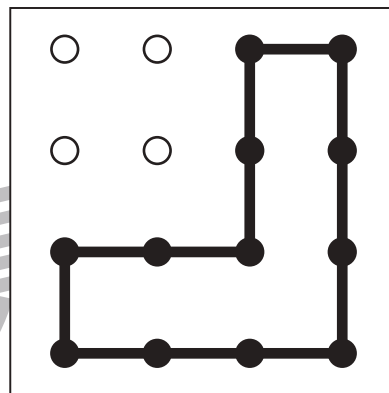
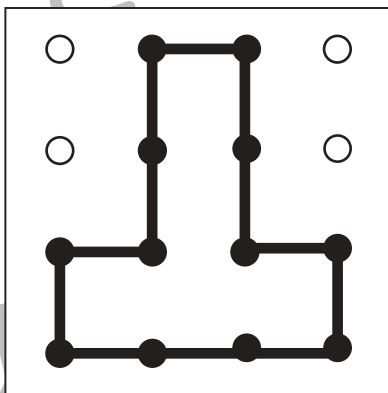
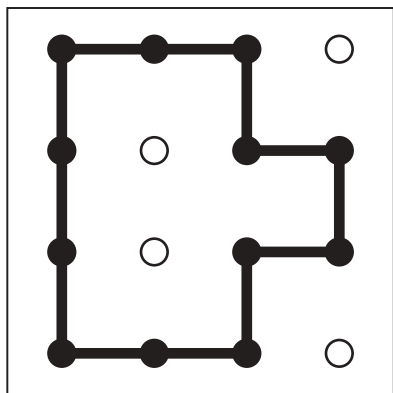
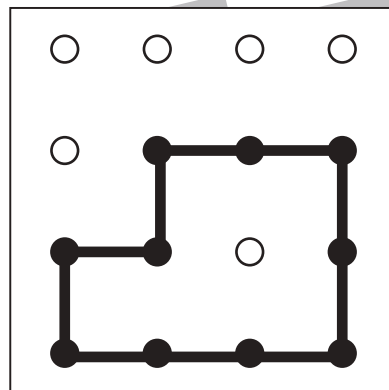
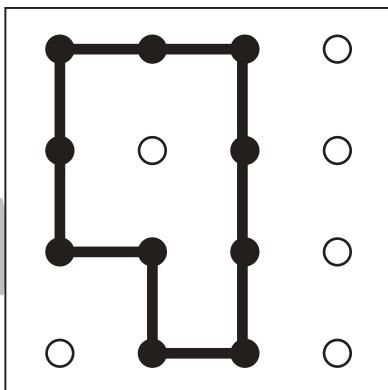
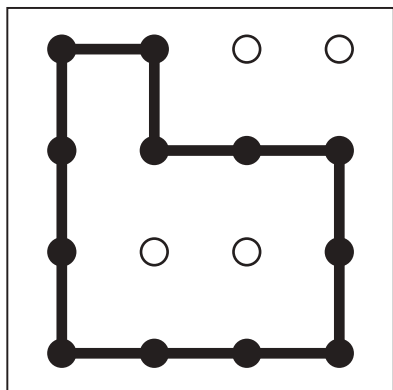


おうちで、やろう。

Study at home. 小学校受験の家庭学習教材

図形：島作り 3

黒い丸を全て通って1本の線でつなぎ、島をつくります。縦と横には進めますが斜めに進むことはできません。
※解答は一例です。約束通りに線を通していた場合は正解としてください。



※1. このプリントは、しながわ・目黒こどもスクールのウェブサイトでダウンロードができます。無断複写・引用はご遠慮ください。
※2. このプリントを活用したオンライン授業のスケジュールは、しながわ・目黒こどもスクールのウェブサイトでご確認ください。





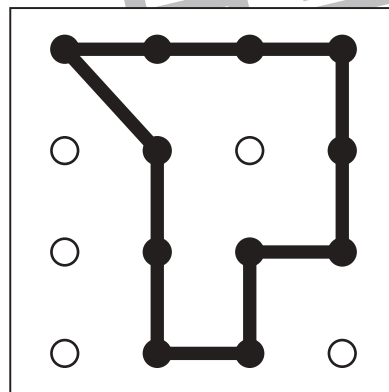
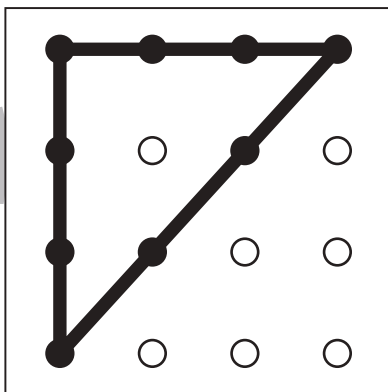
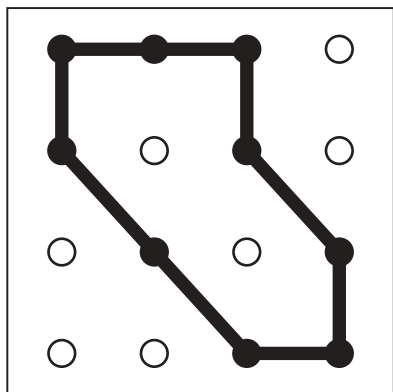
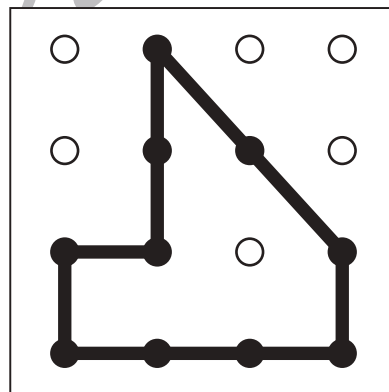
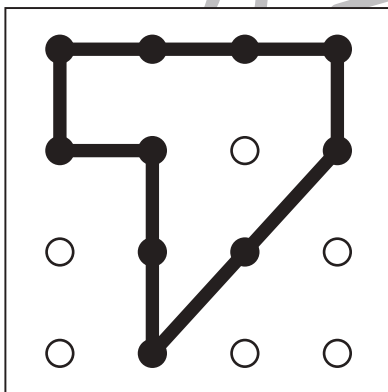
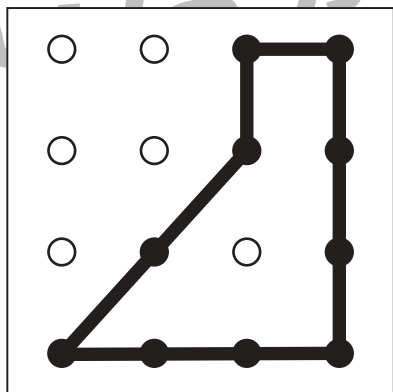
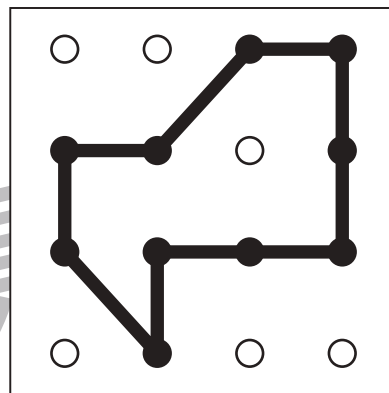
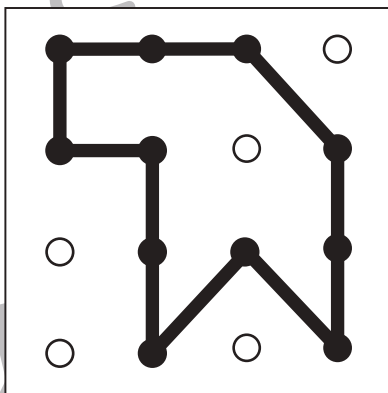
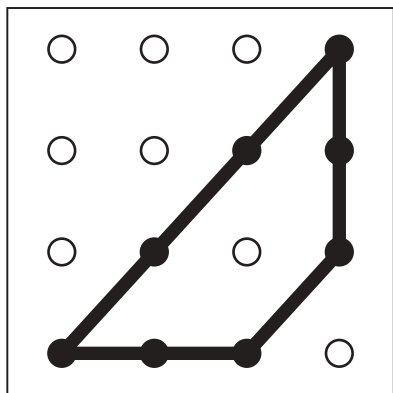
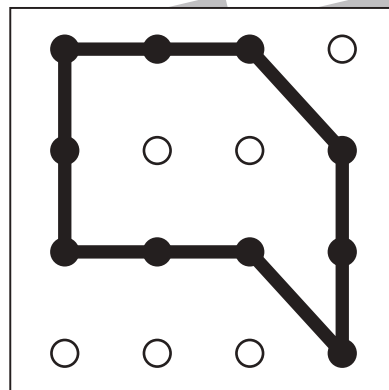
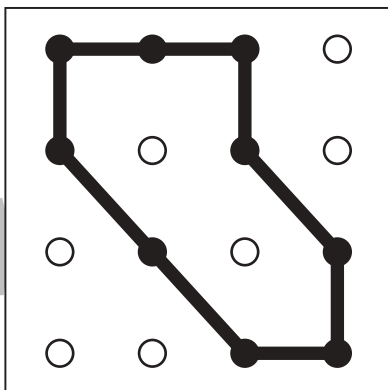
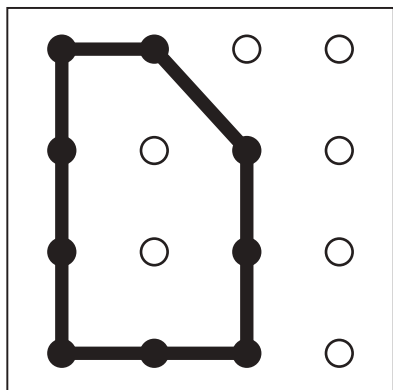
おうちで、やろう。

Study at home. 小学校受験の家庭学習教材

図形：島作り 4

黒い丸を全て通って1本の線でつなぎ、島をつくります。縦と横と斜めに進むことができます。

※解答は一例です。約束通りに線を通していた場合は正解としてください。



※1. このプリントは、しながわ・目黒こどもスクールのウェブサイトでダウンロードができます。無断複写・引用はご遠慮ください。

※2. このプリントを活用したオンライン授業のスケジュールは、しながわ・目黒こどもスクールのウェブサイトでご確認ください。



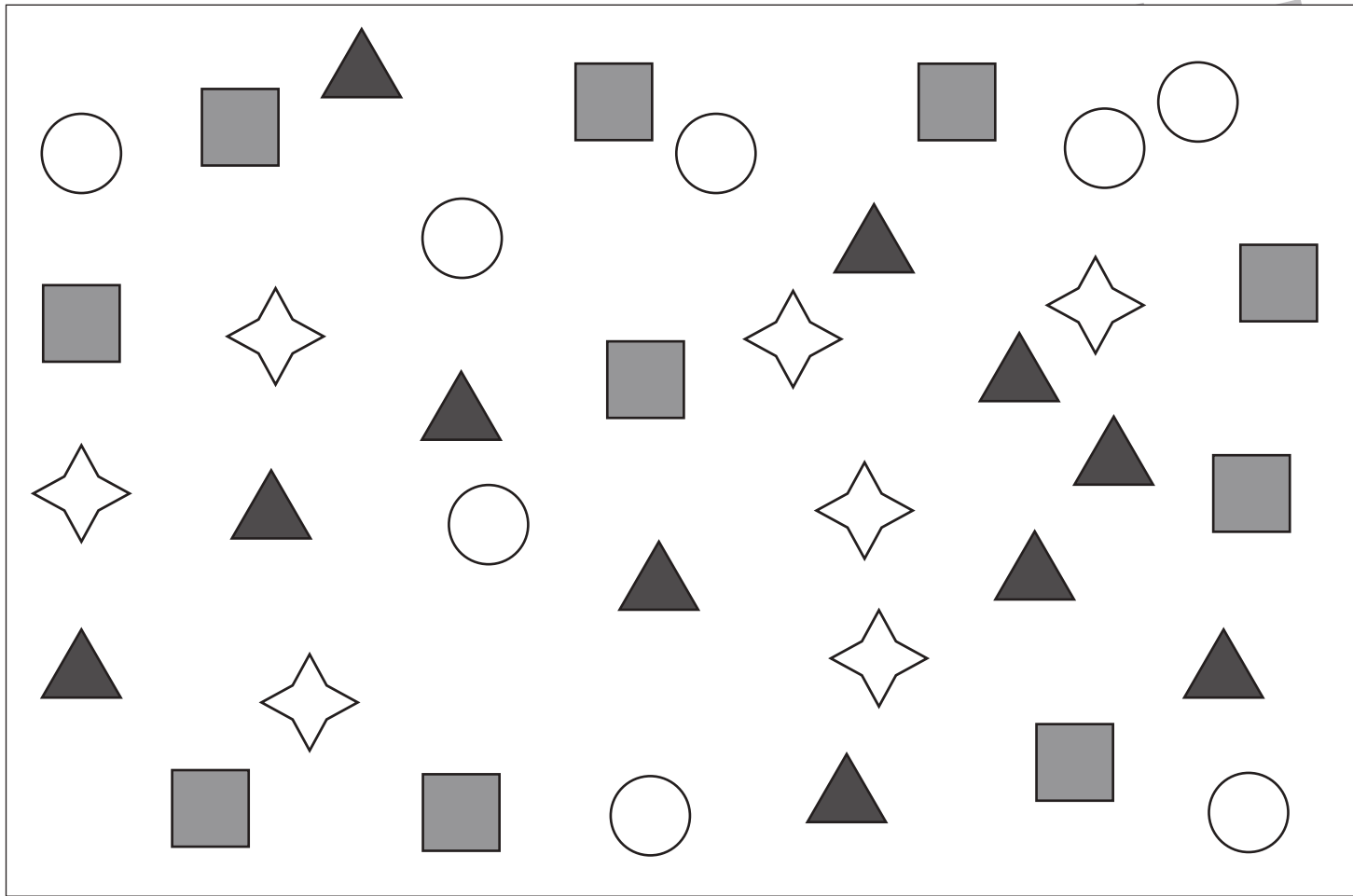


おうちで、やろう。

Study at home. 小学校受験の家庭学習教材

処理：計数 21

上の四角の中の絵の数をかぞえて、その数だけ下の四角の同じ記号の右に○をかきます。
この問題はスピードを意識して取り組む練習をしてみましょう。(1分～1分30秒)



○ × 8



○ × 10



○ × 7



○ × 11

※1. このプリントは、しながわ・目黒こどもスクールのウェブサイトでダウンロードができます。無断複写・引用はご遠慮ください。
※2. このプリントを活用したオンライン授業のスケジュールは、しながわ・目黒こどもスクールのウェブサイトでご確認ください。