

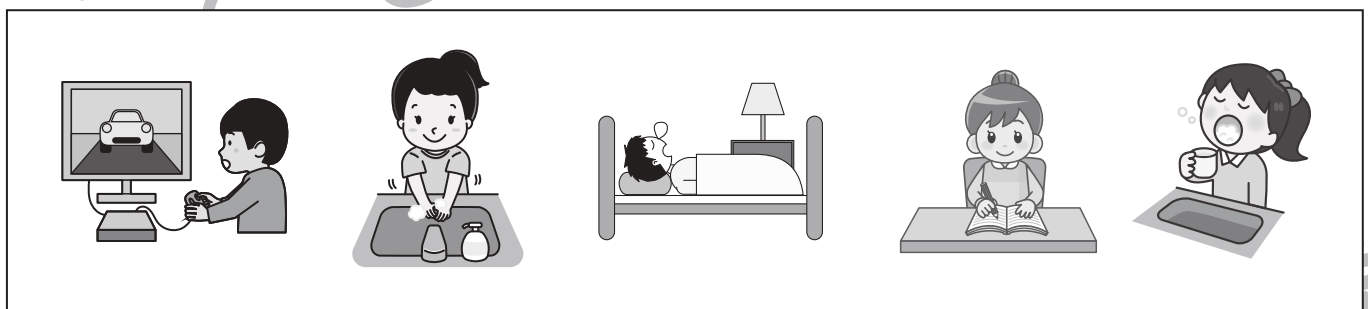

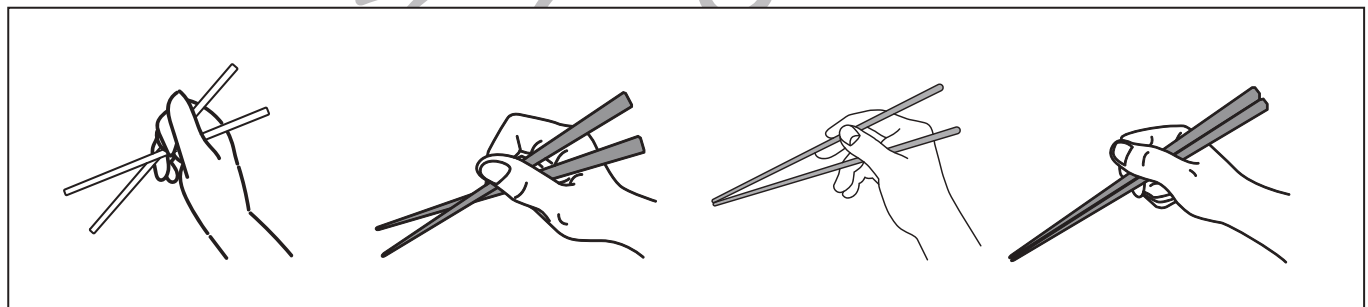


おうちで、やろう。

Study at home. 小学校受験の家庭学習教材

常識：生活9

- ①正しいマスクの付け方をしている絵に○をつけます。
- ②正しいお箸の持ち方をしている絵に○をつけます。
- ③ごはんを食べている時の様子で正しい絵に○をつけます。
- ④外から帰ってきた時にすることで、まずすると良いことを2つ選んで○をつけます。
- ⑤地震や火事が起きた時にすべき正しいことを2つ選んで○をつけます。



※1. このプリントは、しながわ・目黒こどもスクールのウェブサイトでダウンロードができます。無断複写・引用はご遠慮ください。
 ※2. このプリントを活用したオンライン授業のスケジュールは、しながわ・目黒こどもスクールのウェブサイトでご確認ください。


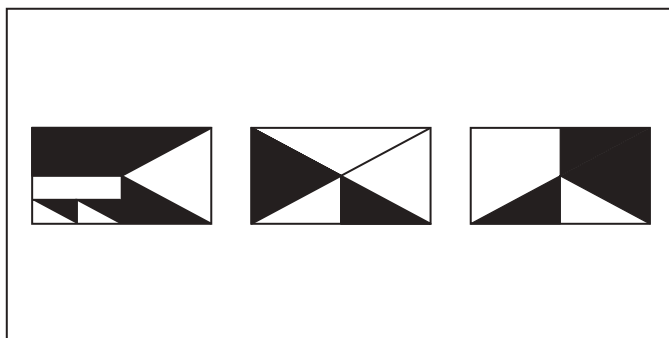
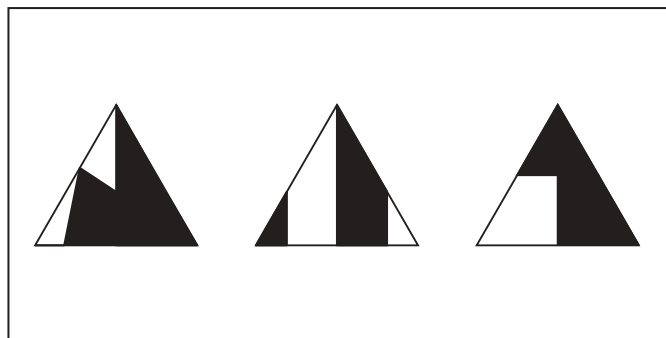
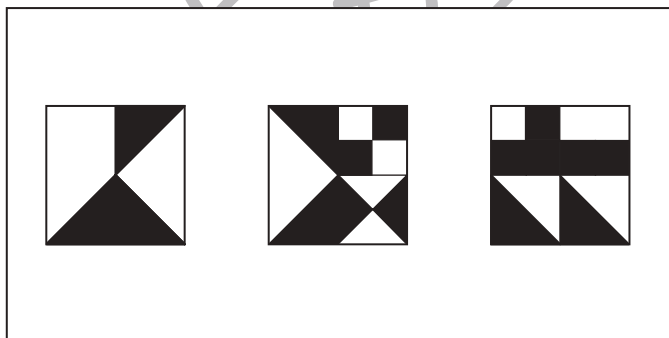
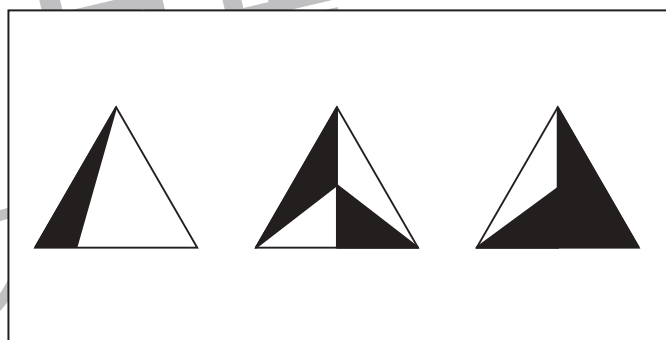
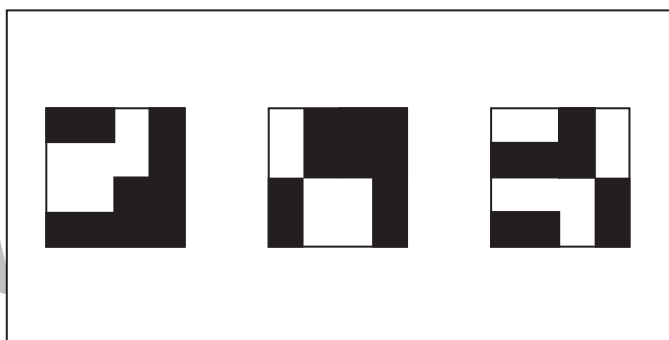

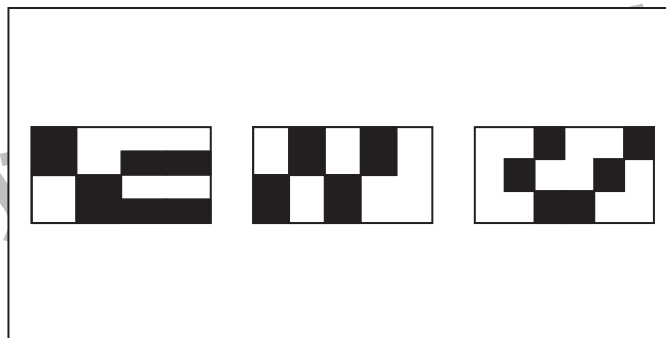
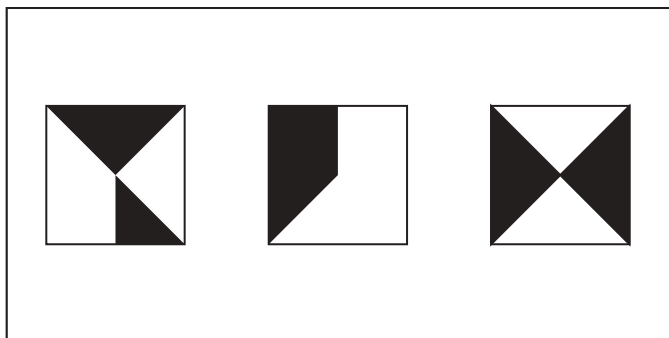


おうちで、やろう。

Study at home. 小学校受験の家庭学習教材

図形：構成 52

白い部分と黒い部分の広さが同じものを1つ選んで○をつけます。



※1. このプリントは、しながわ・目黒こどもスクールのウェブサイトでダウンロードができます。無断複写・引用はご遠慮ください。
※2. このプリントを活用したオンライン授業のスケジュールは、しながわ・目黒こどもスクールのウェブサイトでご確認ください。

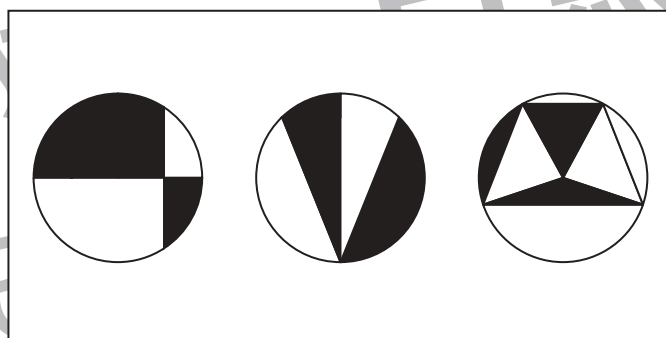
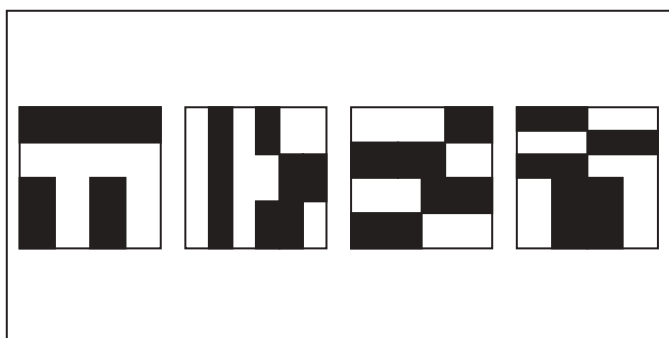
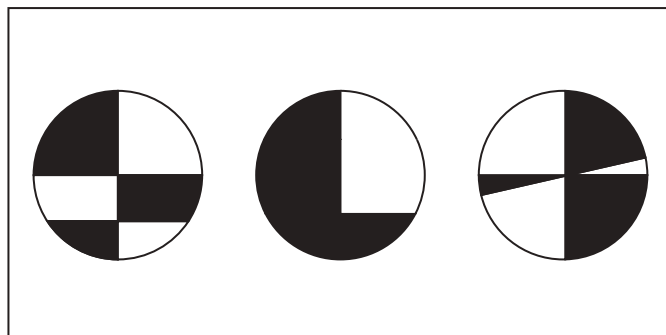

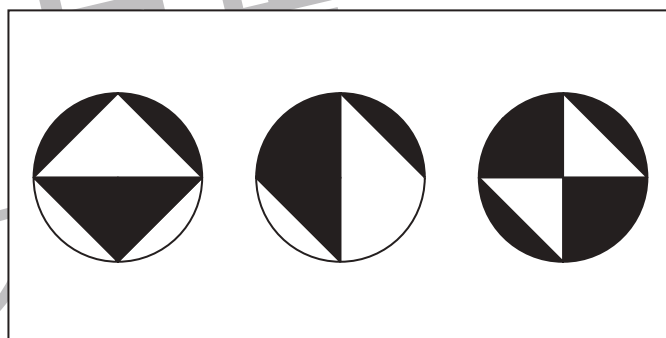
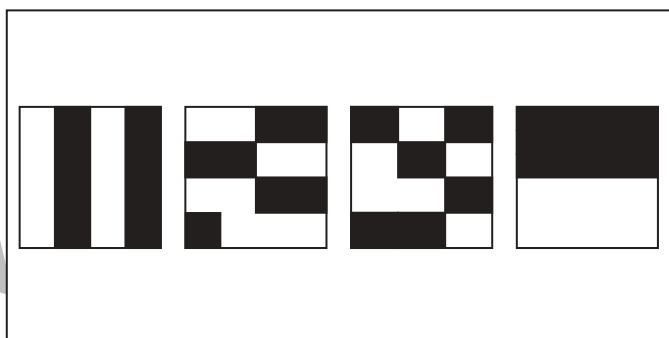
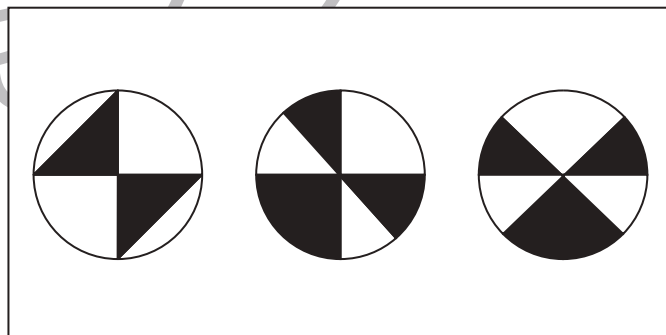
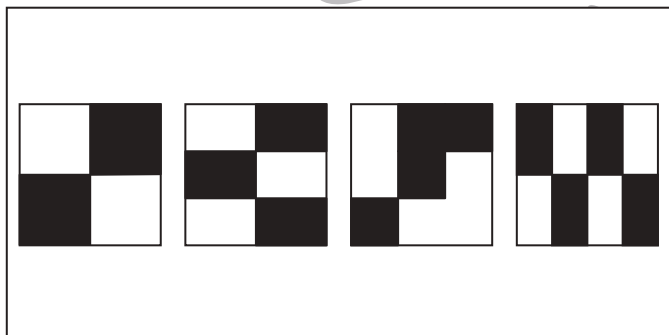
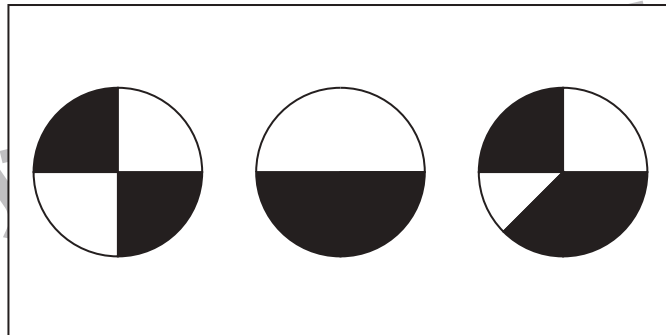



おうちで、やろう。

Study at home. 小学校受験の家庭学習教材

図形：構成 53

白い部分と黒い部分の広さが違うものを1つ選んで○をつけます。



※1. このプリントは、しながわ・目黒こどもスクールのウェブサイトでダウンロードができます。無断複写・引用はご遠慮ください。
※2. このプリントを活用したオンライン授業のスケジュールは、しながわ・目黒こどもスクールのウェブサイトでご確認ください。



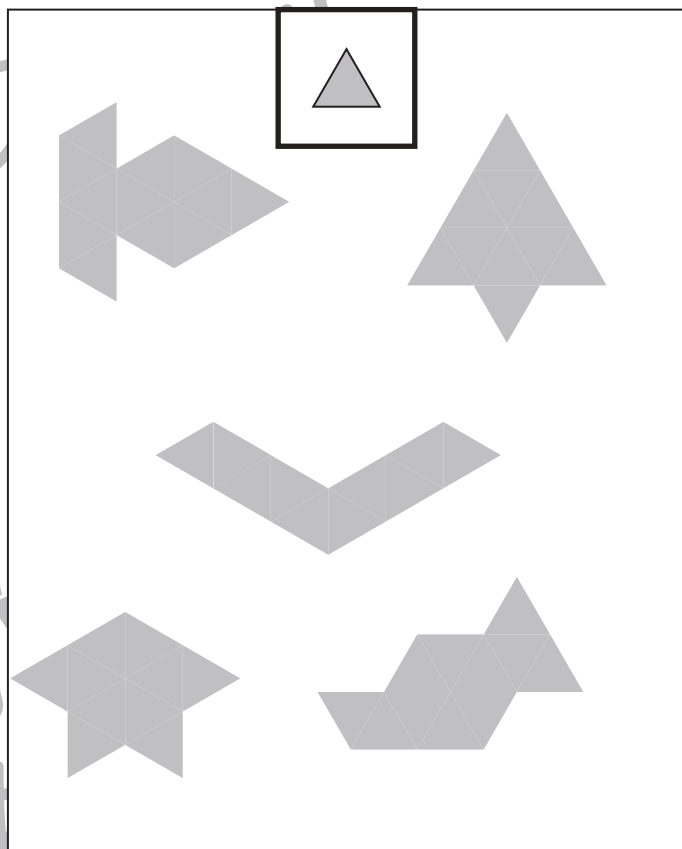

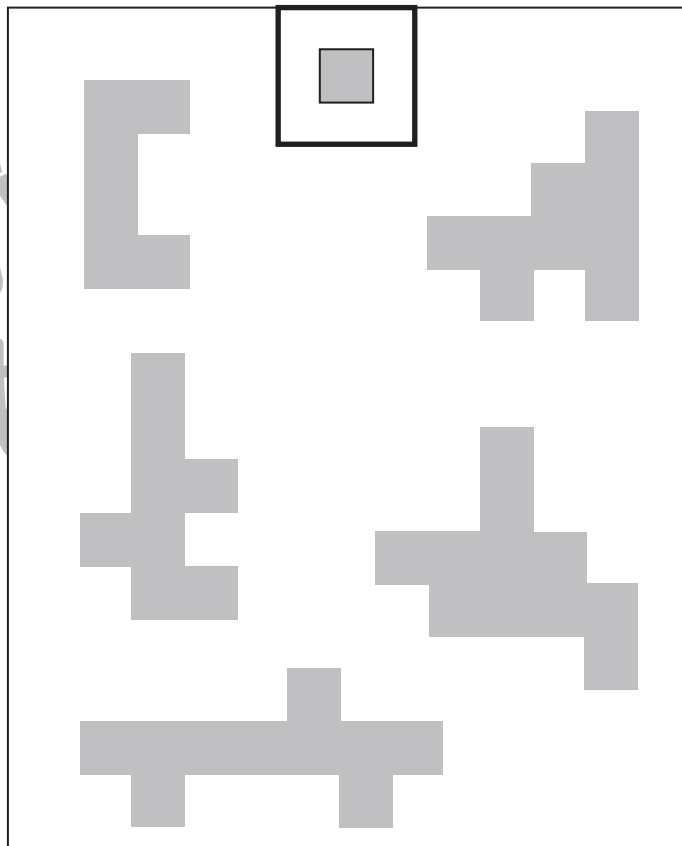
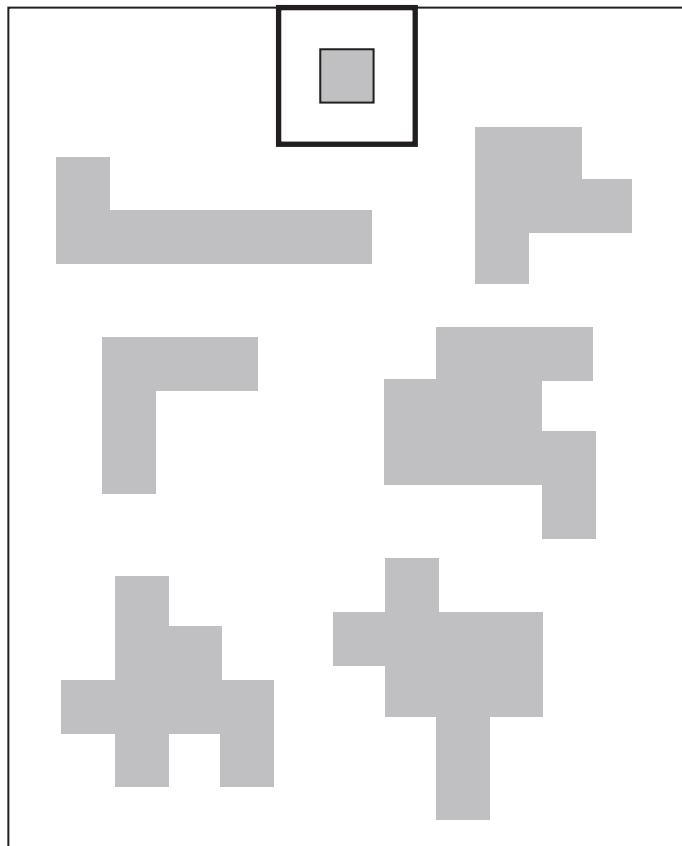


おうちで、やろう。

Study at home. 小学校受験の家庭学習教材

図形：構成54

太い四角の形を使って、下にある色々な形を作りました。太い四角の形を1番多く使って出来ている形に○をつけます。



※1. このプリントは、しながわ・目黒こどもスクールのウェブサイトでダウンロードができます。無断複写・引用はご遠慮ください。
※2. このプリントを活用したオンライン授業のスケジュールは、しながわ・目黒こどもスクールのウェブサイトでご確認ください。



おうちで、やろう。

Study at home. 小学校受験の家庭学習教材

推理：シーソー 3

シーソーで重さ比べをしました。それぞれの四角の中で1番重いものには○を、1番軽いものには×を右の四角の絵につけます。

※1. このプリントは、しながわ・目黒こどもスクールのウェブサイトでダウンロードができます。無断複写・引用はご遠慮ください。

※2. このプリントを活用したオンライン授業のスケジュールは、しながわ・目黒こどもスクールのウェブサイトでご確認ください。

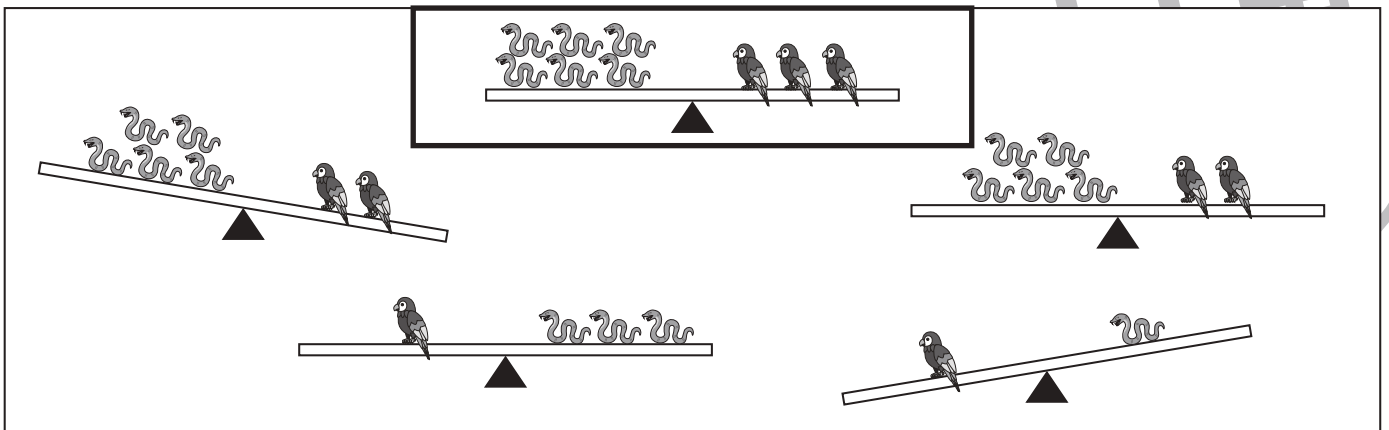
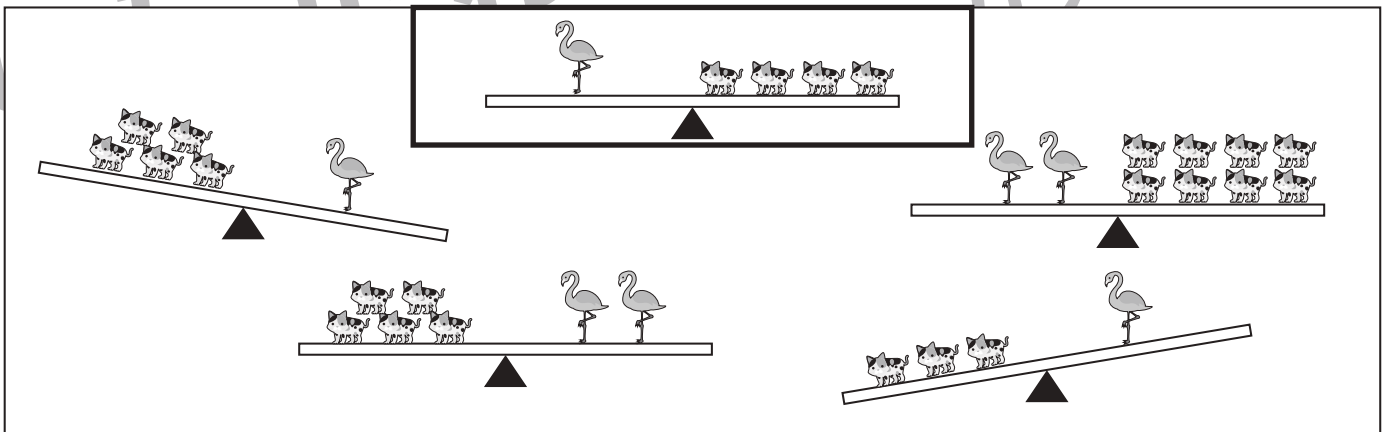
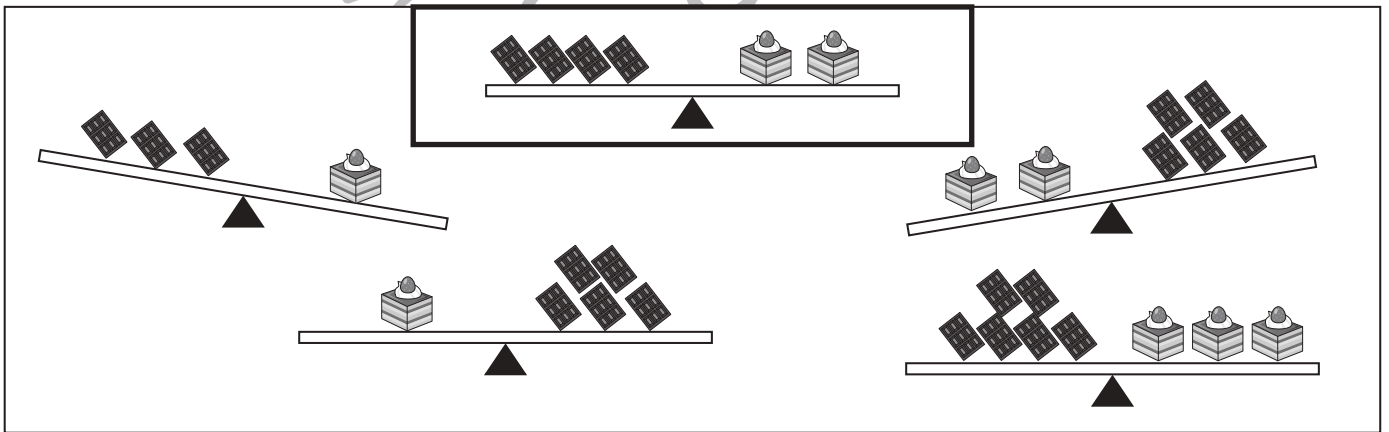



おうちで、やろう。

Study at home. 小学校受験の家庭学習教材

推理：シーソー4

太い四角がお約束です。この時、下のシーソーの中から正しい様子のものを選んで○をつけます。



※1. このプリントは、しながわ・目黒こどもスクールのウェブサイトからダウンロードできます。無断複写・引用はご遠慮ください。
 ※2. このプリントを活用したオンライン授業のスケジュールは、しながわ・目黒こどもスクールのウェブサイトでご確認ください。

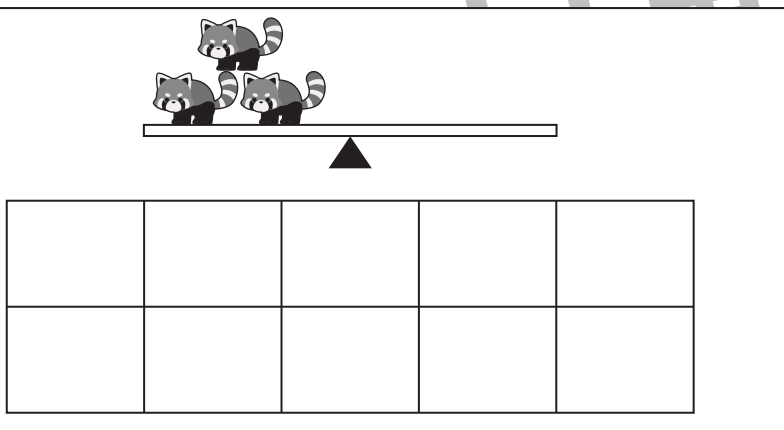

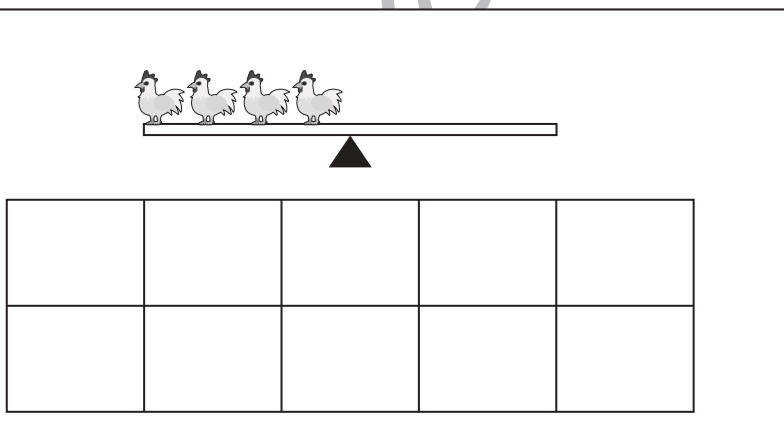

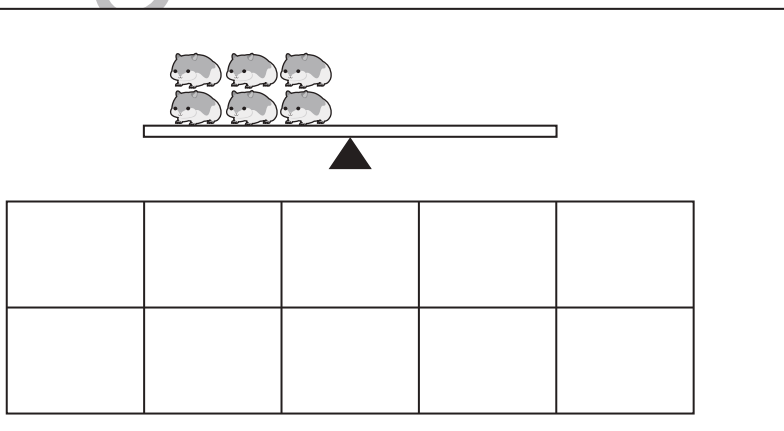
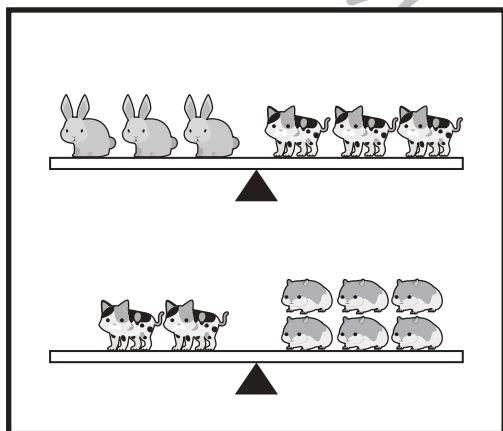
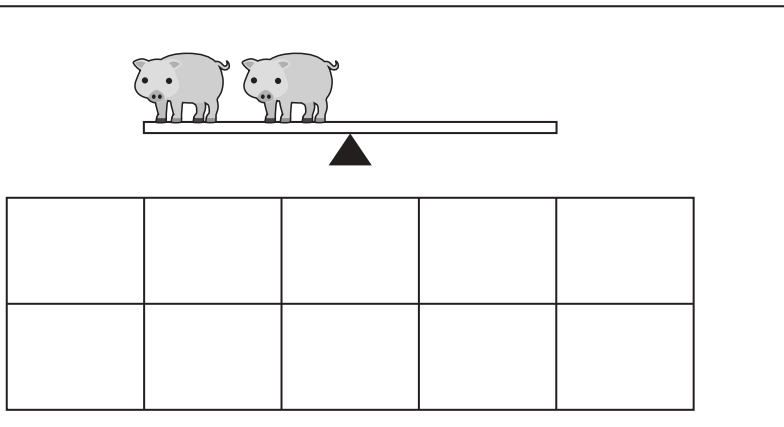



おうちで、やろう。

Study at home. 小学校受験の家庭学習教材

推理：シーソー5

太い四角の絵のようにシーソーが釣り合っています。この時、右の四角のシーソーが釣り合う為には右側にうさぎをあといくつのせれば良いか考えて、その数だけ下の四角に○をかきます。



※1. このプリントは、しながわ・目黒こどもスクールのウェブサイトでダウンロードができます。無断複写・引用はご遠慮ください。
 ※2. このプリントを活用したオンライン授業のスケジュールは、しながわ・目黒こどもスクールのウェブサイトでご確認ください。

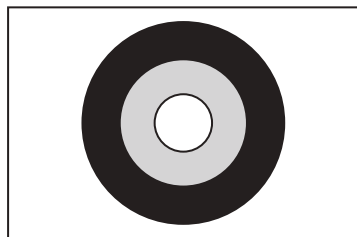


おうちで、やろう。

Study at home. 小学校受験の家庭学習教材

数量：計数 41

的あてをします。矢が黒い所に当たるとクッキーを1つ、灰色の所に当たるとクッキーを2つ、白い所に当たるとクッキーを4つもらえます。太い四角のように矢が当たった時、クッキーはいくつもらえますか。正しい絵を右から選んで○をつけます。



目黒

※1. このプリントは、しながわ・目黒こどもスクールのウェブサイトからダウンロードができます。無断複写・引用はご遠慮ください。
 ※2. このプリントを活用したオンライン授業のスケジュールは、しながわ・目黒こどもスクールのウェブサイトでご確認ください。

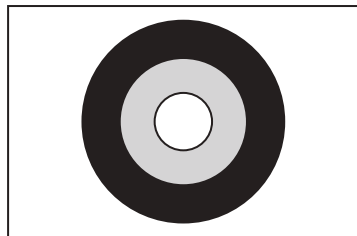


おうちで、やろう。

Study at home. 小学校受験の家庭学習教材

数量：計数 42

動物たちが的あてをします。矢が黒い所に当たるとクッキーを1つ、灰色の所に当たるとクッキーを2つ、白い所に当たるとクッキーを4つもらえます。下のそれぞれの四角の中のように矢が当たった時、2番目に多くクッキーをもらった動物に○をつけます。印は左上の動物につけましょう。



目黒

※1. このプリントは、しながわ・目黒こどもスクールのウェブサイトからダウンロードできます。無断複写・引用はご遠慮ください。
※2. このプリントを活用したオンライン授業のスケジュールは、しながわ・目黒こどもスクールのウェブサイトでご確認ください。

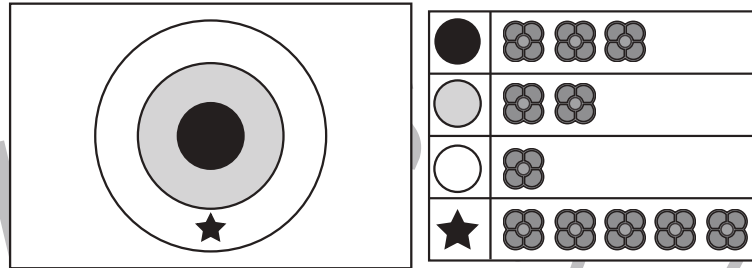


おうちで、やろう。

Study at home. 小学校受験の家庭学習教材

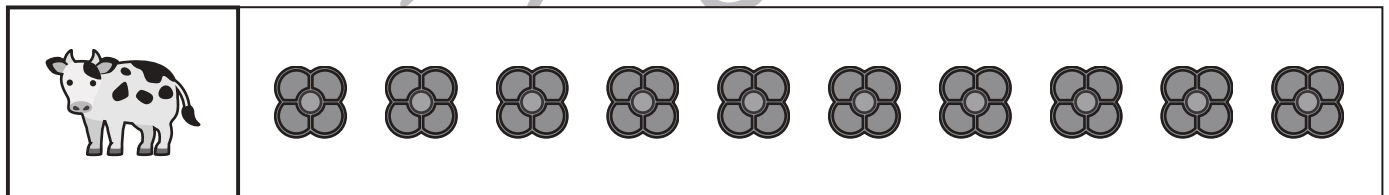
数量：計数 43

動物たちがの的あてをします。矢が1番外側に当たるとおはじきを1つ、そのすぐ内側に当たるとおはじきを2つ、真ん中に当たるとおはじきを3つもらえます。ただし、1番外側の星マークに当たるとおはじきを5つもらえます。動物たちがの的に矢を当てた様子を聞いて、もらえたおはじきの数だけ右のおはじきをまとめて囲みましょう。

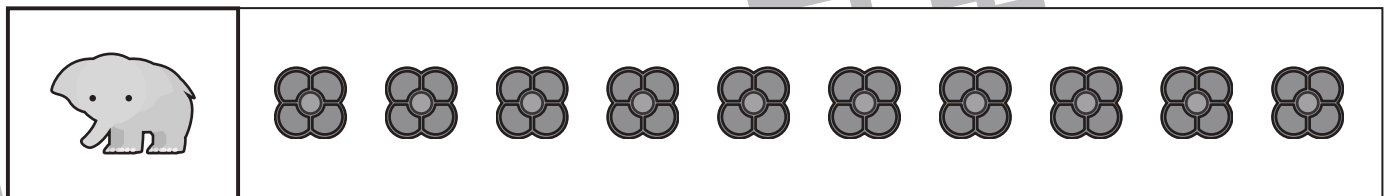


目黒
ール

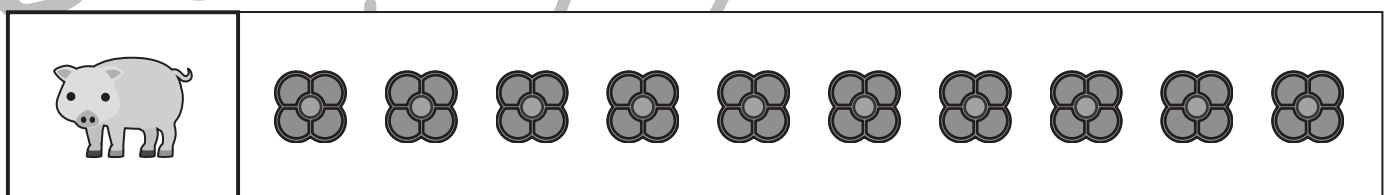
① 1番外側に2本・そのすぐ内側に2本当たりました。



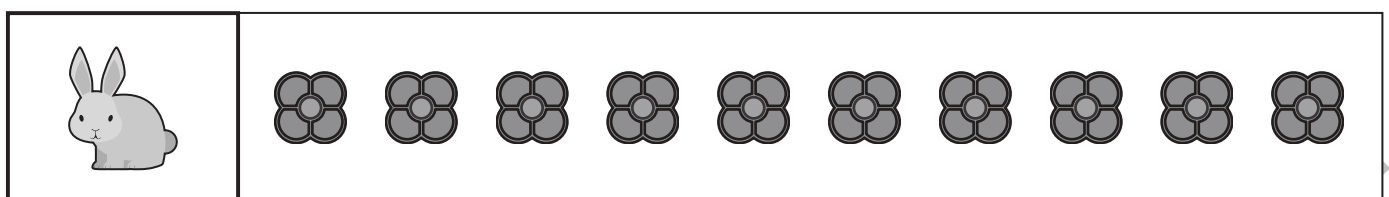
② 1番外側に1本・星マークに1本・真ん中に1本当たりました。



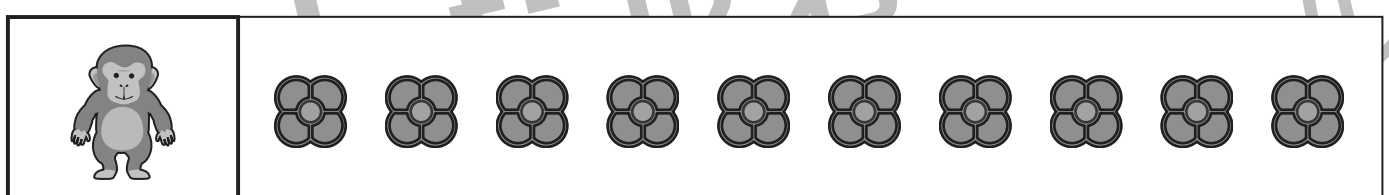
③ 星マークに2本当たりました。



④ 真ん中に1本・そのすぐ外側に1本当たりました。



⑤ 星マークに当てる事は出来ませんでした。でも全ての場所に1本ずつ当たりました。



※1. このプリントは、しながわ・目黒こどもスクールのウェブサイトでダウンロードができます。無断複写・引用はご遠慮ください。
 ※2. このプリントを活用したオンライン授業のスケジュールは、しながわ・目黒こどもスクールのウェブサイトでご確認ください。