

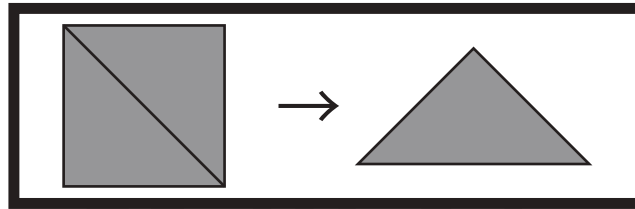


おうちで、やろう。

Study at home. 小学校受験の家庭学習教材

図形：三角パズル 6

上の太い四角の中の四角を半分にして三角パズルを作りました。この三角パズルを使ってそれぞれの形を作ります。それぞれ形は三角パズルを何枚使えばできるのかを考えて、下の四角の中にその数だけ〇をかきます。



目黒

※1. このプリントは、しながわ・目黒こどもスクールのウェブサイトでダウンロードができます。無断複写・引用はご遠慮ください。
※2. このプリントを活用したオンライン授業のスケジュールは、しながわ・目黒こどもスクールのウェブサイトでご確認ください。

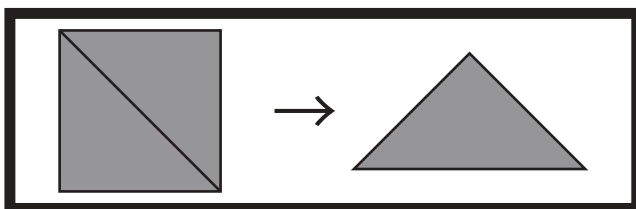


おうちで、やろう。







Study at home. 小学校受験の家庭学習教材

図形：三角パズル⑦

上の太い四角の中の四角を半分にして三角パズルを作りました。この三角パズルを使ってそれぞれの形を作ります。それぞれ形は三角パズルを何枚使えばできるのかを考えて、下の四角の中にその数だけ〇をかきます。



目黒



※1. このプリントは、しながわ・目黒こどもスクールのウェブサイトでダウンロードができます。無断複写・引用はご遠慮ください。
※2. このプリントを活用したオンライン授業のスケジュールは、しながわ・目黒こどもスクールのウェブサイトでご確認ください。



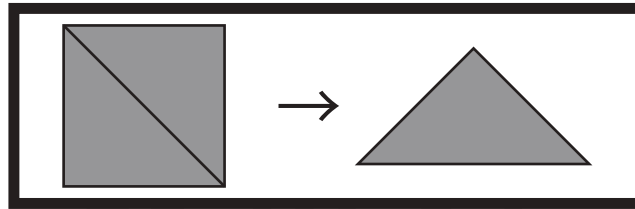


おうちで、やろう。





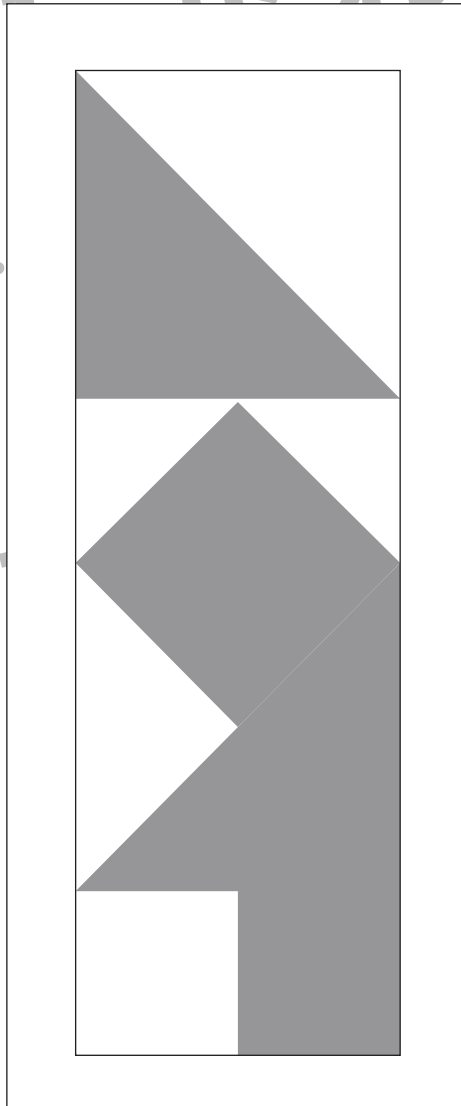

Study at home. 小学校受験の家庭学習教材

図形：三角パズル8

上の太い四角の中の四角を半分にして三角パズルを作りました。この三角パズルを使ってそれぞれの形を作ります。それぞれ形は三角パズルを何枚使えばできるのかを考えて、下の四角の中にその数だけ〇をかきます。



目黒



※1. このプリントは、しながわ・目黒こどもスクールのウェブサイトでダウンロードができます。無断複写・引用はご遠慮ください。
※2. このプリントを活用したオンライン授業のスケジュールは、しながわ・目黒こどもスクールのウェブサイトでご確認ください。



おうちで、やろう。

Study at home. 小学校受験の家庭学習教材

図形：折り重ね57

太い線で矢印の方向へ折り重ねた時の見え方を考えます。このとき、○がないマスはどこですか。その場所を考えてすぐ右の四角のマスを塗ります。もし間違えてしまったら、右端の四角のマスを塗りましょう。

①

②

③

④

※1. このプリントは、しながわ・目黒こどもスクールのウェブサイトでダウンロードができます。無断複写・引用はご遠慮ください。
※2. このプリントを活用したオンライン授業のスケジュールは、しながわ・目黒こどもスクールのウェブサイトでご確認ください。



おうちで、やろう。

Study at home. 小学校受験の家庭学習教材

図形：折り重ね 58

太い線で矢印の方向へ折り重ねた時の見え方を考えます。このとき、○がないマスはどこですか。その場所を考えてすぐ右の四角のマスを塗ります。もし間違えてしまったら、右端の四角のマスを塗りましょう。

①

②

③

④

※1. このプリントは、しながわ・目黒こどもスクールのウェブサイトでダウンロードができます。無断複写・引用はご遠慮ください。

※2. このプリントを活用したオンライン授業のスケジュールは、しながわ・目黒こどもスクールのウェブサイトでご確認ください。



おうちで、やろう。

Study at home. 小学校受験の家庭学習教材

図形：折り重ね 59

太い線で矢印の方向へ折り重ねた時の見え方を考えます。このとき、○がないマスはどこですか。その場所を考えてすぐ右の四角のマス塗ります。もし間違えてしまったら、右端の四角のマスを塗りましょう。

①

②

③

④

※1. このプリントは、しながわ・目黒こどもスクールのウェブサイトでダウンロードができます。無断複写・引用はご遠慮ください。
 ※2. このプリントを活用したオンライン授業のスケジュールは、しながわ・目黒こどもスクールのウェブサイトでご確認ください。

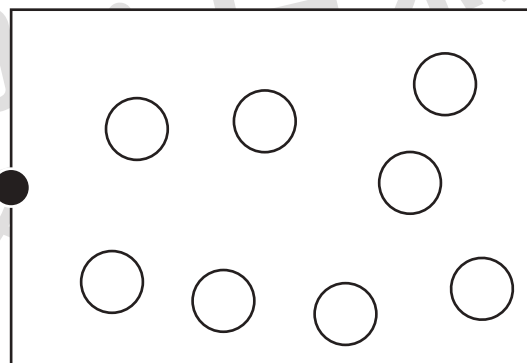
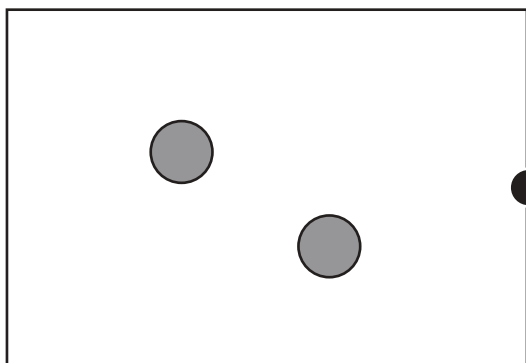
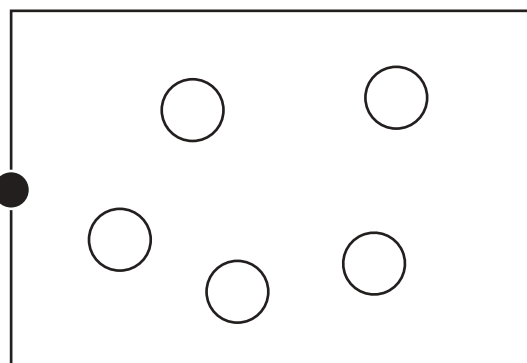
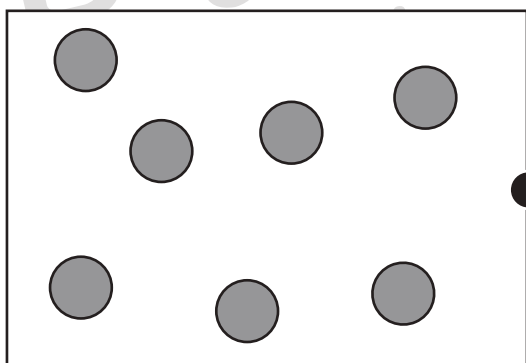
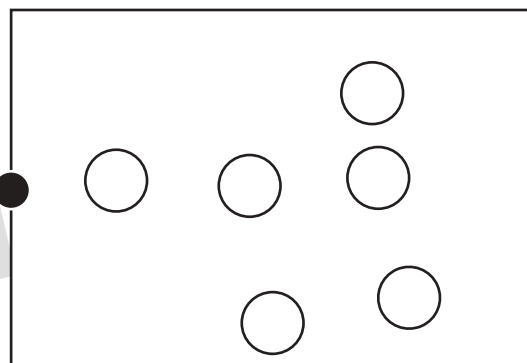
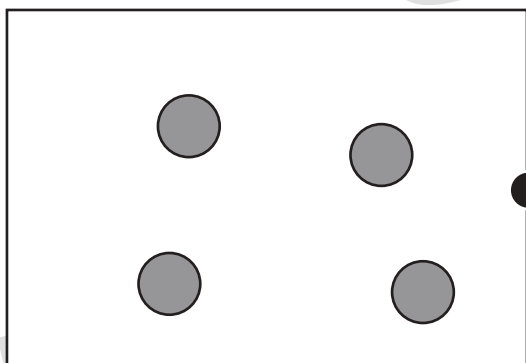
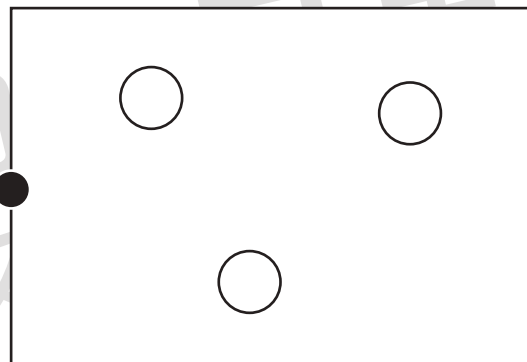
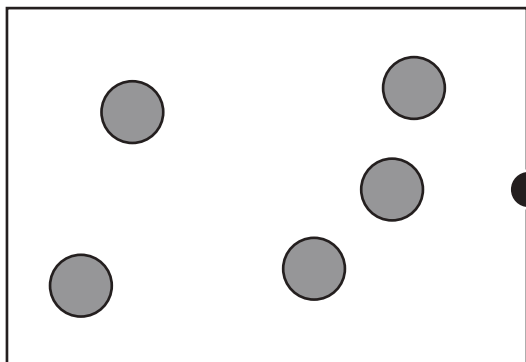


おうちで、やろう。

Study at home. 小学校受験の家庭学習教材

数量：合わせた数 18

左の四角の灰色の丸と右の四角の白い丸の数が合わせて 10 になるように線で結びます。



※1. このプリントは、しながわ・目黒こどもスクールのウェブサイトでダウンロードができます。無断複写・引用はご遠慮ください。
※2. このプリントを活用したオンライン授業のスケジュールは、しながわ・目黒こどもスクールのウェブサイトでご確認ください。



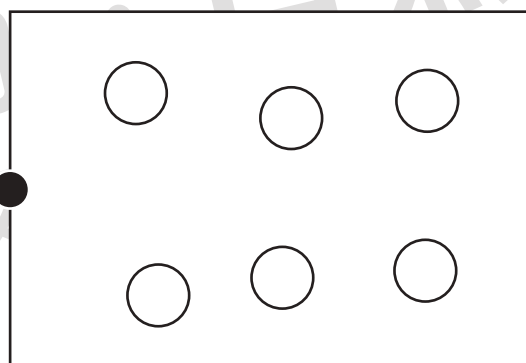
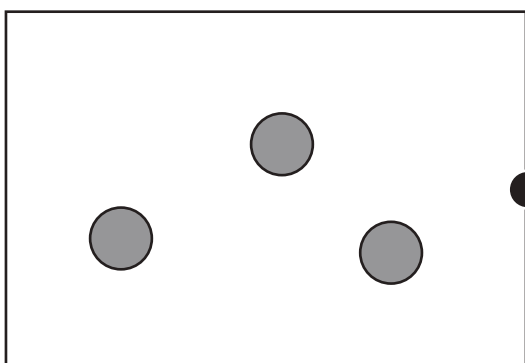
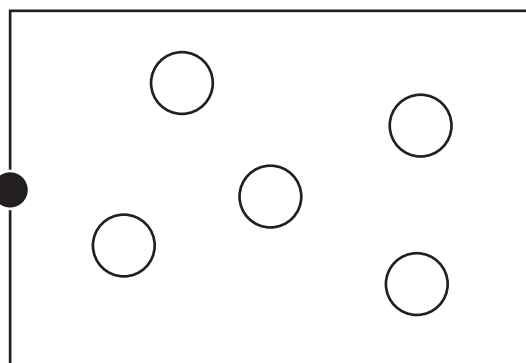
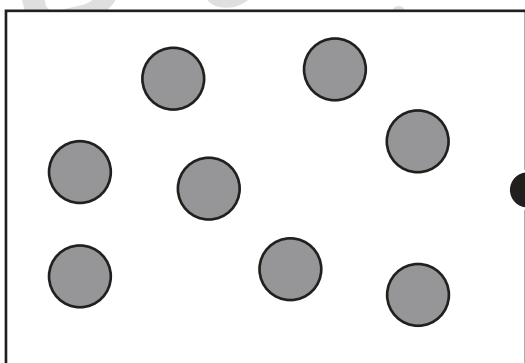
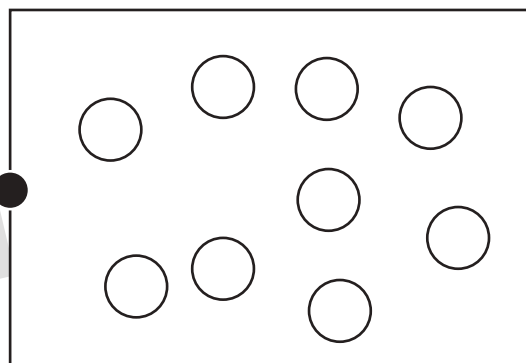
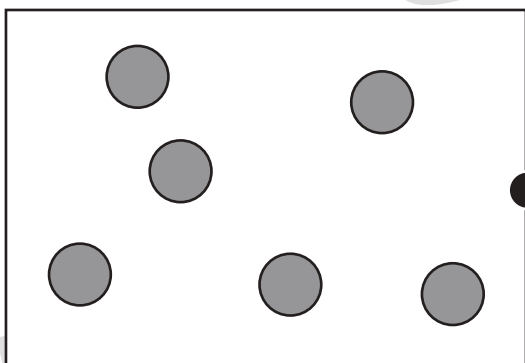
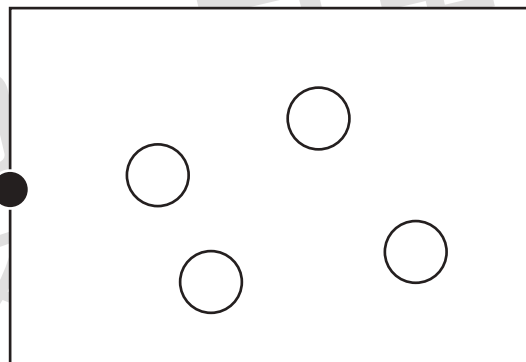
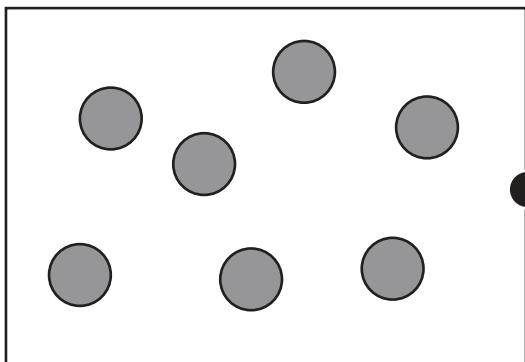


おうちで、やろう。

Study at home. 小学校受験の家庭学習教材

数量：合わせた数 19

左の四角の灰色の丸と右の四角の白い丸の数が合わせて 12 になるように線で結びます。



※1. このプリントは、しながわ・目黒こどもスクールのウェブサイトでダウンロードができます。無断複写・引用はご遠慮ください。
※2. このプリントを活用したオンライン授業のスケジュールは、しながわ・目黒こどもスクールのウェブサイトでご確認ください。








おうちで、やろう。

Study at home. 小学校受験の家庭学習教材

運筆：模写 36

左のお手本と同じ顔を右の四角に描きます。大きさや形に気を付けて描きましょう
※コピー、鉛筆、ラッシュンペンなどいろいろな筆記具で描いてみましょう。
※この問題に解答はありません。



※1. このプリントは、しながわ・目黒こどもスクールのウェブサイトでダウンロードができます。無断複写・引用はご遠慮ください。
※2. このプリントを活用したオンライン授業のスケジュールは、しながわ・目黒こどもスクールのウェブサイトでご確認ください。



おうちで、やろう。

Study at home. 小学校受験の家庭学習教材

処理：運筆 44

白丸から黒丸まで壁にぶつからないように線をかきます。素早く綺麗に線をかきましょう。
この問題はスピードを意識して取り組む練習をしてみましょう。(1分～1分30秒)
※この問題に解答はありません。



※1. このプリントは、しながわ・目黒こどもスクールのウェブサイトでダウンロードができます。無断複写・引用はご遠慮ください。
※2. このプリントを活用したオンライン授業のスケジュールは、しながわ・目黒こどもスクールのウェブサイトでご確認ください。

