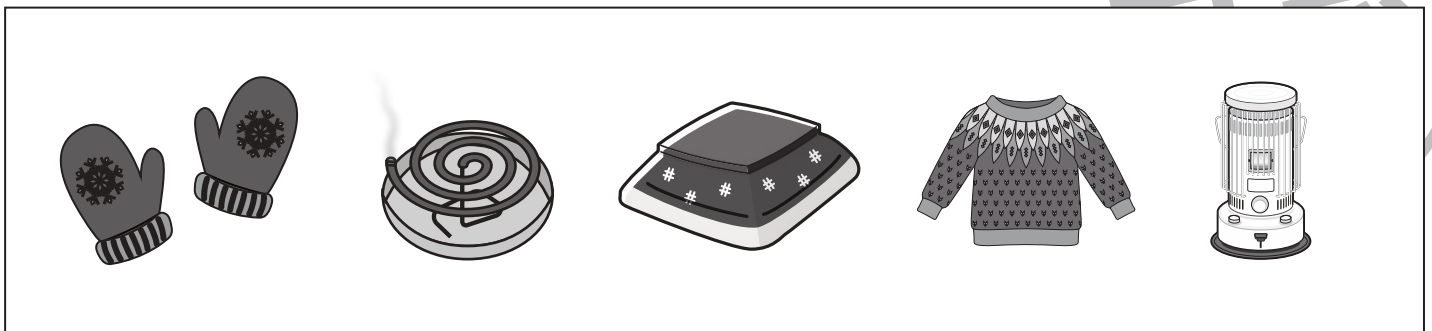
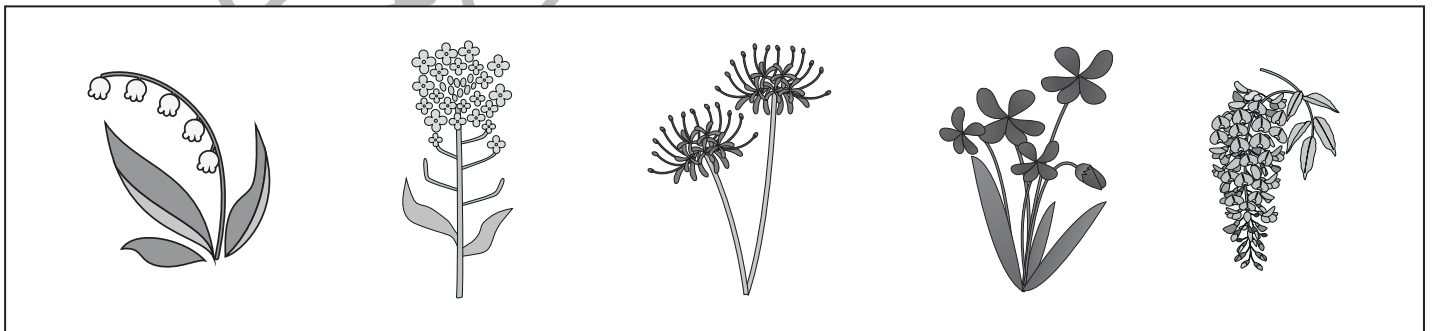


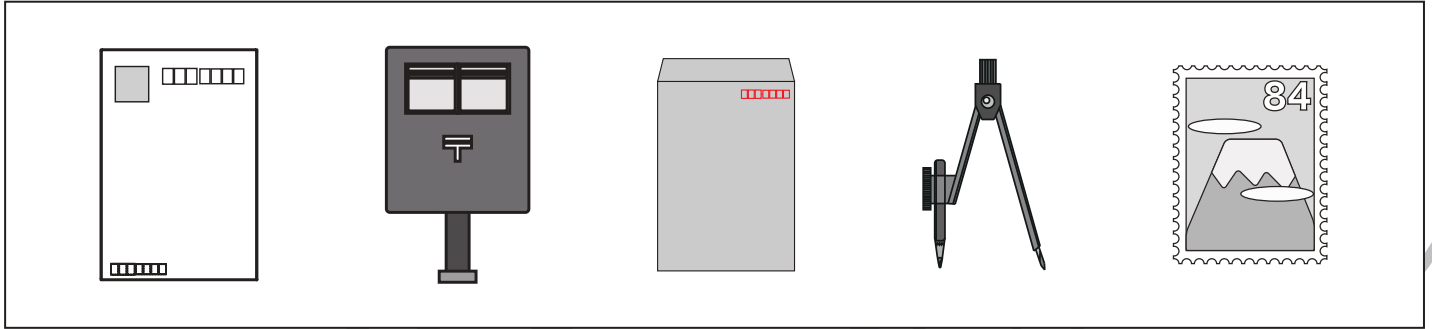




おうちで、やろう。

Study at home. 小学校受験の家庭学習教材

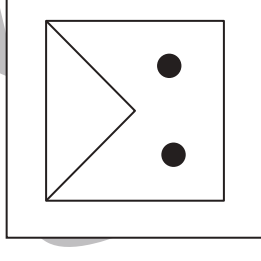
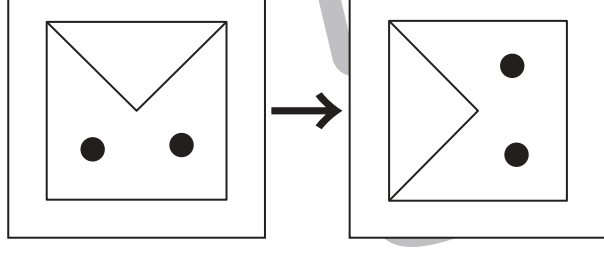
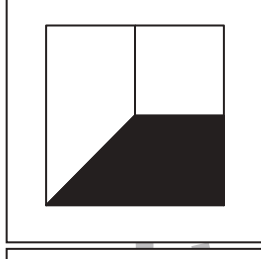

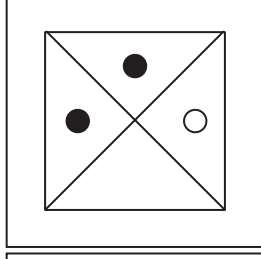
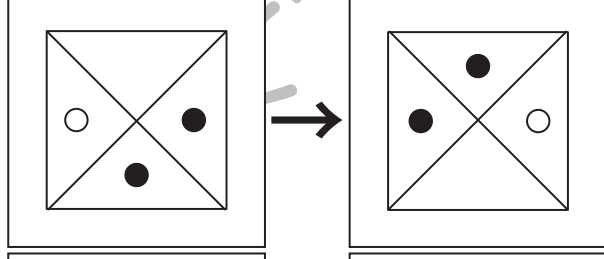
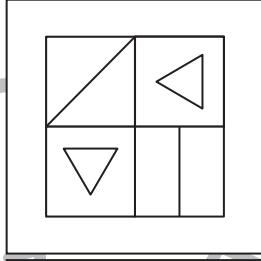
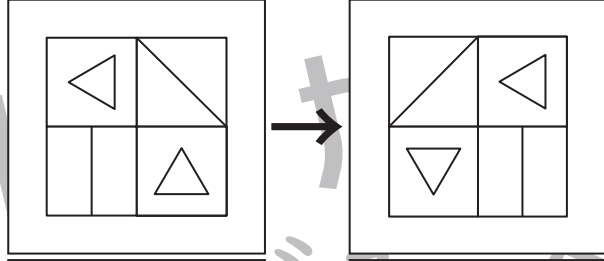

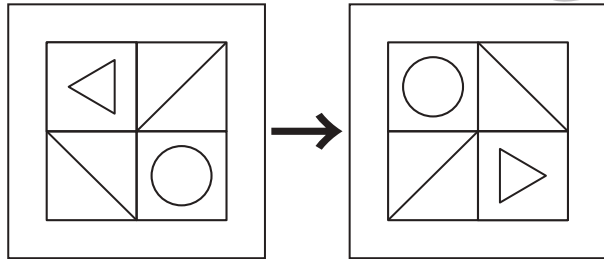
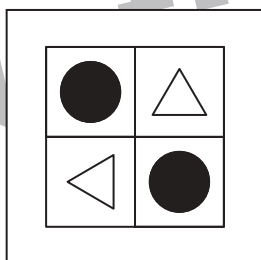
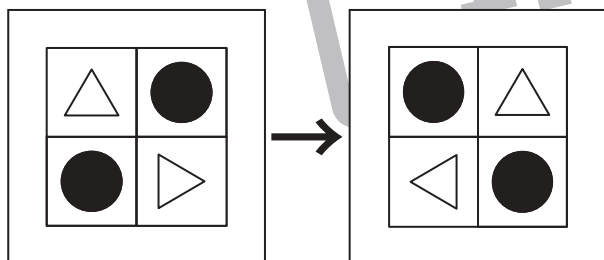
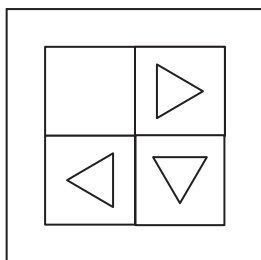
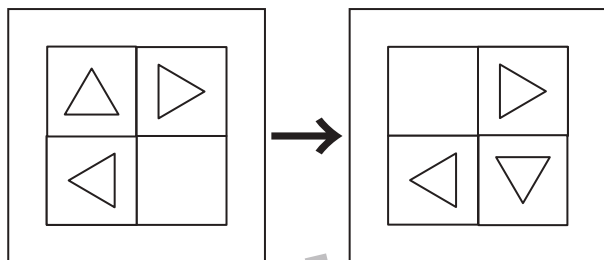
四角の中から仲間外れのものを選んで○をつけます。



※1. このプリントは、しながわ・目黒こどもスクールのウェブサイトでダウンロードができます。無断複写・引用はご遠慮ください。
 ※2. このプリントを活用したオンライン授業のスケジュールは、しながわ・目黒こどもスクールのウェブサイトでご確認ください。



左の四角の中の絵を右に何回倒すと右の四角の絵になりますか。その数だけ右の四角に○を描きます。



※1. このプリントは、しながわ・目黒こどもスクールのウェブサイトでダウンロードができます。無断複写・引用はご遠慮ください。
※2. このプリントを活用したオンライン授業のスケジュールは、しながわ・目黒こどもスクールのウェブサイトでご確認ください。





おうちで、やろう。

Study at home. 小学校受験の家庭学習教材

図形：回転 84

太い四角の中の絵を左に2回倒した時にできない絵を、右の四角から全て選んで○をつけます。

※1. このプリントは、しながわ・目黒こどもスクールのウェブサイトからダウンロードできます。無断複写・引用はご遠慮ください。

※2. このプリントを活用したオンライン授業のスケジュールは、しながわ・目黒こどもスクールのウェブサイトでご確認ください。



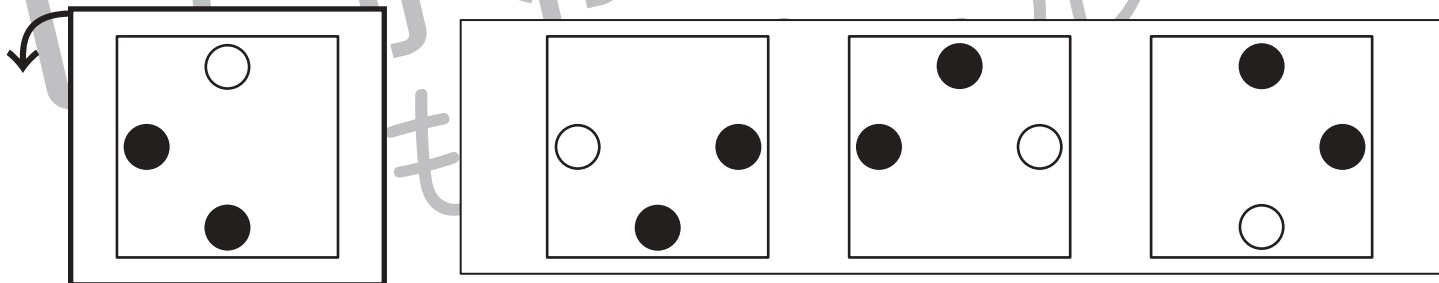
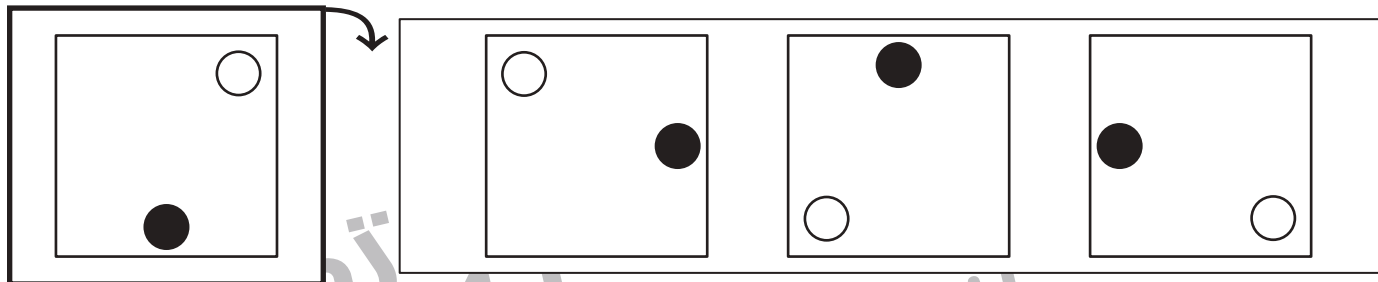
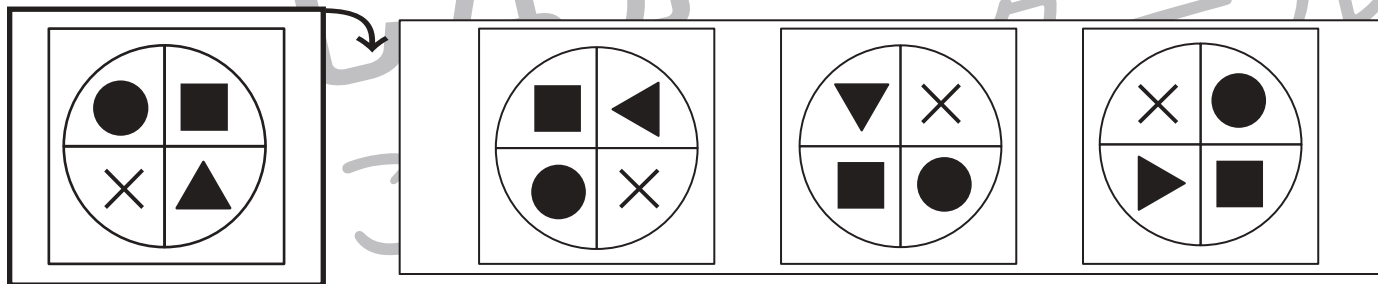



おうちで、やろう。

Study at home. 小学校受験の家庭学習教材

図形：回転 85

太い四角の中のお手本が矢印の方向に1回倒れたものには○を、2回倒れたものには△を、3回倒れたものには×をつけます。



※1. このプリントは、しながわ・目黒こどもスクールのウェブサイトでダウンロードができます。無断複写・引用はご遠慮ください。
 ※2. このプリントを活用したオンライン授業のスケジュールは、しながわ・目黒こどもスクールのウェブサイトでご確認ください。



おうちで、よろう。

Study at home. 小学校受験の家庭学習教材

図形：重ね 58

左の2枚の透明な板が重なった時の見え方を考えて、右の四角の中から正しいものに○をつけます。

※1. このプリントは、しながわ・目黒こどもスクールのウェブサイトでダウンロードができます。無断複写・引用はご遠慮ください。

※2. このプリントを活用したオンライン授業のスケジュールは、しながわ・目黒こどもスクールのウェブサイトでご確認ください。



おうちで、やろう。

Study at home. 小学校受験の家庭学習教材

図形：重ね 59

2枚または3枚の透明な板が重なった時の見え方を考えて、矢印の右側の四角の中の丸に、黒くなる所を塗ります。

※1. このプリントは、しながわ・目黒こどもスクールのウェブサイトでダウンロードができます。無断複写・引用はご遠慮ください。

※2. このプリントを活用したオンライン授業のスケジュールは、しながわ・目黒こどもスクールのウェブサイトでご確認ください。



おうちで、よろう。

Study at home. 小学校受験の家庭学習教材

図形：重ね 60

2枚の透明な板が重なった時の見え方を考えて、下の四角に足りないものを描きます。

<p style="text-align: center;">↓</p>	<p style="text-align: center;">↓</p>	<p style="text-align: center;">↓</p>
<p style="text-align: center;">↓</p>	<p style="text-align: center;">↓</p>	<p style="text-align: center;">↓</p>

※1. このプリントは、しながわ・目黒こどもスクールのウェブサイトでダウンロードができます。無断複写・引用はご遠慮ください。
 ※2. このプリントを活用したオンライン授業のスケジュールは、しながわ・目黒こどもスクールのウェブサイトでご確認ください。







おうちで、やろう。

Study at home. 小学校受験の家庭学習教材

数量：計数 44

四角の中で2番目に多い動物の数だけ、下の星をまとめて囲みます。



※1. このプリントは、しながわ・目黒こどもスクールのウェブサイトでダウンロードができます。無断複写・引用はご遠慮ください。

※2. このプリントを活用したオンライン授業のスケジュールは、しながわ・目黒こどもスクールのウェブサイトでご確認ください。





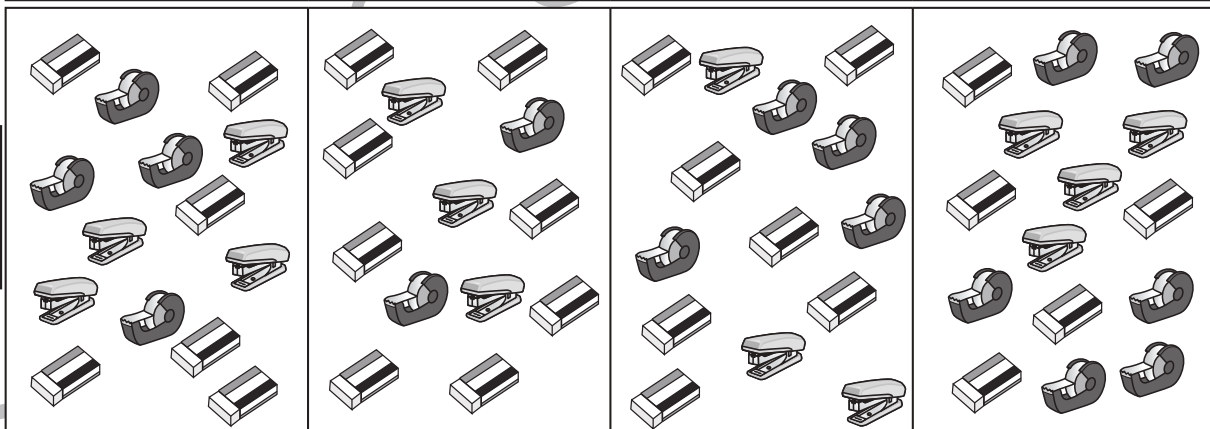
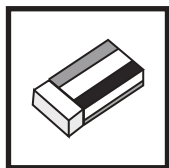
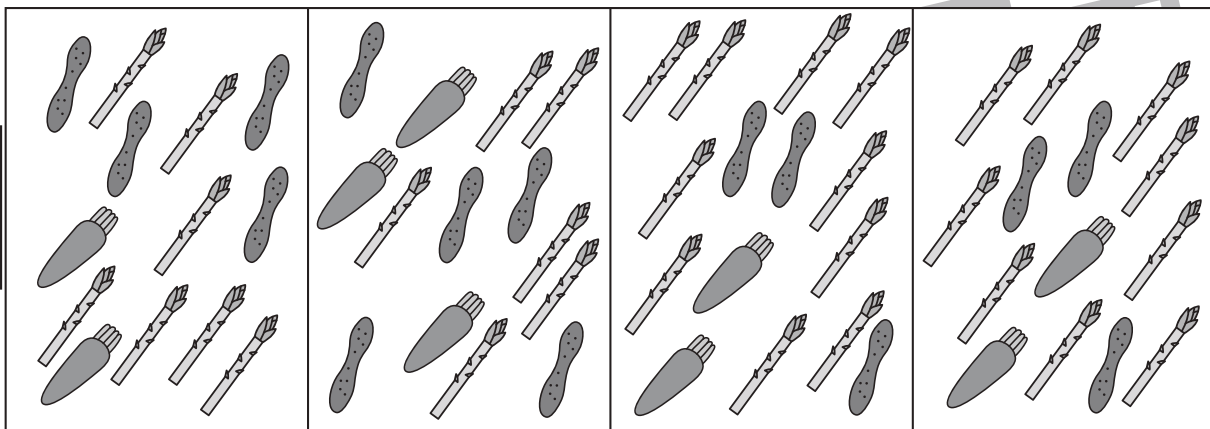



おうちで、やろう。

Study at home. 小学校受験の家庭学習教材

数量：計数 45

太い四角の中の絵が2番目に多く描いてある四角を右から選んで○をつけます。



※1. このプリントは、しながわ・目黒こどもスクールのウェブサイトダウンロードができます。無断複写・引用はご遠慮ください。

※2. このプリントを活用したオンライン授業のスケジュールは、しながわ・目黒こどもスクールのウェブサイトでご確認ください。



おうちで、やろう。

Study at home. 小学校受験の家庭学習教材

数量：計数 46

男の子と女の子がじゃんけんをします。

①・②女の子が勝った数だけ、下の星を1つずつ囲みます。

③・④男の子が負けた数だけ、下の星を1つずつ囲みます。

①

☆ ☆ ☆ ☆ ☆ ☆ ☆ ☆							

②

☆ ☆ ☆ ☆ ☆ ☆ ☆ ☆							

③

☆ ☆ ☆ ☆ ☆ ☆ ☆ ☆							

④

☆ ☆ ☆ ☆ ☆ ☆ ☆ ☆							

※1. このプリントは、しながわ・目黒こどもスクールのウェブサイトでダウンロードができます。無断複写・引用はご遠慮ください。

※2. このプリントを活用したオンライン授業のスケジュールは、しながわ・目黒こどもスクールのウェブサイトでご確認ください。