







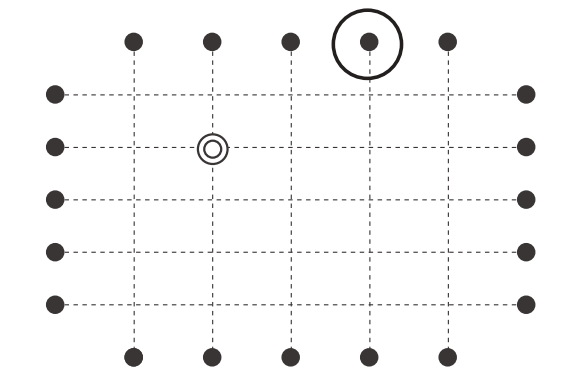




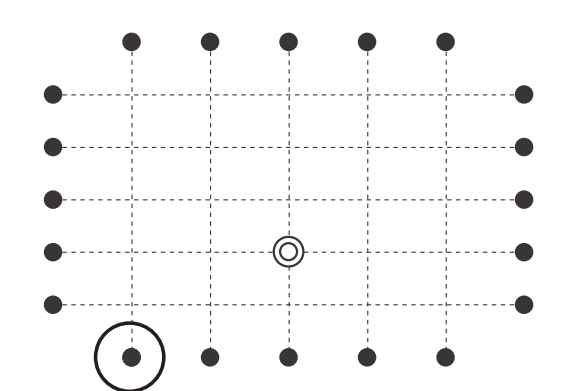




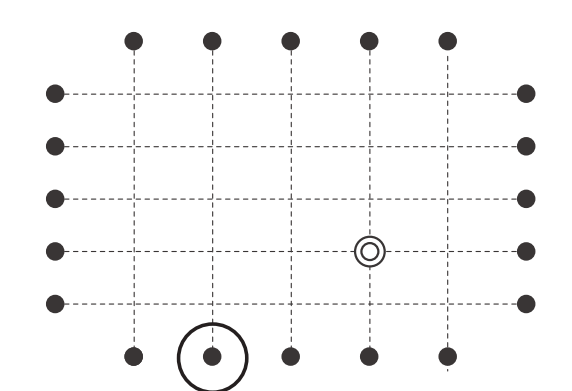




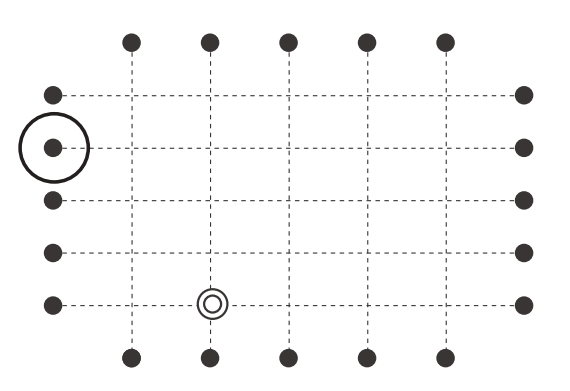




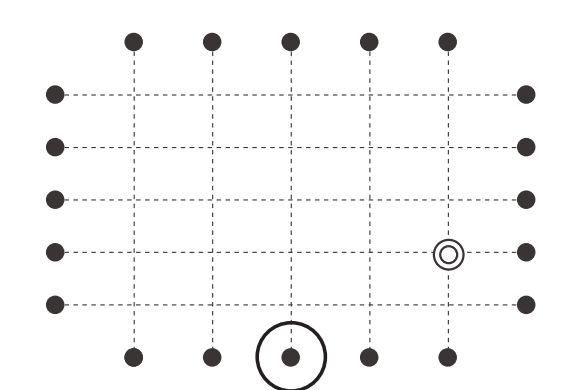




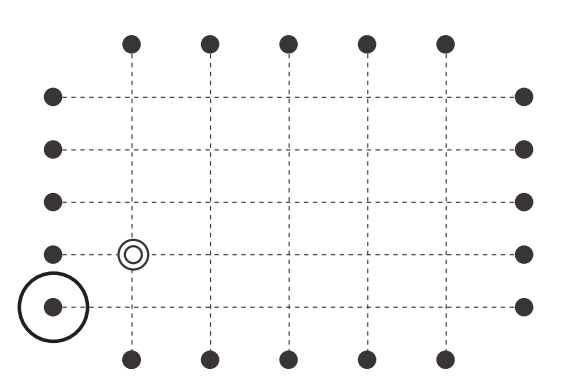




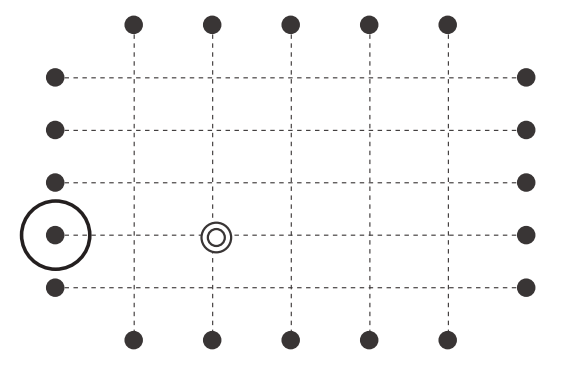




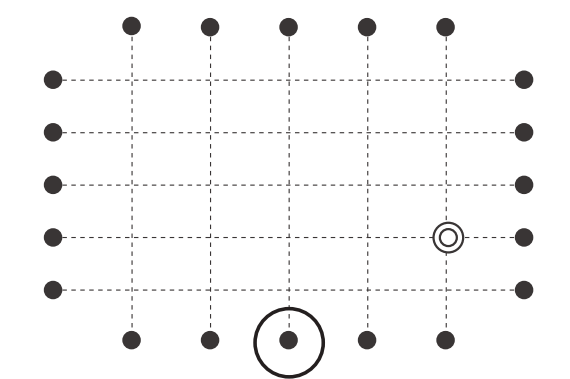
# おうちで、やろう。

Study at home. 小学校受験の家庭学習教材

## 図形：移動 53

上の四角の中がお手本です。それぞれの記号の隣にある矢印の方向へ進みます。左に並んでいる記号を上から見ていき、◎からスタートして最後についた●を丸で囲みます。進んだ道は線をかいてもかかなくてもよいですが、最後についた●を必ず囲みましょう。



※1. このプリントは、しながわ・目黒こどもスクールのウェブサイトでダウンロードができます。無断複写・引用はご遠慮ください。

※2. このプリントを活用したオンライン授業のスケジュールは、しながわ・目黒こどもスクールのウェブサイトでご確認ください。



































# おうちで、やろう。

Study at home. 小学校受験の家庭学習教材

## 図形：移動 54

上の四角の中がお手本です。それぞれの記号の隣にある矢印の方向へ進みます。左に並んでいる記号を上から見ていき、◎からスタートして最後についた●を丸で囲みます。進んだ道は線をかいてもかかなくてもよいですが、最後についた●を必ず囲みましょう。



※1. このプリントは、しながわ・目黒こどもスクールのウェブサイトからダウンロードできます。無断複写・引用はご遠慮ください。

※2. このプリントを活用したオンライン授業のスケジュールは、しながわ・目黒こどもスクールのウェブサイトでご確認ください。



# おうちで、やろう。

Study at home. 小学校受験の家庭学習教材

図形：反転 20

左のお手本を上への矢印の向きに回して裏返した時の見え方を考えて、左の四角にかきます。

※1. このプリントは、しながわ・目黒こどもスクールのウェブサイトでダウンロードができます。無断複写・引用はご遠慮ください。  
 ※2. このプリントを活用したオンライン授業のスケジュールは、しながわ・目黒こどもスクールのウェブサイトでご確認ください。



# おうちで、やろう。

Study at home. 小学校受験の家庭学習教材

## 図形：反転 21

左のお手本を上矢印の向きに回して裏返した時の見え方を考えて、左の四角にかきます。

※1. このプリントは、しながわ・目黒こどもスクールのウェブサイトでダウンロードができます。無断複写・引用はご遠慮ください。  
 ※2. このプリントを活用したオンライン授業のスケジュールは、しながわ・目黒こどもスクールのウェブサイトでご確認ください。



# おうちで、やろう。

Study at home. 小学校受験の家庭学習教材

図形：反転 22

左のお手本を上矢印の向きに回して裏返した時の見え方を考えて、左の四角にかきます。

※1. このプリントは、しながわ・目黒こどもスクールのウェブサイトでダウンロードができます。無断複写・引用はご遠慮ください。  
 ※2. このプリントを活用したオンライン授業のスケジュールは、しながわ・目黒こどもスクールのウェブサイトでご確認ください。



# おうちで、やろう。

Study at home. 小学校受験の家庭学習教材

## 図形：反転 23

左のお手本を矢印の向きに回して裏返した時の見え方を考えて、左の四角にかきます。

The image shows a 4x4 grid of diamond-shaped puzzles. Each puzzle consists of a diamond shape with several dots inside. Some dots are connected by lines to form a pattern. A small arrow on the left side of each diamond indicates the direction of rotation. A vertical line runs down the center of the grid, separating the left and right halves. The puzzles are designed to be rotated and flipped to match the patterns on the right side.

※1. このプリントは、しながわ・目黒こどもスクールのウェブサイトからダウンロードできます。無断複写・引用はご遠慮ください。  
 ※2. このプリントを活用したオンライン授業のスケジュールは、しながわ・目黒こどもスクールのウェブサイトでご確認ください。



# おうちで、やろう。

Study at home. 小学校受験の家庭学習教材

処理：模写 21

左の四角がお手本です。白いマスの場所を考えて右の四角の同じ場所に○をかきます。  
この問題はスピードを意識して取り組む練習をしてみましょう。(1分30秒～2分)

■	□	■	■
□	■	■	■
■	■	■	□
■	□	■	■

□	○	□	□
○	□	□	□
□	□	□	○
□	○	□	□

■	□	□	■
□	■	□	□
■	■	■	■
■	□	■	□

□	○	○	□
○	□	○	○
□	□	□	□
□	○	□	○

□	■	■	■
■	■	■	■
□	■	■	■
■	■	■	□

○	□	□	□
□	□	□	□
○	□	□	□
□	□	□	○

■	□	□	■
■	■	■	□
□	■	■	■
■	■	□	□

□	○	○	□
□	□	□	○
○	□	□	□
□	□	○	○

■	□	□	■
□	■	■	■
■	■	□	■
■	■	■	□

□	○	○	□
○	□	□	□
□	□	○	□
□	□	□	○

■	■	■	□
□	■	■	□
■	□	■	■
■	■	□	□

□	□	□	○
○	□	□	○
□	○	□	□
□	□	○	○

□	■	■	□
■	■	■	□
■	■	□	■
□	■	□	■

○	□	□	○
□	□	□	○
□	□	○	□
○	□	○	□

■	■	□	□
□	□	■	■
■	■	■	■
■	□	□	■

□	□	○	○
○	○	□	□
□	□	□	□
□	○	○	□

■	□	■	□
□	■	■	■
■	■	□	■
■	□	■	□

□	○	□	○
○	□	□	□
□	□	○	□
□	○	□	○

■	□	■	■
■	■	■	□
□	■	■	■
□	■	□	■

□	○	□	□
□	□	□	○
○	□	□	○
○	□	○	□

※1. このプリントは、しながわ・目黒こどもスクールのウェブサイトからダウンロードできます。無断複写・引用はご遠慮ください。  
※2. このプリントを活用したオンライン授業のスケジュールは、しながわ・目黒こどもスクールのウェブサイトでご確認ください。




# おうちで、やろう。

Study at home. 小学校受験の家庭学習教材

処理：計数 24

上の四角の中の絵の数をかぞえて、その数だけ下の同じ絵の右に○をかきます。  
この問題はスピードを意識して取り組む練習をしてみましょう。(1分～1分30秒)



○×10



○×8



○×9



○×6



○×7