

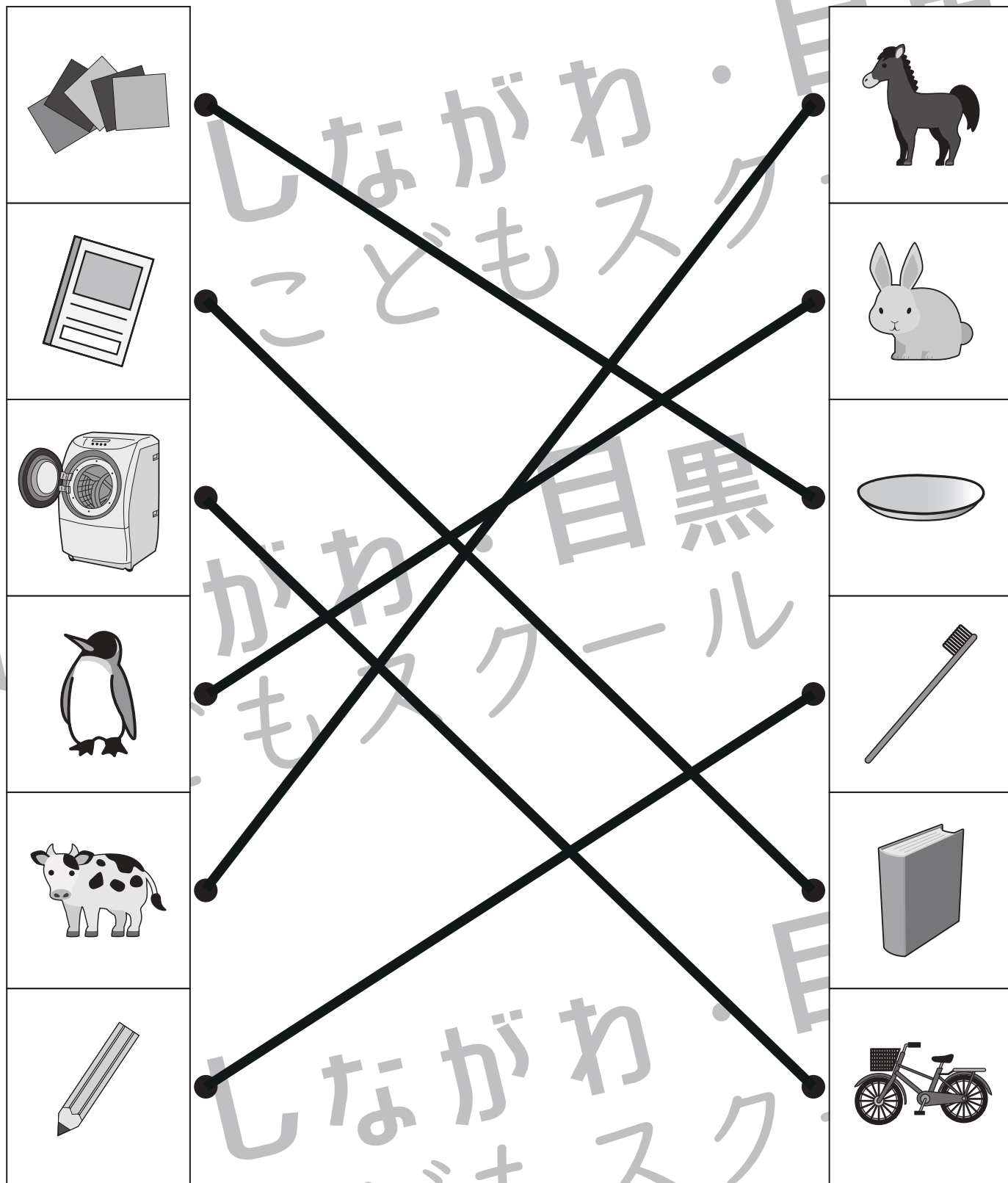


# おうちで、やろう。

Study at home. 小学校受験の家庭学習教材

## 常識：数え方2

左側のものと同じ数え方をするものを右側から選んで、点と点を線で結びます。



※1. このプリントは、しながわ・目黒こどもスクールのウェブサイトでダウンロードができます。無断複写・引用はご遠慮ください。

※2. このプリントを活用したオンライン授業のスケジュールは、しながわ・目黒こどもスクールのウェブサイトでご確認ください。



# おうちで、やろう。

Study at home. 小学校受験の家庭学習教材

## 図形：鏡 43

左のお手本を黒い線の上に鏡を置いて見た時の見え方を考えて、右の四角から選んで○をつけます。


※1. このプリントは、しながわ・目黒こどもスクールのウェブサイトでダウンロードができます。無断複写・引用はご遠慮ください。  
 ※2. このプリントを活用したオンライン授業のスケジュールは、しながわ・目黒こどもスクールのウェブサイトでご確認ください。



左のお手本を黒い線の上に鏡を置いて見た時の見え方を考えて、右の四角にかきます。


※1. このプリントは、しながわ・目黒こどもスクールのウェブサイトからダウンロードできます。無断複写・引用はご遠慮ください。  
※2. このプリントを活用したオンライン授業のスケジュールは、しながわ・目黒こどもスクールのウェブサイトでご確認ください。





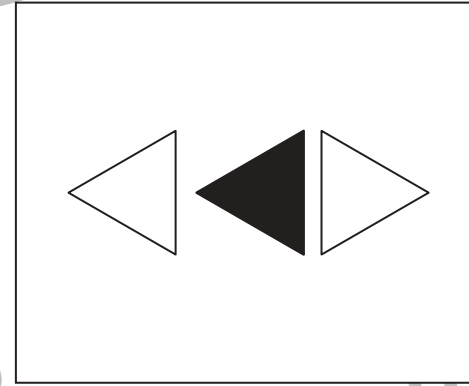
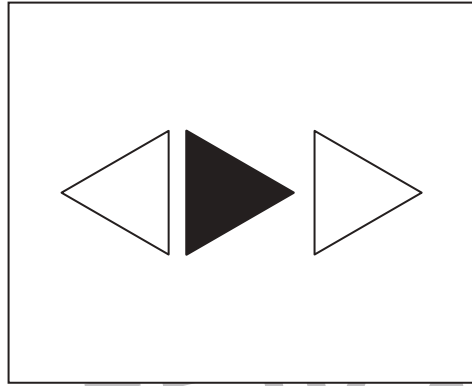
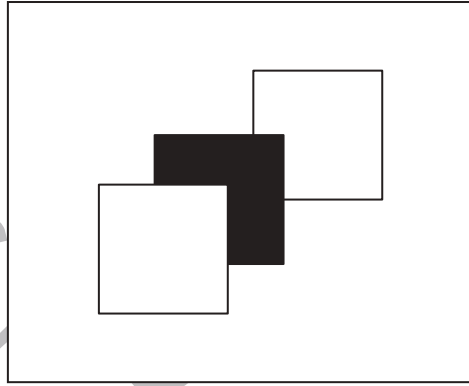
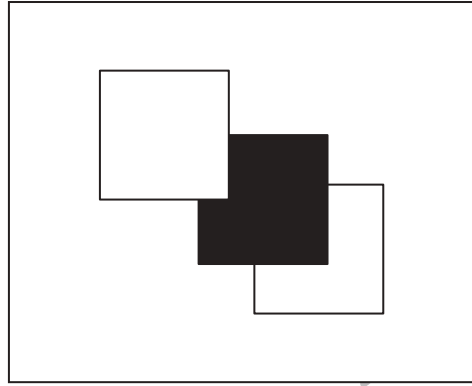


# おうちで、やろう。

Study at home. 小学校受験の家庭学習教材

図形：鏡 45

左の絵を黒い線の上に鏡を置いて見た時の見え方が右の絵です。見え方が正しい時は○、間違えている時は×を、太い四角の中にかきましょう。



※1. このプリントは、しながわ・目黒こどもスクールのウェブサイトでダウンロードができます。無断複写・引用はご遠慮ください。  
※2. このプリントを活用したオンライン授業のスケジュールは、しながわ・目黒こどもスクールのウェブサイトでご確認ください。





# おうちで、やろう。

Study at home. 小学校受験の家庭学習教材

## 図形：折り重ね 63

白い丸と黒い丸がかかっている2枚の透明な紙を真ん中の点線で矢印の向きにパタンと折って重ねると、丸はどうなりますか。正しいものを右の四角から選んで○をつけます。

↩


※1. このプリントは、しながわ・目黒こどもスクールのウェブサイトからダウンロードできます。無断複写・引用はご遠慮ください。

※2. このプリントを活用したオンライン授業のスケジュールは、しながわ・目黒こどもスクールのウェブサイトでご確認ください。



# おうちで、よろう。

Study at home. 小学校受験の家庭学習教材

## 図形：折り重ね 64

透明な紙にかかれた絵を真ん中の太い線で矢印の向きにパタンと折って重ねると、どうなりますか。正しいものを右の四角から選んで○を付けます。

↶


※1. このプリントは、しながわ・目黒こどもスクールのウェブサイトでダウンロードができます。無断複写・引用はご遠慮ください。

※2. このプリントを活用したオンライン授業のスケジュールは、しながわ・目黒こどもスクールのウェブサイトでご確認ください。



# おうちで、よろう。

Study at home. 小学校受験の家庭学習教材

## 図形：折り重ね 65

透明な紙にかかれた絵を真ん中の線で矢印の向きにパタンと折って重ねるとどうなるか考えて、下の四角の中に鉛筆でかきます。

↓	↓	↓	↓

↓	↓	↓	↓

※1. このプリントは、しながわ・目黒こどもスクールのウェブサイトからダウンロードできます。無断複写・引用はご遠慮ください。  
 ※2. このプリントを活用したオンライン授業のスケジュールは、しながわ・目黒こどもスクールのウェブサイトでご確認ください。



# おうちで、やろう。

Study at home. 小学校受験の家庭学習教材

数量：計数 47

左と右の四角の中の印を、真ん中の空いている四角で合わせます。真ん中の四角の中どうなるか考えて、下の四角から正しいものを選んで○をつけます。

● ● × ×	→		←	● × × ●
------------	---	--	---	------------

● ● ● × × × ×	● ● ● ● × × ×	● ● ● ● × × × ×	● ● ● ● ● × × × ×	● ● ● ● ● × × × ×
------------------	------------------	--------------------	----------------------	----------------------

△ △ △ × △ ×	→		←	△ × △ × × △
----------------	---	--	---	----------------

△ △ △ △ △ × × × × ×	△ △ △ △ △ × × × ×	△ △ △ △ △ × × × ×	△ △ △ △ △ × × × ×	△ △ △ △ △ × × × ×
------------------------	----------------------	----------------------	----------------------	----------------------

■ ▲ ▲ ■ ■	→		←	■ ▲ ■ ■ ▲ ▲
--------------	---	--	---	----------------

■ ■ ■ ■ ▲ ▲ ▲ ▲	■ ■ ■ ■ ■ ▲ ▲ ▲ ▲	■ ■ ■ ■ ■ ▲ ▲ ▲ ▲	■ ■ ■ ■ ■ ▲ ▲ ▲ ▲	■ ■ ■ ■ ■ ▲ ▲ ▲ ▲
--------------------	----------------------	----------------------	----------------------	----------------------

○ □ □ ○	→		←	○ ○ □ □ □ ○
------------	---	--	---	----------------

○ ○ ○ ○ □ □ □ □	○ ○ ○ ○ □ □ □ □	○ ○ ○ ○ ○ □ □ □ □	○ ○ ○ ○ ○ □ □ □ □	○ ○ ○ ○ ○ □ □ □ □
--------------------	--------------------	----------------------	----------------------	----------------------

△ △ ○	→		←	△ ○ ○ △ △ ○
----------	---	--	---	----------------

△ △ △ △ △ ○ ○ ○ ○	△ △ △ △ △ ○ ○ ○ ○	△ △ △ △ △ ○ ○ ○ ○	△ △ △ △ △ ○ ○ ○ ○	△ △ △ △ △ ○ ○ ○ ○
----------------------	----------------------	----------------------	----------------------	----------------------

※1. このプリントは、しながわ・目黒こどもスクールのウェブサイトでダウンロードができます。無断複写・引用はご遠慮ください。  
 ※2. このプリントを活用したオンライン授業のスケジュールは、しながわ・目黒こどもスクールのウェブサイトでご確認ください。










# おうちで、やろう。

Study at home. 小学校受験の家庭学習教材

数量：計数 48

たろうくん、はなこさん、お父さん、お母さん、おばあさんは、それぞれの四角の中の鉛筆と消しゴムを持っています。マスの上の人たちが持っている鉛筆と消しゴムを合わせるとそれぞれいくつになりますか。その数だけ、鉛筆と消しゴムの横のマスに1つずつ〇をかきます。



	○	○	○					
	○	○	○					



	○	○						
	○	○	○					



	○	○	○	○	○			
	○	○	○					



	○	○	○	○	○	○	○	
	○	○	○	○	○			



	○	○	○	○	○			
	○	○	○	○	○			

※1. このプリントは、しながわ・目黒こどもスクールのウェブサイトでダウンロードができます。無断複写・引用はご遠慮ください。

※2. このプリントを活用したオンライン授業のスケジュールは、しながわ・目黒こどもスクールのウェブサイトでご確認ください。

