


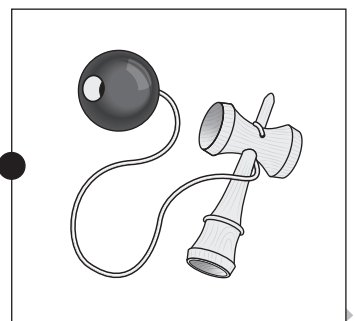



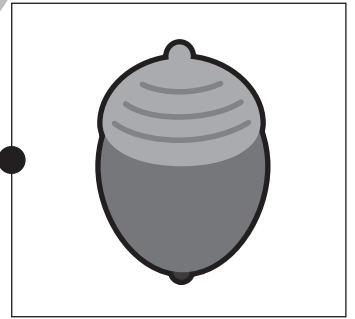

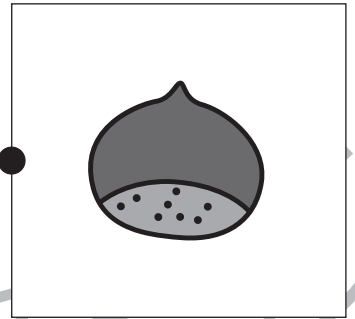
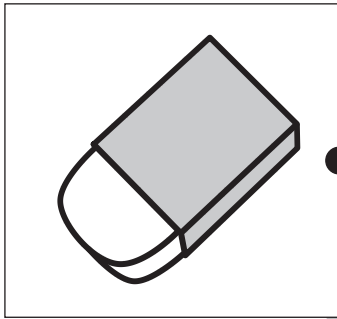


おうちで、やろう。

Study at home. 小学校受験の家庭学習教材

言語：音の理解 2

左側の四角の中のはじめの音と同じ音ではじまる絵を右側の四角の中からみつけて線で結びます。



※1. このプリントは、しながわ・目黒こどもスクールのウェブサイトでダウンロードができます。無断複写・引用はご遠慮ください。
※2. このプリントを活用したオンライン授業のスケジュールは、しながわ・目黒こどもスクールのウェブサイトでご確認ください。




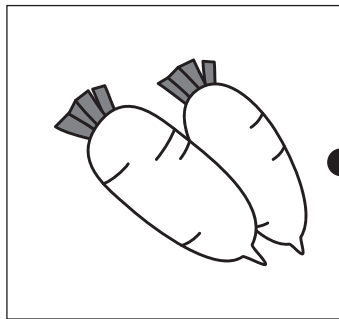

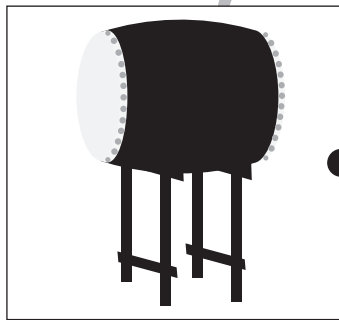

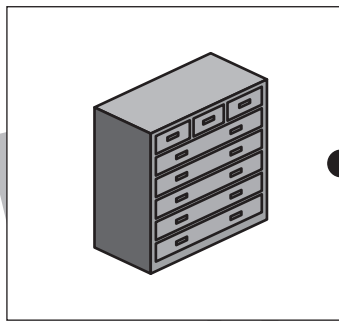
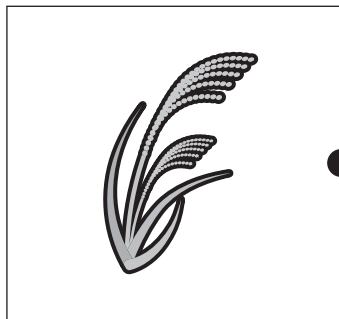




おうちで、やろう。

Study at home. 小学校受験の家庭学習教材

言語：音の理解 3

左側の四角の中のおわりの音と同じ音でおわる絵を右側の四角の中からみつけて線で結びます。



※1. このプリントは、しながわ・目黒こどもスクールのウェブサイトからダウンロードできます。無断複写・引用はご遠慮ください。

※2. このプリントを活用したオンライン授業のスケジュールは、しながわ・目黒こどもスクールのウェブサイトでご確認ください。



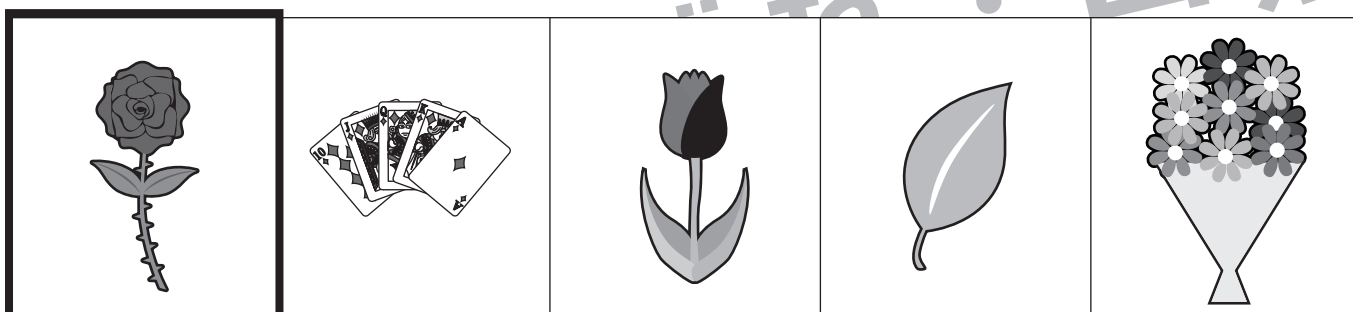




おうちで、やろう。

Study at home. 小学校受験の家庭学習教材

言語：数え方1

太い四角の絵と同じ数え方をするものを、右から選んで○をつけましょう。



※1. このプリントは、しながわ・目黒こどもスクールのウェブサイトでダウンロードができます。無断複写・引用はご遠慮ください。
 ※2. このプリントを活用したオンライン授業のスケジュールは、しながわ・目黒こどもスクールのウェブサイトでご確認ください。



おうちで、やろう。

Study at home. 小学校受験の家庭学習教材

図形：回転1

左の四角の中の形を矢印の方向に一度ぱたと倒した時の見え方を考えて、右の四角の中から選び○をつけます。

※1. このプリントは、しながわ・目黒こどもスクールのウェブサイトからダウンロードできます。無断複写・引用はご遠慮ください。
 ※2. このプリントを活用したオンライン授業のスケジュールは、しながわ・目黒こどもスクールのウェブサイトでご確認ください。

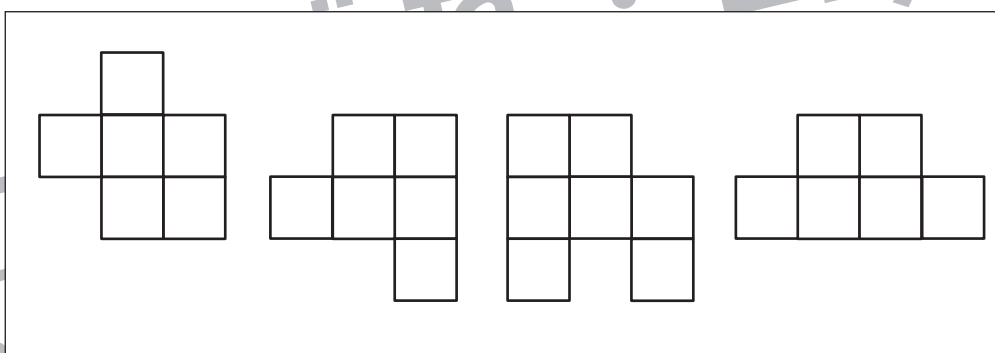

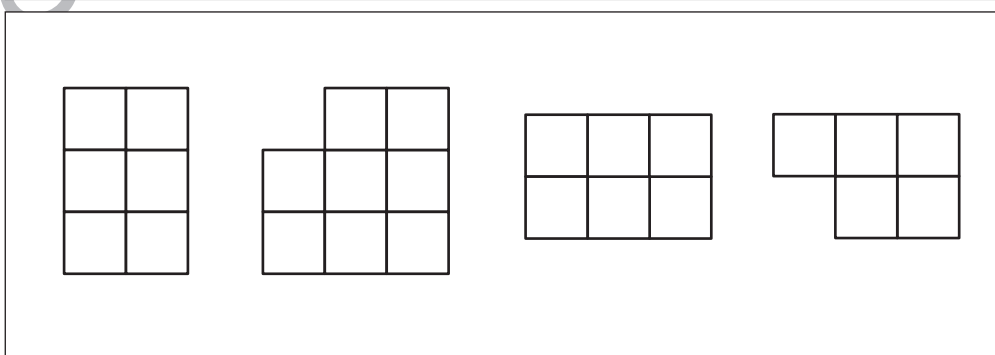

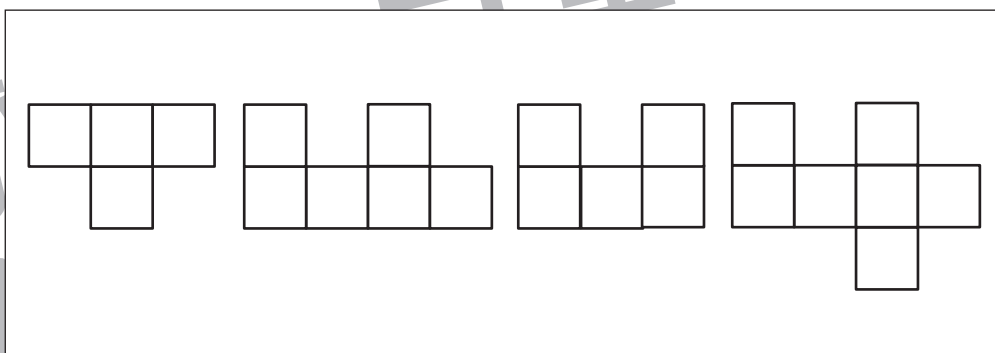



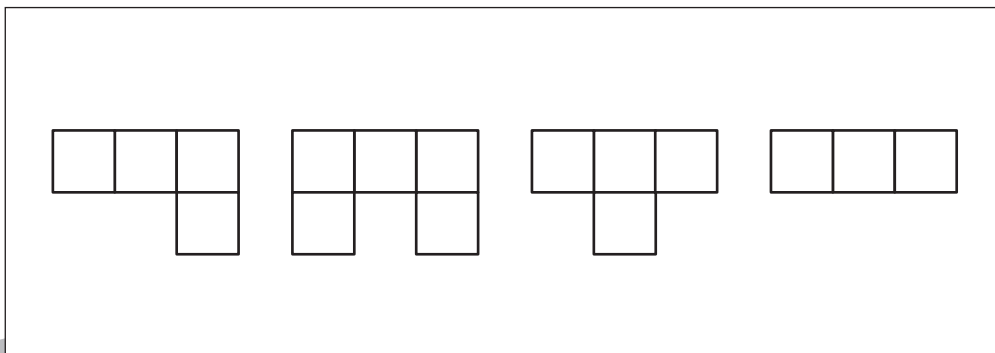



おうちで、やろう。

Study at home. 小学校受験の家庭学習教材

推理：四方観察 4

左の太い四角の中の積み木がお手本です。このお手本を男の子が前から見たときの見え方を考えます。正しいものを右の4つの中から選んで○をつけます。



※1. このプリントは、しながわ・目黒こどもスクールのウェブサイトでダウンロードができます。無断複写・引用はご遠慮ください。
※2. このプリントを活用したオンライン授業のスケジュールは、しながわ・目黒こどもスクールのウェブサイトでご確認ください。



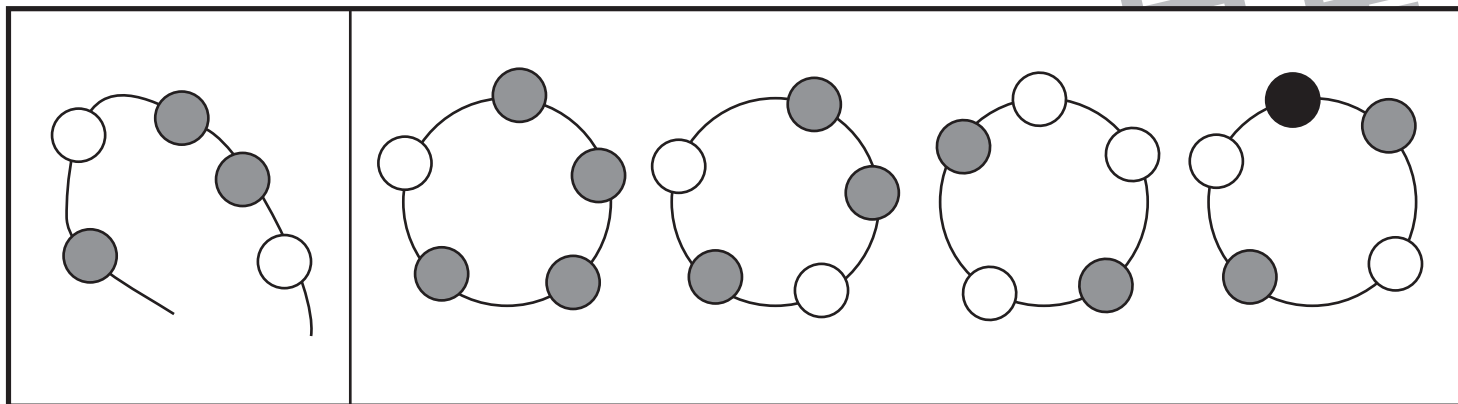
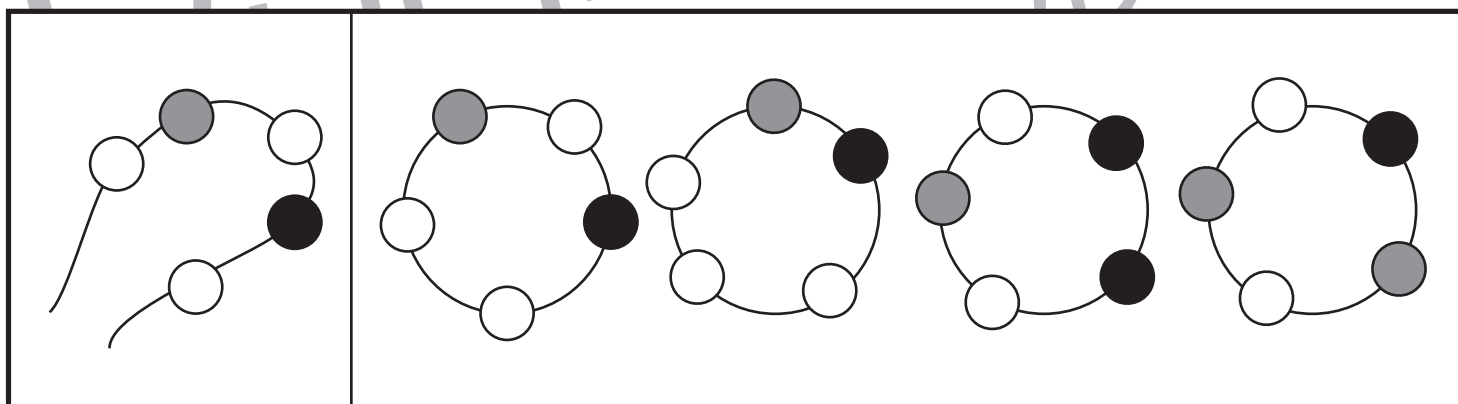
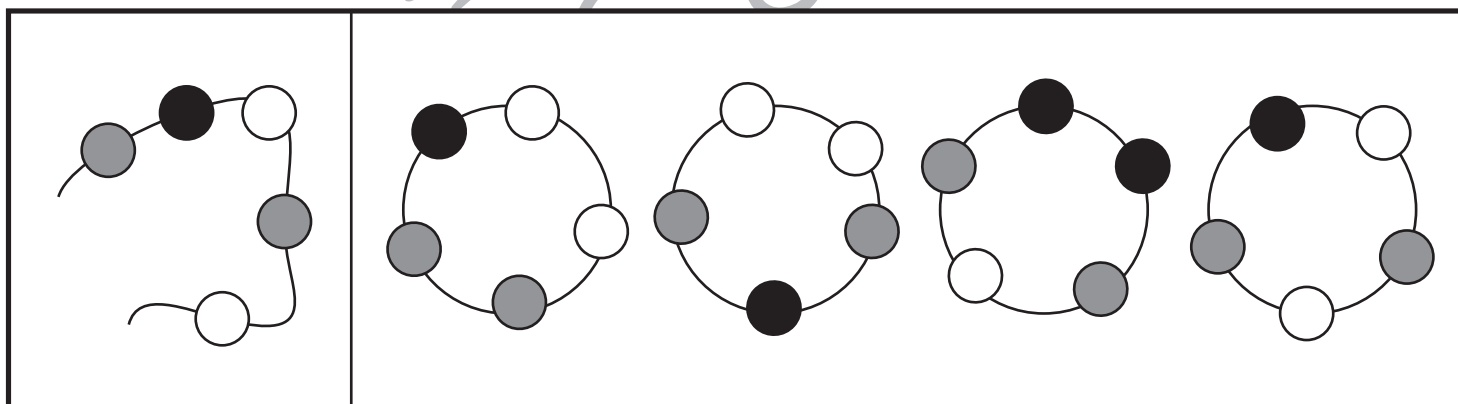
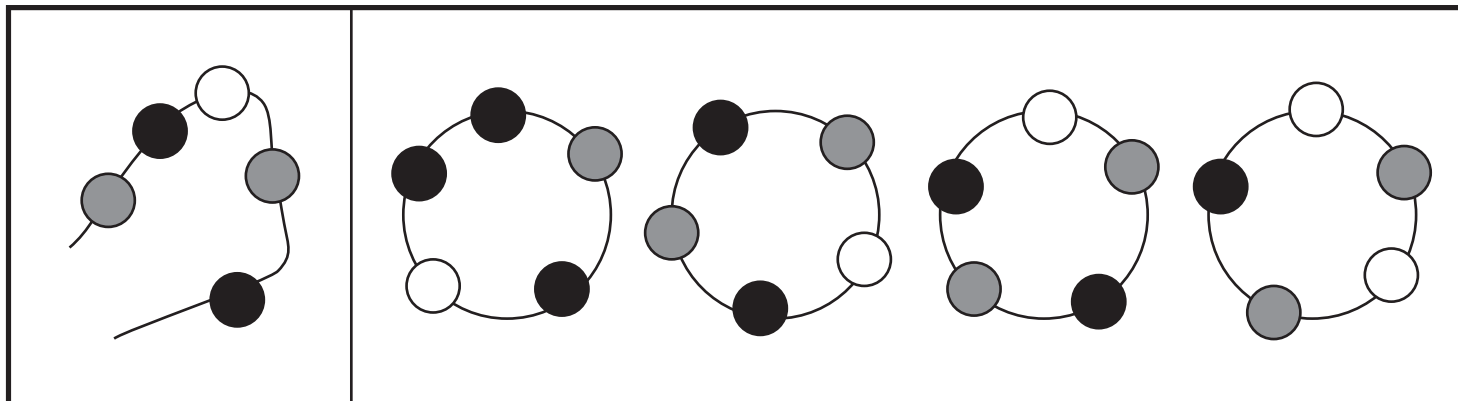


おうちで、やろう。

Study at home. 小学校受験の家庭学習教材

推理：輪つなぎ1

左の四角の中はひもにいろいろなビーズを通したものです。このひもの端と端を結びプレスレットを作ると、右の四角の中のどれになりますか。正しいものに○をつけます。プレスレットは裏返しにしてはいけません。



※1. このプリントは、しながわ・目黒こどもスクールのウェブサイトからダウンロードできます。無断複写・引用はご遠慮ください。

※2. このプリントを活用したオンライン授業のスケジュールは、しながわ・目黒こどもスクールのウェブサイトでご確認ください。



おうちで、やろう。

Study at home. 小学校受験の家庭学習教材

推理：輪つなぎ2

左の四角の中はひもにいろいろなビーズを通したものです。このひもの端と端を結びプレスレットを作ると、右の四角の中のどれになりますか。正しいものに○をつけます。プレスレットは裏返しにしてはいけません。

--	--	--	--	--

--	--	--	--	--

--	--	--	--	--

--	--	--	--	--

※1. このプリントは、しながわ・目黒こどもスクールのウェブサイトでダウンロードができます。無断複写・引用はご遠慮ください。
 ※2. このプリントを活用したオンライン授業のスケジュールは、しながわ・目黒こどもスクールのウェブサイトでご確認ください。


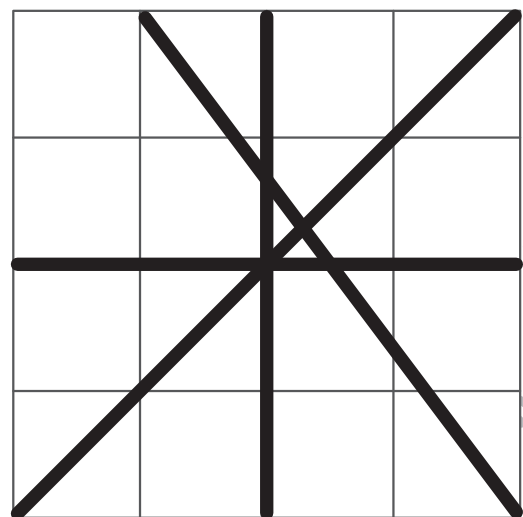

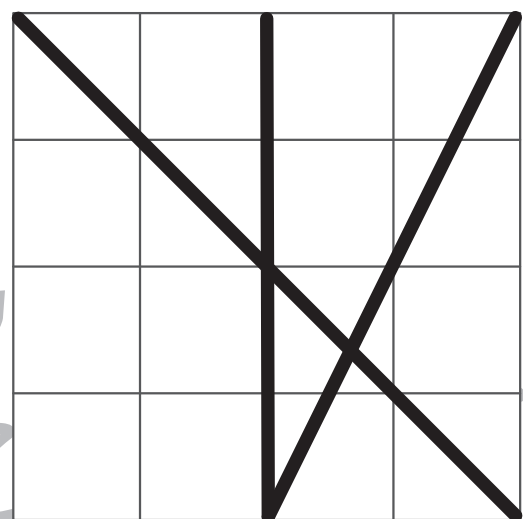

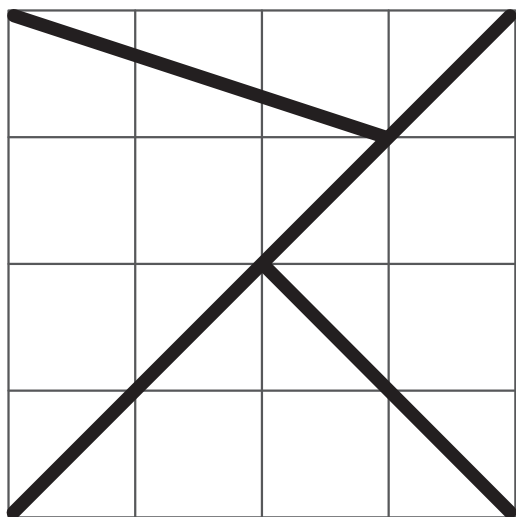


おうちで、やろう。

Study at home. 小学校受験の家庭学習教材

運筆：模写2

左がお手本です。お手本と同じ線を右の四角にかきます。スピードを意識して、きれいな線をひきましょう。
※この問題に解答はありません。



※1. このプリントは、しながわ・目黒こどもスクールのウェブサイトでダウンロードができます。無断複写・引用はご遠慮ください。
※2. このプリントを活用したオンライン授業のスケジュールは、しながわ・目黒こどもスクールのウェブサイトでご確認ください。





おうちで、やろう。

Study at home. 小学校受験の家庭学習教材

図形：点図形 2

左のお手本と同じになるように右の四角に線をかきます。 ※このプリントに解答はありません。

--	--	--	--

--	--	--	--

--	--	--	--

--	--	--	--

※1. このプリントは、しながわ・目黒こどもスクールのウェブサイトでダウンロードができます。無断複写・引用はご遠慮ください。

※2. このプリントを活用したオンライン授業のスケジュールは、しながわ・目黒こどもスクールのウェブサイトでご確認ください。



おうちで、やろう。

Study at home. 小学校受験の家庭学習教材

図形：点図形 3

左のお手本と同じになるように右の四角に線をかきます。 ※このプリントに解答はありません。

※1. このプリントは、しながわ・目黒こどもスクールのウェブサイトでダウンロードができます。無断複写・引用はご遠慮ください。
 ※2. このプリントを活用したオンライン授業のスケジュールは、しながわ・目黒こどもスクールのウェブサイトでご確認ください。