


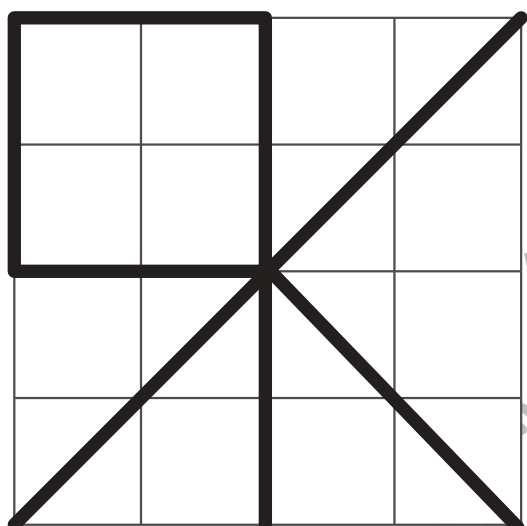

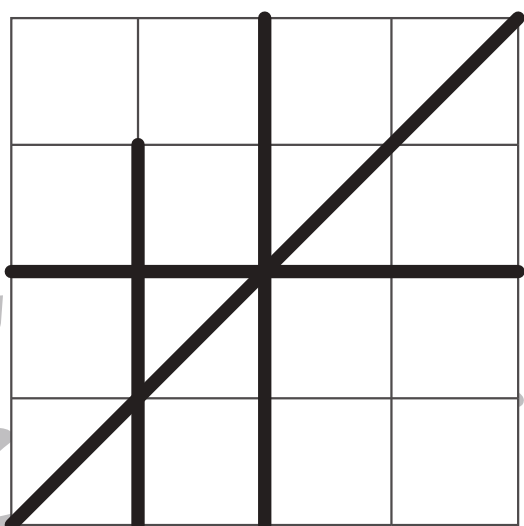




おうちで、やろう。

Study at home. 小学校受験の家庭学習教材

運筆：模写3

左がお手本です。お手本と同じ線を右の四角にかきます。
※この問題に解答はありません。



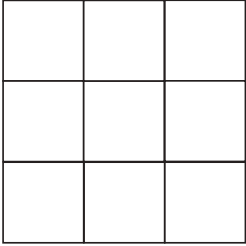
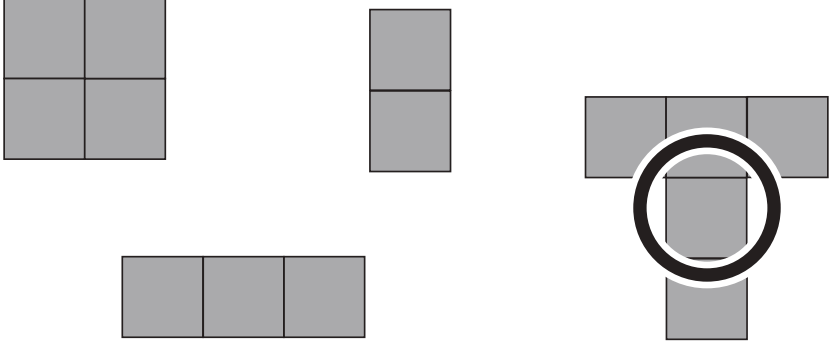


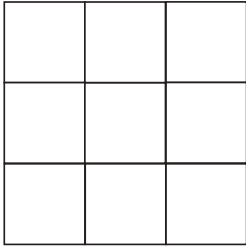
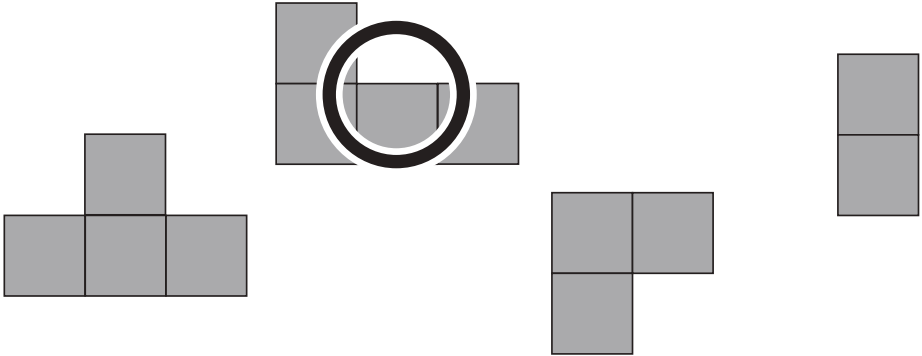
おうちで、やろう。

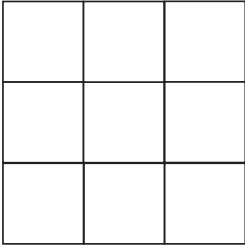
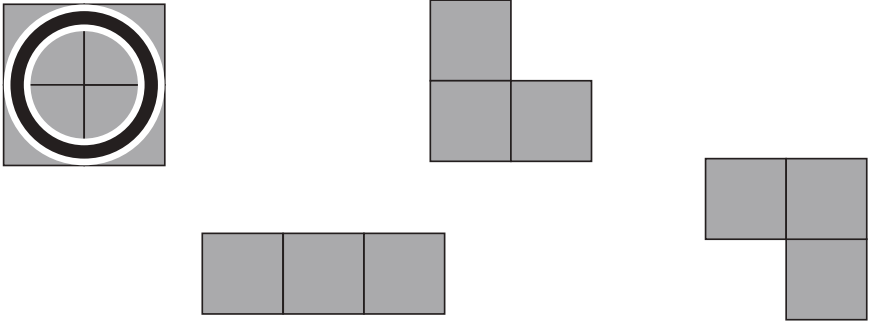
Study at home. 小学校受験の家庭学習教材

図形：構成2

右の図形を使って左の四角を作ります。使っていない図形に○をつけましょう。

	
---	--

	
---	---

	
---	--

※1. このプリントは、しながわ・目黒こどもスクールのウェブサイトでダウンロードができます。無断複写・引用はご遠慮ください。

※2. このプリントを活用したオンライン授業のスケジュールは、しながわ・目黒こどもスクールのウェブサイトでご確認ください。



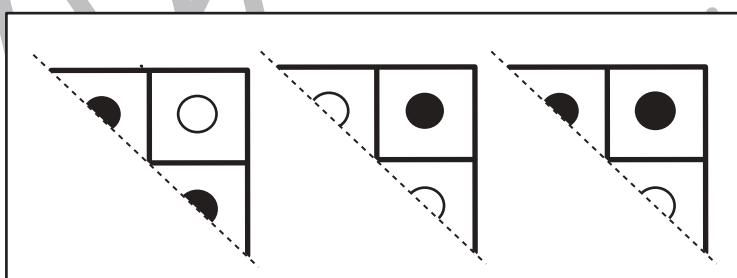
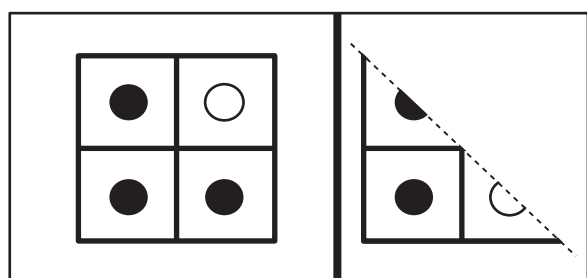
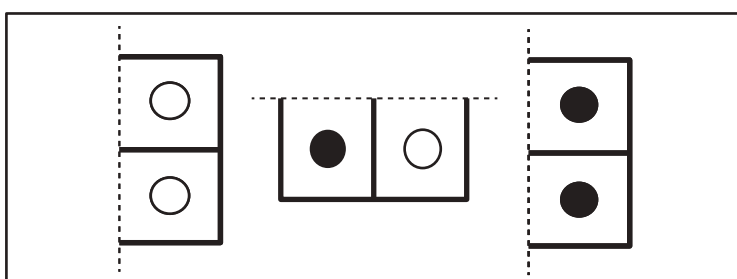
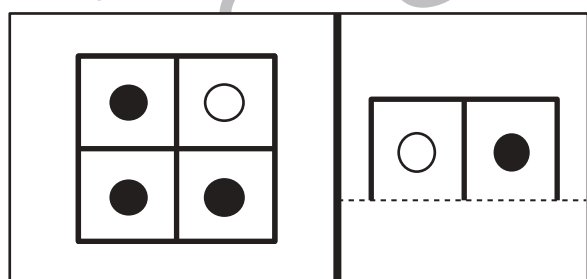

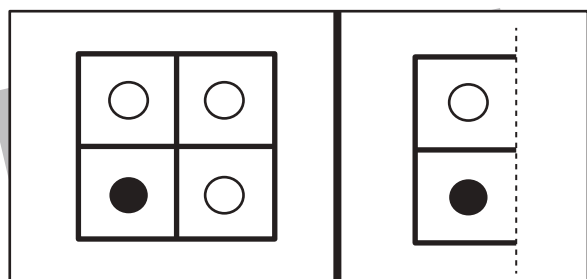
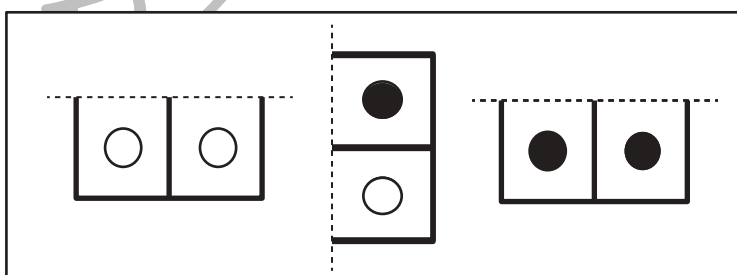
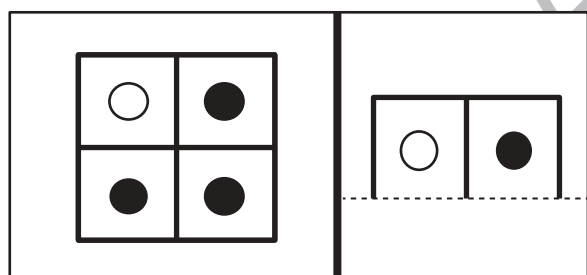
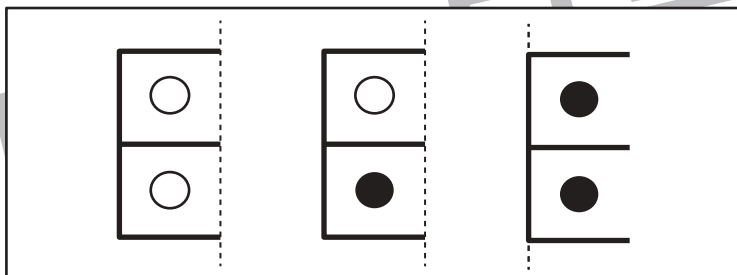
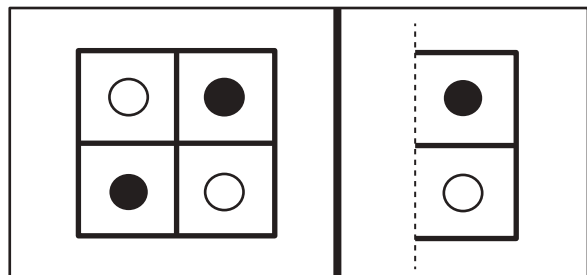
おうちで、やろう。

Study at home. 小学校受験の家庭学習教材

図形：構成3

左の四角のお手本を点線で切って、2つに分けました。

1つ目がすぐ右の形のと看、もう1つの形を長四角の中から選んで○をつけます。



※1. このプリントは、しながわ・目黒こどもスクールのウェブサイトからダウンロードできます。無断複写・引用はご遠慮ください。

※2. このプリントを活用したオンライン授業のスケジュールは、しながわ・目黒こどもスクールのウェブサイトでご確認ください。





おうちで、やろう。

Study at home. 小学校受験の家庭学習教材

図形：構成4

左の四角のお手本を点線で切って、2つに分けました。

1つ目がすぐ右の形のと看、もう1つの形を長四角の中から選んで○をつけます。

The exercise consists of 10 rows. Each row shows a 2x2 grid of shapes on the left and a 1x2 grid of shapes on the right. The shapes are circles, some white and some black. Dotted lines indicate where to cut the 2x2 grid. The right-hand boxes show the two resulting pieces, with one piece having a white circle to be placed in the empty space of the 1x2 grid.

※1. このプリントは、しながわ・目黒こどもスクールのウェブサイトダウンロードできます。無断複写・引用はご遠慮ください。

※2. このプリントを活用したオンライン授業のスケジュールは、しながわ・目黒こどもスクールのウェブサイトでご確認ください。

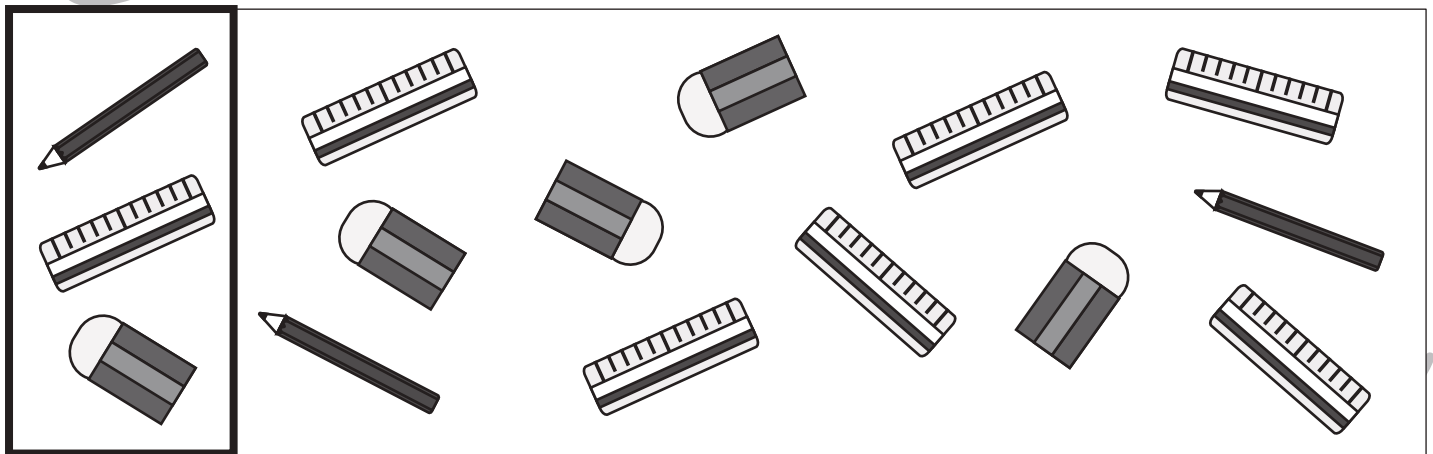

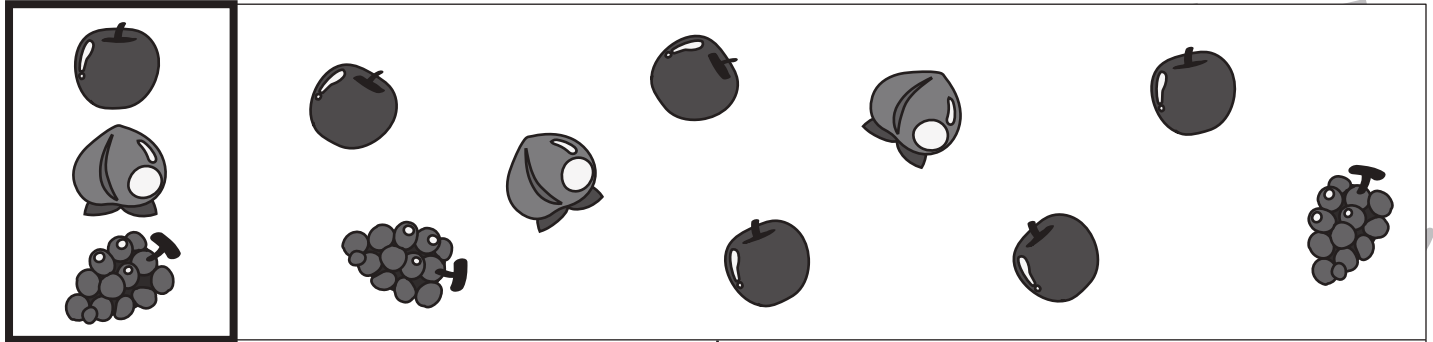


おうちで、やろう。

Study at home. 小学校受験の家庭学習教材

数量：足りない数1

太い四角の中が1人分のセットです。右の四角の中のをセットにしたとき、下の絵のものが足りません。それぞれいくつ足りないのかを考えてその数だけ〇をかきます。



※1. このプリントは、しながわ・目黒こどもスクールのウェブサイトでダウンロードができます。無断複写・引用はご遠慮ください。
 ※2. このプリントを活用したオンライン授業のスケジュールは、しながわ・目黒こどもスクールのウェブサイトでご確認ください。


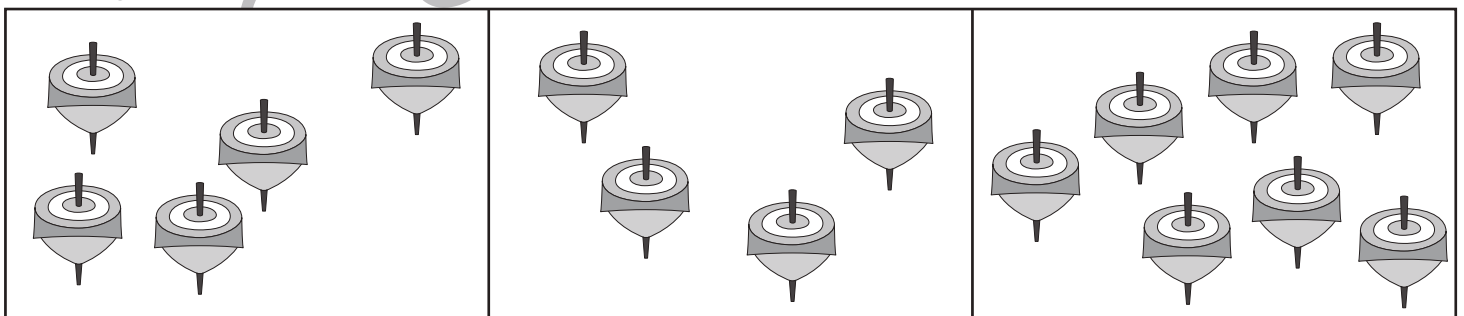


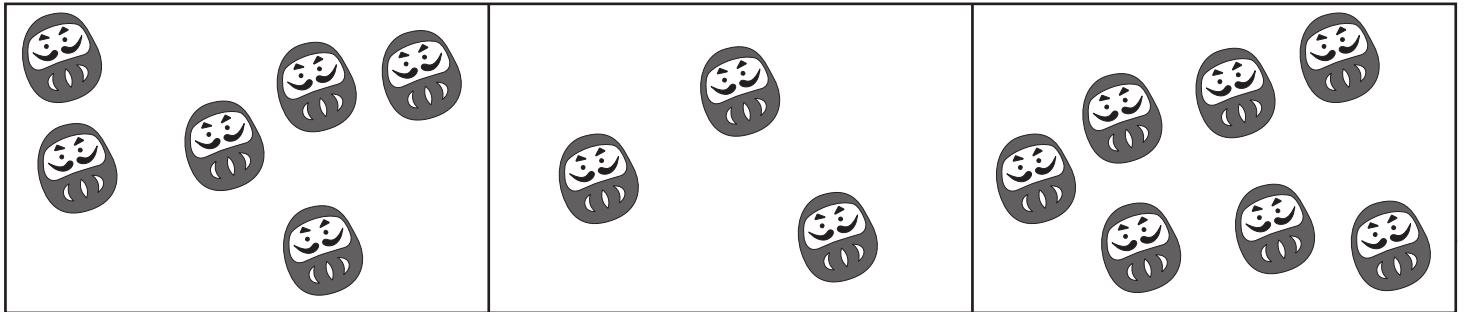


おうちで、やろう。 新年長児版

Study at home. 小学校受験の家庭学習教材

数量：多少2

横に並んだ三つの四角の中で、絵の数が一番目に多いものに○、二番目に多いものに△をつけます。



※1. このプリントは、しながわ・目黒こどもスクールのウェブサイトからダウンロードできます。無断複写・引用はご遠慮ください。
※2. このプリントを活用したオンライン授業のスケジュールは、しながわ・目黒こどもスクールのウェブサイトでご確認ください。





おうちで、やろう。

Study at home. 小学校受験の家庭学習教材

数量：対応1

左の花瓶に右の四角の中の花を同じ数になるように分けると1つの花瓶に入れる花は何本になりますか。
その数だけ〇を下の四角に書きましょう。

	 <hr/>
--	---------------

	 <hr/>
--	---------------

	 <hr/>
--	---------------

※1. このプリントは、しながわ・目黒こどもスクールのウェブサイトでダウンロードができます。無断複写・引用はご遠慮ください。
※2. このプリントを活用したオンライン授業のスケジュールは、しながわ・目黒こどもスクールのウェブサイトでご確認ください。



おうちで、やろう。

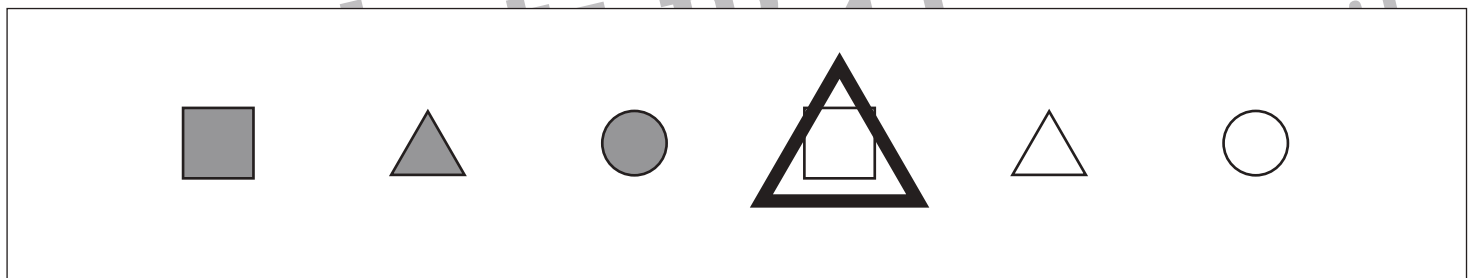

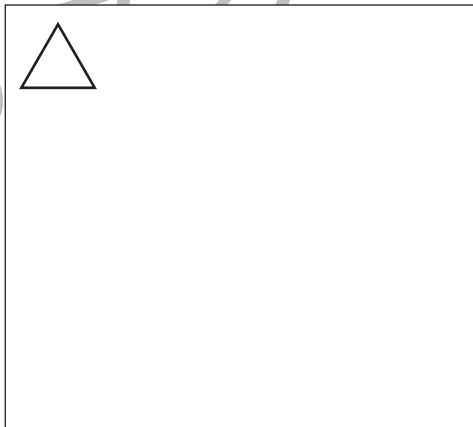


Study at home. 小学校受験の家庭学習教材

数量：複合1

一番上の太い四角の中に色々な形があります。

(クマ) それぞれの四角の中にある形の数をかぞえて、その数だけ○をかきます。

(ヒツジ) それぞれの形の中で数が一番多いものに○、一番少ないものに△をつけます。



※1. このプリントは、しながわ・目黒こどもスクールのウェブサイトでダウンロードができます。無断複写・引用はご遠慮ください。

※2. このプリントを活用したオンライン授業のスケジュールは、しながわ・目黒こどもスクールのウェブサイトでご確認ください。













おうちで、やろう。

Study at home. 小学校受験の家庭学習教材

運筆：濃淡1

左のお手本と同じ濃さになるように右の形を塗ります。この問題は鉛筆でやりましょう。
※この問題に解答はありません。

※1. このプリントは、しながわ・目黒こどもスクールのウェブサイトからダウンロードできます。無断複写・引用はご遠慮ください。

※2. このプリントを活用したオンライン授業のスケジュールは、しながわ・目黒こどもスクールのウェブサイトでご確認ください。



おうちで、やろう。

Study at home. 小学校受験の家庭学習教材

運筆：濃淡2

左のお手本と同じ濃さになるように右の形を塗ります。この問題は鉛筆でやりましょう。
※この問題に解答はありません。

※1. このプリントは、しながわ・目黒こどもスクールのウェブサイトからダウンロードができます。無断複写・引用はご遠慮ください。

※2. このプリントを活用したオンライン授業のスケジュールは、しながわ・目黒こどもスクールのウェブサイトでご確認ください。