

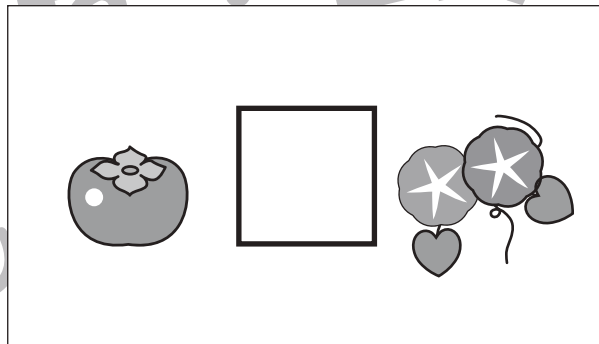






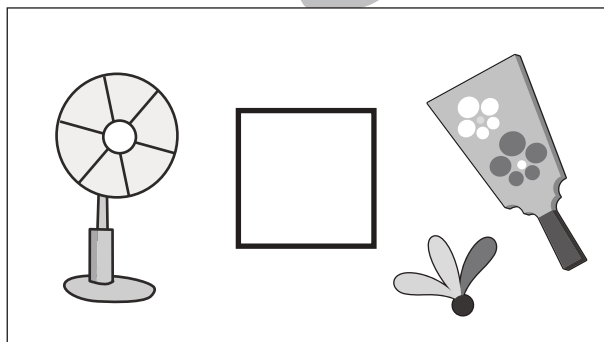




おうちで、やろう。

Study at home. 小学校受験の家庭学習教材

常識：季節4

四角の中の2つの絵の季節が同じときは○を、違うときは×を真ん中の太い四角の中にかきます。



※1. このプリントは、しながわ・目黒こどもスクールのウェブサイトからダウンロードできます。無断複写・引用はご遠慮ください。
※2. このプリントを活用したオンライン授業のスケジュールは、しながわ・目黒こどもスクールのウェブサイトでご確認ください。





おうちで、やろう。

Study at home. 小学校受験の家庭学習教材

図形：移動2

左の四角がお手本です。このお手本の○を矢印の方向へ移動させた場所を考えて右のマスに○をかきます。
矢印は上から順番にみていきます。

→

○		

↑

←

	○	

↓

	○	

→

→

○		

↑

	○	

↓

→

○		

←

		○

↑

↑

	○	

→

↓

	○	

→

←

○		

※1. このプリントは、しながわ・目黒こどもスクールのウェブサイトダウンロードができます。無断複写・引用はご遠慮ください。
※2. このプリントを活用したオンライン授業のスケジュールは、しながわ・目黒こどもスクールのウェブサイトでご確認ください。



おうちで、やろう。

Study at home. 小学校受験の家庭学習教材

図形：移動3

左の四角がお手本です。このお手本の○を矢印の方向へ移動させた場所を考えて右のマスに○をかきます。
矢印は上から順番にみていきます。

↓	○						
→							
→							

↗							
↑							
↓	○						

↑							
←							
↓		○					

→							
↘							
←	○						

↑							
↓							
→		○					

↓			○				
↗							
↓							

→	○						
→							
↓							

↑							
↑							
↘							
	○						

←							
↓							
→		○					

↘	○						
↘							
←							

※1. このプリントは、しながわ・目黒こどもスクールのウェブサイトからダウンロードできます。無断複写・引用はご遠慮ください。
 ※2. このプリントを活用したオンライン授業のスケジュールは、しながわ・目黒こどもスクールのウェブサイトでご確認ください。



おうちで、やろう。

Study at home. 小学校受験の家庭学習教材

推理：パズル1

パズルのピースをすべて組み合わせたときの形が一番左にあります。黒でかくれた場所にはどのピースがはまるのかを考えて、答えに○をつけます。

※ 1. このプリントは、しながわ・目黒こどもスクールのウェブサイトからダウンロードができます。無断複写・引用はご遠慮ください。
 ※ 2. このプリントを活用したオンライン授業のスケジュールは、しながわ・目黒こどもスクールのウェブサイトでご確認ください。



おうちで、やろう。

Study at home. 小学校受験の家庭学習教材

推理：パズル 2

パズルのピースをすべて組み合わせたときの形が一番左にあります。灰色でかかれた場所にはどのピースがはまるのかを考えて、答えに○をつけます。

※ 1. このプリントは、しながわ・目黒こどもスクールのウェブサイトからダウンロードができます。無断複写・引用はご遠慮ください。
 ※ 2. このプリントを活用したオンライン授業のスケジュールは、しながわ・目黒こどもスクールのウェブサイトでご確認ください。



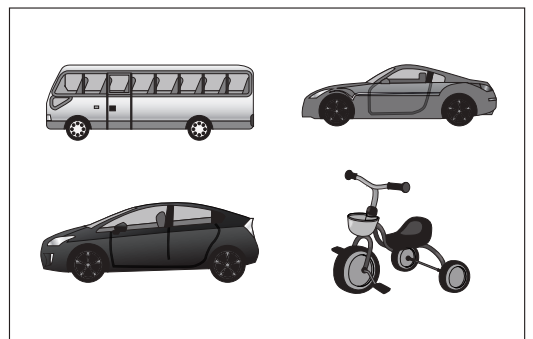










おうちで、やろう。

Study at home. 小学校受験の家庭学習教材

数量：タイヤの数3

左と右の四角の中にあるタイヤの数を数えます。どちらも数が同じときは○、違うときは×を真ん中の四角の中にかきましょう。



※1. このプリントは、しながわ・目黒こどもスクールのウェブサイトでダウンロードができます。無断複写・引用はご遠慮ください。
※2. このプリントを活用したオンライン授業のスケジュールは、しながわ・目黒こどもスクールのウェブサイトでご確認ください。










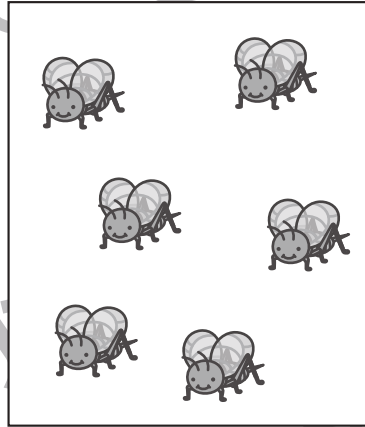






おうちで、やろう。

Study at home. 小学校受験の家庭学習教材

数量：加減3

左の四角の数の生き物が、右の四角の数になりました。生き物は何匹減りましたか。減った数だけ、右の太い四角に○を描きます



※1. このプリントは、しながわ・目黒こどもスクールのウェブサイトでダウンロードができます。無断複写・引用はご遠慮ください。
※2. このプリントを活用したオンライン授業のスケジュールは、しながわ・目黒こどもスクールのウェブサイトでご確認ください。





おうちで、やろう。

Study at home. 小学校受験の家庭学習教材

数量：広さ3

左と右の四角の中で灰色の部分が狭いのはどちらですか。狭い方に○をつけます。

※ 1. このプリントは、しながわ・目黒こどもスクールのウェブサイトでダウンロードができます。無断複写・引用はご遠慮ください。
 ※ 2. このプリントを活用したオンライン授業のスケジュールは、しながわ・目黒こどもスクールのウェブサイトでご確認ください。



おうちで、やろう。

Study at home. 小学校受験の家庭学習教材

数量：広さ4

左と右の四角の中で灰色の部分が狭いのはどちらですか。狭い方に○をつけます。どちらも同じときは両方に△をつけます。

※1. このプリントは、しながわ・目黒こどもスクールのウェブサイトでダウンロードができます。無断複写・引用はご遠慮ください。
 ※2. このプリントを活用したオンライン授業のスケジュールは、しながわ・目黒こどもスクールのウェブサイトでご確認ください。



おうちで、よろう。

Study at home. 小学校受験の家庭学習教材

図形：点図形9

左のお手本と同じになるように右の四角に線をかきます。 ※このプリントに解答はありません。

※1. このプリントは、しながわ・目黒こどもスクールのウェブサイトでダウンロードができます。無断複写・引用はご遠慮ください。

※2. このプリントを活用したオンライン授業のスケジュールは、しながわ・目黒こどもスクールのウェブサイトでご確認ください。