




# おうちで、やろう。

Study at home. 小学校受験の家庭学習教材

常識：生活1

左の四角の中からできる食べ物を右の中から見つけて線で結びます。



ながわ  
どもス  
わ・目  
スクー  
ながわ  
どもス

※1. このプリントは、しながわ・目黒こどもスクールのウェブサイトからダウンロードできます。無断複写・引用はご遠慮ください。  
※2. このプリントを活用したオンライン授業のスケジュールは、しながわ・目黒こどもスクールのウェブサイトでご確認ください。

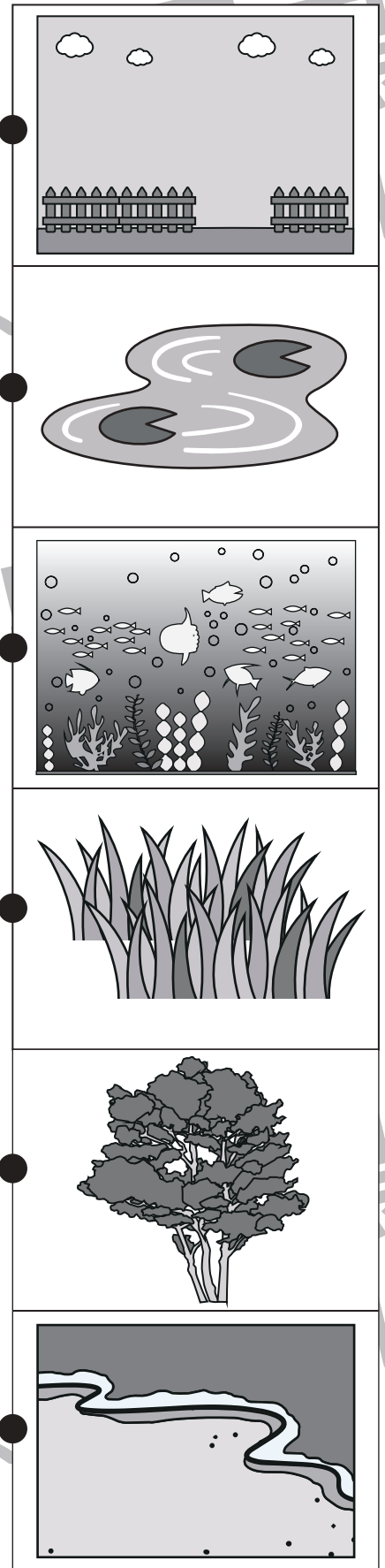



# おうちで、やろう。

Study at home. 小学校受験の家庭学習教材

## 常識：生物 1

左側の生物が住んでいる場所を線でつなぎます。



ながわ  
どもス

わ・目  
スクー

ながわ  
どもス

※1. このプリントは、しながわ・目黒こどもスクールのウェブサイトでダウンロードができます。無断複写・引用はご遠慮ください。  
 ※2. このプリントを活用したオンライン授業のスケジュールは、しながわ・目黒こどもスクールのウェブサイトでご確認ください。












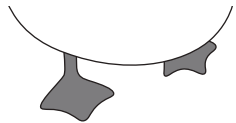


# おうちで、やろう。

Study at home. 小学校受験の家庭学習教材

## 常識：生物 2

左の四角と右の四角で同じ生き物同士を見つけて線で結びます。

※1. このプリントは、しながわ・目黒こどもスクールのウェブサイトでダウンロードができます。無断複写・引用はご遠慮ください。

※2. このプリントを活用したオンライン授業のスケジュールは、しながわ・目黒こどもスクールのウェブサイトでご確認ください。

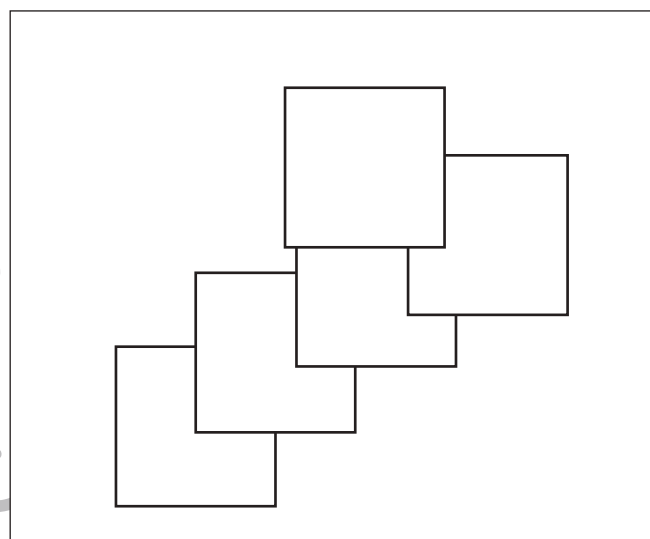
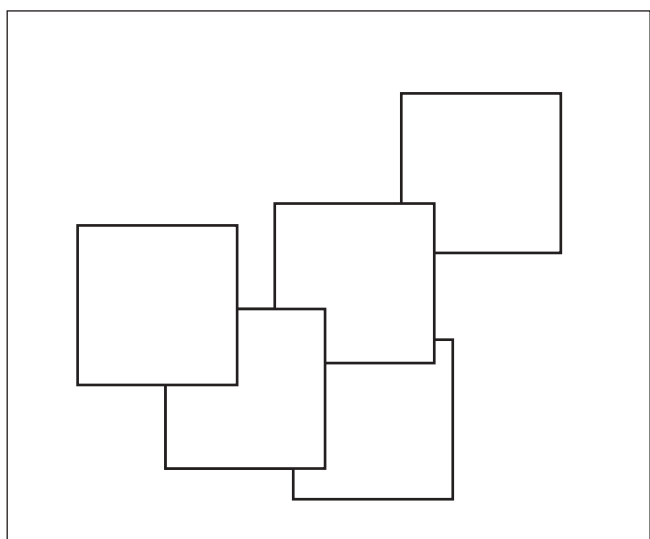
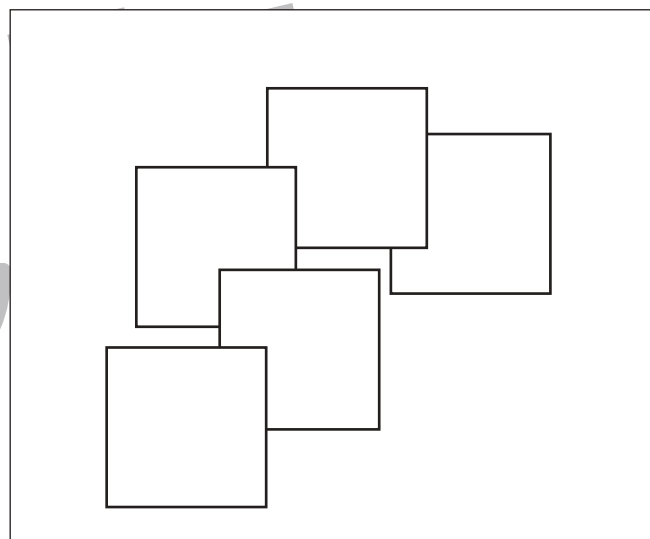
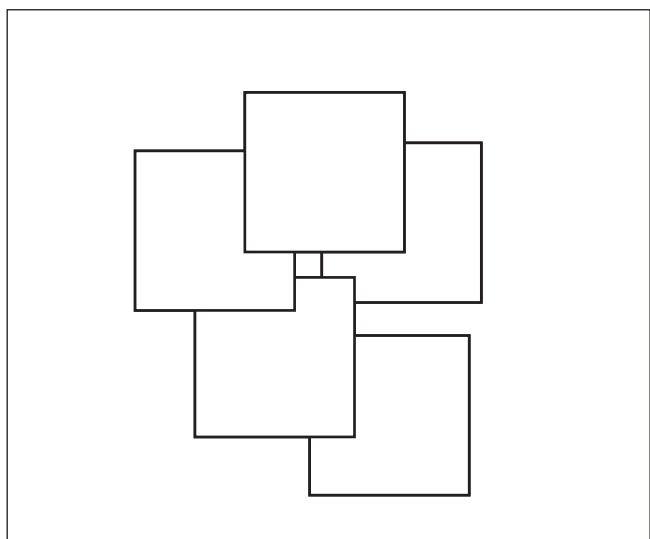
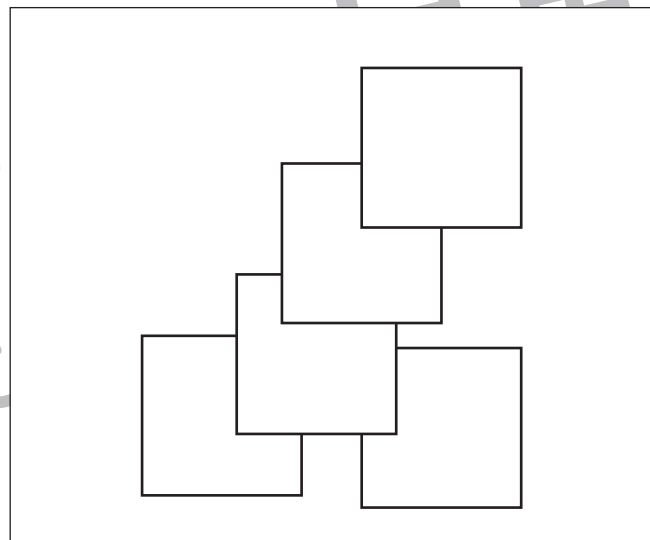
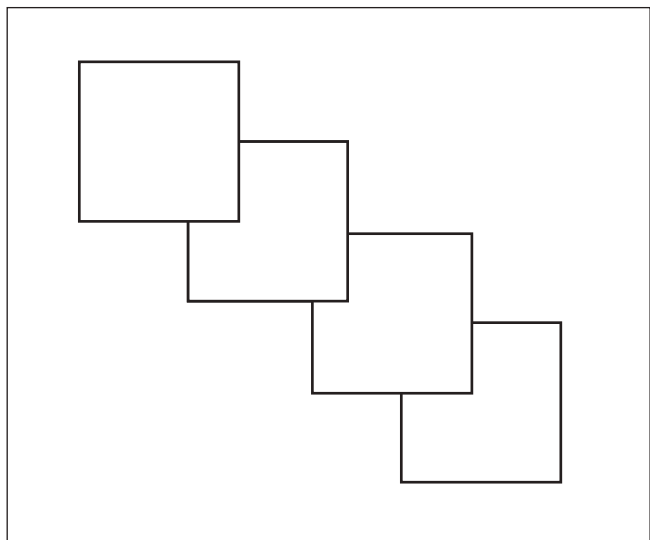


# おうちで、やろう。

Study at home. 小学校受験の家庭学習教材

図形：重なり5

四角の中には四角い紙が重なってあります。上から3番目に重なっている紙を塗ります。



※1. このプリントは、しながわ・目黒こどもスクールのウェブサイトでダウンロードができます。無断複写・引用はご遠慮ください。  
※2. このプリントを活用したオンライン授業のスケジュールは、しながわ・目黒こどもスクールのウェブサイトでご確認ください。





# おうちで、やろう。

Study at home. 小学校受験の家庭学習教材

図形：配列1

上のお手本と同じ並び方の場所を見つけて、お手本と同じ形で囲みます。



Apple	Grapes	Banana	Apple	Banana	Grapes
Grapes	Apple	Banana	Grapes	Apple	Banana
Banana	Grapes	Apple	Grapes	Banana	Apple
Apple	Apple	Grapes	Banana	Apple	Grapes
Grapes	Apple	Banana	Apple	Banana	Grapes
Apple	Grapes	Banana	Banana	Grapes	Apple
Apple	Banana	Grapes	Apple	Grapes	Banana
Grapes	Apple	Apple	Grapes	Banana	Apple
Banana	Apple	Grapes	Banana	Apple	Grapes
Grapes	Banana	Apple	Grapes	Banana	Apple
Apple	Banana	Grapes	Apple	Grapes	Apple
Banana	Grapes	Apple	Apple	Grapes	Banana

※1. このプリントは、しながわ・目黒こどもスクールのウェブサイトでダウンロードができます。無断複写・引用はご遠慮ください。

※2. このプリントを活用したオンライン授業のスケジュールは、しながわ・目黒こどもスクールのウェブサイトでご確認ください。



# おうちで、やろう。

Study at home. 小学校受験の家庭学習教材

## 推理：条件迷路1

リスからウサギまでドングリ→ニンジン→ブドウの順で進み線をかきます。

縦と横には進めますが斜めは進めません。

Condition Maze 1 (Top): A 4x4 grid with a squirrel on the left and a rabbit on the right. The path starts at the squirrel and ends at the rabbit.


Condition Maze 1 (Bottom): A 4x4 grid with a squirrel on the left and a rabbit on the right. The path starts at the squirrel and ends at the rabbit.


※1. このプリントは、しながわ・目黒こどもスクールのウェブサイトでダウンロードができます。無断複写・引用はご遠慮ください。

※2. このプリントを活用したオンライン授業のスケジュールは、しながわ・目黒こどもスクールのウェブサイトでご確認ください。







# おうちで、やろう。

Study at home. 小学校受験の家庭学習教材

## 推理：条件迷路2

リスからウサギまでドングリ→ニンジン→ブドウの順で進み線をかきます。

縦と横には進めますが斜めは進めません。



※1. このプリントは、しながわ・目黒こどもスクールのウェブサイトでダウンロードができます。無断複写・引用はご遠慮ください。

※2. このプリントを活用したオンライン授業のスケジュールは、しながわ・目黒こどもスクールのウェブサイトでご確認ください。



# おうちで、やろう。

Study at home. 小学校受験の家庭学習教材

数量：広さ5

左と右の四角の中で灰色の部分が広いのはどちらですか。広い方に○をつけます。


※1. このプリントは、しながわ・目黒こどもスクールのウェブサイトでダウンロードができます。無断複写・引用はご遠慮ください。  
 ※2. このプリントを活用したオンライン授業のスケジュールは、しながわ・目黒こどもスクールのウェブサイトでご確認ください。





# おうちで、やろう。

Study at home. 小学校受験の家庭学習教材

## 数量：足りない数2

太い四角の中がお手本です。右の四角の中の絵をお手本のように組み合わせた時、下の四角の中の絵はいくつ足りないですか。その数だけ下の四角の絵の横に○をかきます。




※1. このプリントは、しながわ・目黒こどもスクールのウェブサイトでダウンロードができます。無断複写・引用はご遠慮ください。

※2. このプリントを活用したオンライン授業のスケジュールは、しながわ・目黒こどもスクールのウェブサイトでご確認ください。





# おうちで、やろう。

Study at home. 小学校受験の家庭学習教材

数量：計数 10

四角の中にある絵を数えます。それぞれの数だけ〇を下の四角に書きましょう。関係ない絵も混じっています。



※1. このプリントは、しながわ・目黒こどもスクールのウェブサイトでダウンロードができます。無断複写・引用はご遠慮ください。  
※2. このプリントを活用したオンライン授業のスケジュールは、しながわ・目黒こどもスクールのウェブサイトでご確認ください。

