


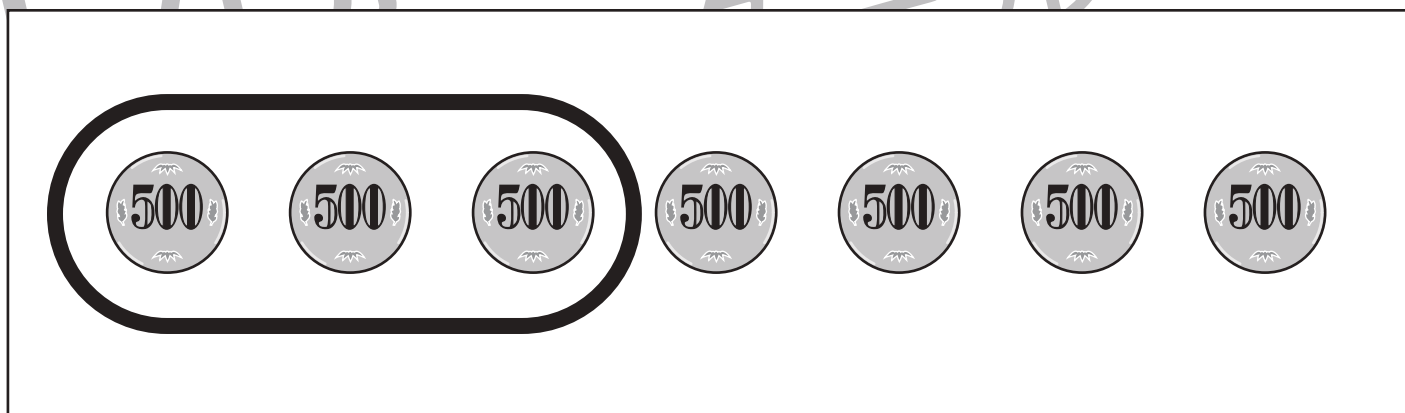




おうちで、やろう。

Study at home. 小学校受験の家庭学習教材

記憶：お話の記憶 1

お話を聞いて問題に答えましょう。



※1. このプリントは、しながわ・目黒こどもスクールのウェブサイトからダウンロードできます。無断複写・引用はご遠慮ください。

※2. このプリントを活用したオンライン授業のスケジュールは、しながわ・目黒こどもスクールのウェブサイトでご確認ください。








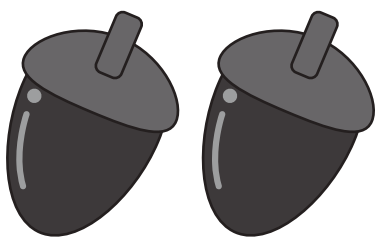


おうちで、やろう。

Study at home. 小学校受験の家庭学習教材

言語：音の数3

上の絵の音の数だけ下のマスに○をつけます。絵が2つや3つあるときは、その絵の音をすべて合わせた数の○をかきましょう。

目黒

<p>①</p>  <table border="1" data-bbox="251 734 657 941"> <tr><td>○</td><td>○</td><td>○</td><td>○</td></tr> <tr><td>○</td><td>○</td><td></td><td></td></tr> </table>	○	○	○	○	○	○			<p>②</p>  <table border="1" data-bbox="950 734 1356 941"> <tr><td>○</td><td>○</td><td>○</td><td>○</td></tr> <tr><td>○</td><td>○</td><td></td><td></td></tr> </table>	○	○	○	○	○	○		
○	○	○	○														
○	○																
○	○	○	○														
○	○																
<p>③</p>  <table border="1" data-bbox="251 1297 657 1503"> <tr><td>○</td><td>○</td><td>○</td><td>○</td></tr> <tr><td></td><td></td><td></td><td></td></tr> </table>	○	○	○	○					<p>④</p>  <table border="1" data-bbox="950 1297 1356 1503"> <tr><td>○</td><td>○</td><td>○</td><td>○</td></tr> <tr><td>○</td><td>○</td><td>○</td><td>○</td></tr> </table>	○	○	○	○	○	○	○	○
○	○	○	○														
○	○	○	○														
○	○	○	○														
<p>⑤</p>  <table border="1" data-bbox="251 1871 657 2077"> <tr><td>○</td><td>○</td><td>○</td><td>○</td></tr> <tr><td></td><td></td><td></td><td></td></tr> </table>	○	○	○	○					<p>⑥</p>  <table border="1" data-bbox="950 1871 1356 2077"> <tr><td>○</td><td>○</td><td>○</td><td>○</td></tr> <tr><td>○</td><td>○</td><td>○</td><td>○</td></tr> </table>	○	○	○	○	○	○	○	○
○	○	○	○														
○	○	○	○														
○	○	○	○														

※1. このプリントは、しながわ・目黒こどもスクールのウェブサイトからダウンロードできます。無断複写・引用はご遠慮ください。

※2. このプリントを活用したオンライン授業のスケジュールは、しながわ・目黒こどもスクールのウェブサイトでご確認ください。

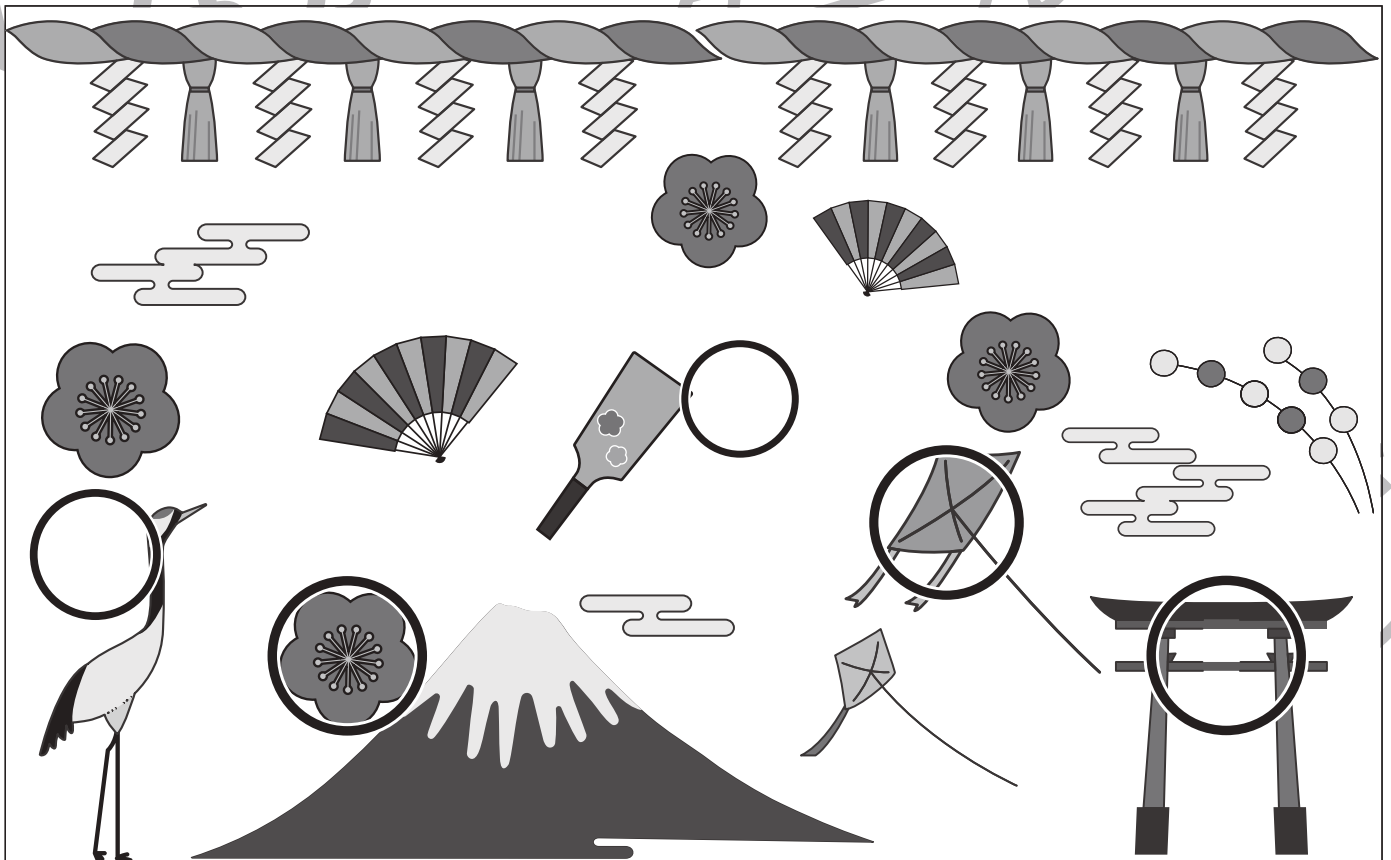
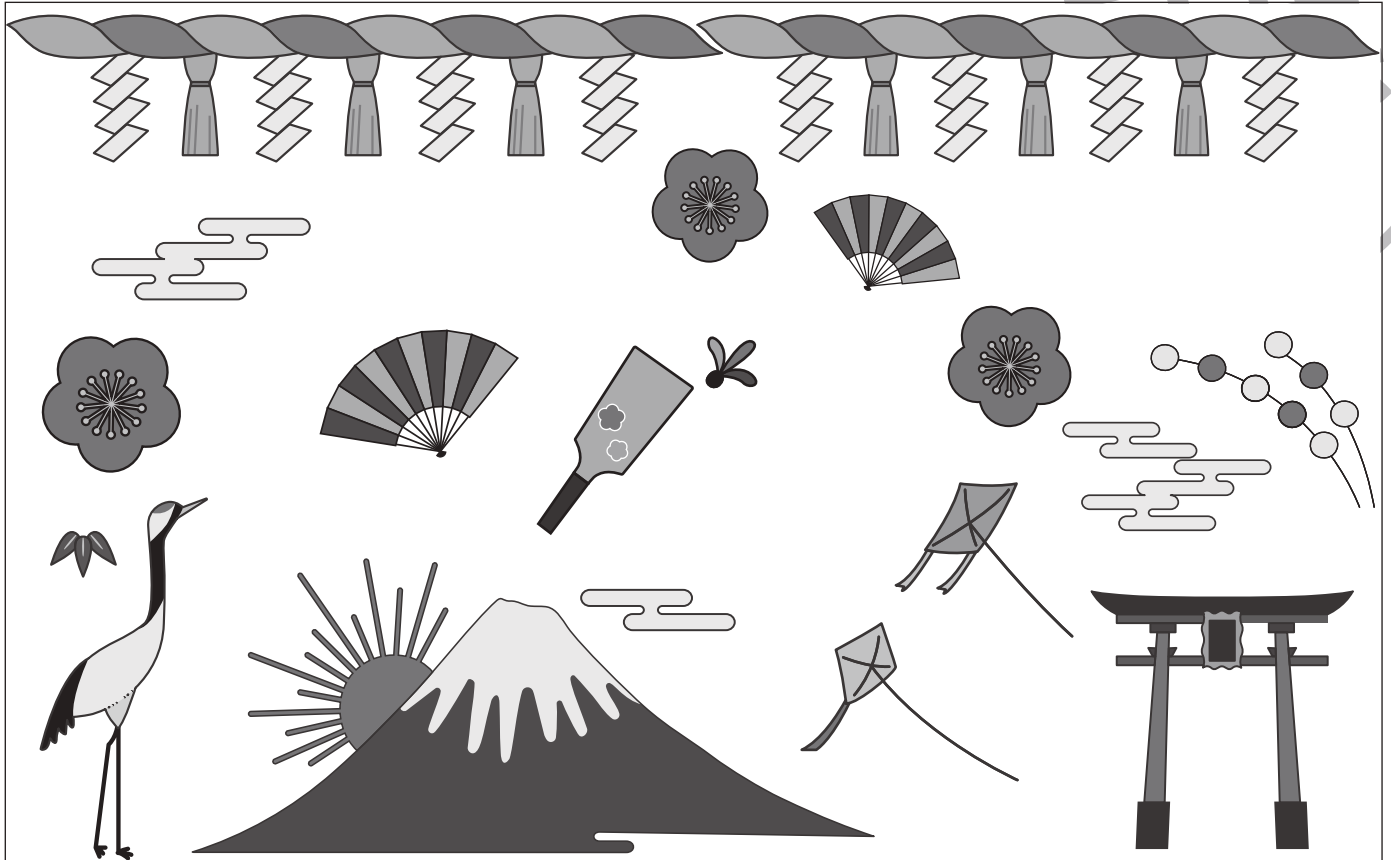


おうちで、やろう。

Study at home. 小学校受験の家庭学習教材

まちがいさがし4

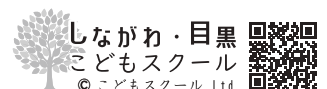
上下の絵を見比べて、変わっているところを5つ探します。見つけたら、下の絵の変わっている部分に丸をつけます。



ICT 教育の小学校受験

※1. このプリントは、しながわ・目黒こどもスクールのウェブサイトでダウンロードができます。無断複写・引用はご遠慮ください。

※2. このプリントを活用したオンライン授業のスケジュールは、しながわ・目黒こどもスクールのウェブサイトでご確認ください。



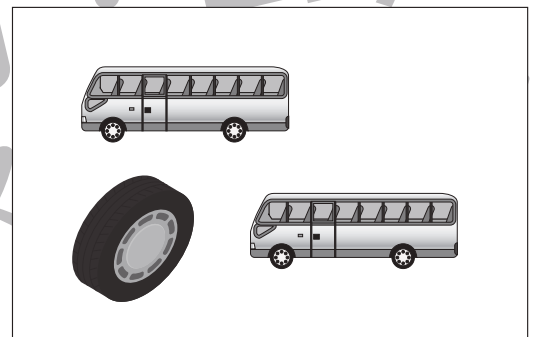
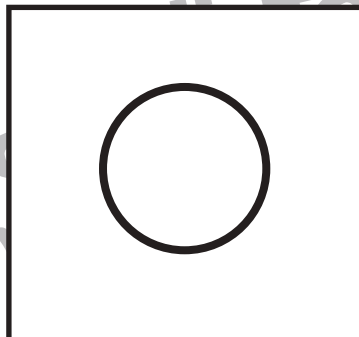





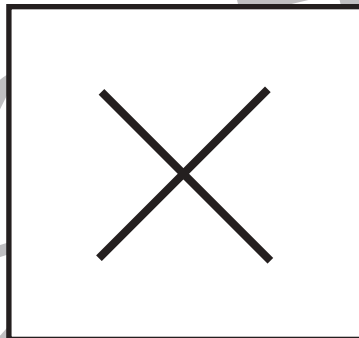

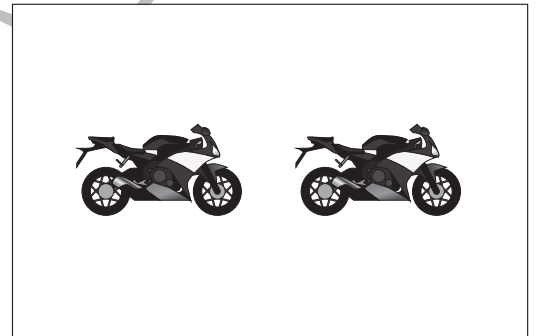
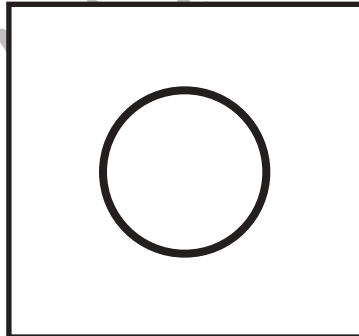






おうちで、やろう。

Study at home. 小学校受験の家庭学習教材

数量：タイヤの数 1

左と右の四角の中にあるタイヤの数を数えます。どちらも数が同じときは○、違うときは×を真ん中の四角の中にかきましょう。



※1. このプリントは、しながわ・目黒こどもスクールのウェブサイトでダウンロードができます。無断複写・引用はご遠慮ください。
※2. このプリントを活用したオンライン授業のスケジュールは、しながわ・目黒こどもスクールのウェブサイトでご確認ください。







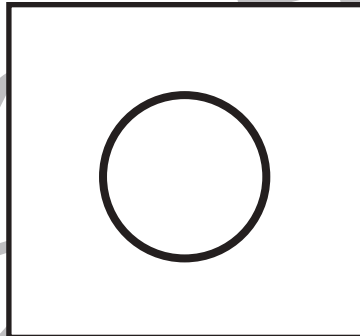

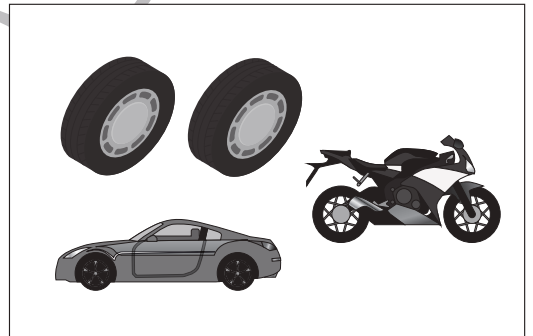
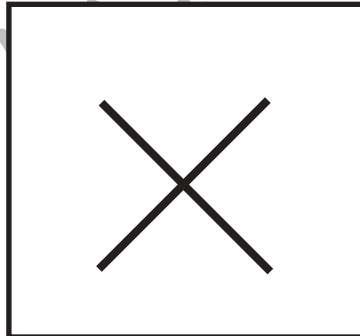

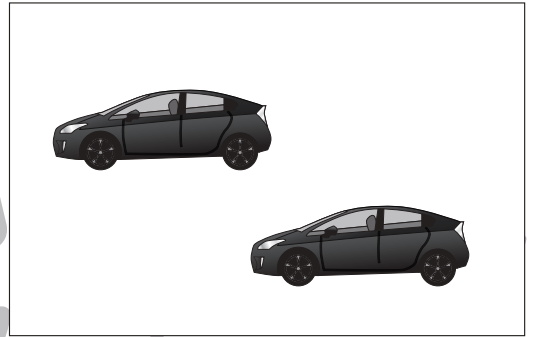




おうちで、やろう。

Study at home. 小学校受験の家庭学習教材

数量：タイヤの数2

左と右の四角の中にあるタイヤの数を数えます。どちらも数が同じときは○、違うときは×を真ん中の四角の中にかきましょう。



※1. このプリントは、しながわ・目黒こどもスクールのウェブサイトでダウンロードができます。無断複写・引用はご遠慮ください。
※2. このプリントを活用したオンライン授業のスケジュールは、しながわ・目黒こどもスクールのウェブサイトでご確認ください。




おうちで、やろう。

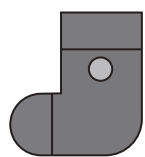
Study at home. 小学校受験の家庭学習教材

数量：計数9


四角の中にある絵を数えます。それぞれの数だけ〇を下の四角に書きましょう。



○ × 9



○ × 6



○ × 8



○ × 5

※1. このプリントは、しながわ・目黒こどもスクールのウェブサイトでダウンロードができます。無断複写・引用はご遠慮ください。

※2. このプリントを活用したオンライン授業のスケジュールは、しながわ・目黒こどもスクールのウェブサイトでご確認ください。



おうちで、やろう。

Study at home. 小学校受験の家庭学習教材

数量：虫食い1

3枚のトランプの模様を数合わせると10になります。ところが、1枚だけ裏返しになっていて何の模様なのかがわかりません。他の2枚のカードをヒントに裏返しになっているトランプを見つけて、下の四角のカードに記号をつけましょう。

4♣ 5♣ A♣ → ○

2♣ 3♣ 5♣ → △

A♣ ○ 2♣ 3♣ 4♣ 5♣ △ 6♣ 7♣ 8♣ 9♣

A♥ 2♥ 7♥ → ○

3♥ A♥ 6♥ → △

A♥ 2♥ 3♥ 4♥ 5♥ 6♥ △ 7♥ ○ 8♥ 9♥

5♠ A♠ 4♠ → ○

2♠ 6♠ 2♠ → △

A♠ △ 2♠ 3♠ 4♠ ○ 5♠ 6♠ 7♠ 8♠ 9♠

3♦ 4♦ 3♦ → ○

4♦ 2♦ 2♦ → △

A♦ 2♦ 3♦ ○ 4♦ △ 5♦ 6♦ 7♦ 8♦ 9♦

※1. このプリントは、しながわ・目黒こどもスクールのウェブサイトでダウンロードができます。無断複写・引用はご遠慮ください。
 ※2. このプリントを活用したオンライン授業のスケジュールは、しながわ・目黒こどもスクールのウェブサイトでご確認ください。



おうちで、やろう。

Study at home. 小学校受験の家庭学習教材

数量：虫食い2

3枚のトランプの模様を数合わせると10になります。ところが、2枚裏返しになっていてどちらも何の模様かがわかりませんが、3枚ともそれぞれ違う模様のカードであるようです。模様が見えているカードをヒントに裏返しになっているトランプの組み合わせを考えて、下の四角のカードに記号をつけましょう。

7♣ A♣ 2♣ → ○

A♣ 2♣ 3♣ 4♣ 5♣ 6♣ 7♣ 8♣ 9♣

6♥ A♥ 3♥ → ○

A♥ 2♥ 3♥ 4♥ 5♥ 6♥ 7♥ 8♥ 9♥

5♠ A♠ 4♠ → ○

5♠ 2♠ 3♠ → △

A♠ 2♠ 3♠ 4♠ 5♠ 6♠ 7♠ 8♠ 9♠

3♦ 2♦ 5♦ → ○

3♦ A♦ 6♦ → △

A♦ 2♦ 3♦ 4♦ 5♦ 6♦ 7♦ 8♦ 9♦

※1. このプリントは、しながわ・目黒こどもスクールのウェブサイトでダウンロードができます。無断複写・引用はご遠慮ください。
 ※2. このプリントを活用したオンライン授業のスケジュールは、しながわ・目黒こどもスクールのウェブサイトでご確認ください。