



おうちで、やろう。 新年長児版

Study at home. 小学校受験の家庭学習教材

言語：しりとり 1

左から順にしりとりをします。四角には何を入れれば正しくしりとりがつながりますか。下の四角の中から選んで○を書きましょう。

Activity 1:

Activity 2:

※1. このプリントは、しながわ・目黒こどもスクールのウェブサイトからダウンロードできます。無断複写・引用はご遠慮ください。

※2. このプリントを活用したオンライン授業のスケジュールは、しながわ・目黒こどもスクールのウェブサイトでご確認ください。



おうちで、やろう。 新年長児版

Study at home. 小学校受験の家庭学習教材

言語：音の理解2

左の絵の最初の音をつなげると何になりますか。右から選んで線で結びましょう。

The matching exercise consists of two columns of ten boxes each. Lines connect the boxes to form the word '目黒' (Meiji) in various orientations. The connections are as follows:

- 算盤 (abacus) connects to 目黒 (Meiji)
- 蝶ネクタイ (bow tie) connects to 馬 (horse)
- 財布 (wallet) connects to 目黒 (Meiji)
- 団扇 (fan) connects to 目黒 (Meiji)
- 花火 (fireworks) connects to 目黒 (Meiji)
- 水着 (swimsuit) connects to 目黒 (Meiji)
- 果物 (fruit) connects to 目黒 (Meiji)
- 鉛筆 (pencil) connects to 目黒 (Meiji)
- 虫 (insect) connects to 目黒 (Meiji)
- 牛 (cow) connects to 目黒 (Meiji)

※1. このプリントは、しながわ・目黒こどもスクールのウェブサイトでダウンロードができます。無断複写・引用はご遠慮ください。

※2. このプリントを活用したオンライン授業のスケジュールは、しながわ・目黒こどもスクールのウェブサイトでご確認ください。





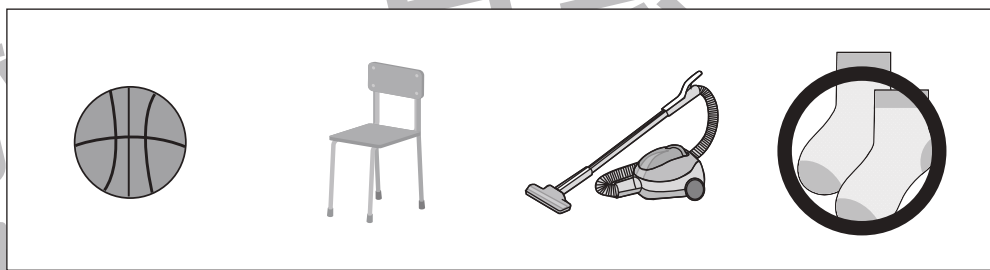






おうちで、やろう。

Study at home. 小学校受験の家庭学習教材

言語：数え方3

左の四角の中と同じ数え方をするものを右の中から見つけて○をつけます。



※1. このプリントは、しながわ・目黒こどもスクールのウェブサイトでダウンロードができます。無断複写・引用はご遠慮ください。
※2. このプリントを活用したオンライン授業のスケジュールは、しながわ・目黒こどもスクールのウェブサイトでご確認ください。





おうちで、やろう。

Study at home. 小学校受験の家庭学習教材

常識：季節2

左側の絵と右側の絵から同じ季節の食べ物を選び、点と点を線で結びます。

※1. このプリントは、しながわ・目黒こどもスクールのウェブサイトからダウンロードできます。無断複写・引用はご遠慮ください。

※2. このプリントを活用したオンライン授業のスケジュールは、しながわ・目黒こどもスクールのウェブサイトでご確認ください。





おうちで、やろう。

Study at home. 小学校受験の家庭学習教材

まちがいさがし5

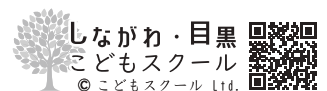
上下の絵を見比べて、変わっているところを5つ探します。見つけたら、下の絵の変わっている部分に丸をつけます。



ICT 教育の小学校受験

※1. このプリントは、しながわ・目黒こどもスクールのウェブサイトでダウンロードができます。無断複写・引用はご遠慮ください。

※2. このプリントを活用したオンライン授業のスケジュールは、しながわ・目黒こどもスクールのウェブサイトでご確認ください。



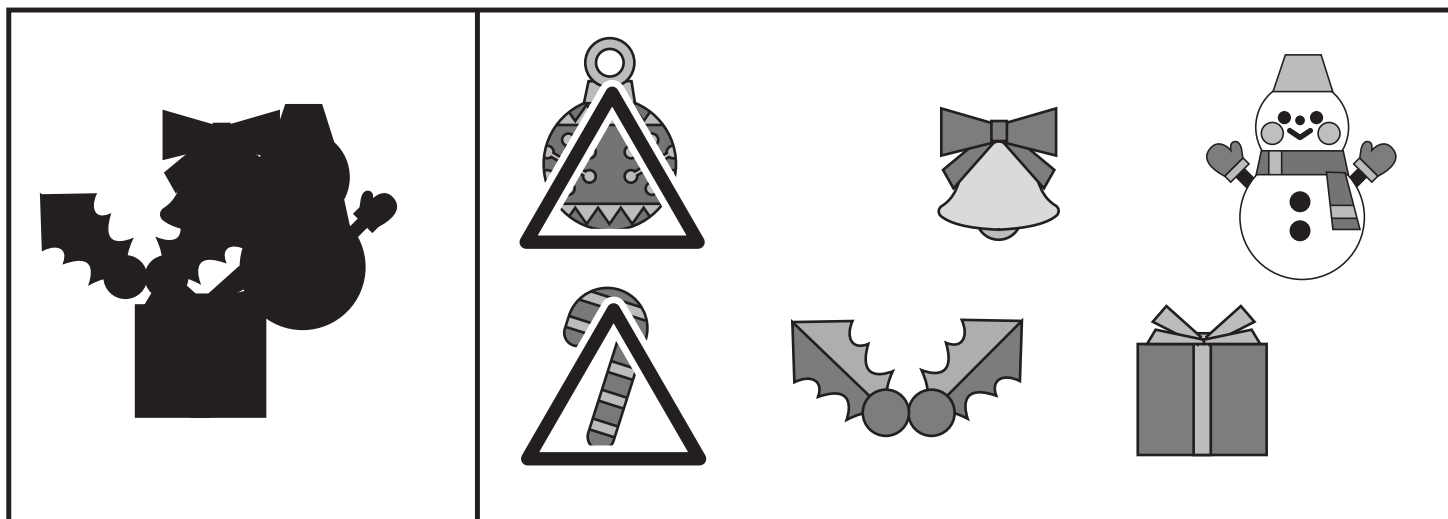




おうちで、やろう。新年長児版

Study at home. 小学校受験の家庭学習教材

推理：影1

左の四角の中には絵が影になって重なっています。影になっていない絵を右の四角の中から見つけて△をつけます。



※1. このプリントは、しながわ・目黒こどもスクールのウェブサイトでダウンロードができます。無断複写・引用はご遠慮ください。

※2. このプリントを活用したオンライン授業のスケジュールは、しながわ・目黒こどもスクールのウェブサイトでご確認ください。





おうちで、やろう。新年長児版

Study at home. 小学校受験の家庭学習教材

推理：影2

左の四角の中には絵が影になって重なっています。影になっていない絵を右の四角の中から見つけて△をつけます。



※1. このプリントは、しながわ・目黒こどもスクールのウェブサイトでダウンロードができます。無断複写・引用はご遠慮ください。

※2. このプリントを活用したオンライン授業のスケジュールは、しながわ・目黒こどもスクールのウェブサイトでご確認ください。




おうちで、やろう。


Study at home. 小学校受験の家庭学習教材

数量：計数 10

四角の中にある絵を数えます。それぞれの数だけ〇を下の四角に書きましょう。



○ × 7



○ × 8



○ × 6



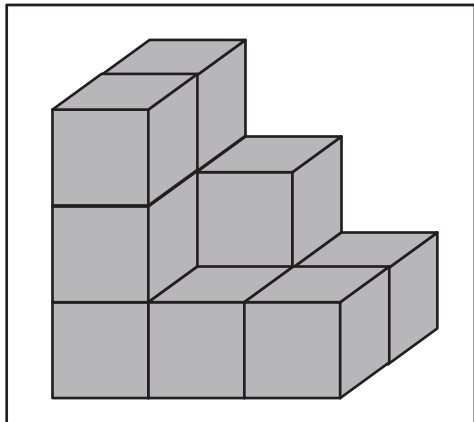
○ × 9

※1. このプリントは、しながわ・目黒こどもスクールのウェブサイトでダウンロードができます。無断複写・引用はご遠慮ください。
※2. このプリントを活用したオンライン授業のスケジュールは、しながわ・目黒こどもスクールのウェブサイトでご確認ください。

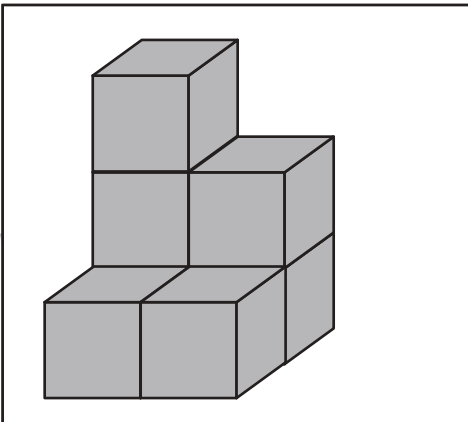




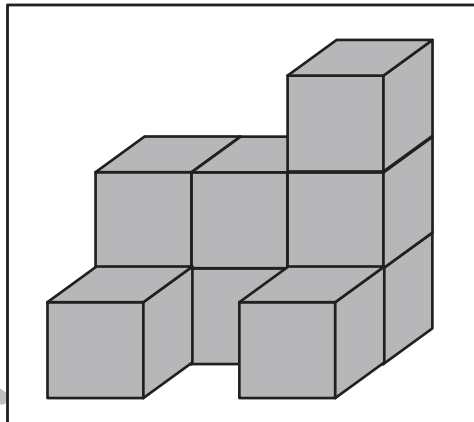
積み木の数だけ、すぐ下の四角に○をかきます。



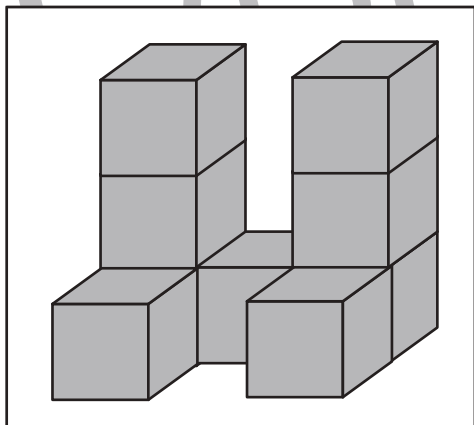
$$\bigcirc \times 11$$



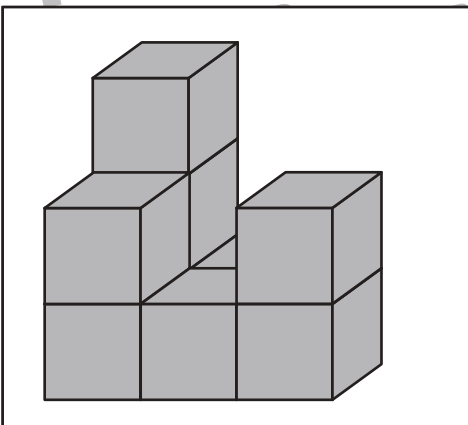
$$\bigcirc \times 7$$



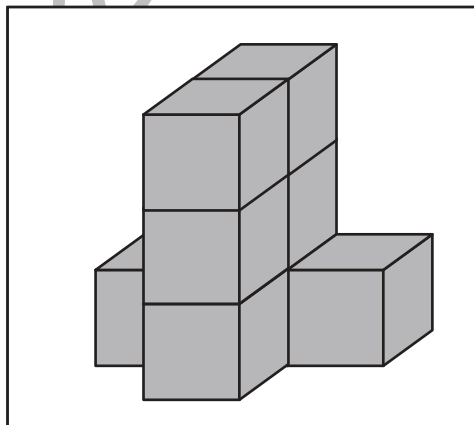
$$\bigcirc \times 9$$



$$\bigcirc \times 9$$



$$\bigcirc \times 9$$



$$\bigcirc \times 8$$

※1. このプリントは、しながわ・目黒こどもスクールのウェブサイトでダウンロードができます。無断複写・引用はご遠慮ください。
※2. このプリントを活用したオンライン授業のスケジュールは、しながわ・目黒こどもスクールのウェブサイトでご確認ください。

