



# おうちで、やろう。

Study at home. 小学校受験の家庭学習教材

## 言語：音の理解 7

左側の絵と右側の絵で2番目の音が同じもの同士、点と点を線で結びます。

	●	●	
	●	●	
	●	●	
	●	●	
	●	●	

※1. このプリントは、しながわ・目黒こどもスクールのウェブサイトでダウンロードができます。無断複写・引用はご遠慮ください。

※2. このプリントを活用したオンライン授業のスケジュールは、しながわ・目黒こどもスクールのウェブサイトでご確認ください。



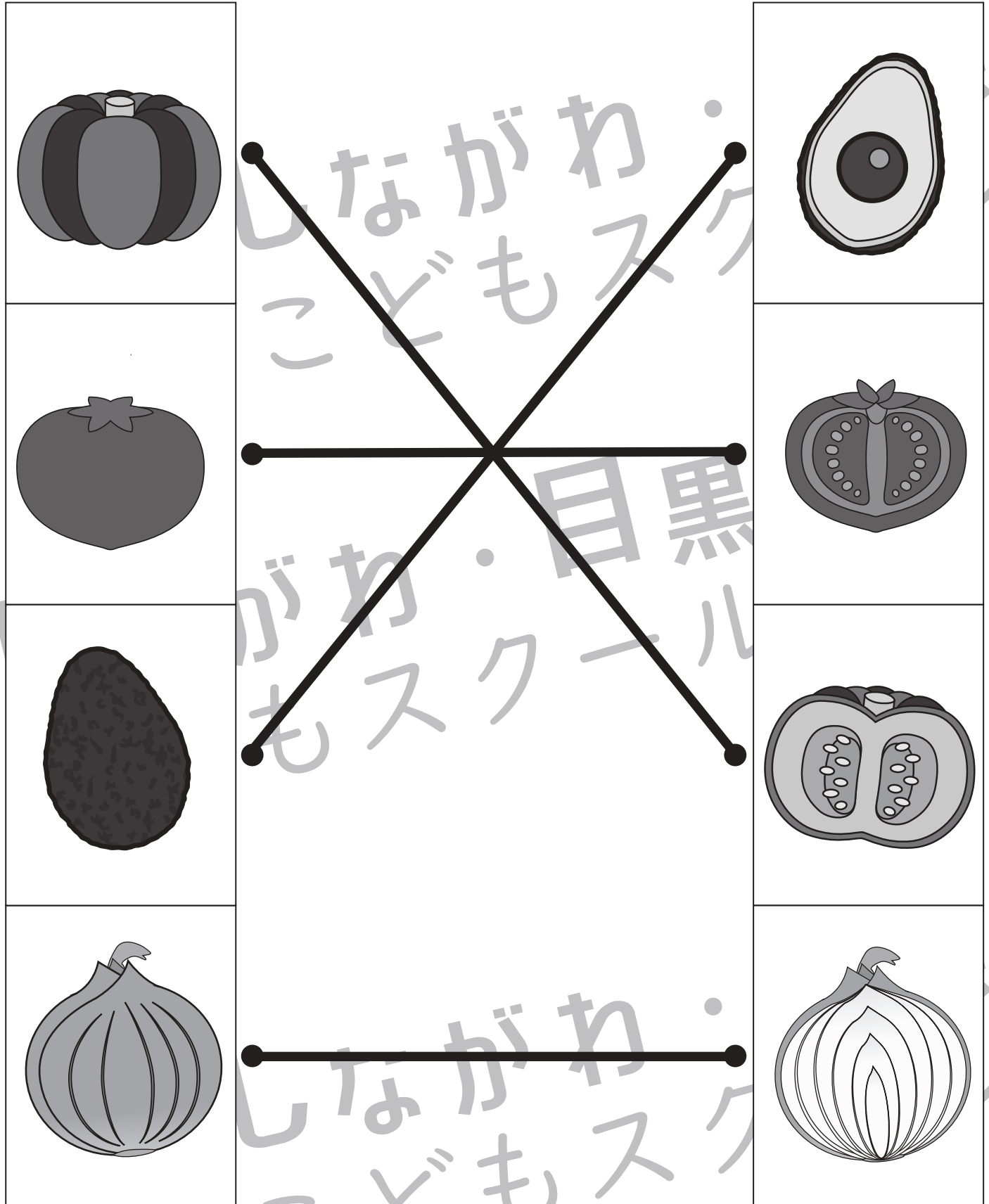


# おうちで、やろう。

Study at home. 小学校受験の家庭学習教材

## 常識：断面図1

右側は、左側の四角の中の野菜を包丁で切った時の見え方です。同じ野菜を見つけて、線でつなぎます。



※1. このプリントは、しながわ・目黒こどもスクールのウェブサイトからダウンロードできます。無断複写・引用はご遠慮ください。

※2. このプリントを活用したオンライン授業のスケジュールは、しながわ・目黒こどもスクールのウェブサイトでご確認ください。


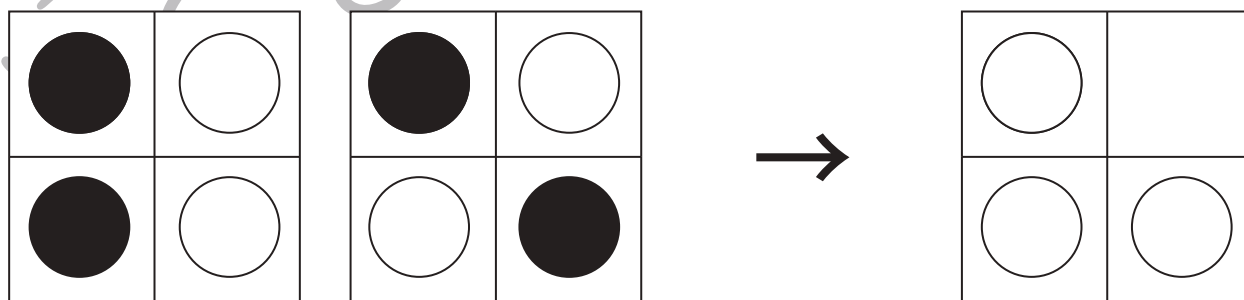





# おうちで、やろう。

Study at home. 小学校受験の家庭学習教材

図形：重ね4

左の2枚の透明な板が重なった時の見え方を考えて、黒い丸になる場所だけ矢印の右の四角に○をかきます。



※1. このプリントは、しながわ・目黒こどもスクールのウェブサイトでダウンロードができます。無断複写・引用はご遠慮ください。  
 ※2. このプリントを活用したオンライン授業のスケジュールは、しながわ・目黒こどもスクールのウェブサイトでご確認ください。



# おうちで、やろう。

Study at home. 小学校受験の家庭学習教材

図形：重ね5

左の2枚の透明な板が重なった時の見え方を考えて、黒い丸になる場所だけ矢印の右の四角に○をかきます。

●	○	●
○	●	○
○	○	●

○	○	●
○	●	●
○	○	○

→

○		○
	○	○
		○

○	○	○
●	○	●
○	●	○

●	○	○
●	●	○
○	○	○

→

○		
○	○	○
	○	

●	○	○
○	○	○
○	●	●

●	○	○
○	●	○
●	●	○

→

○		
	○	
○	○	○

○	●	○
○	●	○
○	○	●

●	●	○
○	●	○
●	●	○

→

○	○	
	○	
○	○	○

●	●	○
●	○	○
○	○	○

●	○	○
○	○	●
○	○	●

→

○	○	
○		○
		○

※1. このプリントは、しながわ・目黒こどもスクールのウェブサイトでダウンロードができます。無断複写・引用はご遠慮ください。  
 ※2. このプリントを活用したオンライン授業のスケジュールは、しながわ・目黒こどもスクールのウェブサイトでご確認ください。




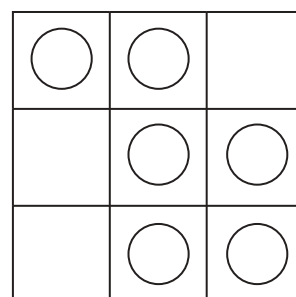





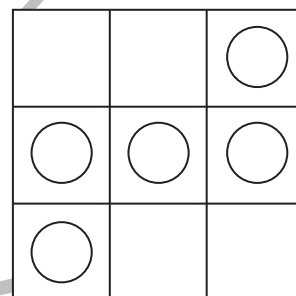


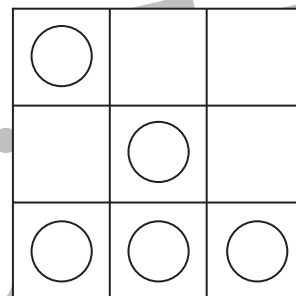
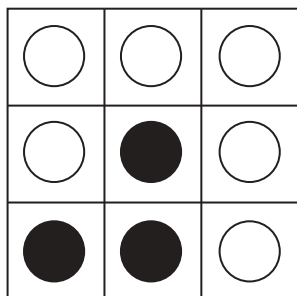



# おうちで、よろう。

Study at home. 小学校受験の家庭学習教材

図形：重ね6

左の2枚の透明な板が重なった時の見え方を考えて、黒い丸になる場所だけ矢印の右の四角に○をかきます。



※1. このプリントは、しながわ・目黒こどもスクールのウェブサイトでダウンロードができます。無断複写・引用はご遠慮ください。  
※2. このプリントを活用したオンライン授業のスケジュールは、しながわ・目黒こどもスクールのウェブサイトでご確認ください。






# おうちで、やろう。

Study at home. 小学校受験の家庭学習教材

数量：計数 11

四角の中にある絵を数えます。それぞれの数だけ〇を下の四角に書きましょう。



○ × 5



○ × 6



○ × 3



○ × 4

※1. このプリントは、しながわ・目黒こどもスクールのウェブサイトでダウンロードができます。無断複写・引用はご遠慮ください。  
※2. このプリントを活用したオンライン授業のスケジュールは、しながわ・目黒こどもスクールのウェブサイトでご確認ください。




# おうちで、やろう。

Study at home. 小学校受験の家庭学習教材


図形：分割7

四角の中のお菓子を2人で同じ数になるように分けると1人分はいくつになりますか。  
その数だけ下の四角に○をかきます。



	$\bigcirc \times 3$
---	---------------------

	$\bigcirc \times 3$
---	---------------------



	$\bigcirc \times 4$
---	---------------------

	$\bigcirc \times 5$
---	---------------------



	$\bigcirc \times 5$
---	---------------------

	$\bigcirc \times 4$
---	---------------------

※1. このプリントは、しながわ・目黒こどもスクールのウェブサイトでダウンロードができます。無断複写・引用はご遠慮ください。  
※2. このプリントを活用したオンライン授業のスケジュールは、しながわ・目黒こどもスクールのウェブサイトでご確認ください。


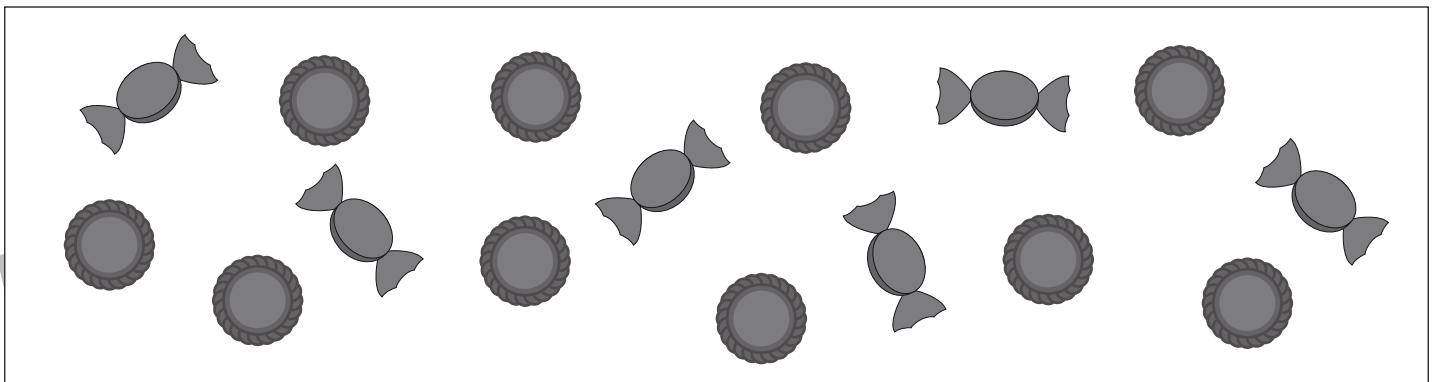



# おうちで、やろう。

Study at home. 小学校受験の家庭学習教材

図形：分割8

四角の中のお菓子を2人で同じ数になるように分けると1人分はいくつになりますか。  
その数だけ下の四角に○をかきます。



※1. このプリントは、しながわ・目黒こどもスクールのウェブサイトからダウンロードできます。無断複写・引用はご遠慮ください。  
※2. このプリントを活用したオンライン授業のスケジュールは、しながわ・目黒こどもスクールのウェブサイトでご確認ください。





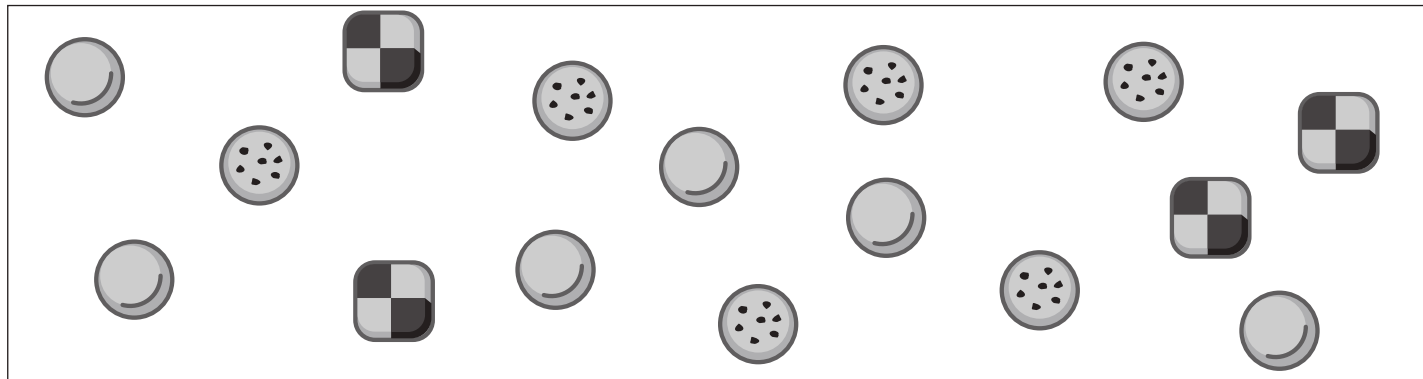


# おうちで、やろう。


Study at home. 小学校受験の家庭学習教材

図形：分割9


四角の中のお菓子を2人で同じ数になるように分けると1人分はいくつになりますか。  
その数だけ下の四角に○をかきます。



 ○ × 3	 ○ × 2	 ○ × 3
---	---	---



 ○ × 4	 ○ × 3	 ○ × 2
---	---	---



 ○ × 5	 ○ × 4	 ○ × 3
---	---	---

※1. このプリントは、しながわ・目黒こどもスクールのウェブサイトでダウンロードができます。無断複写・引用はご遠慮ください。  
※2. このプリントを活用したオンライン授業のスケジュールは、しながわ・目黒こどもスクールのウェブサイトでご確認ください。