



おうちで、やろう。

Study at home. 小学校受験の家庭学習教材

言語：音の理解 7

左側の絵と右側の絵で2番目の音が同じもの同士、点と点を線で結びます。

	•	
	•	
	•	
	•	
	•	

※1. このプリントは、しながわ・目黒こどもスクールのウェブサイトでダウンロードができます。無断複写・引用はご遠慮ください。

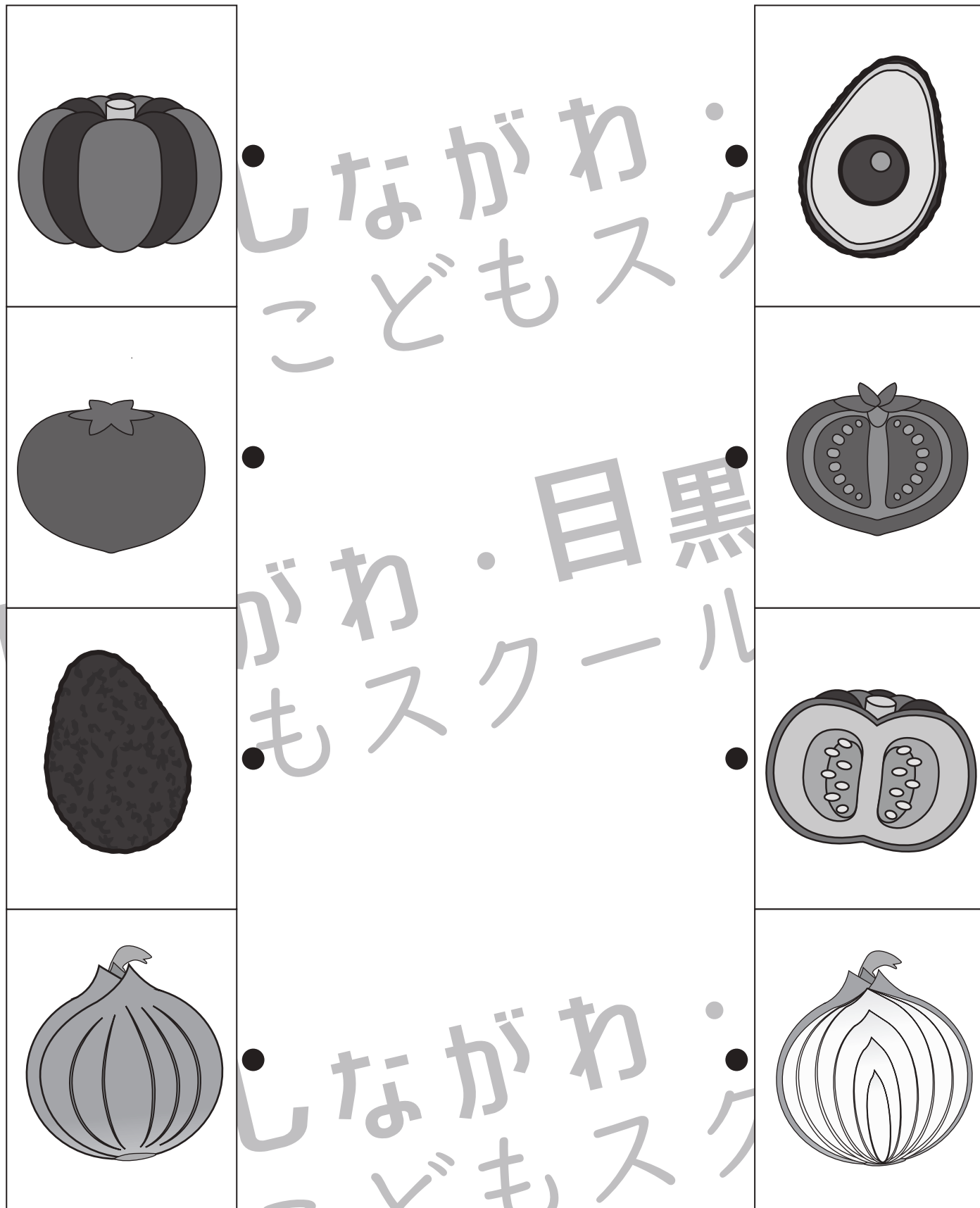
※2. このプリントを活用したオンライン授業のスケジュールは、しながわ・目黒こどもスクールのウェブサイトでご確認ください。



おうちで、やろう。

Study at home. 小学校受験の家庭学習教材

右側は、左側の四角の中の野菜を包丁で切った時の見え方です。同じ野菜を見つけて、線でつなぎます。



※1. このプリントは、しながわ・目黒こどもスクールのウェブサイトでダウンロードができます。無断複写・引用はご遠慮ください。

※2. このプリントを活用したオンライン授業のスケジュールは、しながわ・目黒こどもスクールのウェブサイトでご確認ください。


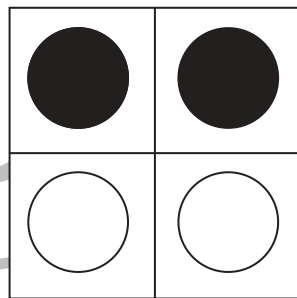
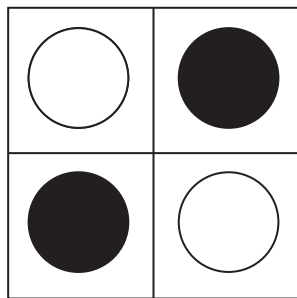
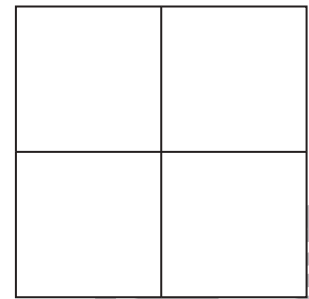
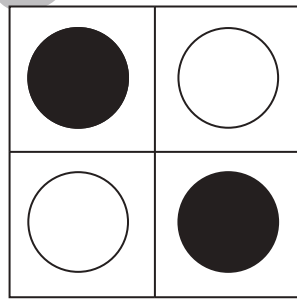
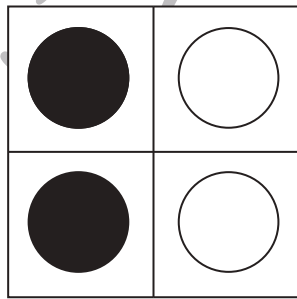
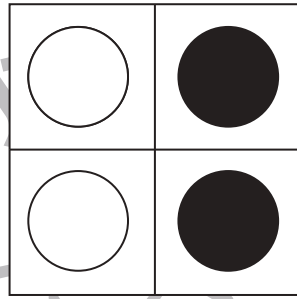
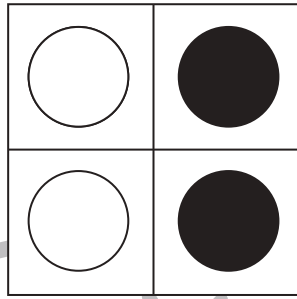

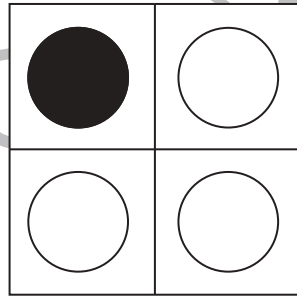
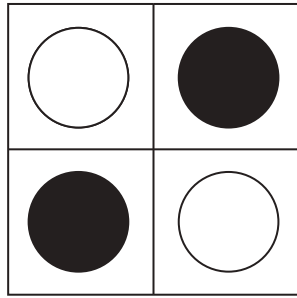

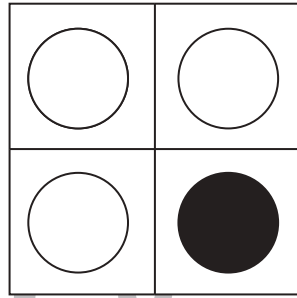
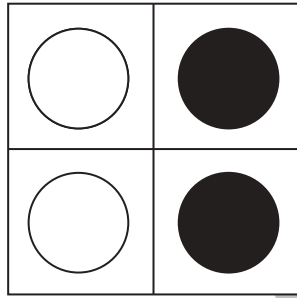


おうちで、やろう。

Study at home. 小学校受験の家庭学習教材

図形：重ね4

左の2枚の透明な板が重なった時の見え方を考えて、黒い丸になる場所だけ矢印の右の四角に○をかきます。



※1. このプリントは、しながわ・目黒こどもスクールのウェブサイトでダウンロードができます。無断複写・引用はご遠慮ください。
※2. このプリントを活用したオンライン授業のスケジュールは、しながわ・目黒こどもスクールのウェブサイトでご確認ください。




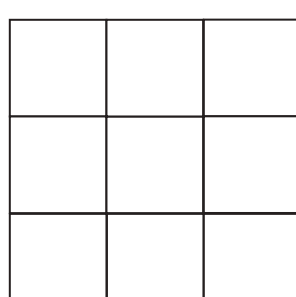







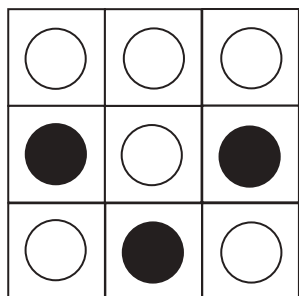





おうちで、やろう。

Study at home. 小学校受験の家庭学習教材

図形：重ね5

左の2枚の透明な板が重なった時の見え方を考えて、黒い丸になる場所だけ矢印の右の四角に○をかきます。



※1. このプリントは、しながわ・目黒こどもスクールのウェブサイトでダウンロードができます。無断複写・引用はご遠慮ください。

※2. このプリントを活用したオンライン授業のスケジュールは、しながわ・目黒こどもスクールのウェブサイトでご確認ください。












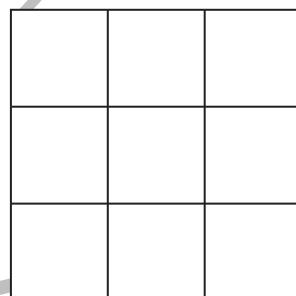


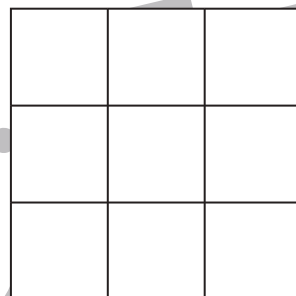
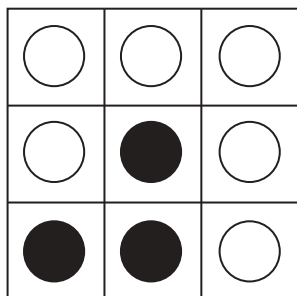



おうちで、やろう。

Study at home. 小学校受験の家庭学習教材

図形：重ね6

左の2枚の透明な板が重なった時の見え方を考えて、黒い丸になる場所だけ矢印の右の四角に○をかきます。



※1. このプリントは、しながわ・目黒こどもスクールのウェブサイトでダウンロードができます。無断複写・引用はご遠慮ください。
※2. このプリントを活用したオンライン授業のスケジュールは、しながわ・目黒こどもスクールのウェブサイトでご確認ください。

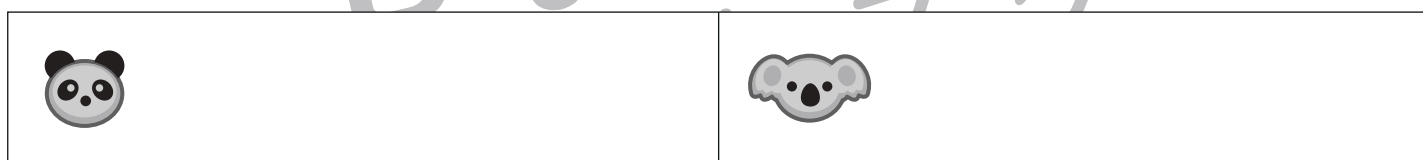





おうちで、やろう。

Study at home. 小学校受験の家庭学習教材

図形：分割7

四角の中のお菓子を2人で同じ数になるように分けると1人分はいくつになりますか。
その数だけ下の四角に○をかきます。



※1. このプリントは、しながわ・目黒こどもスクールのウェブサイトでダウンロードができます。無断複写・引用はご遠慮ください。
※2. このプリントを活用したオンライン授業のスケジュールは、しながわ・目黒こどもスクールのウェブサイトでご確認ください。








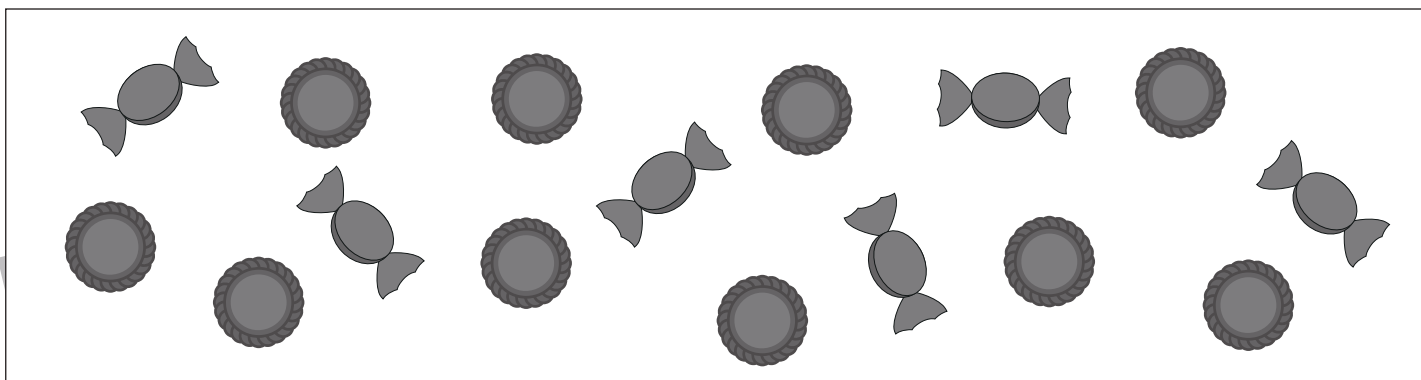

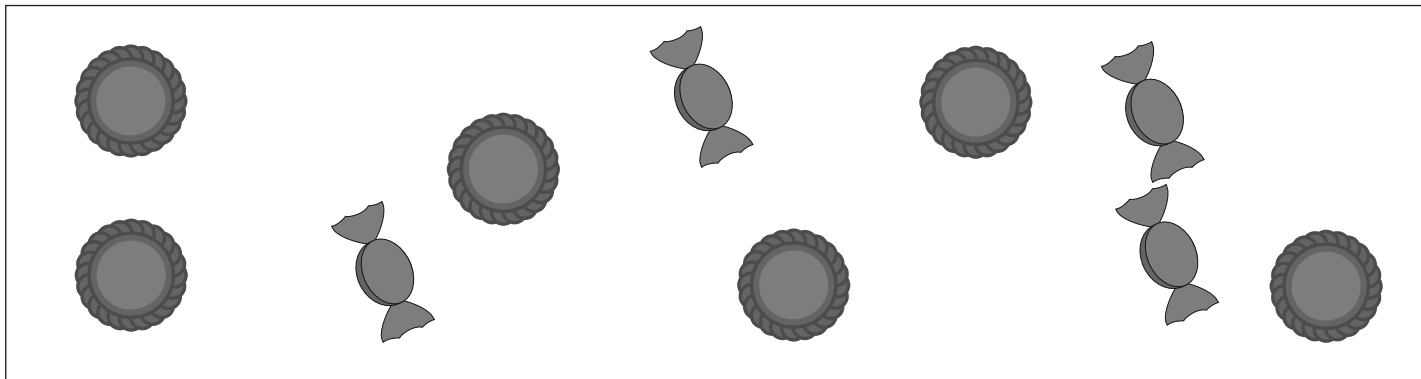


おうちで、やろう。

Study at home. 小学校受験の家庭学習教材

図形：分割8

四角の中のお菓子を2人で同じ数になるように分けると1人分はいくつになりますか。
その数だけ下の四角に○をかきます。



※1. このプリントは、しながわ・目黒こどもスクールのウェブサイトでダウンロードができます。無断複写・引用はご遠慮ください。
※2. このプリントを活用したオンライン授業のスケジュールは、しながわ・目黒こどもスクールのウェブサイトでご確認ください。







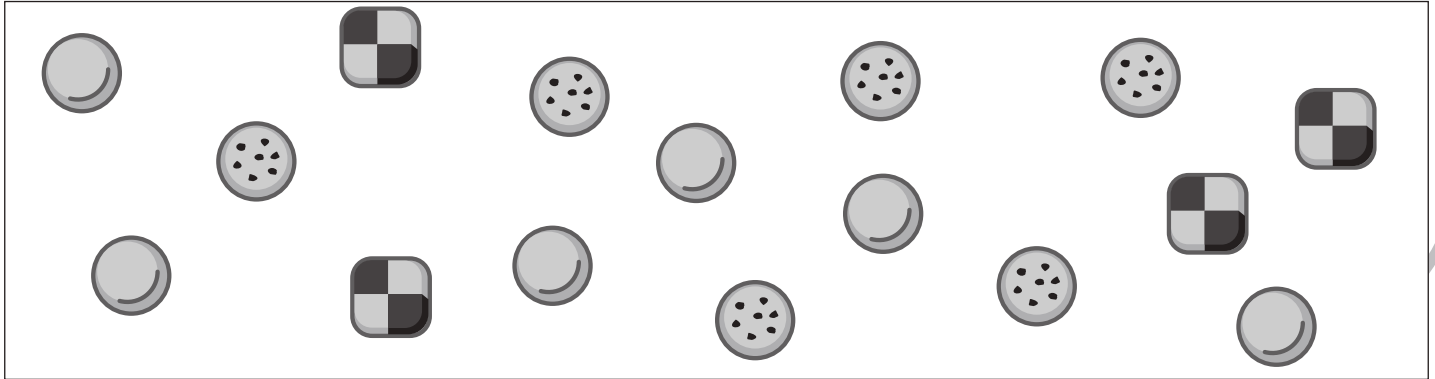


おうちで、やろう。

Study at home. 小学校受験の家庭学習教材

図形：分割9

四角の中のお菓子を2人で同じ数になるように分けると1人分はいくつになりますか。
その数だけ下の四角に○をかきます。



※1. このプリントは、しながわ・目黒こどもスクールのウェブサイトでダウンロードができます。無断複写・引用はご遠慮ください。
※2. このプリントを活用したオンライン授業のスケジュールは、しながわ・目黒こどもスクールのウェブサイトでご確認ください。





おうちで、やろう。

Study at home. 小学校受験の家庭学習教材

図形：点図形 10

左のお手本と同じになるように右の四角に線をかきます。 ※このプリントに解答はありません。

※1. このプリントは、しながわ・目黒こどもスクールのウェブサイトでダウンロードができます。無断複写・引用はご遠慮ください。
 ※2. このプリントを活用したオンライン授業のスケジュールは、しながわ・目黒こどもスクールのウェブサイトでご確認ください。