



# おうちで、やろう。

Study at home. 小学校受験の家庭学習教材

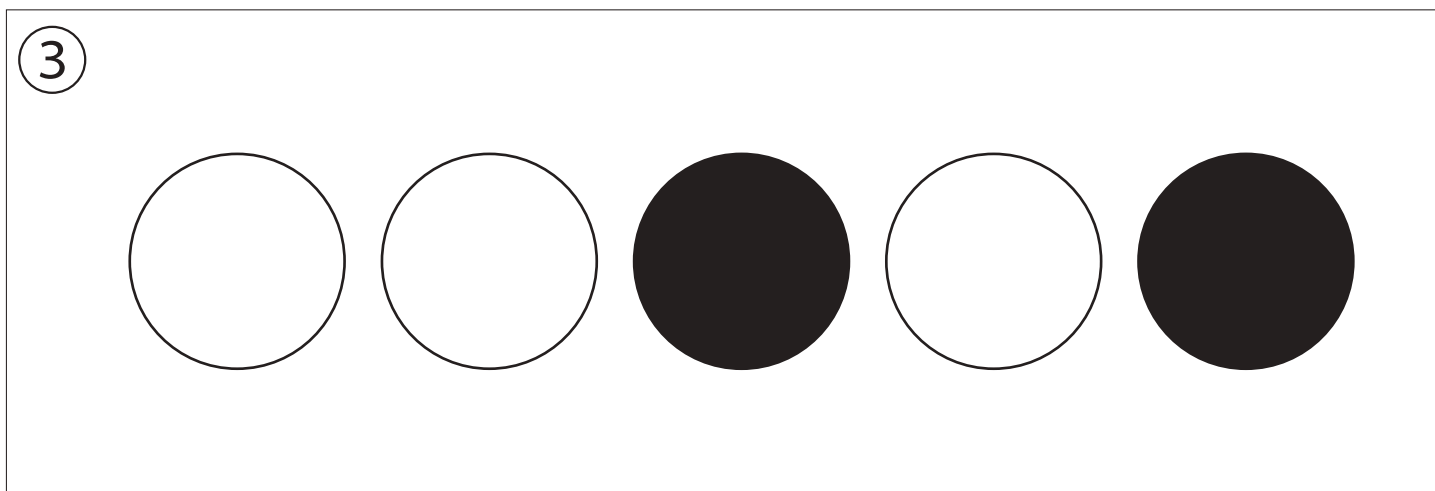

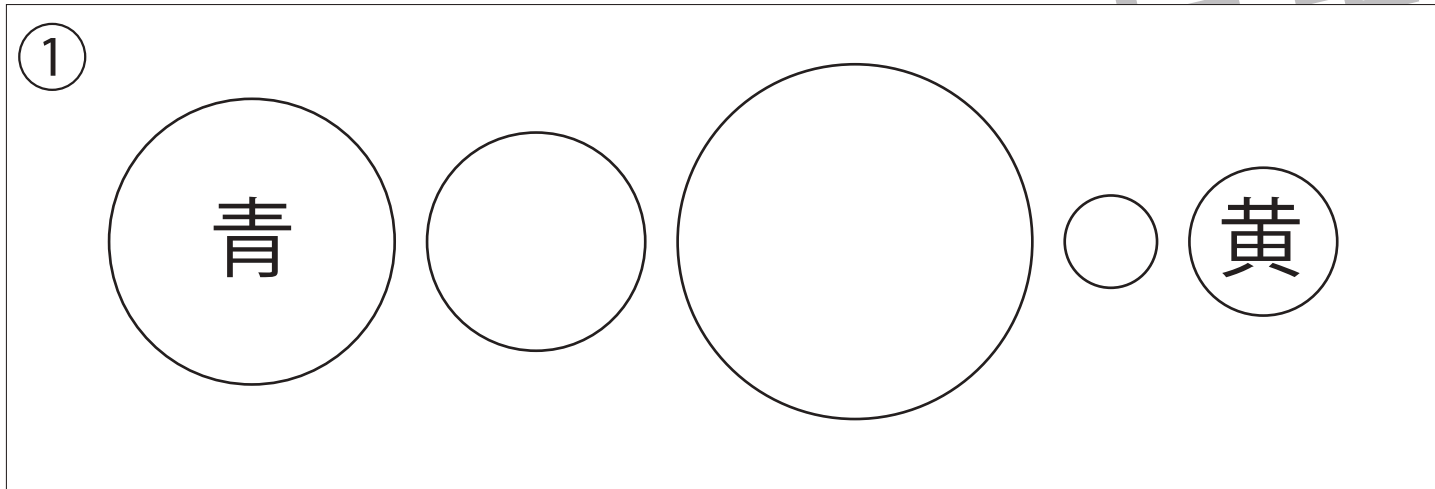
## 指示の聞き取り1

それぞれのお話通りになるように色を塗ったり、記号をかきます。問題は1度しか読みませんのでしっかり聞きましょう。

①2番目に大きい○を青色のクーピーで塗り、2番目に小さい○を黄色のクーピーで塗ります。

②四角の中に○を、四角の左に△を、四角の右に×を鉛筆でかきます。

③同じ大きさの○を横に並べて5つ黒のクーピーでかきます。真ん中と右端の○を黒く塗ります。



※1. このプリントは、しながわ・目黒こどもスクールのウェブサイトダウンロードができます。無断複写・引用はご遠慮ください。

※2. このプリントを活用したオンライン授業のスケジュールは、しながわ・目黒こどもスクールのウェブサイトでご確認ください。



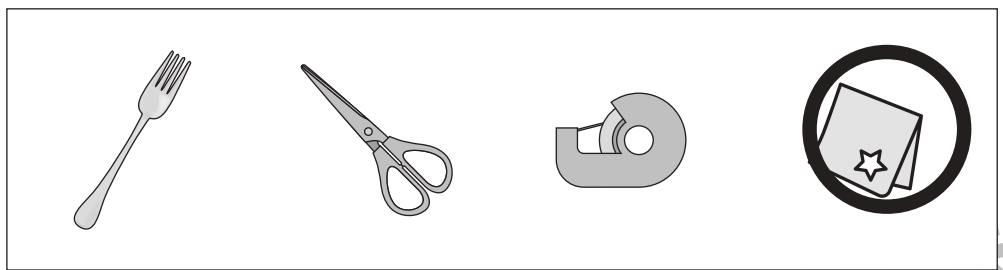




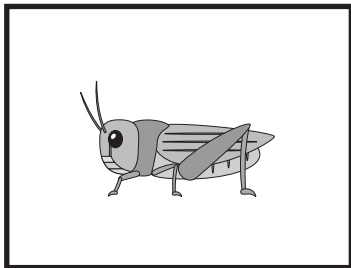
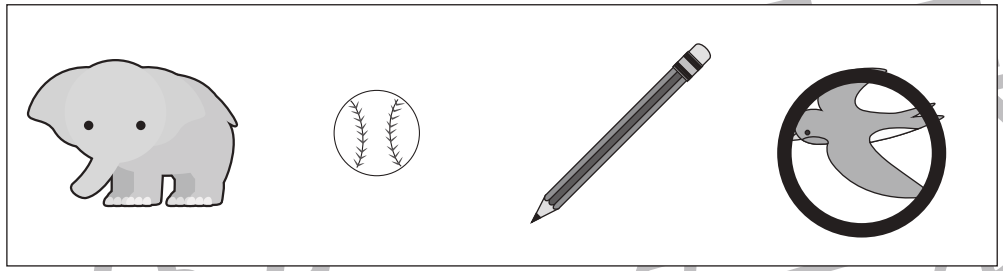



# おうちで、やろう。

Study at home. 小学校受験の家庭学習教材

言語：数え方2

左の四角の中と同じ数え方をするものを右の中から見つけて○をつけます。



※1. このプリントは、しながわ・目黒こどもスクールのウェブサイトでダウンロードができます。無断複写・引用はご遠慮ください。  
※2. このプリントを活用したオンライン授業のスケジュールは、しながわ・目黒こどもスクールのウェブサイトでご確認ください。





# おうちで、よろう。

Study at home. 小学校受験の家庭学習教材

図形：回転5

左のお手本を矢印の方向へ1回倒した時の見え方を考えて右の四角にかきます。

A 5x2 grid of visual puzzles. Each puzzle consists of two 2x2 grids. The left grid is the 'original' state, and the right grid is the state after a 90-degree clockwise rotation. A curved arrow indicates the direction of rotation.

- Row 1:** Original: Top-right circle. Rotated: Bottom-right circle.
- Row 2:** Original: Bottom-left circle. Rotated: Top-left circle.
- Row 3:** Original: Top-left circle. Rotated: Top-right circle.
- Row 4:** Original: Bottom-right circle. Rotated: Bottom-left circle.
- Row 5:** Original: Top-left and top-right circles. Rotated: Top-right and bottom-right circles.

※1. このプリントは、しながわ・目黒こどもスクールのウェブサイトでダウンロードができます。無断複写・引用はご遠慮ください。  
 ※2. このプリントを活用したオンライン授業のスケジュールは、しながわ・目黒こどもスクールのウェブサイトでご確認ください。



# おうちで、やろう。

Study at home. 小学校受験の家庭学習教材

図形：回転6

左のお手本を矢印の方向へ1回倒した時の見え方を考えて右の四角にかきます。

	↙	
	↙	
	↙	
	↙	
	↙	
	↙	
	↙	
	↙	
	↙	

※1. このプリントは、しながわ・目黒こどもスクールのウェブサイトからダウンロードできます。無断複写・引用はご遠慮ください。  
 ※2. このプリントを活用したオンライン授業のスケジュールは、しながわ・目黒こどもスクールのウェブサイトでご確認ください。

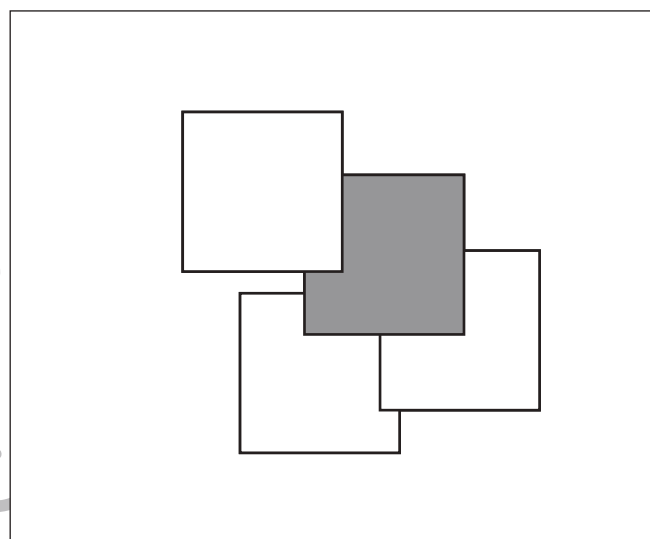
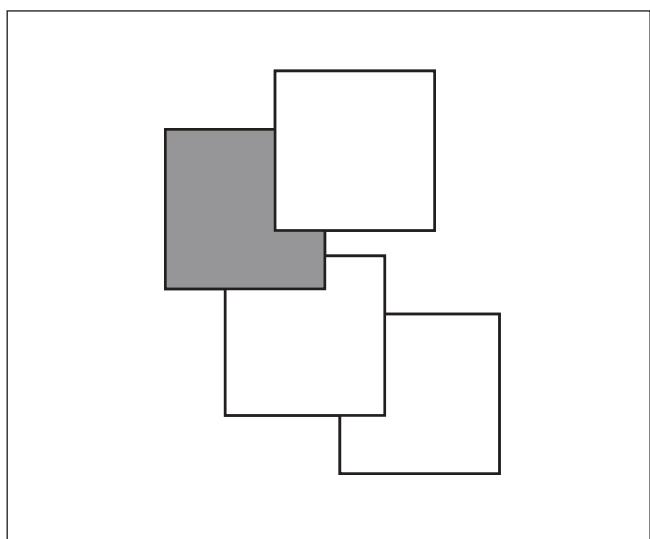
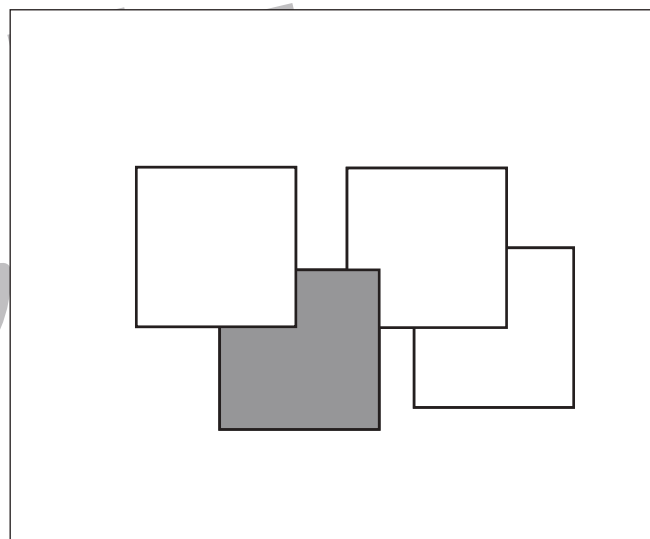
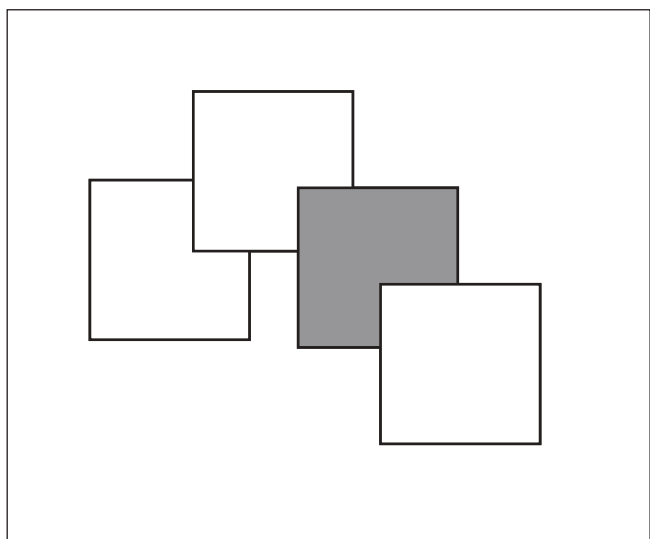
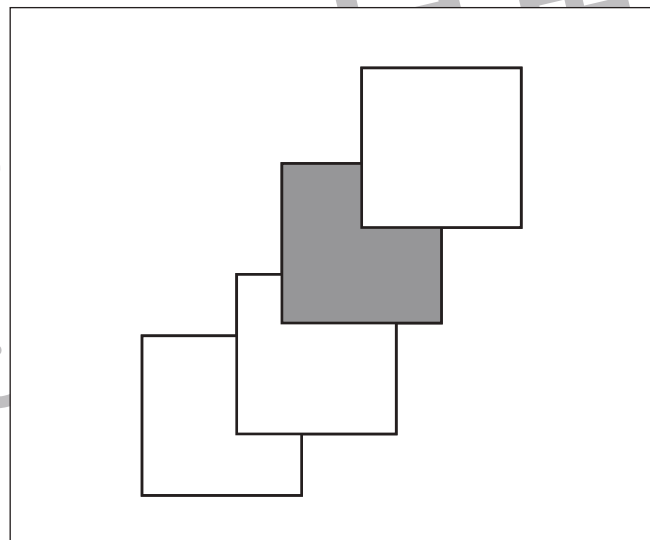
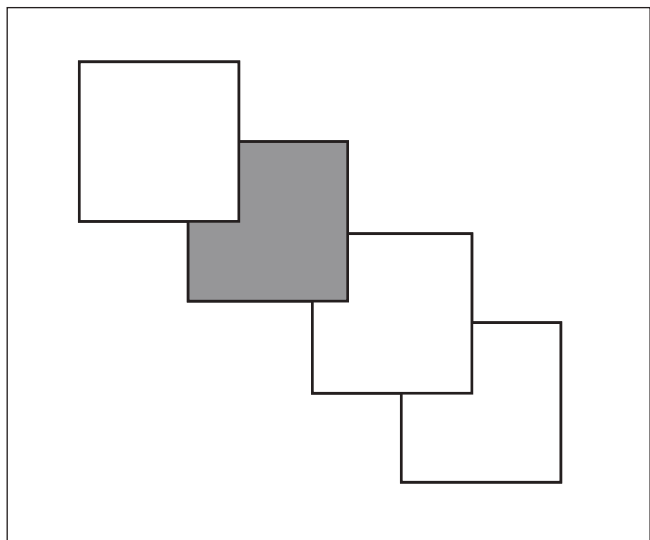


# おうちで、やろう。

Study at home. 小学校受験の家庭学習教材

図形：重なり2

四角の中には四角い紙が重なってあります。上から2番目に重なっている紙を塗ります。



※1. このプリントは、しながわ・目黒こどもスクールのウェブサイトからダウンロードできます。無断複写・引用はご遠慮ください。  
※2. このプリントを活用したオンライン授業のスケジュールは、しながわ・目黒こどもスクールのウェブサイトでご確認ください。

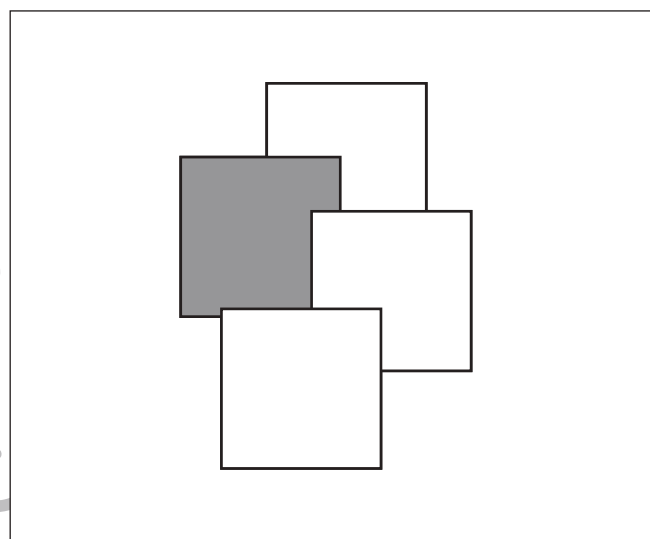
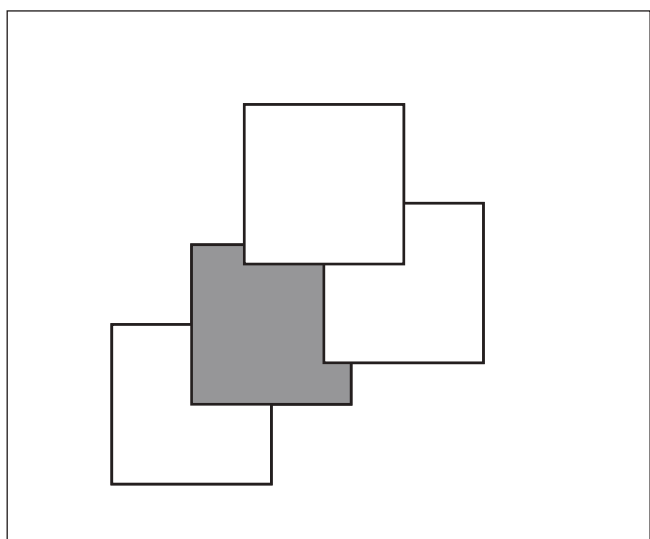
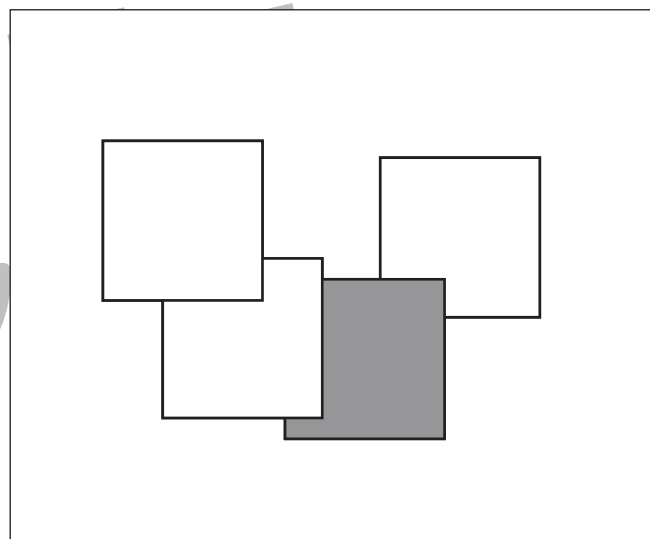
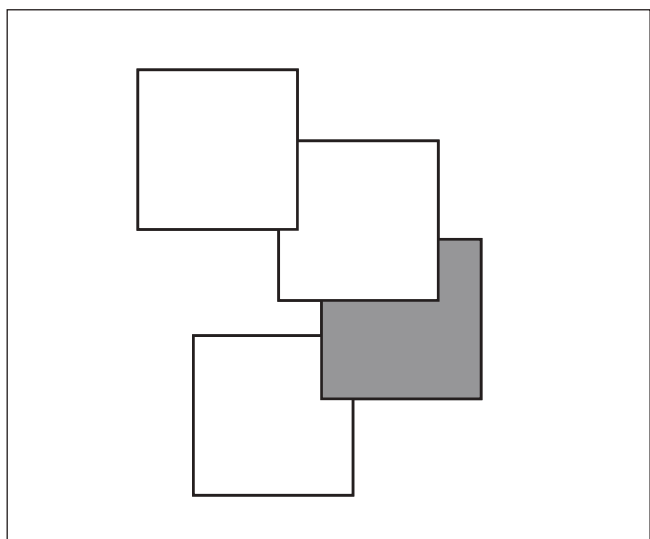
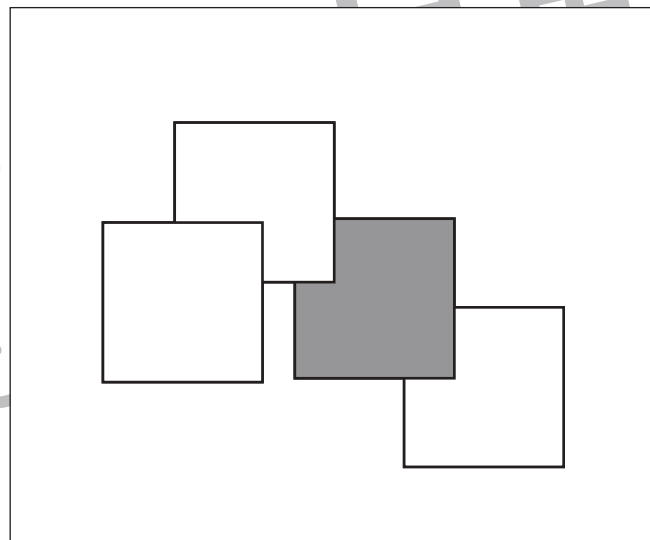
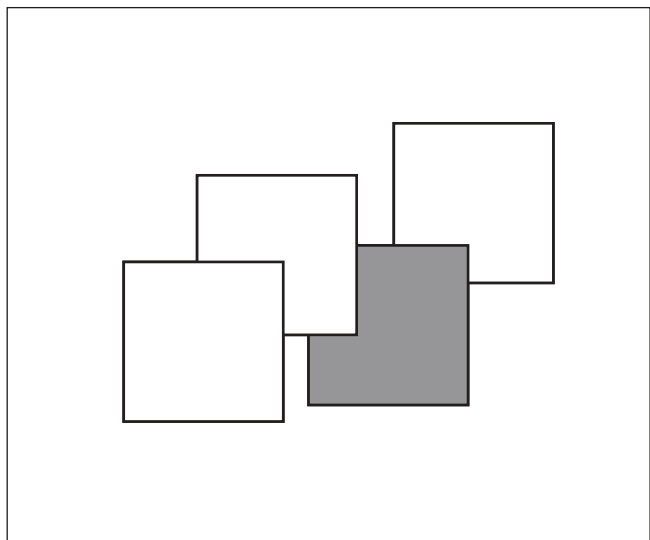


# おうちで、やろう。

Study at home. 小学校受験の家庭学習教材

図形：重なり3

四角の中には四角い紙が重なってあります。下から2番目に重なっている紙を塗ります。



※1. このプリントは、しながわ・目黒こどもスクールのウェブサイトからダウンロードできます。無断複写・引用はご遠慮ください。  
※2. このプリントを活用したオンライン授業のスケジュールは、しながわ・目黒こどもスクールのウェブサイトでご確認ください。

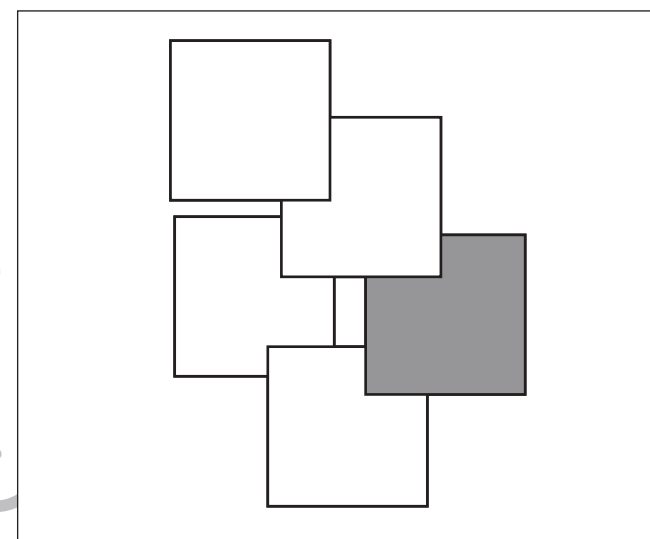
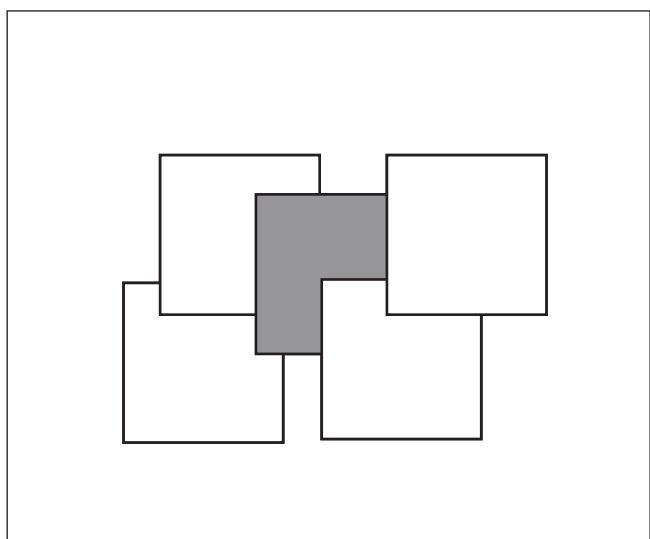
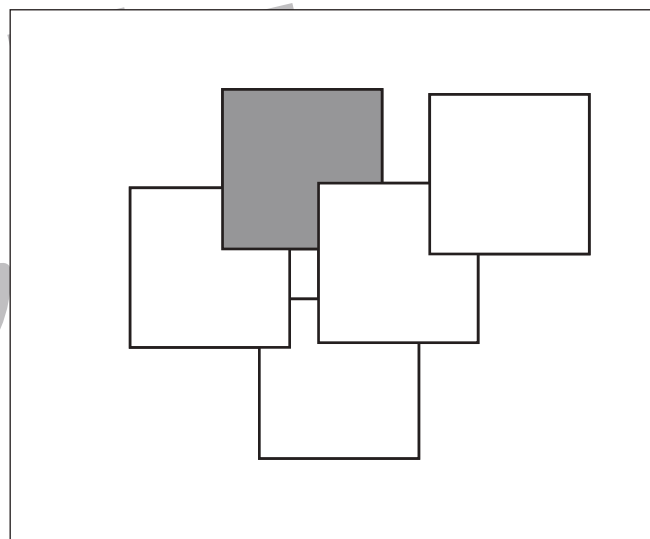
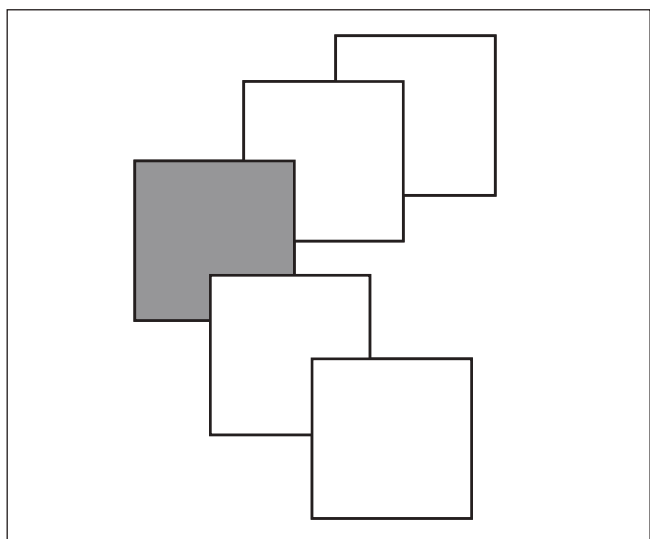
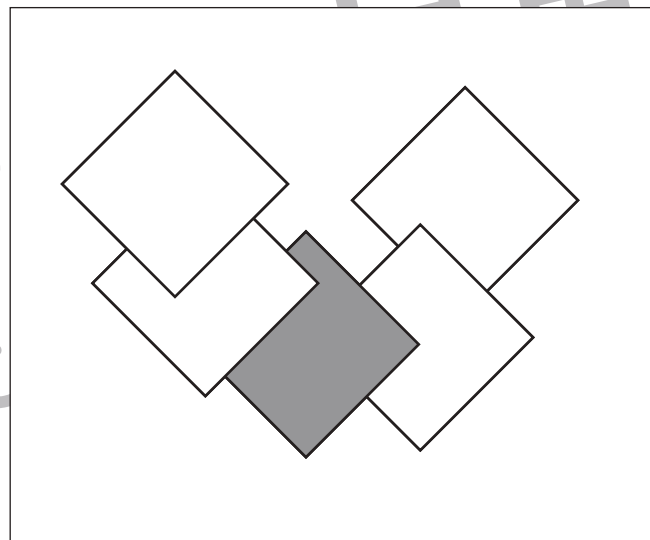
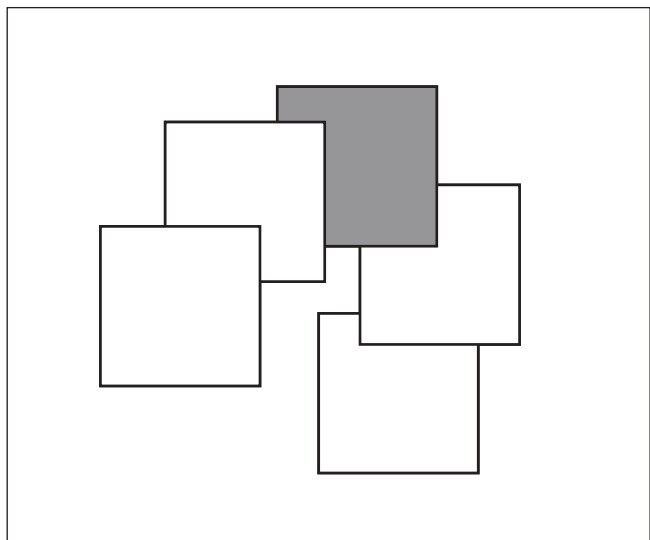


# おうちで、やろう。

Study at home. 小学校受験の家庭学習教材

## 図形：重なり4

四角の中には四角い紙が重なってあります。上から3番目に重なっている紙を塗ります。



※1. このプリントは、しながわ・目黒こどもスクールのウェブサイトでダウンロードができます。無断複写・引用はご遠慮ください。  
※2. このプリントを活用したオンライン授業のスケジュールは、しながわ・目黒こどもスクールのウェブサイトでご確認ください。





# おうちで、やろう。

Study at home. 小学校受験の家庭学習教材

数量：広さ 1

左と右の四角の中で灰色の部分が広いのはどちらですか。広い方に○をつけます。


※1. このプリントは、しながわ・目黒こどもスクールのウェブサイトでダウンロードができます。無断複写・引用はご遠慮ください。  
 ※2. このプリントを活用したオンライン授業のスケジュールは、しながわ・目黒こどもスクールのウェブサイトでご確認ください。





# おうちで、やろう。

Study at home. 小学校受験の家庭学習教材

数量：広さ2

左と右の四角の中で灰色の部分が広いのはどちらですか。広い方に○をつけます。


※1. このプリントは、しながわ・目黒こどもスクールのウェブサイトからダウンロードできます。無断複写・引用はご遠慮ください。  
 ※2. このプリントを活用したオンライン授業のスケジュールは、しながわ・目黒こどもスクールのウェブサイトでご確認ください。