




おうちで、やろう。

Study at home. 小学校受験の家庭学習教材

言語：しりとり 1

黒い星の丸の絵から白い星の丸の絵まで時計回りでしりとりでつなぐ時、空いている所に入る絵を丸の内側から選んで記号をつけます。



※1. このプリントは、しながわ・目黒こどもスクールのウェブサイトでダウンロードができます。無断複写・引用はご遠慮ください。
 ※2. このプリントを活用したオンライン授業のスケジュールは、しながわ・目黒こどもスクールのウェブサイトでご確認ください。



おうちで、やろう。

Study at home. 小学校受験の家庭学習教材

図形：回転 7

太い四角の中のお手本を矢印の方向に1回倒すとどうなりますか。右の四角から選んで○をつけます。

| | |
|--|--|
| | |
| | |
| | |
| | |

※1. このプリントは、しながわ・目黒こどもスクールのウェブサイトでダウンロードができます。無断複写・引用はご遠慮ください。
 ※2. このプリントを活用したオンライン授業のスケジュールは、しながわ・目黒こどもスクールのウェブサイトでご確認ください。



おうちで、やろう。

Study at home. 小学校受験の家庭学習教材

図形：回転 8

左の図を矢印の方向に1回倒すとどうなりますか。右の図に描きます。

| | | | | | | | | | |
|---|---|---|---|---|---|---|---|---|---|
| <table border="1"> <tr> <td>●</td> <td></td> </tr> <tr> <td>●</td> <td>○</td> </tr> </table> | ● | | ● | ○ | <table border="1"> <tr> <td>●</td> <td>●</td> </tr> <tr> <td>○</td> <td></td> </tr> </table> | ● | ● | ○ | |
| ● | | | | | | | | | |
| ● | ○ | | | | | | | | |
| ● | ● | | | | | | | | |
| ○ | | | | | | | | | |
| <table border="1"> <tr> <td></td> <td>△</td> </tr> <tr> <td>□</td> <td>×</td> </tr> </table> | | △ | □ | × | <table border="1"> <tr> <td>□</td> <td></td> </tr> <tr> <td>×</td> <td>▷</td> </tr> </table> | □ | | × | ▷ |
| | △ | | | | | | | | |
| □ | × | | | | | | | | |
| □ | | | | | | | | | |
| × | ▷ | | | | | | | | |
| <table border="1"> <tr> <td>○</td> <td>×</td> </tr> <tr> <td>▽</td> <td>●</td> </tr> </table> | ○ | × | ▽ | ● | <table border="1"> <tr> <td>×</td> <td>●</td> </tr> <tr> <td>○</td> <td>▷</td> </tr> </table> | × | ● | ○ | ▷ |
| ○ | × | | | | | | | | |
| ▽ | ● | | | | | | | | |
| × | ● | | | | | | | | |
| ○ | ▷ | | | | | | | | |
| <table border="1"> <tr> <td>△</td> <td>▷</td> </tr> <tr> <td>○</td> <td>□</td> </tr> </table> | △ | ▷ | ○ | □ | <table border="1"> <tr> <td>△</td> <td>□</td> </tr> <tr> <td>▷</td> <td>○</td> </tr> </table> | △ | □ | ▷ | ○ |
| △ | ▷ | | | | | | | | |
| ○ | □ | | | | | | | | |
| △ | □ | | | | | | | | |
| ▷ | ○ | | | | | | | | |

※1. このプリントは、しながわ・目黒こどもスクールのウェブサイトでダウンロードができます。無断複写・引用はご遠慮ください。

※2. このプリントを活用したオンライン授業のスケジュールは、しながわ・目黒こどもスクールのウェブサイトでご確認ください。



おうちで、やろう。

Study at home. 小学校受験の家庭学習教材

図形：回転 9

左側のお手本を右に1回倒しているものを右側から探して、点と点を線で結びます。

The image shows a matching exercise. On the left, there are four boxes, each containing a triangle with a specific symbol at its vertices. On the right, there are four boxes, each containing a triangle that is a 90-degree clockwise rotation of the one in the left box. Lines connect the boxes between the two columns to show the correct matches.

- Left Box 1: Upright triangle with a cross at the top vertex, a circle at the bottom-left vertex, and a dot at the bottom-right vertex. Connected to Right Box 4.
- Left Box 2: Inverted triangle with a circle at the top-left vertex, a dot at the bottom vertex, and a circle at the top-right vertex. Connected to Right Box 3.
- Left Box 3: Upright triangle with a circle at the top vertex, a dot at the bottom-left vertex, and a dot at the bottom-right vertex. Connected to Right Box 2.
- Left Box 4: Right-pointing triangle with a plus sign at the top-left vertex, a circle at the bottom-left vertex, and a dot at the right vertex. Connected to Right Box 1.

※1. このプリントは、しながわ・目黒こどもスクールのウェブサイトでダウンロードができます。無断複写・引用はご遠慮ください。
 ※2. このプリントを活用したオンライン授業のスケジュールは、しながわ・目黒こどもスクールのウェブサイトでご確認ください。

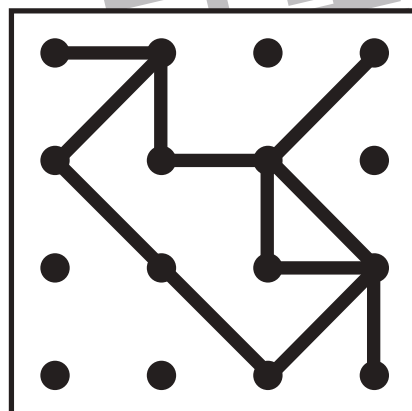
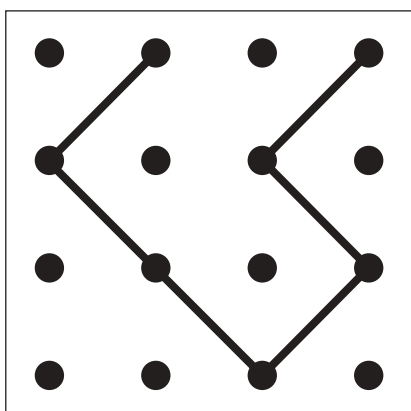
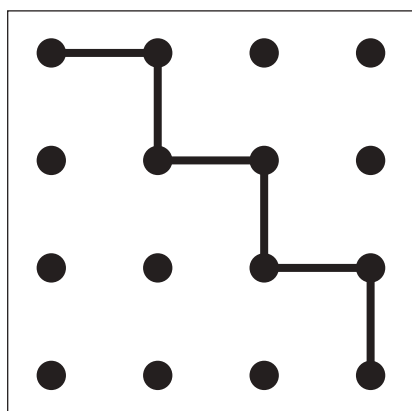
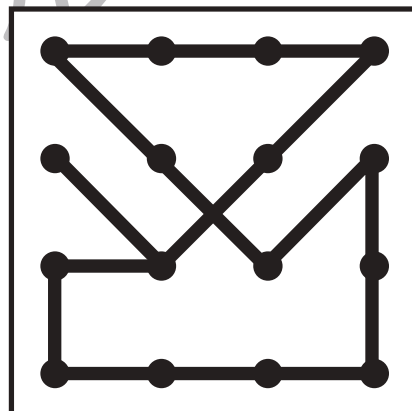
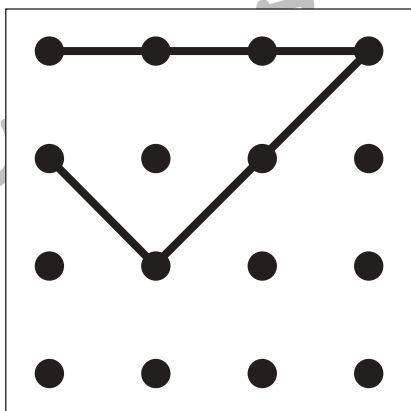
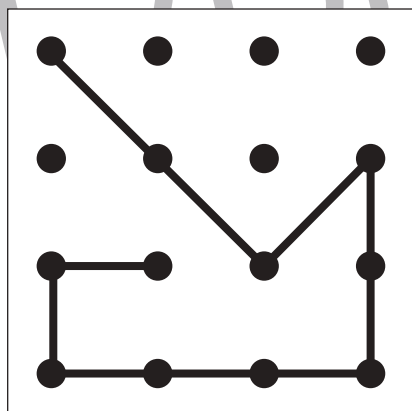
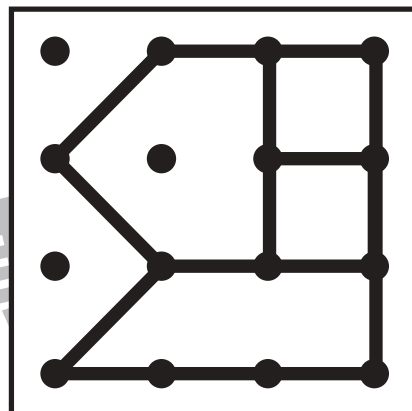
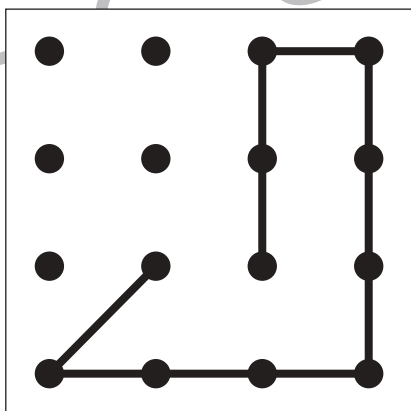
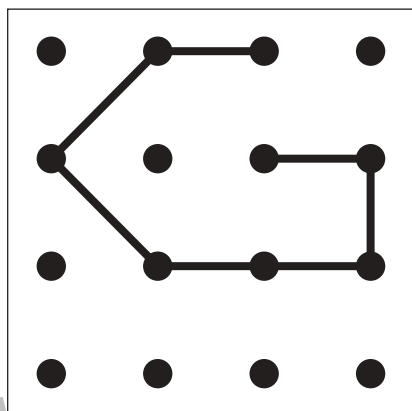
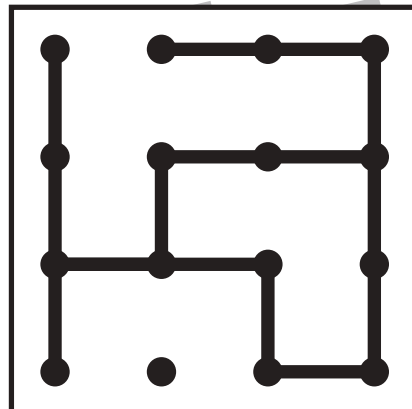
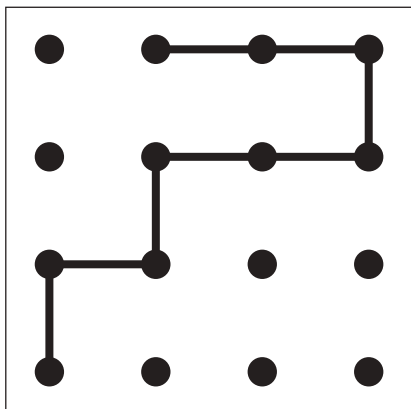
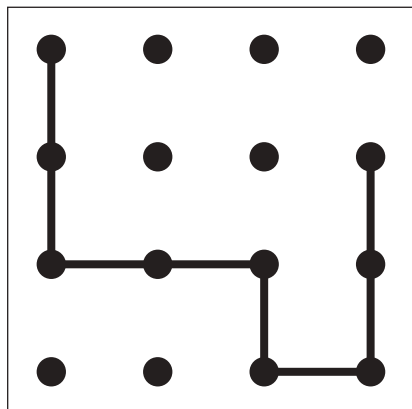


おうちで、やろう。

Study at home. 小学校受験の家庭学習教材

図形：重ね点図形 9

左の2枚の点図形を重ねた形を考えて、矢印の右の四角にかきます。



※1. このプリントは、しながわ・目黒こどもスクールのウェブサイトでダウンロードができます。無断複写・引用はご遠慮ください。

※2. このプリントを活用したオンライン授業のスケジュールは、しながわ・目黒こどもスクールのウェブサイトでご確認ください。



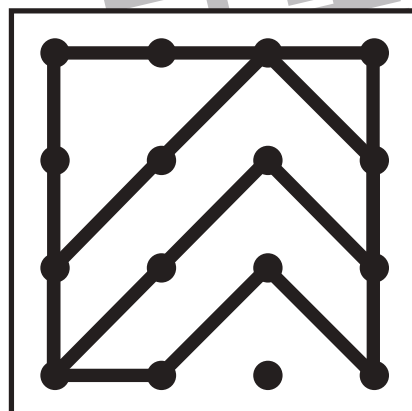
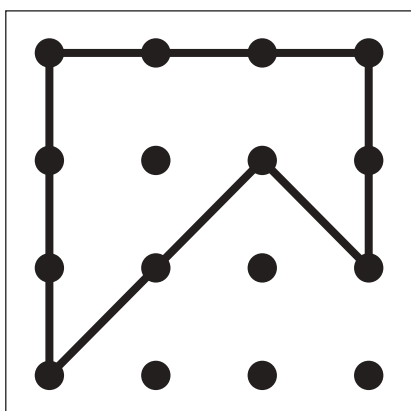
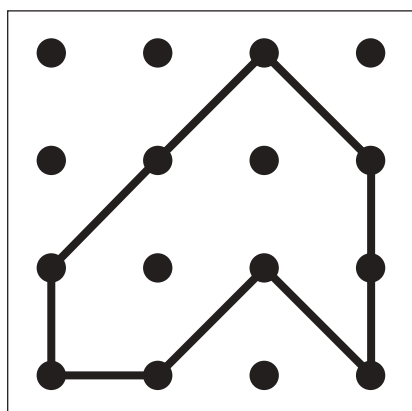
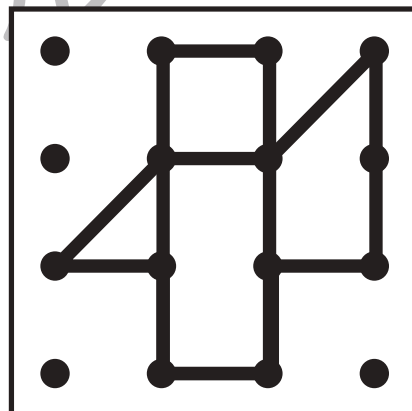
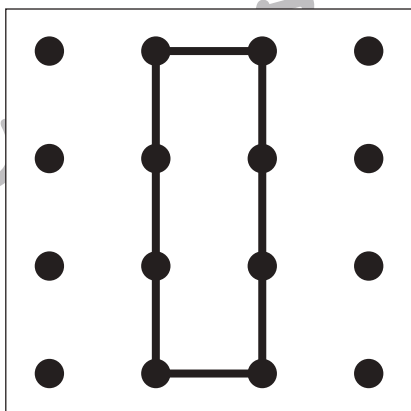
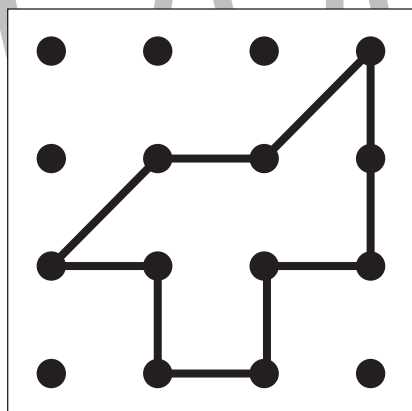
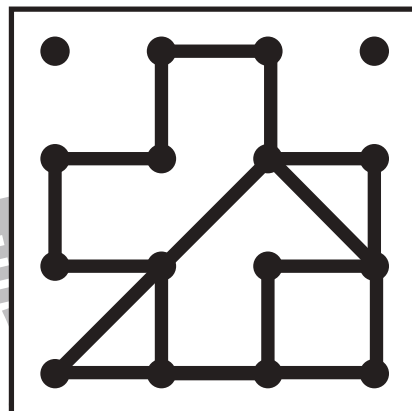
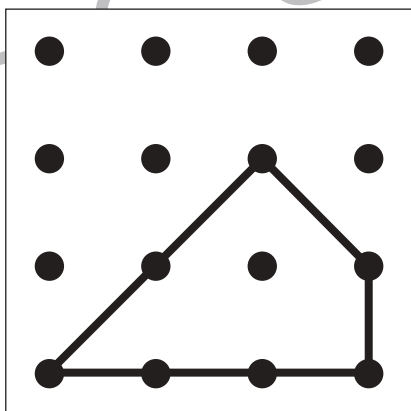
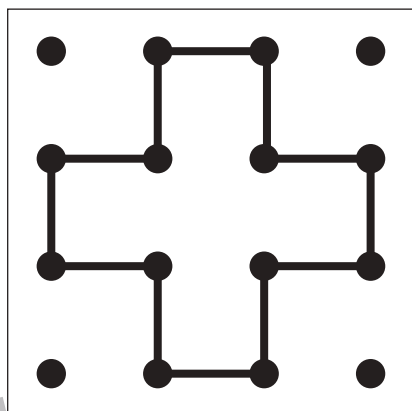
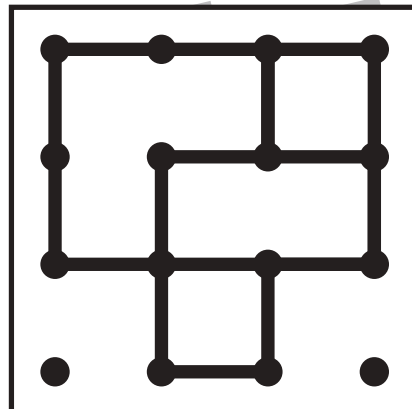
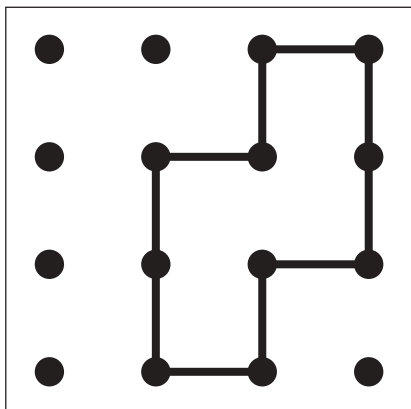
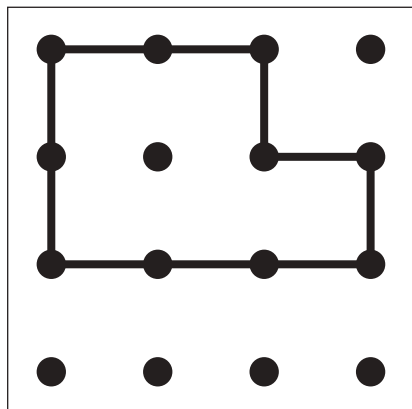


おうちで、やろう。

Study at home. 小学校受験の家庭学習教材

図形：重ね点図形 10

左の2枚の点図形を重ねた形を考えて、矢印の右の四角にかきます。



※1. このプリントは、しながわ・目黒こどもスクールのウェブサイトでダウンロードができます。無断複写・引用はご遠慮ください。

※2. このプリントを活用したオンライン授業のスケジュールは、しながわ・目黒こどもスクールのウェブサイトでご確認ください。



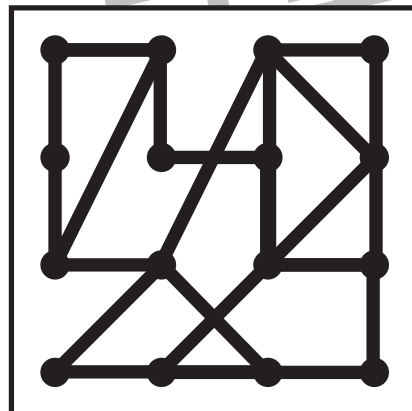
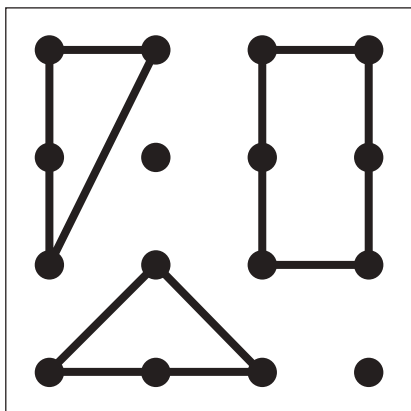
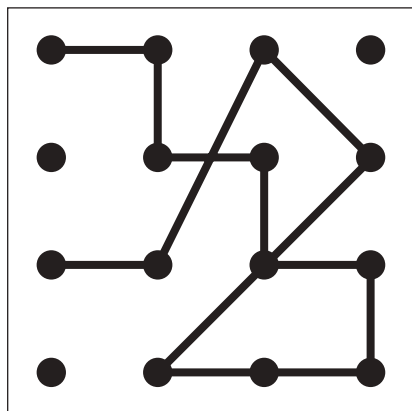
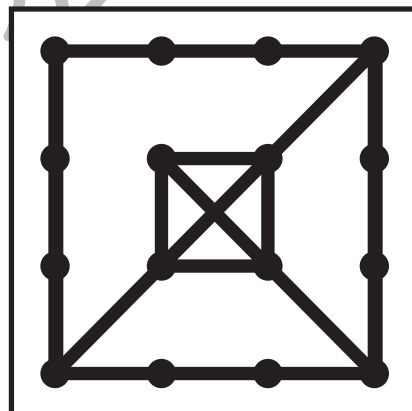
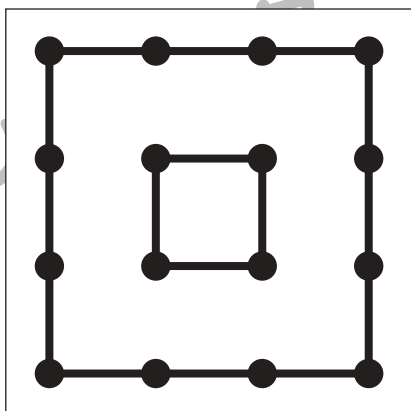
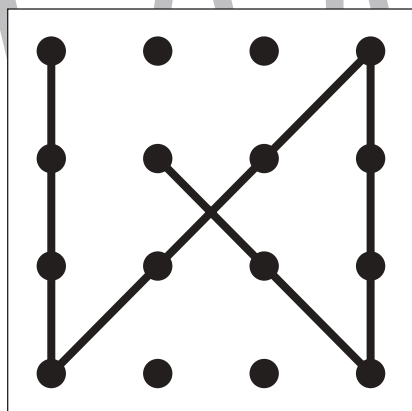
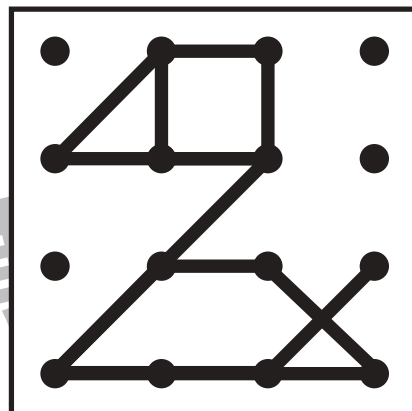
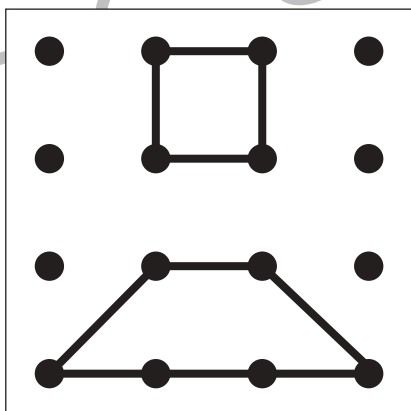
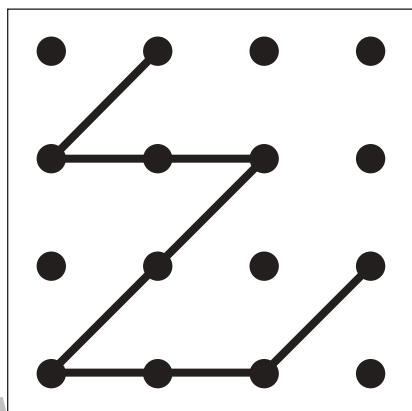
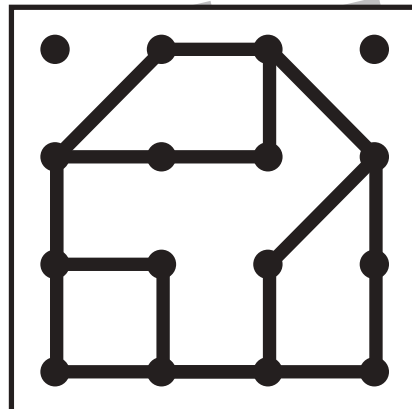
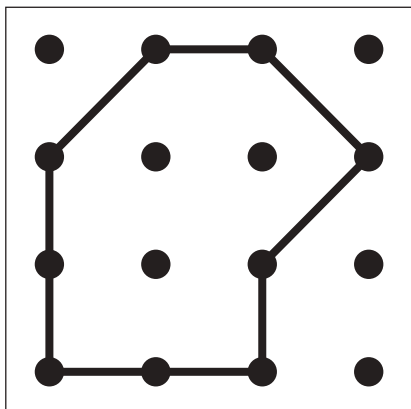
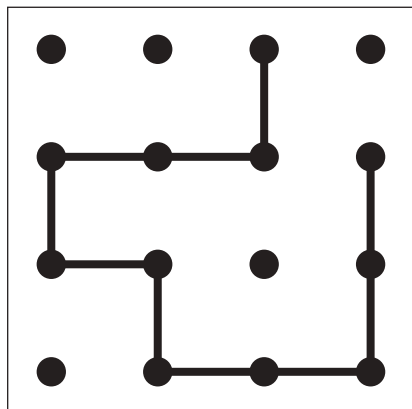


おうちで、やろう。

Study at home. 小学校受験の家庭学習教材

図形：重ね点図形 11

左の2枚の点図形を重ねた形を考えて、矢印の右の四角にかきます。



※1. このプリントは、しながわ・目黒こどもスクールのウェブサイトでダウンロードができます。無断複写・引用はご遠慮ください。

※2. このプリントを活用したオンライン授業のスケジュールは、しながわ・目黒こどもスクールのウェブサイトでご確認ください。





おうちで、やろう。

Study at home. 小学校受験の家庭学習教材

数量：加減 1

はなこさんとたろう君のお菓子を合わせると、お菓子の数はいくつになりますか。その数だけ、下の四角に○を描きます。

$\bigcirc \times 7$

$\bigcirc \times 8$

$\bigcirc \times 9$

$\bigcirc \times 11$

※1. このプリントは、しながわ・目黒こどもスクールのウェブサイトでダウンロードができます。無断複写・引用はご遠慮ください。
※2. このプリントを活用したオンライン授業のスケジュールは、しながわ・目黒こどもスクールのウェブサイトでご確認ください。




おうちで、やろう。


Study at home. 小学校受験の家庭学習教材

数量：加減2


2人の子どもが持っている果物の数はいくつ違いますか。違う数だけ、下の四角に○を描きます。




$\bigcirc \times 3$



$\bigcirc \times 5$



$\bigcirc \times 4$



$\bigcirc \times 5$

※1. このプリントは、しながわ・目黒こどもスクールのウェブサイトでダウンロードができます。無断複写・引用はご遠慮ください。
 ※2. このプリントを活用したオンライン授業のスケジュールは、しながわ・目黒こどもスクールのウェブサイトでご確認ください。