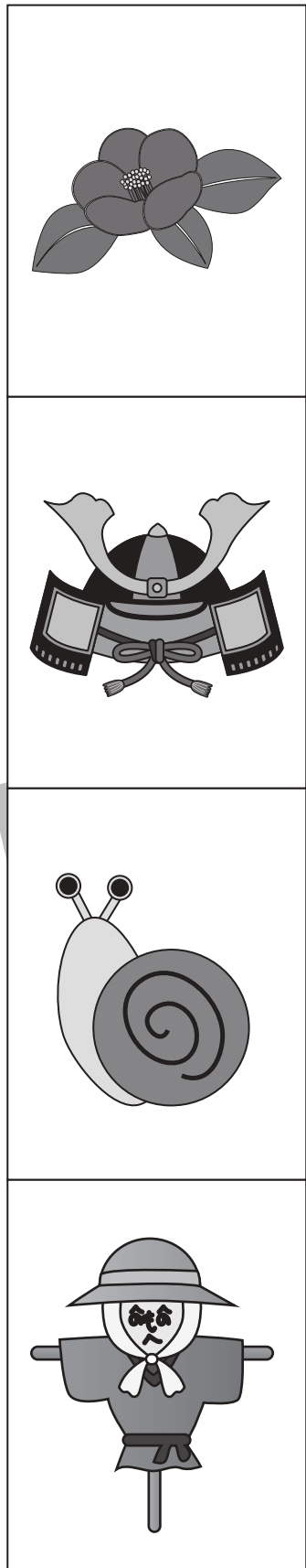




左側の絵と右側の絵から同じ季節のものを選び、点と点を線で結びます。



※1. このプリントは、しながわ・目黒こどもスクールのウェブサイトでダウンロードができます。無断複写・引用はご遠慮ください。
 ※2. このプリントを活用したオンライン授業のスケジュールは、しながわ・目黒こどもスクールのウェブサイトでご確認ください。



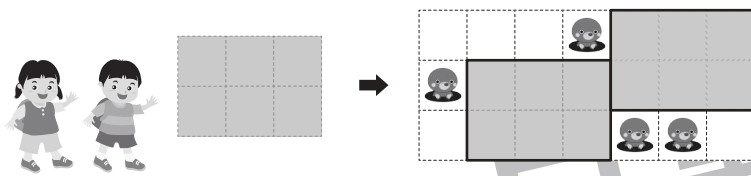
おうちで、やろう。

Study at home. 小学校受験の家庭学習教材

年中児版

図形：平面 1

左のレジャーシートを2まい敷ける場所を考えます。
その場所を囲みましょう。シートの向きを変えたり、
穴の開いている場所には敷くことはできません。
(右例を参考)



Problem 1: A 2x4 grid of mats is shown on the left. An arrow points to a 6x6 grid on the right. Six mats are placed in the 6x6 grid at the following coordinates (row, column): (1,3), (2,2), (3,1), (4,4), (5,2), and (6,3).

Problem 2: A 3x3 grid of mats is shown on the left. An arrow points to a 6x6 grid on the right. Six mats are placed in the 6x6 grid at the following coordinates (row, column): (1,1), (2,3), (3,4), (4,2), (5,3), and (6,1).

Problem 3: A 3x4 grid of mats is shown on the left. An arrow points to a 6x6 grid on the right. Six mats are placed in the 6x6 grid at the following coordinates (row, column): (1,2), (2,3), (3,1), (4,4), (5,2), and (6,5).

※1. このプリントは、しながわ・目黒こどもスクールのウェブサイトでダウンロードができます。無断複写・引用はご遠慮ください。

※2. このプリントを活用したオンライン授業のスケジュールは、しながわ・目黒こどもスクールのウェブサイトでご確認ください。



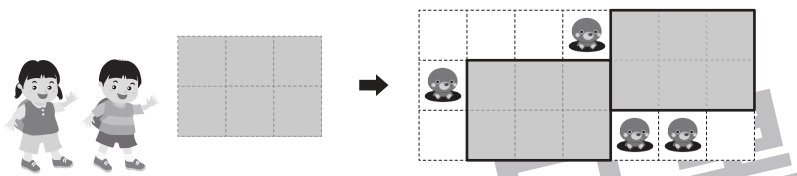
おうちで、やろう。

Study at home. 小学校受験の家庭学習教材

年中児版

図形：平面 2

左のレジャーシートを2まい敷ける場所を考えます。
その場所を囲みましょう。シートの向きを変えたり、
穴の開いている場所には敷くことはできません。
(右例を参考)



Example 1: A 2x2 grid of mats is shown on the left. An arrow points to a 6x6 grid on the right where the mats are placed in a pattern: (1,1), (1,2), (1,3), (2,3), (2,4), (3,1), (3,2), (3,3), (3,4), (3,5), (3,6), (4,2), (4,3), (4,4), (4,5), (4,6).

Example 2: A 2x4 grid of mats is shown on the left. An arrow points to a 6x6 grid on the right where the mats are placed in a pattern: (1,4), (2,1), (2,3), (2,4), (3,1), (3,3), (4,3), (5,4), (5,5), (5,6).

Example 3: A 3x3 grid of mats is shown on the left. An arrow points to a 6x6 grid on the right where the mats are placed in a pattern: (1,2), (1,4), (2,3), (3,2), (3,4), (4,2), (4,4), (5,1), (5,3), (5,4).

※1. このプリントは、しながわ・目黒こどもスクールのウェブサイトでダウンロードができます。無断複写・引用はご遠慮ください。
※2. このプリントを活用したオンライン授業のスケジュールは、しながわ・目黒こどもスクールのウェブサイトでご確認ください。



おうちで、やろう。

Study at home. 小学校受験の家庭学習教材


年中児版

推理：なぞなぞ 1


①～④のなぞなぞを聞いて、答えに○をつけましょう。

- ① にわに いる とりは なんでしょう。
- ② うしろにいる どうぶつは なんでしょう。
- ③ いつもあやまっている どうぶつは なんでしょう。
- ④ あくまのような わるいどうぶつは なんでしょう。


①




②



③



④



※1. このプリントは、しながわ・目黒こどもスクールのウェブサイトでダウンロードができます。無断複写・引用はご遠慮ください。
 ※2. このプリントを活用したオンライン授業のスケジュールは、しながわ・目黒こどもスクールのウェブサイトでご確認ください。



おうちで、やろう。 年中児版

Study at home. 小学校受験の家庭学習教材

推理：なぞなぞ2

①～④のなぞなぞをとして、答えに○をつけましょう。




① このくにに すんでいるひとは ほんを2さつ よみます。どこのくにでしょう。

② このたべものを たべると ちからがつよくなります。このたべものはなんでしょう。


③ くさいにおいがする どうぶつは なんでしょう。

④ ましかくから まくをとると なにになるでしょう。





①




②



③



④



※1. このプリントは、しながわ・目黒こどもスクールのウェブサイトでダウンロードができます。無断複写・引用はご遠慮ください。

※2. このプリントを活用したオンライン授業のスケジュールは、しながわ・目黒こどもスクールのウェブサイトでご確認ください。

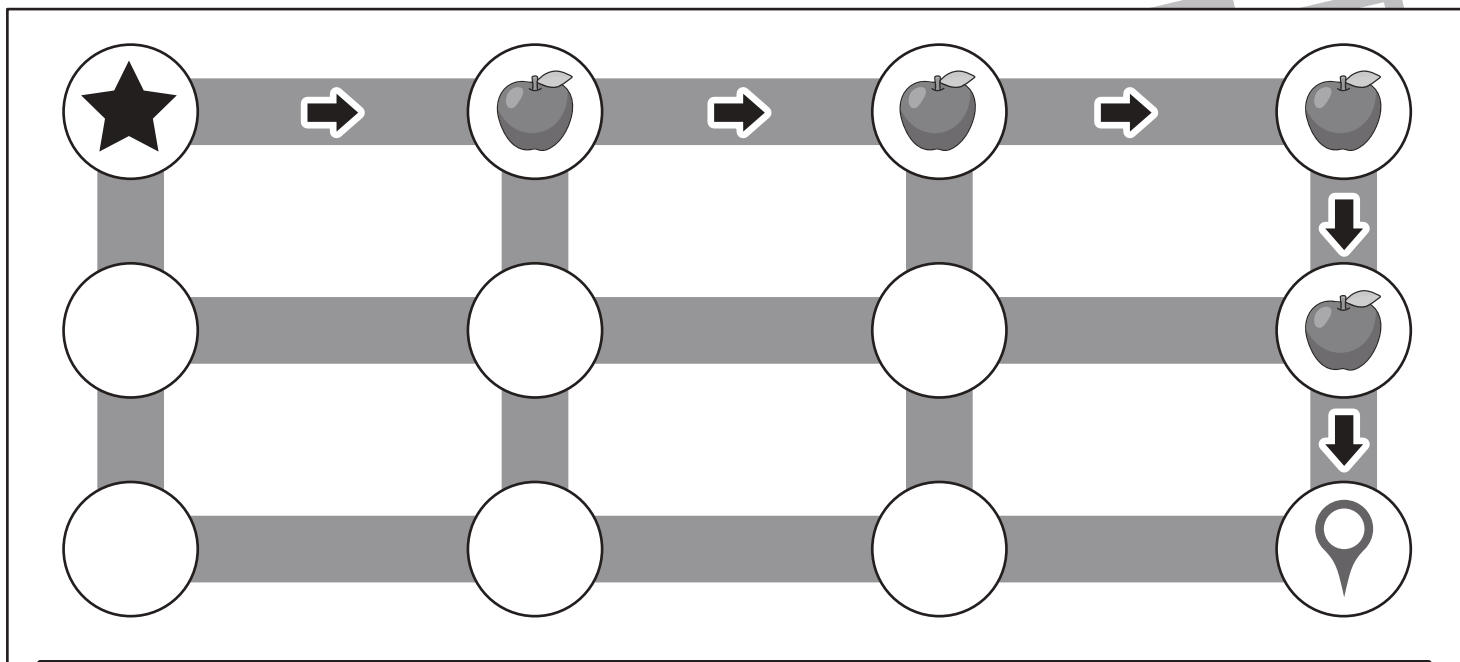


おうちで、やろう。 年中児版

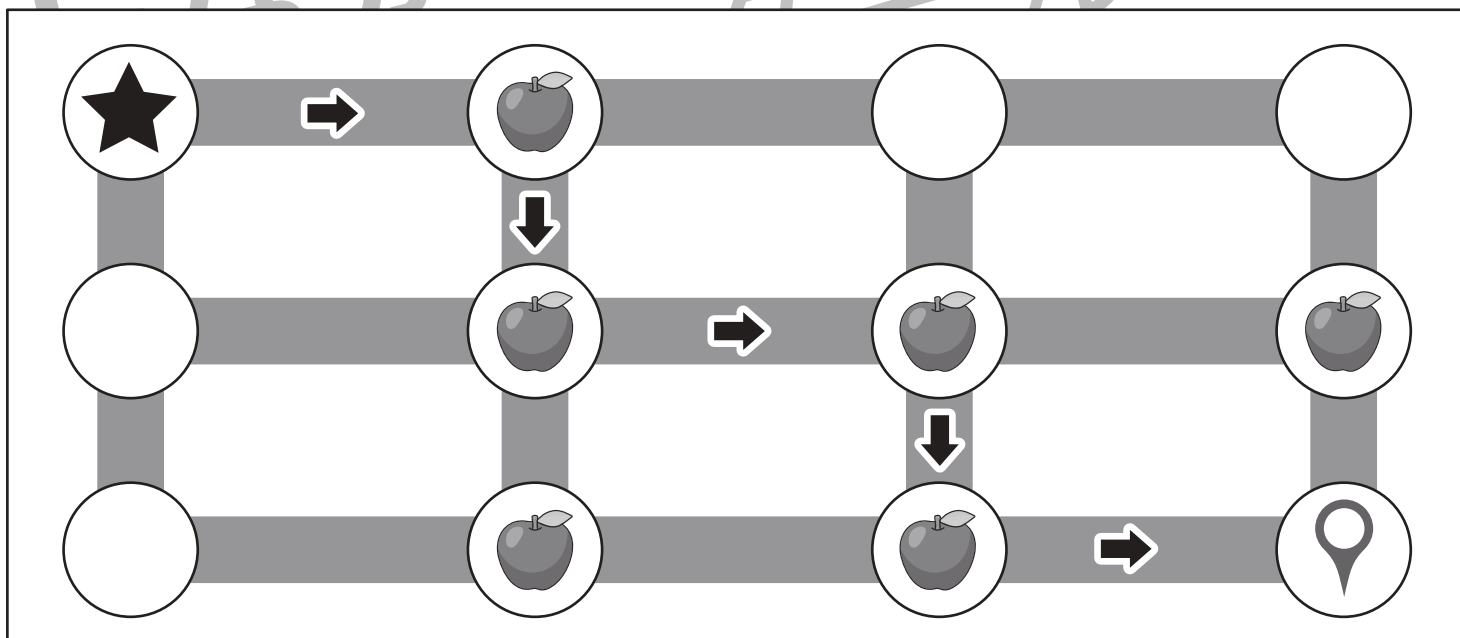
Study at home. 小学校受験の家庭学習教材

数量：計数3

スタート（★）からゴール（📍）まで矢印の順番通りに迷路を進みます。途中にあるりんごを全て拾ってゴール（📍）まで進むと、全部でいくつになりますか。拾ったりんごの数だけ下の太い枠の中に○を書きましょう。



こたえ



こたえ

※1. このプリントは、しながわ・目黒こどもスクールのウェブサイトでダウンロードができます。無断複写・引用はご遠慮ください。

※2. このプリントを活用したオンライン授業のスケジュールは、しながわ・目黒こどもスクールのウェブサイトでご確認ください。

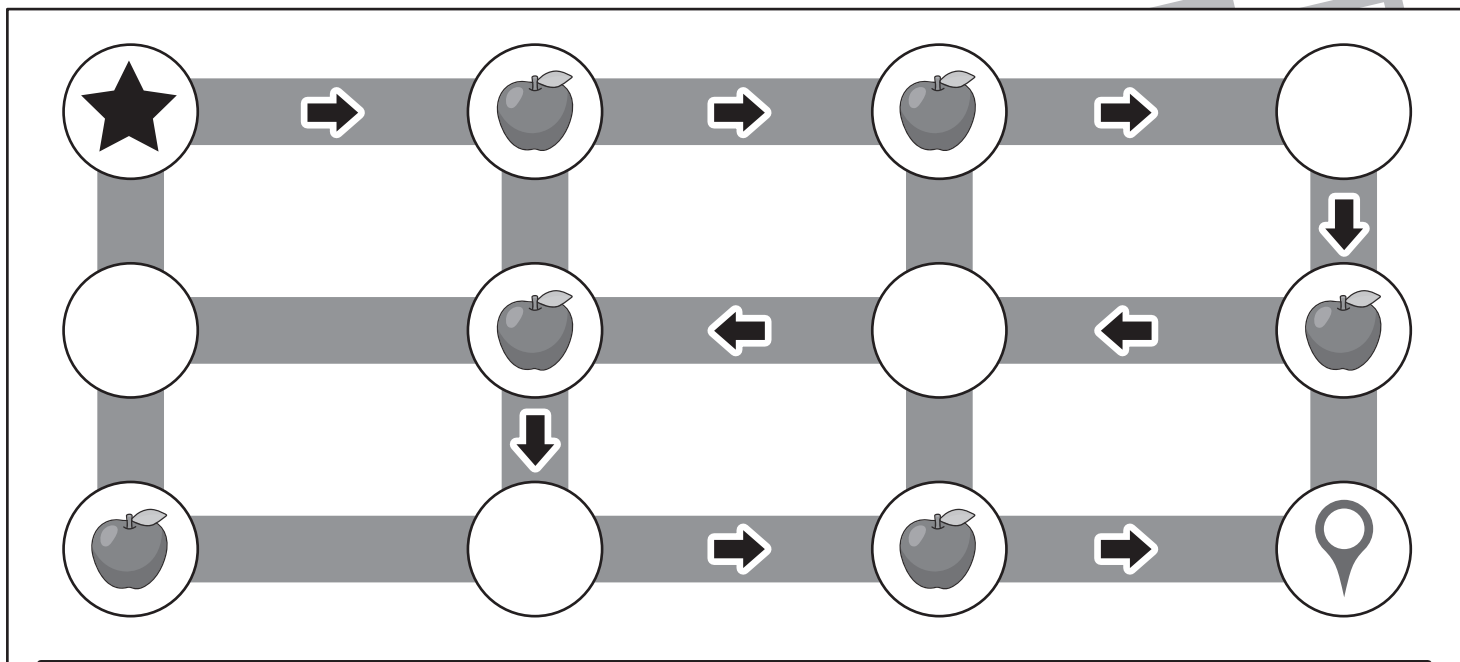


おうちで、やろう。 年中児版

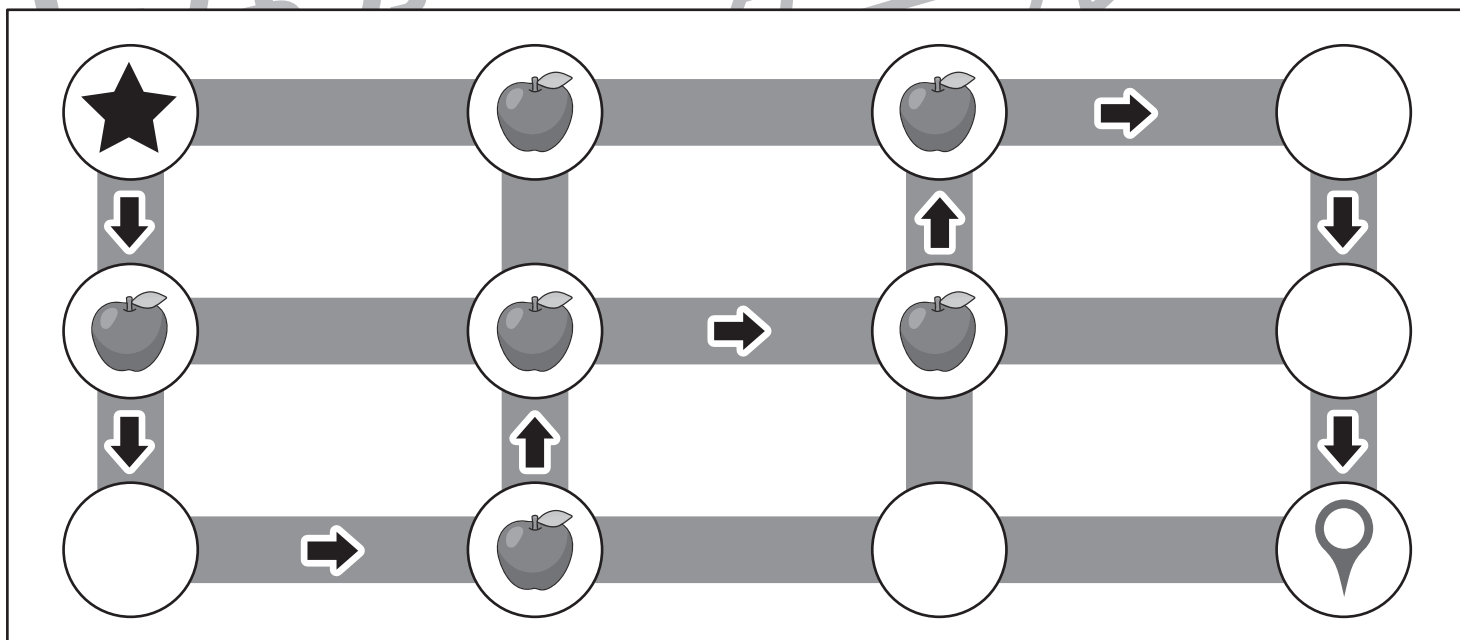
Study at home. 小学校受験の家庭学習教材

数量：計数 4

スタート（★）からゴール（📍）まで矢印の順番通りに迷路を進みます。途中にあるりんごを全て拾ってゴール（📍）まで進むと、全部でいくつになりますか。拾ったりんごの数だけ下の太い枠の中に○を書きましょう。



こたえ



こたえ

※1. このプリントは、しながわ・目黒こどもスクールのウェブサイトでダウンロードができます。無断複写・引用はご遠慮ください。

※2. このプリントを活用したオンライン授業のスケジュールは、しながわ・目黒こどもスクールのウェブサイトでご確認ください。

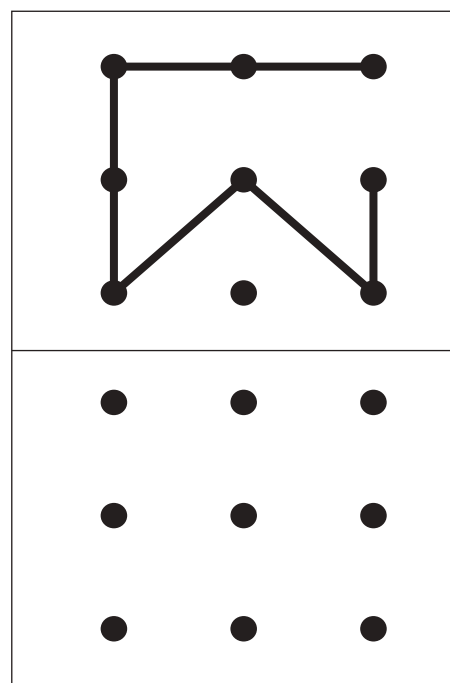
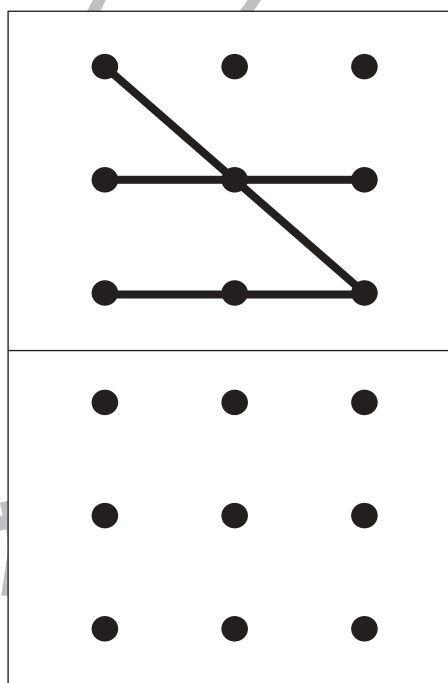
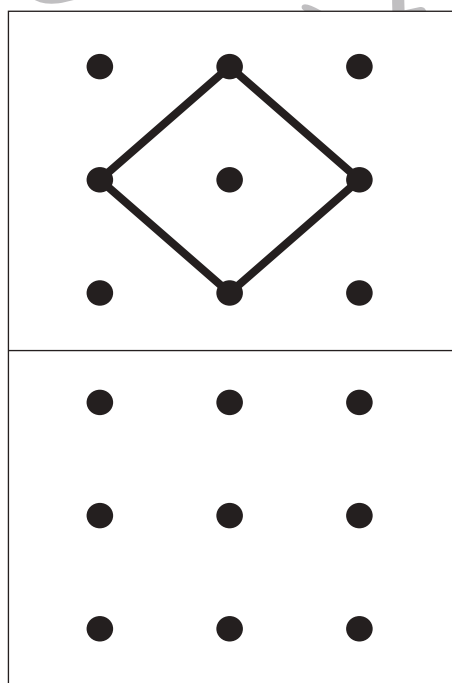
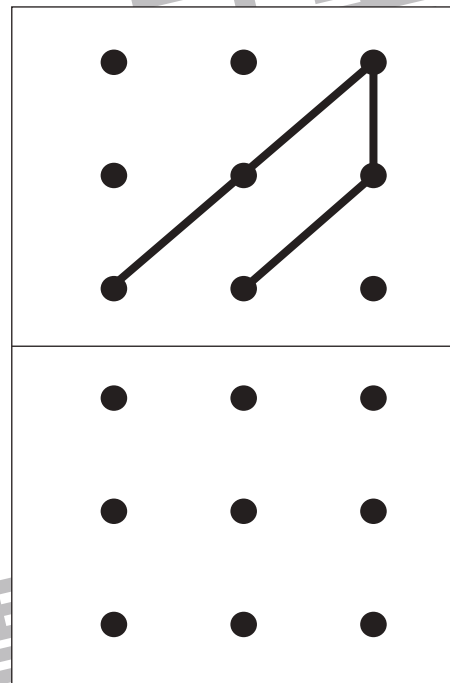
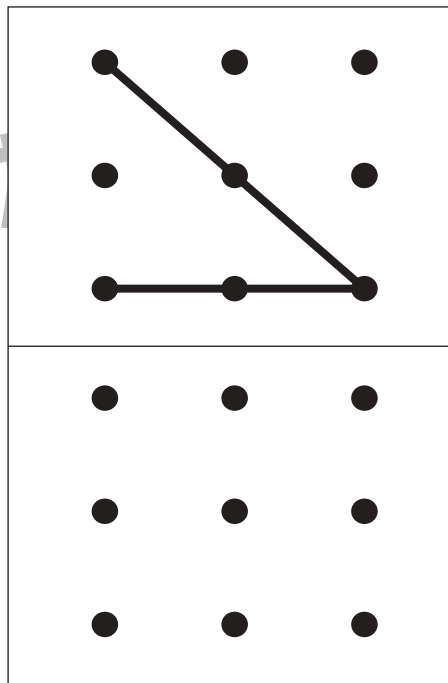
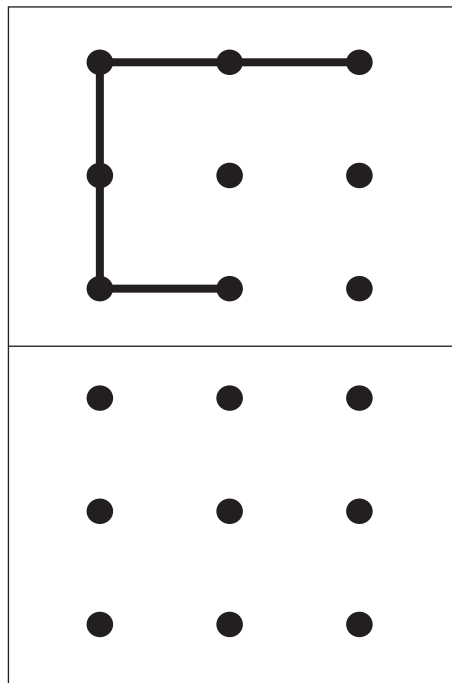


おうちで、やろう。 年中児版

Study at home. 小学校受験の家庭学習教材

図形：点図形 2

上の四角がお手本です。お手本と同じ形になるように下の点と点をきれいな線で結びましょう。
※この問題に解答はありません。



※1. このプリントは、しながわ・目黒こどもスクールのウェブサイトでダウンロードができます。無断複写・引用はご遠慮ください。

※2. このプリントを活用したオンライン授業のスケジュールは、しながわ・目黒こどもスクールのウェブサイトでご確認ください。